

职测模拟卷（十二）

一、言语理解与表达

1. 火星上是否有生物存在？长期以来，科学家们争论不休，也曾引起_____。美国和前苏联自20世纪60年代以来进行长期探测，美国先后向火星发射了系列探测器，前苏联也发射过相应的探测器，他们对火星上有巨石人面像、金字塔等类似城市遗迹先是_____，20世纪80年代后期才逐渐向公众披露。

依次填入划横线部分最恰当的一项是（ ）。

- A. 轰动 秘而不宣 B. 争议 不置可否 C. 质疑 各执一端 D. 反响 视而不见

2. 高油价时代，如何节油成为车主们关注的焦点。于是，各种节能产品_____，汽油清净剂、节油贴、节油丸、省油精等等_____。

依次填入划横线部分最恰当的一项是（ ）。

- A. 应运而生 层出不穷 B. 供不应求 五花八门
C. 应接不暇 举不胜举 D. 琳琅满目 屡见不鲜

3. 量子力学认为真空并非“_____”，而是充斥着大量“虚”的粒子和反粒子对。它们同时产生，刹那之间又相互_____。

依次填入下列横线处的词语，最恰当的一组是（ ）。

- A. 一无所有 淹没 B. 空谷幽兰 迸发
C. 熙熙攘攘 吞噬 D. 空无一物 湮灭

4. “铁打的营盘流水的兵”，描述的是兵营与士兵的关系。这句俗语同样可以用于阐释大学与师生之间的关系。大学作为相对_____的机构，师生的驻留和流动促进了大学气质与个性的形成和保存。对师生来说，他们既是大学氛围的建设者，也是感受者；对大学来说，它既是已有气质和个性的保存者，又在不断接受教师和学生每日对大学气质与个性的_____。

依次填入划横线部分最恰当的一项是（ ）。

- A. 特殊 影响 B. 独立 改变
C. 固定 塑造 D. 成熟 渗透

5. 赵景深在《文心剪影》里说：“他（叶圣陶）的复信措辞谦抑，字迹圆润丰满，正显出他那_____而又诚实的心。”正如当年他主编《小说月报》曾精心培育了一大批后来成为新文学史上的著名作家时那样。他那_____的精神和工作态度，给予年轻一代的教育、鼓舞的力量是无法_____的。

依次填入划横线部分最恰当的一项是（ ）。

- A. 谦卑 兢兢业业 估价 B. 谦和 公而忘私 估量
C. 正直 大公无私 衡量 D. 率真 孜孜以求 想象

6. 有人断言，如果中医不能_____，随着老一代中医纷纷故去，中国将只能成为教科书上的“中医故乡”。

填入划横线部分最恰当的一项是（ ）。

- A. 前仆后继 B. 生生不息 C. 薪火相传 D. 继往开来

7. 像徜徉在夏天夜晚的星空下，为那壮丽的景色而_____，我真的是无限_____于我赖以思考和交往的中国文字，并_____于它的再生活力和奇特魅力。

依次填入划横线部分最恰当的一项是（ ）。

- A. 陶醉 偏爱 惊讶 B. 迷醉 钟情 震惊
C. 痴迷 倾心 震撼 D. 沉迷 垂青 惊叹

8. 新近研究发现，人饥饿时胃黏膜中会出现一种激素，这种激素能够显著促进学习能力和记忆力。科学家解释说，这种激素在胃黏膜中_____后，借助血液循环进入大脑，能够引起反应，诸如激发脑垂体中许多不同的生长因子等，而这又将引起大脑其他区域内的_____反应，从而起到改善大脑功能的效果。

依次填入划横线部分最恰当的一项是（ ）。

- A. 产生 聚合 B. 形成 系列
C. 合成 辐射 D. 分泌 连锁

9. ①事实上，在耕田之外也几乎没有其他的选择

②同样地，生活上的大小事情，除了可以遵循风俗习惯之外，也由宗亲长老按祖训家法裁夺

③在传统的农业社会里，绝大多数的人以农业为生

④在某一层意义上来说，一个人几乎没有什么机会要他自己做决定，在少数需要他自己做决定的时候，也有现成的规矩习惯等等可以作为参考

⑤农作上的点点滴滴，除了靠自己已经年累月的积累，也由宗亲长老口耳相传

⑥这些经验、规矩、风俗、习惯、祖训、家法，可以说涵盖了一个人生老病死、婚丧嫁娶的每一个环节 将

以上6个句子重新排列，语序正确的是（ ）。

- A. ①③⑤④②⑥ B. ③①⑤②⑥④ C. ①③⑤②⑥④ D. ③①⑤④②⑥

10. 不是所有的花都适合于肥沃的土壤，沙漠就是仙人掌的乐园。人生的许多成败，不在于环境的优劣，而在于你是否选对自己的位置。

这段话的主要含义是（ ）。

- A. 仙人掌最适合在沙漠地区生长 B. 每种花都有适合它的生长环境
C. 虽身处优越的环境但未必就能成功 D. 找准自己的位置与成功密切相关

11. 文化产业学作为一门新兴科学，源于对文化作为产品的生产和流通领域进行研究，是从产业角度对文化进行研究。这正是原有文化创意学科群中相对薄弱甚至相对忽略的，是仅依靠原有知识体系和研究方法难以支撑的研究领域，也是当下文化产业发展急需学科建设支撑的领域。

这段话意在说明（ ）。

- A. 建立文化产业学学科的必要性
- B. 文化产业学将取代文化创意学
- C. 原有文化创意学科群相对薄弱
- D. 发展文化产业学所面临的困难

12. 2016年是全球气候充满极端状况的一年。大气中的二氧化碳平均浓度已经超过400ppm（1ppm为百万分之一）警示线，甲烷浓度也飙升破记录，气候变化的长期指标上升至新水平。南极和北极地区的海冰面积缩减严重，打破了最低记录。俄罗斯、北极地区气温比长期平均温度高6℃~7℃，格陵兰冰川开始融化的时间提前，且速度更快，北极地区正以全球平均值两倍的速度变暖。

与这段文字意思相符的一项是（ ）。

- A. 2016年全球气候变化最为极端
- B. 2016年大气中的二氧化碳含量创新高
- C. 2016年南北极的海冰面积创出新低
- D. 2016年俄罗斯地区气温比格陵兰地区高

13. 当中国还处在古典的地方主义文化中时，一方面家乡观念牢固地限制了人口迁徙，另一方面人口迁徙又是自由的。人口的迁徙未必一定会令被迁徙地获得发展，但是，考察人类历史，可以认为：凡是发展了的地区，一定是人口迁徙进入的结果。有西亚人口的迁入，才有了古希腊的辉煌。有欧洲大陆人口的迁入，才有了英伦三岛的崛起。有了潮水般的闯关东，才有了清朝晚期以后东北地区的富饶。地区的繁荣，离不开迁徙而来的人口的创造与建设。

关于这段文字，以下理解准确的是（ ）。

- A. 地区间的流动、迁徙人口就是“外来人口”
- B. 在中国的古代，人口迁徙是受到限制的
- C. 对于迁徙而来的人口，不应该歧视和排斥
- D. 没有人口迁入，就不会有地区的发展

14. 男性在40多岁甚至更年轻时就会出现患心脏病和严重的冠状动脉疾病的可能性，而女性在50岁以及经历了绝经期后才会真正开始面对这种风险，这让女性在遭遇无论对男性还是女性而言都是第一杀手的心脏疾病之前，赢得了更多的时间。经过研究，女性第一次心脏病发作的时间比男性晚了整整十年。年轻女性较好的胆固醇水平是导致这一结果的因素之一，但雌激素以及像饮食更健康这样的生活方式上的选择似乎也起到了保护作用。

下列说法与原文不符的是（ ）。

- A. 雌激素对女性的心脏很有益处
- B. 在心脏病风险方面，女人的性别优势突出
- C. 绝经期是女性面对心脏病风险的分界点
- D. 作为男性，难以赢得更多的时间防范心脏病

15. “阅读是纯个人事，非常自觉的事。”阅读本身是一件很美好的事，在阅读中心灵能够自由地驰骋在各种时空、各个国度，在书本中寻得心的共鸣或思想的碰撞，从而引发对时代、对人生的思考。但是现在真正沉醉在阅读中的人却不多，过度重视物质生活而看不起精神生活，只从网络上读取碎片化、表面化的信息，只停留在获取信息没有引发思考，心态浮躁，难以静下心来慢慢读一本书。如今很多书本，过分重视实用主义，过分强调阅读效果，如“3个月练成XX”“10天可以当XX”。

这段文字意在说明（ ）。

- A. 阅读需要深入思考
- B. 阅读应该是一种精神享受
- C. 阅读是一个潜移默化的过程
- D. 实用主义过分强调阅读的效果

二、数量关系

16. 7, 9, 23, 41, 87, ()

A. 129 B. 137 C. 150 D. 169

17. 0.1, 3.1, 10.1, 25.1, ()

A. 46.1 B. 50.1 C. 54.1 D. 56.1

18. 3 5 17 39 71 ()

A. 107 B. 113 C. 121 D. 135

19. 3^2 , 5^6 , 9^{12} , (), 33^{30}

A. 17^{20} B. 16^{20}

C. 15^{18} D. 20^{30}

20. (多选题) -3, 4, -1, (), 1, 4, ()

A. 0 B. 1 C. 2 D. 3

21. 某研究小组中一部分人在野外采集数据并实时传回实验室由另外一部分人进行分析, 据经验表明, 在A处每人每天平均能采集到20条数据, 其中40%为有效数据。在B处每人每天平均能采集到40条数据, 其中25%为有效数据。实验室人员必须对每条数据逐个甄别以筛选出有效数据, 实验室里的实验人员每人每天可以甄别100条数据, 该研究小组共有16人, 为使最终筛选出的有效数据最多, 应该分别在A处、B处、实验室安排人员 () 人。

A. 8, 4, 4 B. 10, 3, 3 C. 2, 10, 4 D. 4, 8, 4

22. 小张家距离工厂15千米, 乘坐班车20分钟可到工厂。一天, 他错过班车, 改乘出租车上班。出租车出发时间比班车晚4分钟, 送小张到工厂后出租车马上原路返回, 在距离工厂1.875千米处与班车相遇。如果班车和出租车都是匀速运动且不计上下车时间, 那么小张比班车早多少分钟到达工厂? ()

A. 3 B. 4 C. 5 D. 6

23. 一辆动车组列车和一辆快速列车相向而行, 动车组列车的车长是260米, 快速列车的车长是455米。坐在动车组列车上的人看快速列车驶过的时间是7秒, 那么坐在快速列车上的人看动车组列车驶过的时间是 ()。

A. 3秒 B. 4秒 C. 5秒 D. 6秒

24. 袋中有24个球, 除颜色黑白差别之外完全相同, 从中摸出一球, 若摸出白球的概率比黑球的概率大六分之一, 则袋中有几个白球? ()

A. 8 B. 10 C. 12 D. 14

25. 某次知识竞赛的决赛有3人参加, 规则为12道题, 每题由1人以抢答方式答题, 正确得10分, 错误扣8分。如果最后所有人得分都是正分, 且回答问题最多的人是得分最少的人, 那么前两名之间的分差最多为多少分? ()

A. 8 B. 12 C. 20 D. 40

26. 某医院门诊大楼最多容纳1500人, 进出大楼有4个门, 其中2个大门大小一致, 2个小门大小一致。大楼安全员对4个门的通行能力进行测试, 同时打开1个大门和2个小门, 2分钟内可通过600人; 同时打开1个大门和1个小门, 3分钟内可通过720人。当紧急情况发生时, 出门效率降低30%。根据安全标

准，紧急情况下大楼所有人员需在5分钟内撤离，那么发生紧急情况时这4个门最多能够通过多少人？（
）

- A. 1440 B. 1500 C. 1600 D. 1680

27. 小陶要用小推车运送120本书到图书馆。已知大箱、中箱、小箱一次分别能装10、8、6本书，大箱、中箱、小箱各有3、4、13个。小推车一次能运送的箱数如下表。如果箱子不重复利用，小陶最少要运（
）次，才能把所有书运送到图书馆。

序号	小推车一次能运送的箱数
1	一个大箱
2	两个中箱
3	一个中箱、一个小箱
4	三个小箱

- A. 6 B. 7 C. 8 D. 9

28. 某办公室5人中有2人精通德语。若从中任意选出3人，其中恰有1人精通德语的概率是多少？（
）

- A. 0.5 B. 0.6 C. 0.7 D. 0.75

29. 一艘海军的训练船上共有60人，其中有驾驶员、船员、见习驾驶员、见习船员，还有一些陆战队员。已知见习人员的总人数是驾驶员和船员总数的四分之一，船员（含见习船员）总人数是驾驶员（含见习驾驶员）总数的7倍，则船上有（
）个陆战队员。

- A. 12 B. 15 C. 20 D. 25

30. 某单位组织的羽毛球男单比赛共有48名选手报名参加，比赛采用淘汰赛制，在比赛中负一场的选手即被淘汰，直至决出最后的冠军。如每名选手每天最多参加一场比赛，则比赛至少需要举行几天？（
）

- A. 4 B. 5 C. 6 D. 7

三、判断推理

31. 消除：障碍

- A. 交流：合作 B. 解决：问题 C. 制度：创新 D. 改革：开放

32. 违约 之于 （
） 相当于 （
） 之于 承诺

- A. 法律 民俗 B. 处罚 兑现 C. 合同 食言 D. 赔偿 责任

33. $\text{♀} \div \lambda \odot \lambda \odot \text{♀} \div$

- A. $\odot \lambda \div \text{♀} \div \text{♀} \odot \lambda$ B. $\lambda \odot \text{♀} \div \text{♀} \div \odot \lambda$ C. $\lambda \text{♀} \div \odot \odot \div \lambda \text{♀}$ D. $\div \lambda \text{♀} \odot \lambda \odot \text{♀} \div$

34. 飞机：汽油

- A. 手串：珠子 B. 蔬菜：种子 C. 手电筒：电池 D. 葡萄：健康

35. 药物：手术：治疗

- A. 火车：公路：运输 B. 现金：信用卡：金融
C. 物质：精神：文明 D. 电子邮件：短信：通讯

36. 公众是否应该在电视当中收看到真实的法庭审判？有国外学者认为，人们在电视中收看庭审，不是因为他们关心国家有效推行司法制度运行的能力。相反，他们要看到是目击证人作证的戏剧性效果——追求娱乐性。因此应当把摄像机移出法庭，免得公众把法律体系当成情景喜剧的脚本。

以下哪项如果为真，最能支持上述论证？（ ）

- A. 在成千上万的观众面前审理案件，法官和陪审员会变得格外小心翼翼
- B. 只要把对刑事诉讼中被告的审判搬上电视，观众基本上就认定他有罪
- C. 证人可能会因为担心自己的证词传入成千上万观众的耳中而拒绝作证
- D. 证人在法庭上的证词，经过电视传播之后，有时候会成为人们的笑资

37. 某考生正在填报志愿，有法律、管理、经济、金融、审计和会计6个专业供选择，但是所填报志愿必须满足以下条件：

- ①如果填报法律专业，那么就不填报管理专业，但要填报会计专业；
- ②只有不填报审计专业，才填报会计专业；
- ③如果不填报经济专业，那么也不填报会计专业；
- ④法律专业一直是自己想读的专业，一定要填。由

此可以推出该考生（ ）。

- A. 填报了金融和经济专业
- B. 管理专业和经济专业都没填报
- C. 填报了法律专业，还填报了金融专业
- D. 填报了会计专业，但没填报审计专业

38. 肥胖是否是疾病？有专家提出，肥胖是对一系列环境变化（比如饥荒）的正常适应，这在人类历史的很长时间内都是如此。容易肥胖的身体没有得病，反而比“自来瘦”的身体效率更高，因此不应把肥胖正式定性为疾病。

以下哪项如果为真，最能支持上述论证？（ ）

- A. 肥胖不符合医学上疾病的定义，它没有症状，不涉及身体功能失常，有时也无害
- B. 庞大减肥产业影响了肥胖的定性，降低体重指数警戒线值使更多人进入肥胖行
- C. 我们生活在食物更丰富、久坐时间更长的时代，不像过去那样需要尽量储存脂肪
- D. 用医学方法处理肥胖可能对患者造成伤害，迫使人们接受不必要甚至没用的“治疗”

39. 几个人讨论马。甲说：“我见过一匹10000斤重的马。”乙说：“我见过一匹10厘米长的马。”丙说：“你们是开玩笑吧，哪里有重达万斤的马？更不会有10厘米长的马！”甲回答道：“我说的是河马！”乙回答道：“我说的是海马。”

对于甲、乙的回答，下列评价最恰当的是（ ）。

- A. 运用科学权威的个案来破除人们对流行看法的盲从
- B. 试图基于小概率事件来反驳一个公认的一般性结论
- C. 通过偷换概念、跳出领域的方式来论证自己的观点
- D. 举例指出所有反驳的观点会引申出自相矛盾的结论

40. B市组织外地来市各种人员的麻疹、流脑疫苗免费接种工作，接种对象为：3年内未接种过流脑疫苗或5年内未接种过麻疹疫苗、无流脑或麻疹患病史且年龄在50岁以下的外地来B市各种人员。

由此可以推出（ ）。

- A. 如果无需接种流脑和麻疹疫苗，那么肯定有过流脑或麻疹患病史
- B. 如果某人是B市本地人员，那么他5年内肯定接种过流脑和麻疹疫苗
- C. 只要是3年内未接种过流脑疫苗的外地来B市人员，都需接种流脑疫苗

D. 只要是50岁以上的外地来B市各种人员，都不需要接种流脑或麻疹疫苗

41. 从所给的四个选项中，选择最合适的一个填入问号处，使之呈现一定的规律性。



A B C D

A. A

B. B

C. C

D. D

42.



A B C D

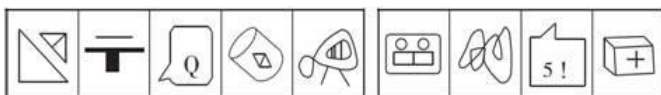
A. A

B. B

C. C

D. D

43.



A B C D


A. A

B. B

C. C

D. D

44. 从所给的四个选项中，选择最合适的一个填入问号处，使之呈现一定的规律性。



A B C D

A. A

B. B

C. C

D. D

45. 从所给的四个选项中，选择最合适的一个填入问号处，使之呈现一定的规律性。



A B C D

A. A

B. B

C. C

D. D

四、常识判断

46. 在生活实践中，人们会自觉不自觉地思考世界、思考周围的人和事，在思考中会触及各种具有哲学性质的问题。下列属于哲学层面的思考是（ ）。

A. 劳动力是商品吗 B. 陶瓷是硅酸盐材料吗 C. 存在就是被感知吗 D. 水为什么往低处流

47. 中国共产党不断总结经验，汲取教训领导中国革命一步一步走向胜利。仔细观察下图，如果用一个主题概括图中事件的教训，最突出的一项应是（ ）。



- A. 必须武装反抗国民党反动派
B. 必须把工作重点从城市转入农村
C. 必须建立党对军队的绝对领导
D. 必须建立广泛的革命统一战线

48. 2017年1月1日，葡萄牙人安东尼奥·古特雷斯接替已经任满10年的韩国人潘基文，成为新一任的联合国秘书长。下列关于联合国秘书长的说法错误的是（ ）。

- A. 联合国秘书长的每届任期为5年，可以连选连任
B. 联合国秘书长的人选由各大洲轮换产生
C. 联合国秘书长人选可以在五大常任理事国中产生
D. 联合国秘书长由安理会提名并通过大会票选后确认

联合国秘书长由安理会提名并通过大会票选后确认

49. 2014年是“和平共处五项原则”发表60周年，下列与其发表时间相同的历史事件是（ ）。

- A. 东西两德统一 B. 古巴导弹危机 C. 联合国军完全撤出朝鲜 D. 越南抗美战争彻底结束

50. 社会上普遍存在着当市场上充斥着大量差（假）产品而不能为消费者识别时，好的产品最终也将退出市场的现象。下列属于这一现象的是（ ）。

- A. 南郭滥竽充数 B. 民间借贷危机 C. 三聚氰胺事件 D. 行人集结闯红灯

51. 蔡元培先生曾经撰联挽某人曰：“为地方兴教育诸业，继起有人，岂惟孝子慈孙，尤属望南通后进；以文学名光宣两期，日记若在，用裨征文考献，当不让常熟遗篇。”该挽联所悼念之人的主要历史贡献是（ ）。

- A. 领导革命，倡导民主共和
B. 热心洋务，主张中体西用
C. 兴办实业，投身实业救国
D. 思想解放，宣传民主科学

52. 下述特定时间里，气温最高的是（ ）。

- A. 夏季阴天正午 B. 春季晴天14时 C. 春季晴天正午 D. 夏季晴天日出前

53. 随着社会的发展，一些新的职业会不断出现。下列选项中，按照职业出现时间先后顺序排列正确的是（ ）。

- A. 大学教师，火车司机，汽车修理工，软件工程师
B. 大学教师，汽车修理工，火车司机，软件工程师
C. 汽车修理工，火车司机，软件工程师，大学教师
D. 汽车修理工，软件工程师，大学教师，火车司机

54. 2014年初，我国“雪龙”号在营救被困南极浮冰区的俄罗斯客船时，因破冰能力有限也遭遇厚冰围困，多日之后才突围成功。这一事件引发人们对破冰船及其破冰能力的关注。破冰船是专用于在结冰的水面上开辟航道的特种船舶，以下表述正确的是（ ）。

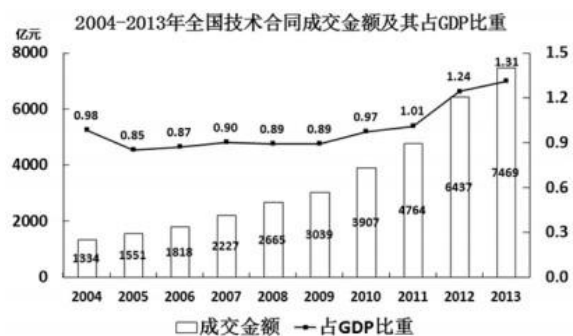
- A. 破冰船长宽比值小，船身短而宽，有利于避开较宽的航道
B. 破冰船长宽比值大，船身为狭长型，有利于切碎冰层
C. 一般冰层较薄时多采用连续式破冰法，冰层较厚时采用冲撞式破冰法
D. 第一艘核动力破冰船由美国制造

55. 财政政策是政府宏观调控的重要手段。下列有关财政政策的论述，不正确的是（ ）。

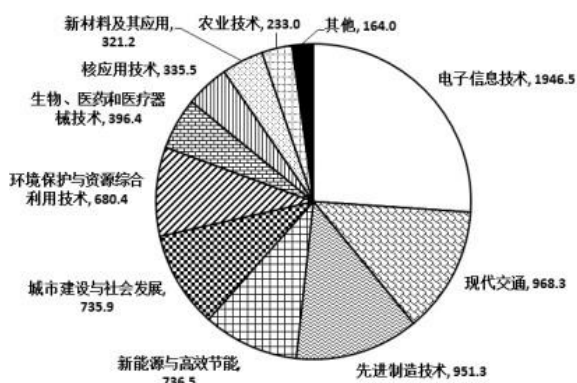
- A. 政府偏好对财政政策有重要影响
B. 税收、国债、公共支出等是主要的财政政策工具
C. 紧缩性财政政策通常用来增加和刺激社会总需求
D. 提供更多就业机会是财政政策的目标之一

五、资料分析

(一) 根据以下资料, 请回答126~130题。



2013年全国技术合同成交金额按技术领域分布(亿元)



56. 2005~2013年, 全国技术合同成交金额增速超过GDP增速的年份有()个。
 A. 3 B. 4 C. 5 D. 6
57. “十一五”期间(2006~2010年), 全国技术合同成交总金额()。
 A. 低于1万亿元 B. 在1~1.5万亿元之间 C. 在1.5~2万亿元之间 D. 高于2亿元
58. 2013年新能源与高效节能技术合同成交金额约占当年GDP的()。
 A. 0.02% B. 0.06% C. 0.13% D. 0.20%
59. 2013年有()个技术领域的技术合同成交金额高于2012年技术合同成交总金额的10%。
 A. 6 B. 4 C. 3 D. 2
60. 能够从上述资料中推出的是()。
 A. 5年~2013年, 技术合同成交金额同比增量最大的是2013年
 B. 4年~2013年, 技术合同成交金额占GDP比重最高和最低的年份相差4年
 C. 有5个技术领域2013年的技术合同成交金额不足当年电子信息技术合同成交金额的两成
 D. 2013年现代交通技术合同成交金额占当年技术合同成交总金额的比重不到15%

2016年, 全国民间固定资产投资为365219亿元, 比上年名义增长3.2%, 增速比1~11月份提高0.1个百分点, 民间固定资产投资占全国固定资产投资的比重为61.2%, 比1~11月份降低0.3个百分点, 比上年降低3个百分点。

分地区看, 东部地区民间固定资产投资164674亿元, 比上年增长6.8%; 中部地区107881亿元, 比上年增长5.9%, 增速回落0.1个百分点; 西部地区71056亿元, 比上年增长2.4%, 增速回落0.5个百分点; 东北

地区21608亿元，下降24.4%，降幅收窄1.6个百分点。

分产业看，第一产业民间固定资产投资15039亿元，比上年增长18.1%，增速比1~11月份回落0.5个百分点；第二产业增长3.2%，增速较去年提高0.3个百分点；第三产业167673亿元，年度增长2%，增速与1~11月份持平。第二产业中，工业民间固定资产投资180970亿元，比上年增长3.4%，比1~11月份提高0.3个百分点。

2016年民间固定资产投资部分数据

指标	2016年	
	绝对量(亿元)	比上年增长(%)
煤炭开采和洗选业	1864	-18.3
石油和天然气开采业	240	-4.6
黑色金属矿采选业	763	-35.4
有色金属矿采选业	1034	-6.2
非金属矿采选业	2000	1.1
电力、热力、燃气及水生产和供应业	8416	18.4
铁路运输业	212	-29.7
道路运输业	4429	2.2
水利管理业	1186	12.8
公共设施管理业	13441	5.8
教育	2462	13.7
卫生和社会工作	2455	19.9
文化、体育和娱乐业	4059	4.1
公共管理、社会保障和社会组织	1608	-25.6

注：此表中部分数据因四舍五入的原因，存在总计与分项合计不等的情况。

61. 东北地区2014年民间固定资产投资额为()。
- A. 28582亿元 B. 29200亿元 C. 35864亿元 D. 38624亿元
62. 2015年民间固定资产投资占全国固定资产投资的比重为()。
- A. 64.2% B. 61.5% C. 60.9% D. 58.2%
63. 表格中绝对量最大和最小的行业2016年增长额之差约为()。
- A. 647亿元 B. 688亿元 C. 786亿元 D. 827亿元
64. 表格中投资较去年变幅最大的是()。
- A. 煤炭开采和洗选业 B. 黑色金属矿采选业
C. 铁路运输业 D. 公共管理、社会保障和社会组织
65. 根据所给材料，下列判断正确的是()。
- A. 2016年度，三大产业中，第三产业民间固定资产投资月增速最为平稳 B.
工业民间固定资产投资占第二产业民间固定资产投资的98%
C. 民间固定资产投资的主力是东部地区民间固定资产投资
D. 各地区民间固定资产投资水平差距不明显