

职测模拟卷（七）

一、言语理解与表达

1. 在过去的半个多世纪里，我们所生活的世界日益_____到全球化的浪潮中。社会科学领域里的大多数学者认为，全球化开始于地理大发现的15世纪，其间_____了几个世界霸权的兴衰，渐次发展到今日的_____世界。

依次填入划横线部分最恰当的一项是（ ）。

- A. 融入 度过 多维 B. 卷入 历经 多极
C. 投入 见证 多边 D. 涌入 目睹 多元

2. 由于高密度的养殖，大量饵料未被摄食，残饵溶解所生成的氮、磷等营养物质使海水污染严重，海南文昌海底珊瑚礁大量枯死，底部海域几乎成了“_____”。

填入划横线部分最恰当的一项是（ ）。

- A. 人间地狱
B. 明日黄花
C. 不毛之地
D. 穷山恶水

3. 习近平总书记说：“把改革方案的含金量充分展示出来，让人民群众有更多获得感。”再高远的改革，也必须回到地上，切切实实考虑群众的获得感，否则就有可能失去群众支持而_____，_____，_____。

依次填入横线处的词语，最恰当的一项是（ ）。

- A. 错失时机 贻误大业 寸步难行
B. 寸步难行 错失时机 贻误大业
C. 贻误大业 错失时机 寸步难行
D. 错失时机 寸步难行 贻误大业

4. 随着科技的发展，众多学者的研究在越来越深入的同时，视角也越来越窄。许多人一辈子的研究范围只限于某一专题，甚至某一个研究点，真是_____，见一斑而不见全豹。

填入划横线部分最恰当的一项是（ ）。

- A. 目无全牛 B. 目光如豆 C. 目光如炬 D. 远见明察

5. “一带一路”愿景与行动的发布，引起各方广泛关注。在国际上，成为各国探讨合作的重要依托_____；在国内，为扩大投资和拓展市场机遇提供了_____。

依次填入划横线部分最恰当的一项是（ ）。

- A. 凭证 基础
- B. 对象 契机
- C. 框架 平台
- D. 原则 舞台

6. 北宋工笔院体画的一个重要特征，就是挺拔的勾线功夫。工整而不板滞，劲健而又弹性，特别是对线条头尾部分的转折交代和呼应，更是此前的工笔画所_____的。

填入划横线部分最恰当的一项是（ ）。

- A. 望其项背
- B. 望尘莫及
- C. 可望而不可及
- D. 鞭长莫及

7. 中国地理学研究在指向当前紧迫的经济和社会问题的同时，对基本概念和基础理论等学科基础的研究却出现了被_____的趋势。对地理学整体发展方向的关注较为薄弱，在一定程度上还_____了整个科学发展的大趋势，高新观测技术和信息处理技术的应用仍然不够普及。

依次填入划横线部分最恰当的一项是（ ）。

- A. 削弱 阻碍
- B. 减弱 隔断
- C. 削减 延缓
- D. 减少 延宕

8. 依次填入下列横线处的词语，最恰当的一组是（ ）。

践行群众路线、倾听民声，党员干部应该做到：倾听“赞许”，_____；倾听“牢骚”，_____；倾听“建议”，_____。

- A. 谦虚谨慎 平心静气 去糟取精
- B. 平心静气 谦虚谨慎 去糟取精
- C. 去糟取精 平心静气 谦虚谨慎
- D. 谦虚谨慎 去糟取精 平心静气

9. ①火星作为太阳系内的一颗行星，离地球距离较近

②有稀薄的大气层，也有四季分明，科研价值很大

③跟其他星球相比，跟地球的相似程度非常高

④且被很多人认为是人类进行星际移民的首选之地

⑤随着人类航天事业的进步，太空探测越来越向深空发展

将以上5个句子重新排列，语序正确的是（ ）。

- A. ①③②④⑤
- B. ⑤①③②④
- C. ①④③②⑤
- D. ⑤①④③②

10. 以往关于网络提速与降价的讨论中，舆论多从运营商和消费者博弈的角度切入，聚焦低网速、高收费对于公众生活的影响，使用的是服务者义务和消费者权利的说理逻辑。此次却提供了一个新的观察视角，即低质量、高成本的宽带服务潜在地阻止了社会信息化的进程。在现代信息社会的运行中，宽带建设具有基础设施的意义，是知识型经济、网络化社会、数字化生活、服务型政府最起码的物理支撑。没有一个高速度、高水平的宽带环境，信息交流的效率会滞后，科技创新的成本会增加，信息化社会的发育和创新型社会的成长自然会受到束缚。

这段文字意在说明（ ）。

- A. 宽带建设应该成为信息化社会的基石
- B. 以往关于网络提速与降价的讨论存在误区
- C. 网络运营商的服务质量应走在服务业的前列
- D. 信息交流效率的提高有赖于宽带环境的改善

11. 20世纪初普朗克、波尔等物理学家共同创造了量子力学，它与相对论一起被认为是现代物理学的两大基本支柱。量子力学的发展，革命性地改变了人们对物质的结构及其相互作用的认识。借助量子力学，许多现象才得以真正地被解释，新的、无法凭直觉想象出来的现象被预言，接着又被验证。量子力学等理论的诞生，对于推动世界文明进步具有十分深远的意义。这些耗时多年的基础研究成果，其科学价值是无可估量的，绝不是用“有没有用”这样的简单标准就能衡量的。

这段文字意在强调（ ）。

- A. 科学研究需要长期积累
- B. 量子力学对现代物理学意义重大
- C. 基础研究不应急功近利
- D. 科学价值无法用量化指标来衡量

12. 进入网络化时代，虽然无纸化办公呼声不绝于耳，但在不少机关事业单位，公共耗材经费仍居高不下，讲话材料人手一册、电话通知打印成纸……相比于公款旅游、公车消费、公务接待，公共耗材的高消费更容易被人忽视。不妨多考虑微信等新媒体办公手段，防止陷入纸质化办公习惯“掉不了头”。一些现代企业已经实现远程办公、“云办公”，轻装上阵，带来了巨大的效益。这段文字意在强调（ ）。

- A. 互联网时代无纸化办公是大势所趋
- B. 现代企业的办公模式更符合时代要求
- C. 机关事业单位应让无纸化办公落到实处
- D. 机关事业单位公共耗材预算需作出调整

13. 随着社会发展和科技进步，语言学与文学逐渐分家。最先是在社会上有众多职业需求的语言教学独立出来，成为以语言教学和语言研究为主要目的的专业大学，如北京外国语大学、北京语言大学，如今遍布世界各地的孔子学院也是这类学校。其次，随着录音技术、语图分析技术、计算机技术的发明与发展，语言学迅速发展成一门需要修建专用实验室、配备各种语音仪器和专业工程技术人员的新兴工程技术学科。时至今日，新兴的语言学在医学、生理学、心理学、遗传与基因、刑事侦查、语言识别、自动控制、智能制造等高科技领域得到广泛使用。

根据这段文字，以下说法正确的是（ ）。

- A. 如今文学的作用不如语言的作用大
- B. 语言文学不分家
- C. 语言学与文学应该区别对待
- D. 社会的发展和科技的进步离不开语言学的发展

14. 部分人在讨论冤假错案时总是倾向于把公安干警给极端化为一个亢奋的、具有惩办冲动、合法伤害动机的怪兽，由此进一步解释或暗示警察在调查过程中的罗织和构陷。非但如此，他们还用“命案必破”为代表的职务晋级机制暗示公安干警办案的晋升“所欲”，从而让自己在舆论场中居于一种道义上的优势，因为他们的话里至少暗示着公安干警侦破案件不是为了“保一方平安”，而是为了自己的位子和帽子。

这段文字的目的是（ ）。

- A. 揭示公安干警侦破案件的真实动机
- B. 解释部分人对公安干警办案工作的误解
- C. 指出“命案必破”要求的不合理性
- D. 探讨冤假错案产生的体制机制原因

15. 在微信的《使用条款和隐私政策》里明确写着：“腾讯保留因业务发展需要，单方面对本服务的全部或部分服务内容在任何时候不经任何通知的情况下变更、暂停、限制、终止或撤销腾讯微信服务的权利，用户需承担此风险。”这意味着，哪天腾讯突然关闭微信了，它无需负担任何责任。在免费时代，真正的减免只是“价格”。作为交换，仍需付出其他“代价”，可能是安全，也可能是隐私。爱因

斯坦曾说过：“有时候一个人为了不花钱得到的东西付出的代价最高。”即使如此，或许已经没有回头路。

下列俗语中，与这段文字主旨相符的是（ ）。

- A. 丢下西瓜捡芝麻 B. 世上没有免费的午餐 C. 苍蝇不叮无缝的蛋 D. 吃人嘴短，拿人手软

二、数量关系

16. -1, 1, 3, 10, 19, ()

- A. 27 B. 35 C. 43 D. 56

17. 2×6 , 12×5 , 60×4 , (), 720×2

- A. 240×3 B. 320×3 C. 480×3 D. 120×3

18. 0, 1, $\frac{4}{5}$, (), $\frac{8}{17}$, ()

A. $\frac{6}{10}$, $\frac{10}{26}$

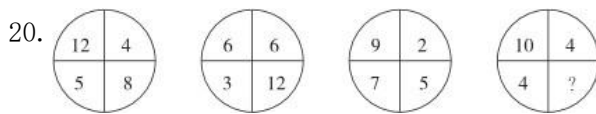
B. $\frac{3}{5}$, $\frac{8}{13}$

C. $\frac{6}{10}$, $\frac{7}{20}$

D. $\frac{2}{5}$, $\frac{9}{19}$

19. 0, 4, 11, 24, 49, ()

- A. 98 B. 99 C. 101 D. 103



- A. 2 B. 4 C. 6 D. 8

21. 小王参加了五门百分制的测验，每门成绩都是整数，其中语文94分，数学的得分最高，外语的得分等于语文和物理的平均分，物理的得分等于五门的平均分，化学的得分比外语多2分，并且是五门中第二高的得分，问小王的物理考了多少分？（ ）

- A. 94 B. 95 C. 96 D. 97

22. 假设一片牧场的青草一直都是“匀速”自然生长的，该牧场3月初放养有1000只羊，30天后青草的总量变为3月初的90%，此时牧场又一次性增加了300只羊，12天后青草的总量变为3月初的80%。如果要让青草在接下来的4个月内（每月按30天计算）回到3月初的总量，则这4个月内该牧场最多放牧（ ）只羊。

- A. 800 B. 750 C. 700 D. 600

23. 小张家距离工厂15千米，乘坐班车20分钟可到工厂。一天，他错过班车，改乘出租车上班。出租车出发时间比班车晚4分钟，送小张到工厂后出租车马上原路返回，在距离工厂1.875千米处与班车相遇。如果班车和出租车都是匀速运动且不计上下车时间，那么小张比班车早多少分钟到达工厂？（ ）

- A. 3 B. 4 C. 5 D. 6

24. 商场里某商品成本上涨了20%，售价只上涨了10%，毛利率（利润/进货价）比以前的下降了10个

百分点。问原来的毛利率是多少？（ ）

- A. 10% B. 20% C. 30% D. 40%

25. 商店进了100件同样的衣服，售价定为进价的150%，卖了一段时间后价格下降20%继续销售，换季时剩下的衣服按照售价的一半处理，最后这批衣服盈利超过25%。如果处理的衣服不少于20件，问至少有多少件衣服是按照原售价卖出的？（ ）

- A. 7件 B. 14件 C. 34件 D. 47件

26. 车间共有50名工人，年底进行考核，有12人业务能力为优，10人政治表现为优，没有一项考核成绩为优的有34人。车间要向上级单位推荐2名两项考核均为优的工人作为先进个人的候选人，问有多少种推荐方案？（ ）

- A. 12 B. 15 C. 18 D. 21

27. 论文集中收录了一篇十多页的论文，其所在各页的所有页码之和为1023，问这篇论文之后的一篇论文是从第几页开始的？（ ）

- A. 94 B. 99 C. 102 D. 109

28. 某班级共有学生52人，从小琳、小宇、小菲、小筠、小铭五人中选出班长，全班每人限投票一张，不能弃权。结果是：小琳得票最多；小宇得票第二，比小琳少3票；小菲和小筠得票相同且并列第三；小铭只有5票，得票最少。那么，小琳当选班长的票数可能是（ ）票。

- A. 12 B. 13 C. 14 D. 15

29. 设 $a=1+\frac{1}{3}+\frac{1}{9}+\dots+\frac{1}{3^{2014}}$ ，则100a的整数部分是（ ）。

- A. 148 B. 149 C. 150 D. 100

30. 一次校友聚会共有50人参加，在参加聚会的同学中，每个男生认识的女生的人数各不相同，而且恰好构成一串连续的自然数。已知认识女生最少的一个男生认识15名女生，并有一名男生认识所有的女生，则参加这次聚会的男生一共有（ ）。

- A. 16名 B. 17名 C. 18名 D. 19名

三、判断推理

31. 蜡烛：电灯

- A. 椅子：写字台 B. 茶杯：饮水机 C. 拖把：吸尘器 D. 电视：计算机

32. 证券：债券

- A. 山水画：人物画 B. 油画：壁画 C. 绘画：素描 D. 漫画：年画

33. 豺狼：凶残

- A. 喜鹊：报喜 B. 小鸟：依人 C. 蜜蜂：勤劳 D. 梅花：坚强

34. 人体：肝脏：解毒

- A. 动物：麋鹿：四不像 B. 广告：商业广告：宣传

- C. 树木：叶子：光合作用 D. 微量元素：锌：记忆力

35. 道路：车辆：行人

- A. 脑袋：头发：眼睛 B. 月亮：嫦娥：后羿 C. 眼镜：鼻子：耳朵 D. 手提包：钱包：手机

36. 把红、黄、蓝、绿、紫五个小球放在五个排成一列的抽屉里，序号为A、B、C、D、E。要求：黄球放在绿球和紫球前面，蓝球不能放在B抽屉里，红球和绿球之间隔着一个抽屉。

问黄球放在哪个抽屉时，五个球的排放顺序是唯一的？（ ）

- A. B抽屉 B. C抽屉 C. D抽屉 D. E抽屉

37. 有研究表明，运动，特别是大量运动，会提高人体内血清基的水平。在某种程度上，人的心情由体内血清基的水平决定。抗抑郁药物可以通过提高体内血清基的水平来起作用。

下列论断一定正确的是（ ）。

- I. 提高体内血清基水平，要么大量运动，要么吃抗抑郁药物；
II. 人的心情，可能由运动量决定，也可能受抗抑郁药物影响；
III. 大量运动会影响人的心情，或影响抗抑郁药物的疗效。

- A. I B. II C. I 和 II D. II 和 III

38. 人体免疫细胞可分为两类，一种是保卫人体不受侵犯的“军队”型细胞，另一类则是维持内部治安的“警察”型细胞。前者是通过抗原抗体反应来实现抗病毒感染，其作用反应通常需要一定的时间；后者又称为自然杀伤细胞（NK细胞），人体体内每天会诞生100万个新细胞，其中约有5000个不良细胞，它们可能导致癌变，NK细胞能够尽早发现并攻击这些不良细胞和感染细胞。有研究证实，酸奶中的R-1乳酸菌可以提高NK细胞活性。

由此可以推出（ ）。

- A. NK细胞缺乏将导致人体部分细胞癌变 B. 对付流感，酸奶甚至比药物起效更快
C. “军队”型免疫细胞抗感染能力更强 D. “警察”型免疫细胞有助于机体抗癌

39. 研究人员设计了这样一个实验。他们从实验鼠体内收集了神经细胞并且将它们植入到家鼠大脑内。实验鼠的寿命大约只有18个月，而家鼠的寿命是它们的两倍。研究人员发现，当家鼠死亡的时候，从实验鼠植入的神经细胞依然存活。

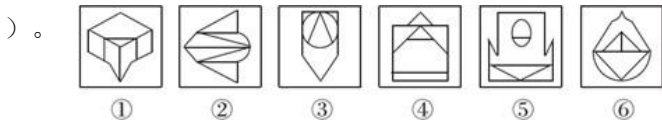
以下哪项可以作为上述实验的结论？（ ）

- A. 实验鼠的神经细胞比它们所属的生物体的寿命更长 B. 家鼠的神经细胞寿命长于实验鼠的神经细胞寿命
C. 实验鼠的神经细胞寿命长于家鼠的神经细胞寿命
D. 神经细胞可以通过移植而得到无限期的存活

40. 美国大律师赫梅尔，在一件赔偿案中代表某保险公司出庭辩护。原告声称他的肩膀被摔下来的升降机轴打伤，至今右臂仍抬不起来。“请给陪审员们看看，你的右臂现在能举多高？”赫梅尔说道。原告慢慢地将手臂举到齐耳的高度，并表现出非常吃力的样子，以示不能再举得更高了。“那么，你在受伤前能举多高呢？”赫梅尔话音刚落，原告不由自主地一下将手臂举过了头顶，引起全庭哄堂大笑。原告所犯的逻辑错误是（ ）。

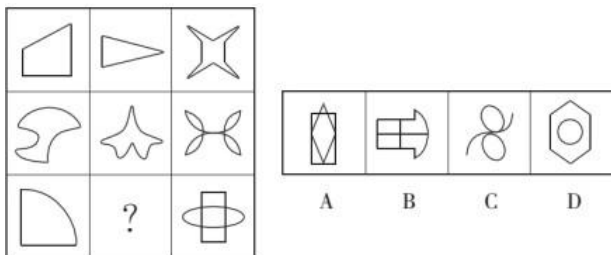
- A. 因果倒置 B. 机械类比 C. 模棱两可 D. 自相矛盾

41. 把下面的六个图形分为两类，使每一类图形都有各自的共同特征或规律，分类正确的一项是（




- A. ①②⑥, ③④⑤ B. ①③⑤, ②④⑥ C. ①②④, ③⑤⑥ D. ①④⑥, ②③⑤

42. 从所给的四个选项中, 选择最合适的一个填入问号处, 使之呈现一定的规律性。



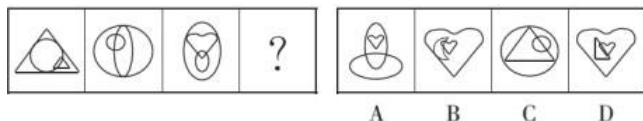
- A. A B. B C. C D. D

43. 从所给的四个选项中, 选择最合适的一个填入问号处, 使之呈现一定的规律性。



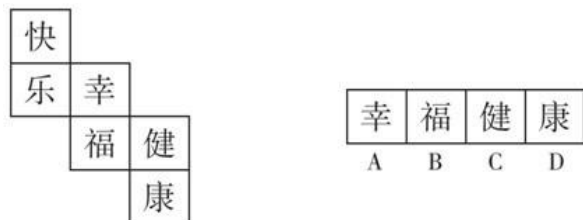
- A. A B. B C. C D. D

44. 下列选项中, 符合所给图形的变化规律的是 ()。



- A. A B. B C. C D. D

45. 下面是一个水平放置的正方体的表面展开图, 若图中“快”是正方体的上面, 则这个正方体的下面是 ()。



- A. A B. B C. C D. D

四、常识判断

46. 下列不属于开始于两汉时期政治经济制度的是 ()。

- A. 刺史制 B. 察举制 C. 一条鞭法 D. 编户齐民

47. 下列关于新能源的说法正确的是 ()。

- A. 沼气的主要成分与瓦斯相同 B. 核电站是利用核衰变发电
C. 氢气的热值低于汽油 D. 风能的来源与太阳能无关

48. 下列各句与“塞翁失马, 焉知非福”蕴含哲理相同的是 ()。

- A. 尺有所短, 寸有所长 B. 乐极生悲, 否极泰来
C. 千里之行, 始于足下 D. 动中有静, 静中有动

49. 2013年7月1日以后, 上海市所有派出所均可以办理身份证登记指纹信息, 此举可以有效防范冒

用他人居民身份证以及伪造、变造居民身份证等违法犯罪行为的发生，更好地保护公民合法权益。下列关于身份证的表述不正确的是（ ）。

- A. 公民身份号码的编码对象是具有中华人民共和国国籍的公民
- B. 十六周岁至四十五周岁的公民，发给有效期二十年的居民身份证
- C. 四十六周岁以上的公民，发给长期有效居民身份证
- D. 未满十六周岁的公民，由监护人代为申请领取居民身份证

50. 亚洲和非洲之间的分界线是（ ）。

- A. 亚马孙河
- B. 苏伊士运河
- C. 白令海峡
- D. 霍尔木兹海峡

51. 关于知识产权，说法错误的是（ ）。

- A. 具有专用性、时间性、地域性
- B. 仅包括财产权的内容而不涉及人身权
- C. 必须具有首创性、新颖性
- D. 必须有能为人感知的客观表现形式

52. 用一杯水救一车着了火的柴禾而无济于事，谓之杯水车薪。如今在一些地方，通过新技术，只需一瓶矿泉水的水量，就能使一辆汽车洁净如新，不妨称之为“杯水车新”。“杯水车新”说明（ ）。

- (1) 事物之间都存在着满足人们现实需要的客观联系
- (2) 人们根据自身需要，必然能建立起事物间的新的具体的联系
- (3) 事物的人为联系是在主客观条件相互作用下形成的
- (4) 世界并不缺乏联系，缺乏的是善于发现联系的创新意识

- A. (1) (4)
- B. (2) (3)
- C. (1) (2)
- D. (3) (4)

53. 2014年央视3.15晚会曝光了部分小商品市场将激光笔作为儿童玩具进行销售一事。儿童使用激光笔不当，最容易造成的人身伤害是（ ）。

- A. 辐射内脏，危害健康
- B. 点燃衣服，烧伤身体
- C. 影响食欲，阻碍发育
- D. 损伤视力，甚至致盲

54. 下列诗句与作者对应错误的是（ ）。

- A. 春蚕到死丝方尽，蜡炬成灰泪始干——李商隐
- B. 不是花中偏爱菊，此花开尽更无花——陶渊明
- C. 海上生明月，天涯共此时——张九龄
- D. 清水出芙蓉，天然去雕饰——李白

55. 氢能汽车是新能源汽车产业的一个发展重点，它是指以氢为主要能源，利用氢燃料电池和电动机取代传统的引擎，其燃烧物是水和少量氮氧化合物，对空气污染少，具有广阔的应用前景。目前，氢能汽车的技术日趋成熟，但还有（ ）等问题有待进一步解决。

- A. 氢的安全性
- B. 氢的储存和运输
- C. 电池运行时产生的辐射
- D. 电池的经济性

五、资料分析

2013年二季度，我国税收月收入同比增速逐步提高，分别为7.9%、8.3%和12.9%。截至2013年6月，全国税收总收入完成59260.61亿元，同比增长7.9%，较上年同期回落1.9个百分点。其中，国内增值税、企

业所得税同比分别增长6.6%和14.2%，较上年同期增速分别回落1.5和3.1个百分点；房产税同比增长11%，比上年同期增速回落19.1个百分点；进口货物增值税消费税和关税同比分别下降17.1%和16%，比上

2013年1~6月全国主要税种收入表（单位：亿元）

税目	收入	比上年同期增收
企业所得税	14963.38	1857.07
国内增值税	14319.5	887.11
营业税	8845.14	1007.2
进口货物增值税消费税	6382.82	-1313.78
国内消费税	4353.49	150.93
个人所得税	3630.79	359.1
契 税	1946.04	554.07
车辆购置税	1236.7	150.03
关 税	1212.1	-230.9
城镇土地使用税	910.66	67.44
房产税	822.3	81.7
证券交易印花税	223.39	47.6
出口货物退增值税消费税	-5300.86	15.5

年同期增速分别回落24.5和22.9个百分点。

56. 2012年1~6月全国税收总收入约完成（ ）。

- A. 52973.28亿元 B. 54921.79亿元 C. 56938.68亿元 D. 63942.19亿元

57. 2013年上半年，房产税、城镇土地使用税及契税等三项增收之和占全国税收增收比重约为（ ）。

- A. 1.2% B. 6.2% C. 11.2% D. 16.2%

58. 2011年1~6月全国关税收入约为（ ）。

- A. 1300亿元 B. 1350亿元 C. 1380亿元 D. 1540亿元

59. 2013年上半年与上年同期相比，下面四个税种中增速最快的税种是（ ）。

- A. 企业所得税 B. 国内增值税 C. 出口货物增值税消费税 D. 契税

60. 下列说法与资料相符合的有几个？（ ）

- ①2013年第一季度我国税收总收入同比增速低于7.9%
 ②2013年我国税收总收入预计可以达到118520亿元
 ③若2013年上半年进口货物增值税消费税维持上年同期水平，那么2013年上半年我国税收总收入同比增长将比2012年提高约0.5个百分点
 ④2013年我国上半年企业所得税、国内增值税两项之和超过同期税收总收入的50%
- A. 0 B. 1 C. 2 D. 3

2012~2015年，我国国内生产总值年均增长率为7.3%，远高于世界同期2.4%（世界银行数据）的平均水平。对世界经济增长的贡献率平均约为26%。2015年被称为新常态元年，我国GDP占世界的比重为15.5%，比2012年高4个百分点。2015年GDP相当于美国的63.4%，比2012年提高11个百分点。我国依然是世界经济增长的最重要引擎。

2015年，我国服务业增加值为34.16万亿元，2013~2015年均增长8.1%，服务业增加值在国内生产总值中的比重从2012年的45.5%提高到2015年的50.5%，连续三年保持国民经济第一大产业的地位。2015年，我国服务业投资额为31.19万亿元，2012~2015年均增长15.9%。

网络消费增长强劲。2014年、2015年全年网上零售额分别为2.79万亿元、3.88万亿元，增长49.7%和39.1%，其中实物商品网上零售额占当年社会消费品零售总额的9.1%和10.8%。

网络服务高速增长。2013~2015年，规模以上服务企业“互联网和相关服务业”营业收入分别增长27.1%、32.6%和25.0%，远高于同期规模以上服务业营业收入9.5%的增速。

电子商务交易额快速增长。2014年电子商务交易额达16.4万亿元，增长59.4%；其中，自营电商交易额为8.7万亿元，增长65.9%。

现代金融服务业支撑作用不断增强。2013~2015年，上市公司通过境内市场累计筹资年均增长72.2%。

金融对重点领域支持力度明显加强。2014年，新增小微企业贷款2.1万亿元，占企业新增贷款41.9%。

2015年末，主要农村金融机构贷款余额12.03万亿元，增长11.4%。

61. 2012年，我国国内生产总值占世界的比重为（ ）。

- A. 11.5% B. 4% C. 6% D. 10.5%

62. 按年均增长率为8.1%计算，2015年我国服务业增加值同比增加了（ ）。

- A. 1.3万亿元 B. 31.6万亿元 C. 2.6万亿元 D. 1.8万亿元

63. 2015年我国服务业投资额相对于2012年的增长率约为（ ）。

- A. 16% B. 56% C. 48% D. 32%

64. 资料显示，2014年企业新增贷款额约为（ ）。

- A. 6万亿元 B. 1万亿元 C. 3万亿元 D. 5万亿元

65. 下列说法错误的是（ ）。

- A. 2012~2015年间，我国服务业投资额增速快于GDP增速
B. 2014年，在电子商务交易中自营电子商务交易是主体
C. 资料显示，未来服务业的发展主要还是依靠传统服务业
D. 2015年全年网上零售额比2013年增长了约2.02万亿元