

职测模拟卷（九）

一、言语理解与表达

1. 书店应当想方设法降低书价或改善服务，让读者_____地掏钱，而不是_____，指责消费者说，我们费了这么大心思，你怎么还是跑去网上买书，太不道德了！

填入划横线部分最恰当的一项是（ ）。

- A. 真心诚意 悲天悯人
B. 心悦诚服 自怨自艾
C. 心甘情愿 怨天尤人
D. 慷慨解囊 自说自话

2. 这次中层干部选举，他虽然获得提名，个人也积极争取，但由于入职以来他的所作所为_____，最终因为投票未过半数而落选。

填入划横线部分最恰当的一项是（ ）。

- A. 不负众望
B. 不孚众望
C. 深孚众望
D. 不失所望

3. 怎样的事物才能真正的永存？阿房宫和华清池都已片瓦不留，李杜的名句和老庄的格言却一字不误地_____在每个华人的心里。世上延绵最久的还是非物质——思想与精神。能够_____地记忆思想的只有文字。所以说，文字是我们的生命。

依次填入横线部分最恰当的一项是（ ）。

- A. 保存 永久
B. 铭刻 永恒
C. 保留 明确
D. 镌刻 准确

4. “扶老人”的争议背后有深刻的社会道德因素，也_____了医保制度的不完善带来的养老之痛，老人们“摔不起”“病不起”，一些老人及其亲属承担不了老人住院的后果，加剧了一些无责任人的“扶不起”_____。

填入划横线部分最恰当的一项是（ ）。

- A. 影射 窘迫
B. 揭露 尴尬
C. 折射 窘境
D. 暴露 困境

5. 自2006年《烟草控制框架公约》在中国正式生效，烟草界与控烟界过招已数百回合，双方_____的是，均将视线集中于青年群体。烟草依赖的形成是一个长期的过程，烟草界企图“从娃娃抓起”；控烟界也将青年时期作为吸烟行为的萌芽阶段，向青少年大力宣传烟草的危害。

填入划横线部分最恰当的一项是（ ）。

- A. 秘而不宣
B. 不谋而合
C. 一成不变
D. 不言而喻

6. 强硬的紧缩政策和严重的失业问题，导致意大利社会不满情绪日益_____。就在莱塔内阁在总

统府宣誓就职时，总理府外上演了一起因对政府不满而引发的枪击案。作为欧元区第三大经济体，意大利若因政治局势不稳而_____债务危机再度恶化，将给欧元区乃至整个欧盟带来沉重打击。

依次填入划横线部分最恰当的一项是（ ）。

- A. 累积 导致
- B. 增加 造成
- C. 集聚 致使
- D. 高涨 促进

7. 依次填入下列各句横线处的词语，最恰当的一组是（ ）。

①在野外露营，如果要采摘蘑菇，一定要能_____出有毒和无毒的蘑菇。

②几个月来，我国多地遭遇雾霾天气，严重的地区连交通信号灯都难以_____。

③幸亏我再三_____，他才勉强相信这件事情并不是因我而起。

- A. 分辩 分辨 分辨
- B. 分辩 分辩 分辨
- C. 分辨 分辩 分辨
- D. 分辨 分辨 分辩

8. 项羽，中国军事史上“实力派”和“勇战派”的代表人物，有着_____之勇。和汉高祖刘邦相比，更多人认为项羽是_____的英雄。

依次填入划横线处最恰当的一项是（ ）。

- A. 锐不可当 举世无双
- B. 万夫不当 当之无愧
- C. 无所畏惧 虚有其表
- D. 威武不屈 独一无二

9. ①如果说，人生是一部越写越快的书，那么，一场病便是一个句号，一段承前启后的空白

②病中，其实是阅读和思考的大好季节

③因为病，你被甩出了正常的生活轨道，那么你就可以更从容更客观更冷静地审视自己，反思病前的生活，设计病后的日子

④读书疲劳时，你还可以读画册、画报，乃至小人书，学学当年鲁迅的“聊借画图怡倦眼”

⑤当抗生素、生理盐水、氨基酸和葡萄糖水点点滴滴注入你的血管时，你的灵魂也同时得以洗涤和净化

⑥因为静卧，你可以听新闻、听音乐，读你平时想读又来不及读的许多好书 将

以上句子重新排列，语序正确的是（ ）。

- A. ①②③⑥⑤④
- B. ③①②⑤⑥④
- C. ②⑥④⑤③①
- D. ②③⑥①④⑤

10. 我有很多书想读，却读不进去，以致很多想了解的学问，都难以了解。牟宗三先生回忆年轻时在北大读书，有一天得到熊十力的《新唯识论》，一个晚上就读完了。这怎么可能呢？这部书一直放在书架上，我曾多次打开它，但都读不进去。有一次，我在美国作家迪拉德的《听溪者的朝圣》上，看到这个说法：《道德经》写的是“生活的艺术”。对于只有五千言的老子《道德经》，我从来没有读通过，因此无法得出一个贯通的看法。于是，我以“如何生活”的角度去读，结果第一次读通老子，并且得出中心思想，感觉非常不错。

这段话表达的主要观点是（ ）。

- A. 找到合适的角度读书则更易读通
- B. 书读不通便不能了解更多的学问
- C. 只有自己感兴趣的书才能易读通
- D. 某些理论性较强的书应多读几遍

11. 维生素C又叫抗坏血酸，是一种水溶性维生素，溶液显酸性。医学研究表明，人类在不良情绪下，会产生过多氧自由基，损伤细胞和组织，导致皮肤失去弹性，出现皱纹。而维生素C能与氧自由基

发生反应，从而清除自由基，可有效避免肌肤老化。那么，维生素C又是如何美白皮肤的呢？原来，皮肤的颜色主要取决于肌肤中黑色素的含量。抑制酪氨酸酶的合成是美白的关键之一，而维生素C能抑制此酶的活性，阻断黑色素生成，且可将已形成的黑色素还原成无色的黑色素前质。

下列说法与原文不符的是（ ）。

- A. 维生素C能够避免肌肤老化
- B. 酪氨酸酶合成可以美白肌肤
- C. 维生素C能阻断黑色素生成
- D. 不良情绪容易使人出现皱纹

12. 曾有新闻报道，一位家长带着两个孩子逛商场，两个孩子从玻璃扶栏上掉下，当场死亡，这使家长陷入无限的哀痛与自责中。同样，获得了第89届奥斯卡金像奖最佳影片和最佳导演提名的电影《海边的曼彻斯特》，片中人物李，因为自己的过失导致三个幼子葬身火海。李在事情发生之后离开故乡，一个人住在没有家具的小公寓里，做着粗重的底层工作。他整天浑浑噩噩，不与人交往，仿佛生活在永远不会结束的冬天。从心理学上看，他其实患上了持续哀痛障碍。

这段文字是一篇文章的开头，接下来的内容最可能是（ ）。

- A. 介绍持续哀痛障碍第三个案例
- B. 解释持续哀痛障碍的基本含义
- C. 概括持续哀痛障碍的行为表现
- D. 分析影片中人物李的心理特征

13. “商业信誉”无疑指向的就是“信用”和“名誉”。它是指社会公众对具体商业主体的经济能力、信用状况等所给予的社会评价。在刑法上，并不是所有“损害”商业信誉的行为都将构成犯罪。如该商业主体自身存在问题，经媒体曝光后信用大跌、名誉扫地，这种损害实则是由主体自身的问题所带来的。而媒体行使舆论监督权并无违法，反而应该得到法律的保护。

这段文字意在强调（ ）。

- A. 媒体曝光商家不守商业信誉的行为不违法
- B. 商家自身问题造成信誉损害不受法律保护
- C. 法律对损害商业信誉行为的认定十分审慎
- D. 应出台法律保护媒体对商家进行舆论监督

14. 53. 美国交通运输业正逐渐从以石油为基础过渡为采用多种替代能源，如乙醇、生物柴油、电力或氢能等。为了更加壮大这支队伍，能源部阿贡国家实验室的研究人员已经开始调查将压缩天然气（CNG）作为轻型轿车和卡车能源选择的可能性。CNG汽车是指主要由甲烷构成的天然气在25兆帕左右的压力下储存在车内类似于油箱的气瓶内、用作汽车燃料。使用CNG替代汽油作为汽车燃料，可大量减少温室气体排放和噪音污染，而且其不含铅、苯等致癌的有毒物质。

下列说法与原文不符的是（ ）。

- A. CNG作为卡车能源可能性很大
- B. CNG可能会成为一种替代能源
- C. 美国交通运输业现在仍以石油为基础
- D. CNG替代汽油作为汽车燃料好处很多

15. 有传言说，有20多本关于创世纪论与进化论之争的书即将出版，有几本已经面世了。所有这些书的目的是试图告诉那些迷糊而且常常是还不开通的芸芸众生：就宇宙和生命的起源与发展问题而言，不可能存在两种都成立的科学理论。对于所发生的一切，宇宙学、地质学、生物学已经提供了一贯的、统一的并且是在不断完善的解释。而科学创世纪论——当课堂上讲授进化论时，有些人就想争抢相同的课时来解释它——是基于宗教，而非科学的。实际上，所有科学家和大多数非原教旨主义宗教领袖们都已将科学创世纪论看作是拙劣的科学和拙劣的宗教。非专业人士起码可以了解支持进化论的各种数据和观点。关于创世纪论者的最后一章对每个人来说都阐述得极为清楚。这部优秀作品的护封上引用了斯蒂

芬·杰·古尔德的一句话，本书赌注是理性。的确如此——如果理性是创世纪论和进化论之争的惟一裁判，一切问题就已解决了。

由此，我们可以推断出（ ）。

- A. 理性思维在争论中起了决定性作用
对非专业人士来说，进化论显得难以理解
- B. 创世论者的观点应以理性思维为基础
D. 创世论者的观点得到了科学发现

二、数量关系

16. 30, 15, 1002, 57, ()

- A. 59
B. 58
C. 69
D. 68

17. 2, 3, 4, 9, 16, 45, (), 315

- A. 90
B. 96
C. 102
D. 120

18. -53, 28, 1, 10, 7, ()

- A. 9
B. 3
C. 8
D. 13

19. 768, 199, 827, 69, 904, ()

- A. 92
B. 77
C. 53
D. 39

20. 5, 6, 8, 12, 12, 20, 17, 30, ()

- A. 19
B. 23
C. 26
D. 30

21. 老张购进一批商品，共20件。销售时，每件合格的商品可以赚50元，不合格的商品一件亏损20元。他卖出的这20件商品中有几件是不合格的，那么卖出这批商品可能赚（ ）。

- A. 690元
B. 720元
C. 780元
D. 850元

22. 某列车通过1200米长的隧道要用时33秒，与另一列长150米、速度为50米/秒的列车错车而过需要3秒，则该列车减速一半后，通过一座600米长的桥梁所需的时间为（ ）。

- A. 18秒
B. 20秒
C. 30秒
D. 36秒

23. A、B两地分别有10台和6台型号相同的机器，准备配送到E、F两地，其中E地11台，F地5台。若每台机器从A到E和F的物流费用分别为350元和550元，从B到E和F的物流费用分别为600元和900元，则配送这16台机器的总物流费用最少为（ ）。

- A. 7850元
B. 8100元
C. 8400元
D. 8700元

24. 小王参加电视台的一个智力竞赛节目。节目共有20道快速问答题，答对一题得10分，答错或不答均倒扣10分，每人开始有基础分100分。小王最后成绩为220分，问他有几道题没答对？（ ）

- A. 5
B. 6
C. 3
D. 4

25. 某停车场有三排停车位，每排的停车位数量相同。管理员发现如果只使用两排停车位，能够停放的车辆数正好与使用三排停车位、但每排空出6个车位停放的车辆数相同。问该停车场共有多少个停车位？（ ）

- A. 36
B. 42
C. 48
D. 54

26. 在一个纸箱中装有若干黄白两色的乒乓球，且知道有5个黄色乒乓球以及摸到黄球的概率为 $\frac{1}{4}$ ，那么，纸箱中白色乒乓球的个数为（ ）。

B. 由两个对象某些相似的性质，推断出它们在其他性质上也有可能相似 C.

表面上顺应对方的话题，真实意图却是以隐含的话意驳斥对方的诡辩 D. 通过列举一个与之相关的例子，来证明对方的诊断的真实性和有效性

37. 传统社会能够提供的文化产品很少，公众的可选择性也很小，公众的兴趣爱好主动或被动地被聚拢到一起。进入现代社会，伴随着文化产业、网络和传媒的快速发展，娱乐方式也从传统的人际直接互动转变为借助于机器的人际间互动，甚至是人机互动。公众的选择范围在极大扩展的同时，公众因选择的多样性而出现大量的分流，随之而来的是共同兴趣爱好的消逝。

以下各项如果为真，最能反驳上述论证的是（ ）。

- A. 网络社会的来临彻底改变了人与人之间的互动模式
- B. 借助于移动互联网，日常交往最多的人可能根本就不在身边C.
- 现代技术突破了传统差序格局，人际关系不再以地域为基础D.
- 社会组织可以通过搭建联络平台组织相关活动来培养兴趣爱好

38. 某单位组织职工进行体检，职工可自愿报名参加。老王碰到新来的小李，聊起此事，老王提醒小李说：“单位组织体检呢，赶紧报名去吧”。小李说：“我身体健康着呢，不用报了。”

以下除哪项外，都可以作为小李的回答所包含的假设？（ ）

- A. 如果身体不健康，则要报名参加体检
- B. 只要我身体健康，我就不必参加体检C.
- 凡是报名参加体检的，都是身体不健康的
- D. 只有身体不健康的人，才报名参加体检

39. 某中学甲班学生中，所有喜欢奥数的同学也都喜欢下围棋。

若以上陈述为真，再加上以下哪项，则可以合乎逻辑地推出有些喜欢看话剧的同学不喜欢奥数？（ ）

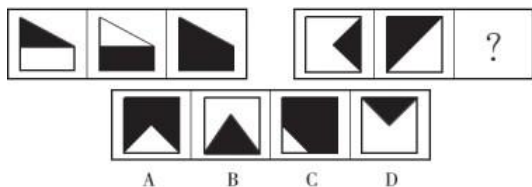
- A. 有些喜欢看话剧的同学也喜欢下围棋
- B. 有些喜欢奥数的同学不喜欢看话剧C.
- 有些不喜欢下围棋的同学喜欢看话剧
- D. 有些不喜欢看话剧的同学喜欢下围棋

40. 某高中只有文科班和理科班，男生人数比女生多，理科班人数比文科班多。根

据以上条件，可以判断下列说法必定为真的是（ ）。

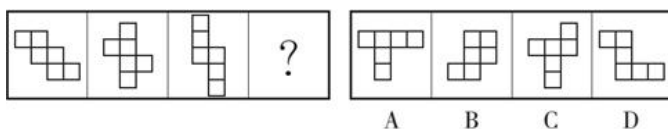
- A. 文科班的男生总人数多于文科班的女生总人数 B.
- 理科班的男生总人数多于理科班的女生总人数 C.
- 文科班的男生总人数多于理科班的女生总人数 D.
- 理科班的男生总人数多于文科班的女生总人数

41. 从所给的四个选项中，选择最合适的一个填入问号处，使之呈现一定的规律性。



- A. A
- B. B
- C. C
- D. D

42. 从所给的四个选项中，选择最合适的一个填入问号处，使之呈现一定的规律性。



- A
- B
- C
- D

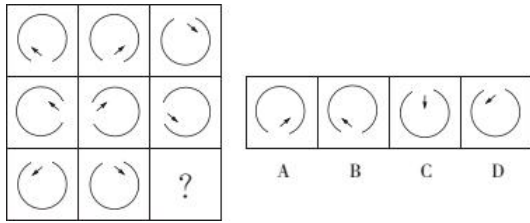
A. A

B. B

C. C

D. D

43. 下列选项中，符合所给图形的变化规律的是（ ）。



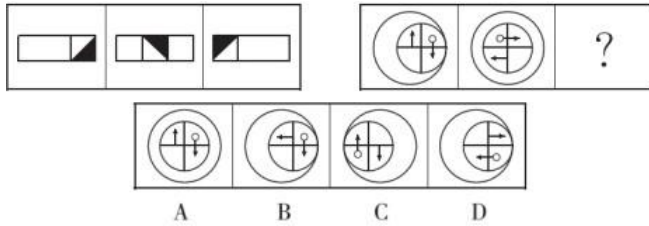
A. A

B. B

C. C

D. D

44. 下列选项中，符合所给图形的变化规律的是（ ）。



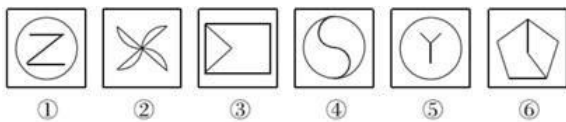
A. A

B. B

C. C

D. D

45. 把下面的六个图形分为两类，使每一类图形都有各自的共同特征或规律，分类正确的一项是（ ）。



A. ①④⑤, ②③⑥

B. ①④⑤, ②③⑥

C. ①③⑤, ②④⑥

D. ①②④, ③⑤⑥

四、常识判断

46. 下列经济指标与衡量对象对应关系正确的是（ ）。

A. 赤字率——财政风险

B. 恩格尔系数——收入分配差距

C. 基尼系数——居民生活水平

D. 生产者物价指数——货币供应量

47. 世界大河中，与长江流向大致相同的是（ ）。

A. 尼罗河

B. 印度河

C. 亚马逊河

D. 伏尔加河

48. 厄尔尼诺现象是一种在世界范围内造成周期性极端天气的气候现象，其表象是发生厄尔尼诺现象时（ ）。

A. 太平洋中、东部海域大范围内海水温度异常升高，海水水位上涨

B. 太平洋中、东部海域大范围内海水温度异常升高，海水水位下降

C. 太平洋中、东部海域大范围内海水温度异常降低，海水水位上涨

D. 太平洋中、东部海域大范围内海水温度异常降低，海水水位下降

49. 下列古代为官理念出自道家的是（ ）。

A. 君使臣以礼，臣事君以忠

B. 不义而富且贵，于我如浮云

C. 以道佐人主者，不以兵强于天下

D. 邦有道则仕，邦无道则可卷而怀之

50. 下列古代汲水灌溉工具与应用原理对应错误的是（ ）。

A. 桔槔——杠杆原理

B. 辘轳——轮轴原理

C. 翻车——对称守恒原理

D. 筒车——叶轮原理

51. 我国水能资源分布不均，水能资源最集中的地区是（ ）。

- A. 东北地区 B. 中南地区 C. 西南地区 D. 东部沿海地区

52. 关于世界著名半岛，下列说法错误的是（ ）。

- A. 印度半岛是世界上最大的半岛 B. 克里米亚半岛总体上属于地中海气候
C. 索马里半岛是红海通向印度洋的门户 D. 阿拉斯加半岛是爱斯基摩人的居住地之一

53. 山东是儒家文化的发祥地。下列观点不属于先秦儒家代表人物观点的是（ ）。

- A. 仁者爱人 B. 五德终始 C. 化性起伪 D. 尽心知天

54. 明成祖姓名朱棣，其子明仁宗姓名朱高炽，仁宗之子明宣宗姓名朱瞻基，宣宗之子明英宗姓名朱祁镇。从这几位皇帝的名字来看，体现了明朝皇室命名的思想是（ ）。

- A. 天人合一 B. 人定胜天 C. 五行相生 D. 押韵合辙

55. 下列处理保险合同纠纷案件的说法，符合我国相关法律法规的是（ ）。

- A. 陈女士购买了一份意外伤害保险，她收到的投保单与保险单不一致，应以保险单为准
B. 王先生所在的单位为他购买了一份车辆盗损险，他的保险凭证记载的时间不同，以形成时间在前的为准
C. 张先生购买了一份财产损失保险，该保险单的非格式条款和格式条款不一致，以格式条款为准
D. 李女士购买了一份重大疾病保险，保险单存有手写和打印两种方式，以双方签字、盖章的手写部分的内容为准

五、 资料分析

免费午餐基金自2011年4月正式启动，截止2012年底，总收入为4377.4万元，总支出为1459.1万元，结

余2918.3万元。

表1 免费午餐基金收入明细表

分 类	2011 年度		2012 年度	
	金额 (万元)	占总收入比重 (%)	金额 (万元)	占总收入比重 (%)
1. 捐赠收入	1824.9	99.53	2473.1	97.22
其中：银行捐赠汇款收入	1196.5	65.25	1402.0	55.12
在线捐款收入	254.6	13.89	353.4	13.89
网上商城捐款收入	373.8	20.39	573.2	22.53
物质捐赠收入	-	-	144.5	5.68
2. 其他收入	8.6	0.47	70.8	2.78
收入合计	1833.5	100	2543.9	100

表2 免费午餐基金支出明细表

分 类	2011 年度		2012 年度	
	金额 (万元)	占总收入比重 (%)	金额 (万元)	占总收入比重 (%)
1. 业务活动成本	321.0	92.56	999.5	89.86
其中：捐赠支出	311.0	89.68	945.1	84.97
现金捐赠支出	311.0	89.68	801.0	72.01
物质捐赠支出	-	-	144.1	12.96
其他	10.0	2.88	54.4	4.89
2. 筹资费用	8.5	2.45	48.0	4.32
3. 管理费用	17.3	4.99	64.8	5.83
支出合计	346.8	100	1112.3	100

56. 2012年度免费午餐基金接受的在线捐款比上年约增长了（ ）。

- A. 28.9% B. 35.5% C. 38.8% D. 53.3%

57. 2012年度免费午餐基金接受的捐赠收入中，银行捐赠汇款所占比重约是（ ）。

- A. 55.1% B. 56.7% C. 58.9% D. 60.3%

A. 13.8万人次 B. 23.8万人次 C. 33.8万人次 D. 43.8万人次

65. 根据上述资料，不能推出的是（ ）。

- A. 2012年，韩国为我国第一大入境客源国
- B. 2012年，在20个主要客源国中，六成来自亚洲
- C. 2012年，非洲市场入境游客量占入境外国游客总量的2%
- D. 2012年，越南是入境旅游人数增长最快的客源国