

职测模拟卷（三）

一、言语理解与表达

1. 中国历史上传统手工艺的发展，是在_____地认识和了解从自然界获取的材料之物理与物性的基础上进行的。对材料物性的认识与实践是中国人的 _____， _____运用材料的物理和物性的知识，才能使传统工艺及其产品适用于不同的社会生活需求。

依次填入划横线部分最恰当的一项是（ ）。

- A. 有效 发现 充分 B. 深入 发明 灵活
C. 正确 创造 合理 D. 科学 发展 准确

2. ①足球进校园，让孩子们能在绿茵场上尽情奔跑，同时，也要尊重一部分孩子不喜欢足球的_____。

②老同学找他办事，他很为难地说：“我就这么点_____，解决不了那么大的问题，你还是想想别的办法吧。”

③中国保监会近日召开会议，强调通过开展治理理赔难等三项措施，切实保护好保险消费者合法_____。

- A. 权力 权益 权利 B. 权力 权利 权益
C. 权利 权益 权力 D. 权利 权力 权益

3. 目前，全球面临的危机大体上分为两类：一类是由市场自己产生因而也能被市场_____的危机，比如当下的金融危机。另一类是受外在条件的_____，市场不能解决的危机，比如土地、空气、矿产资源、石油、天然气等等，不是随着价格提高就能增加产品供给量、增强资源约束力所导致的危机。这样的危机是真正值得我们长期关注的。

依次填入划横线部分最恰当的一项是（ ）。

- A. 扩大 限制 B. 消融 干扰
C. 化解 约束 D. 加剧 影响

4. 在一个多元化的时代，不能说服对方实属_____，真正能相互理解更是_____。不能理解他人的行为就得_____他人的选择，只要他人没妨碍你的自由。这就是陌生人社会的交往规则。

依次填入划横线部分最恰当的一项是（ ）。

- A. 必然 偶然 尊重 B. 常态 意外 包容
C. 遗憾 满意 忍受 D. 寻常 稀罕 容忍

5. 英国数学家和哲学家罗素从欧几里德的《几何原本》中“读出音乐般的美妙”，德国生物学家海

人、对社会、对国家都有着举足轻重的意义。

这段文字主要强调（ ）。

- A. 保障大数据时代个人信息安全的背景
- B. 保障大数据时代个人信息安全的意义
- C. 保障大数据时代个人信息安全所面临的挑战
- D. 保障大数据时代个人信息安全的措施

11. 改革开放30多年来，中国经济显示出强大的造富功能：一跃成为世界经济大国，诸多经济指标名列世界前茅。与之相应，国人的财富观也发生了重大的历史变化，这就是从计划经济时期的拒斥财富、恐惧财富，到今天的追求财富和拥有财富。的确，贫穷不是社会主义，但不容忽视的是，在我们日益走向富裕的新的社会发展环境下，确立正确的财富观，对财富的价值和意义有一个清醒的认识，就变得越来越重要。

这段文字意在说明（ ）。

- A. 中国经济的飞速发展提高了国民物质生活水平
- B. 社会主义的追求包括消除贫穷和贫富差异
- C. 国人应正确认识财富的价值和意义
- D. 国人的财富观发生了巨大变化

12. 树可长至参天凌云却依然青葱碧绿，靠的是木质部的导管将根部吸收的水分一路运输到树梢。根据最新的研究结果，植物学家发出警告，气候变化所导致的部分地区干旱化除了会威胁地下水的供应，还会损害木质部运输水分的能力，从而令森林处于危险状态。研究者表示，在干旱条件下，树木会极力地从地下吸取水分，而在此过程中，会有太多气泡会被吸入木质部。当这些气泡在导管中堵塞，便会阻断水流供应，令树木缺水而死。

根据这段文字，最新的研究结果是（ ）。

- A. 树木木质部越粗越有利于水分供应
- B. 极端天气会破坏树木木质部的生物结构
- C. 湿润的气候条件更有利于参天大树的生长
- D. 导管中大量气泡的存在会阻断树木水分的供应

13. 美国国家卫生研究院宣布，他们成功地将基因工程猪的心脏移植给了狒狒，有望为将来实现猪—人器官移植铺平道路。乍看之下，猪和人似乎截然不同。可实际情况是，猪的许多器官系统与人体对应系统的相似度高达80%到90%——无论就解剖学特征还是器官功能而言。吻合度最高的可能要数心血管系统了。由于存在器官的惊人相似性和越来越严重的捐献器官短缺问题，猪被看成是潜在的人类心肺捐献体。虽然狒狒、猩猩等灵长目动物与人类关系更近，但猪作为器官捐献的来源更具吸引力，因为猪的数量庞大，而且符合伦理。

依据这段文字，我们无法推出的是（ ）。

- A. 能在猪身上奏效的东西，在人身上奏效的几率也会更高
- B. 在医学世界里，猪能救人命的期待指数有可能越来越高
- C. 器官高度相似性，使猪—人器官移植已开始发展起来
- D. 与人类一样，猪也可能患上动脉硬化和心肌梗死等疾病

14. 一声“干妈”不到两千块的床垫卖到一万三千八，如此畅销，老太太还照样心疼“干闺女”，为她打掩护、做辩解。就赖老人糊涂吗？不尽然。推销者卖的就是床垫吗？不全是。公司一句口号暴露玄机：“代天下儿女尽孝。”说是“代尽孝”，其实在骗钱，这样的公司涉嫌欺诈。然而，老年人情感

上的需求却是真的。不讳言地说，老年人心灵上的这片空洞，就是骗子屡屡得逞的命门。有的老人识不破，有的则是有些明白了，却仍迷恋这种虚幻的亲近感，不愿意从梦里头醒过来，而这愈显悲哀。与原文主旨不相符的一项是（ ）。

- A. 新养老真正需要心养老
- B. 儿女忙老人孤寂难排解
- C. 亲闺女可别败给干闺女
- D. 补上心洞才能百邪不侵

15. 实际上，实地调研、田野考察，应该成为一切社会科学普遍运用的最基本的研究方法之一。遗憾的是，有些学科在迅速发展它的逻辑分析工具和数学描述语言的同时，在很大程度上抛弃了这个优秀的传统，研究者仅仅依赖那些来自统计年鉴的数据，进行逻辑推理和计量建模，而忽视了直接从真实世界获得鲜活的理论灵感和真实数据。

这段文字主要讨论“社会科学”的（ ）。

- A. 分析工具
- B. 数据处理
- C. 优秀传统
- D. 研究方法

二、数量关系

16. $2, 1, \frac{2}{3}, \frac{1}{2}, \frac{2}{5}, \frac{1}{3}$ ()

- A. $\frac{2}{7}$
- B. $\frac{1}{4}$
- C. $\frac{5}{2}$
- D. 1

17. $2, 17, 29, 38, 44$, ()

- A. 45
- B. 46
- C. 47
- D. 48

18. $12, 4, 8, 6, 7$, ()

- A. 6
- B. 6.5
- C. 7
- D. 8

19. $2187, 729, 243, 81, 27$, ()

- A. 3
- B. 6
- C. 9
- D. 12

20. $0, 4, 18$, ()

- A. 48
- B. 46
- C. 36
- D. 28

21. 若将一项工程的 $\frac{1}{6}$ 、 $\frac{1}{4}$ 、 $\frac{1}{3}$ 和 $\frac{1}{4}$ 依次分配给甲、乙、丙、丁四家工程队，分别需要15天、15天、30天和9天完成，则他们合作完成该项工程需要的时间是（ ）。

- A. 12天
- B. 15天
- C. 18天
- D. 20天

22. 在一次航海模型展示活动中，甲乙两款模型在长100米的水池两边同时开始匀速航行，甲款模型航行100米要72秒，乙款模型航行100米要60秒，若掉头转身时间略去不计，在12分钟内甲乙两款模型相遇次数为（ ）。

- A. 9次
- B. 10次
- C. 11次
- D. 12次

23. 八进制整数数列4, 5, 6, 7, 10, 11, 12, 13……的第13项是（ ）。

C. 映阶碧草：隔叶黄鹂

D. 山穷水复：柳暗花明

35. 南征北战：东讨西伐

A. 万紫千红：姹紫嫣红

B. 古往今来：天南地北

C. 朝三暮四：喜新厌旧

D. 左顾右盼：东张西望

36. 复活节岛是位于太平洋上的一座孤岛。在报道中，复活节岛文明的衰落常作为一个警世故事，讲述人类肆意砍伐棕榈树，致使肥沃的土壤流失，最终导致岛中食物短缺，文明自此衰落。然而近日有专家提出，复活节岛文明的衰落与树木砍伐并无必然联系。

以下哪项如果为真，最能支持上述专家的观点？（ ）

A. 大约公元1200年，岛上居民开始砍伐棕榈树，用于建造木船，运送大型石质雕像

B. 考古发现，当岛上最后的树木（棕榈树）被砍伐之后，仍有大量原住居民生活着，其农业耕作的水平没有下降

C. 花粉分析表明，早在公元800年，森林的毁灭就已经开始，岛屿地层中的大棕榈树和其他树木的花粉越来越少

D. 1722年荷兰殖民者开始登陆复活节岛，并对当地居民进行奴役，那时岛上的土著人口是4000人，到1875年时仅有200人

37. 张导演在为联欢会的最后三个节目进行排序，相邻的节目不能属于同一种类。张导演要从三个小品节目、三个歌曲节目、三个舞蹈节目中进行选择。要排好最后这三个节目，还要满足如下条件：

- (1) 如第一个节目是小品，则第二个节目是舞蹈；
- (2) 如第二个节目是歌曲，则第一个节目是舞蹈；
- (3) 如第三个节目是小品或者舞蹈，则第二个节目是歌曲。

请问以下哪项是节目安排的可能次序？（ ）

A. 节目一：小品；节目二：舞蹈；节目三：舞蹈 B.

节目一：小品；节目二：歌曲；节目三：舞蹈 C.

节目一：歌曲；节目二：小品；节目三：舞蹈 D.

节目一：舞蹈；节目二：小品；节目三：歌曲

38. 婚姻的维系离不开夫妻双方彼此信任，信任是保持稳定亲密关系的基础。但仅仅信任是不够的，还需要有共同的兴趣爱好，两个人一起打发时间，体会生活的乐趣。因此，信任和共同兴趣爱好是婚姻稳定的必要因素。

根据上述文字，可以得出（ ）。

A. 彼此信任并且有共同兴趣爱好的夫妻一定能长久 B.

仅仅有共同兴趣爱好的婚姻关系肯定是不稳定的

C. 幸福长久的婚姻关系意味着双方大多拥有共同兴趣爱好

D. 建立在信任和共同兴趣爱好基础上的关系是最理想的婚姻关系

39. 研究人员选取16名11个月大的儿童开展实验研究，其中8个来自英语单语的家庭，另外8个来自讲西班牙语、英语的双语家庭，每个儿童都会听一段长约18分钟的音频，其中既有英语发音，也有西班牙语发音。研究者借助脑磁图描记术发现，在大脑的执行区域中，双语家庭长大的儿童对语言声音的刺

激反应要比单语家庭的儿童更为强烈。这说明，双语环境很早就已开始对大脑活跃性产生影响。以下哪项如果为真，最能支持上述结论？（ ）

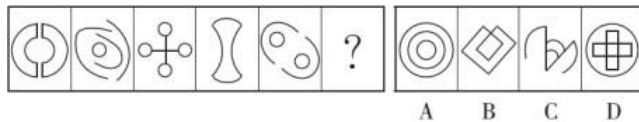
- A. 相比而言，西班牙语对大脑的声音刺激比英语更为明显
- B. 双语家庭长大的孩子无须父母刻意教就能熟练掌握双语
- C. 双语家庭儿童在11月大时对外语声音的感知较6个月大时明显强化
- D. 此前人类大脑研究显示，具备双语能力的成年人脑执行功能更为活跃

40. 最新研究发现，狼和狗的关键性区别，是食用人类食物这一特点。经过几个世纪，食用人类食物导致了狗具备消化淀粉的基因，它们因此能依靠人类剩余的饭菜繁衍下来，并最终被驯化，即在形态、生理功能、行为习惯、对人类的态度等方面都发生大幅度的变化，成为家畜。

以下哪项为真，不能质疑上述说法？（ ）

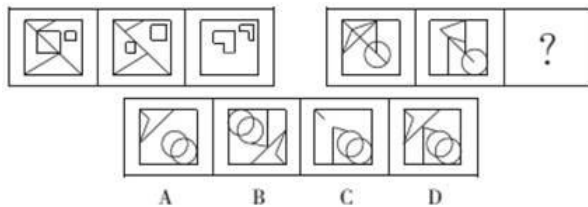
- A. 如果人们在野外捕捉了狼的幼崽，并对它们进行驯化，时间长了小狼的行为也会发生变化，并且会和人类亲近
- B. 长期的野外观察表明，当狼群缺少可猎食的动物时也会挖掘植物的块茎充饥
- C. 在牧区许多牧羊犬和其主人一样以肉食为主，并不吃淀粉类食物，并且世代如此
- D. 狗从农业社会开始食用人类的饭菜，因此狗比狼对人类更友好，更愿意在人类定居点的周围徘徊

41. 从所给的四个选项中，选择最合适的一个填入问号处，使之呈现一定的规律性。



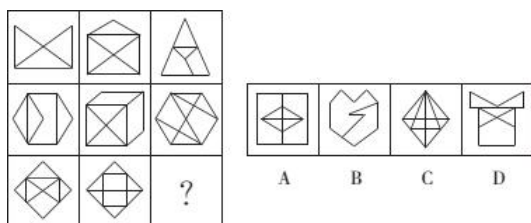
- A. A
- B. B
- C. C
- D. D

42. 下列选项中，符合所给图形的变化规律的是（ ）。



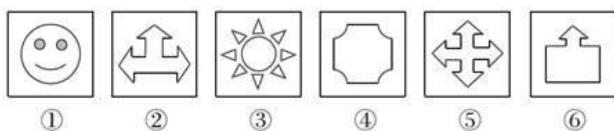
- A. A
- B. B
- C. C
- D. D

43. 从所给的四个选项中，选择最合适的一个填入问号处，使之呈现一定的规律性。



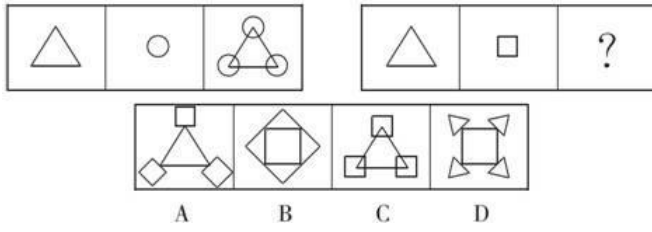
- A. A
- B. B
- C. C
- D. D

44. 把下面的六个图形分为两类，使每一类图形都有各自的共同特征或规律，分类正确的一项是（ ）。



- A. ①②⑤, ③④⑥ B. ①②⑥, ③④⑤ C. ①④⑤, ②③⑥ D. ①⑤⑥, ②③④

45. 从所给的四个选项中, 选择最合适的一个填入问号处, 使之呈现一定的规律性。



- A. A B. B C. C D. D

四、常识判断

46. 下列哪项不属于非战争军事行动? ()

- A. 反恐维稳 B. 安保警戒
C. 国际援助 D. 防空反导

47. 现代化工业社会过多燃烧煤炭、石油和天然气等化石资源, 使自然界更多(更强)地产生灾害性天气(气候)现象, 包括有()。

①雾霾 ②极光 ③温室效应 ④龙卷风 ⑤酸雨 ⑥冰雹

- A. ②③④ B. ①④⑥ C. ①④⑤ D. ①③⑤

48. 下列诗句与描写的景点对应正确的是()。

- A. 会当凌绝顶, 一览众山小——安徽黄山
B. 水光潋滟晴方好, 山色空蒙雨亦奇——杭州西湖
C. 二十四桥明月夜, 玉人何处教吹箫——北京昆明湖
D. 飞流直下三千尺, 疑是银河落九天——贵州黄果树瀑布

49. 发展为了人民、发展依靠人民、发展成果由人民共享, 这是中国推进改革开放和社会主义现代化建设的根本目的。这段话体现的哲学原理是()。

- A. 共享是社会主义核心价值观 B. 发展是现代化建设的目的
C. 改革是社会发展的动力 D. 群众是社会历史发展的主体

50. 下列国家中, 不是实行总统共和制的是()。

- A. 巴西 B. 美国 C. 埃及 D. 德国

51. 蔡元培先生曾经撰联挽某人曰: “为地方兴教育诸业, 继起有人, 岂惟孝子慈孙, 尤属望南通后进; 以文学名光宣两期, 日记若在, 用裨征文考献, 当不让常熟遗篇。”该挽联所悼念之人的主要历史贡献是()。

- A. 领导革命, 倡导民主共和 B. 热心洋务, 主张中体西用
C. 兴办实业, 投身实业救国 D. 思想解放, 宣传民主科学

52. 圆周率是一个在数学及物理学领域普遍存在的数学常数。它被定义为圆形之周长与直径之比, 是精确计算圆周长、圆面积、球体积等几何形状的关键值。世界上最早计算圆周率数值的是()。

- A. 中国数学家祖冲之 B. 中国数学家刘徽 C. 印度数学家阿耶波多 D. 古希腊数学家阿基米德

53. 下列关于我国京剧的表述中, 不正确的是()。

A. 京剧已列入人类非物质文化遗产代表作名录B.

京剧中一般用黑色脸谱来表示忠勇侠义

C. 京剧“四大名旦”是指梅兰芳、程砚秋、尚小云和荀慧生 D.

唱、念、做、打是京剧表演的四种艺术手法

54. 1710年到1760年，英国大量从中国进口茶叶等特产，在此期间，英国为此向中国支付了大量白银，该国的白银几乎耗尽。而当时英国的产品在中国几乎无人知晓。上述现象说明当时（ ）。

A. 英国的生产力远落后于中国

B. 英中贸易对英国而言贸易逆差显著

C. 英国对中国有明显经济优势

D. 中国成为英国原料产地和商品市场

55. 2013年11月18日国家主席习近平在会见美国前总统克林顿时指出，中美两国正在共同致力于中美“新型大国关系”。下列对于中美两国关系发展历程中的历史事件，时间排序正确的是（ ）。

①签订《中美贸易关系协定》②尼克松访华③中美联合发表“八一七公报” ④乒乓外交

A. ④③②①

B. ③①④②

C. ④②①③

D. ④②③①

五、资料分析

下面是某省的对外贸易进出口总额的部分数据资料。

2011~2015年全省进出口总额



指标	1~12月	
	绝对量(万美元)	增速(%)
海关进出口总值	1844246	-2.3
出口总值	420568	-8.8
国有企业	98058	-20.2
外商投资企业	134248	-4.0
集体企业	1395	-12.1
私营企业	185970	-5.1
进口总值	1423678	-0.2
国有企业	447697	0.3
外商投资企业	799532	0.4
集体企业	5372	46.5
私营企业	159282	-4.5

56. 以下各项中，该省净进口贸易总额数值最小的年份是（ ）。

A. 2015

B. 2011

C. 2012

D. 2014

57. 根据图表，该省出口额占进出口贸易总额的比重最大的年份是（ ）。

A. 2013

B. 2016

C. 2015

D. 2014

58. 下列企业中，2016年该省海关进出口差额最大的是（ ）。

A. 国有企业

B. 私营企业

C. 集体企业

D. 外商投资企业

59. 2016年该省外商投资企业进出口总值占海关进出口总值的比重约为（ ）。

- A. 53.21% B. 51.17% C. 50.63% D. 49.07%

60. 根据材料，以下说法错误的一项是（ ）。

- A. 2011~2015年，该省的进出口贸易总额的变化趋势是先增后减
 B. 2016年该省私营企业出口总值增速最快
 C. 2012年该省的进口额净增长大于2015年该省的进口额净增长
 D. 2015年该省进口额的同比增长率为-30.66%

2012年全年货物进出口总额38668亿美元，比上年增长6.2%。其中，出口20489亿美元，增长7.9%；进口18178亿美元，增长4.3%。

2012年主要商品进口数量、金额及其增长速度

商品名称	数量(万吨)	比上年增长(%)	金额(亿美元)	比上年增长(%)
谷物及谷物粉	1398	156.7	48	134.2
大豆	5838	11.2	350	17.6
食用植物油	845	28.7	97	25.6
铁矿砂及其精矿	74355	8.4	956	-15.0
氧化铝	502	165.1	18	133.3
煤(包括褐煤)	28851	29.8	287	20.2
原油	27102	6.8	2207	12.1
成品油	3982	-1.9	330	0.6
初级形状的塑料	2370	2.9	462	-2.2
纸浆	1646	14.0	110	-7.5
钢材	1366	-12.3	178	-17.5
未锻造的铜及铜材	465	14.1	386	4.9

2012年我国对主要国家和地区货物进出口额及其增长速度(单位:亿美元)

国家和地区	出口额	比上年增长(%)	进口额	比上年增长(%)
美国	3518	8.4	1329	8.8
欧盟	3340	-6.2	2121	0.4
中国香港	3235	20.7	180	15.9
东盟	2043	20.1	1958	1.5
日本	1516	2.3	1778	-8.6
韩国	877	5.7	1686	3.7
印度	477	-5.7	188	-19.6
俄罗斯	441	13.2	441	9.2
中国台湾	368	4.8	1322	5.8

61. 表中2012年进口数量最高的商品，其当年进口额占全国进口总额的比重为（ ）。

- A. 2% B. 5% C. 8% D. 12%

62. 2012年我国主要商品的进口数量和金额都比去年增长的有（ ）种。

- A. 5 B. 6 C. 7 D. 8

63. 2012年间我国的贸易顺逆差关系与上年不同的国家或者地区的是（ ）。

- A. 东盟 B. 日本 C. 美国 D. 欧盟

64. 表中2012年对华进出口贸易额最高的国家或者地区，其贸易额是表中2012年对华贸易额最低的国家或地区的（ ）倍。

- A. 5.5 B. 7.3 C. 8.2 D. 12.8

65. 能够从上述资料推出的是（ ）。

- A. 2012年我国全年货物进出口顺差额低于上年水平
 B. 2011年我国煤(包括褐煤)进口量高于原油进口量
 C. 2012年日本对华货物贸易额高于上年水平

D. 2012年我国进口钢材的平均每吨价格超过1000美元