

展鸿 2021 年浙江省事业单位统考笔试试卷

《职测》模拟卷（三）参考答案及解析

1. 【答案】C。解析：“捆绑”“妨碍”无法与“打破”搭配，排除 A、B 项；根据语意可知，此处表达的是户籍对于人才流动是一种阻力，显然“阻碍”最贴切，排除 D 项。故本题选 C。

2. 【答案】C。解析：先看第二空，根据后文“而且不从属于任何环境”可知，他们不受到时间和空间的束缚，“超越”和“超出”更合适，排除 A、B 项；再看第一空，“对于……的直觉”是惯用搭配，排除 D 项。故本题选 C。

3. 【答案】B。解析：“坚持不懈”指坚持到底，一点不松懈；“锲而不舍”比喻有恒心，有毅力，与“坚持不懈”意义相近。“坚持不渝”指坚守约章或诺言，决不改变，强调诺言；“坚韧不拔”形容意志坚定，不可动摇，强调不动摇；“坚贞不屈”指意志坚定，决不屈服，强调不屈服。A、C、D 三项均不能替换。故本题选 B。

4. 【答案】D。解析：“伊斯兰国”武装被清除后并不是逃跑，A、B、C 三项均含有逃跑的意思，不符合语境，均排除。“流窜”指到处乱跑，符合语境。故本题选 D。

5. 【答案】A。解析：先看第二空，文段提到“网络领域里热闹不断”，“参差错落”形容事物错综复杂地交织在一起，“良莠不齐”比喻好的与坏的混杂在一起，皆无法形容网络观点热闹非凡的景象，排除 B、D 项。再看第一空，“挟持”后面通常衔接宾语，排除 C 项。验证 A 项，“裹挟”指（形势、潮流等）把人卷进去，迫使其采取某种态度，“层出不穷”指接连不断地出现，没有穷尽，二者均符合语义。故本题选 A。

6. 【答案】B。解析：B 项“整座大楼漆黑一片”和“余老师的房间灯火通明”有矛盾，存在语病。故本题选 B。

7. 【答案】C。解析：A 项“狭缢”的正确写法是“狭隘”；B 项“会晤”的正确写法是“会晤”；D 项“原气大伤”的正确写法是“元气大伤”。故本题选 C。

8. 【答案】A。解析：③中出现了指代词“此”，不适合做首句，排除 C 项；因为青春期的孩子注重隐私，所以父母查看其手机会触及孩子的心理逆鳞，因此⑤应紧接④之后，排除 B、D 项。验证 A 项，符合语句逻辑。故本题选 A。

9. 【答案】B。解析：文段首先讲的是知识分子遇到灾难之初的表现，然后说他们渡过关口后的表现，从而导致其他流放者态度的改变，接下来最可能谈论的是流放知识分子面对灾难之后具体的精神变化和表现，B 项当选。故本题选 B。

10. 【答案】C。解析：根据主语一致原则可知，“他们”指的是前文的“在日华人”。故本题选 C。

11. 【答案】B。解析：文段末句提及相亲成功也有其弊端，而相亲失败更是一场灾难，可知该青年作家对于相亲这种婚恋模式的态度是否定的。故本题选 B。

12. 【答案】A。解析：文段最后一句引出新的话题“注意事项”，因此接下来应该围绕此话题进行论述，A 项符合。故本题选 A。

13. 【答案】C。解析：文段为分-总结构，末句为中心句，即女性想在社会上做点事情，要克服传统性别文化的羁绊，C 项最符合。A 项说法过于绝对，B 项文段未提及，D 项不是意图项。故本题选 C。

14. 【答案】C。解析：文段首句提出观点，即应该倾听用人单位诉求，C 项正确。A 项文段未提及且说法过于绝对，B 项脱离“企业”这个论述主体，D 项“共同努力”文段未涉及。故本题选 C。

15. 【答案】D。解析：A 项说法过于绝对，排除；B、C 项文段均未提及，排除；由“两党选民基础的分野，暴露了美国社会分裂的深度”可知，D 项正确。故本题选 D。

16. 【答案】C。解析：将原数列进行反约分得到： $\frac{1}{3}$ 、 $\frac{3}{6}$ 、 $\frac{5}{9}$ 、 $\frac{7}{12}$ 、 $\frac{9}{15}$ ，其中，分子列 1、3、5、7、9、(11)，是公差为 2 的等差数列；分母列 3、6、9、12、15、(18)，是公差为 3 的等差数列。因此原数列未知项为 $\frac{11}{18}$ 。故本题选 C。

17. 【答案】D。解析：原数列各项十位数依次为 6、5、4、3、(2)。观察选项，只有 D 项符合。故本题选 D。

18. 【答案】D。解析：原数列奇数项：3、3、6、18、72，后项除以前项得到：1、2、3、4，为等差数列；偶数项：1、2、9、64，写成幂次形式： 1^0 、 2^1 、 3^2 、 4^3 、(5^4)，底数和指数分别为等差数列。因此原数列未知项为 $5^4=625$ 。故本题选 D。

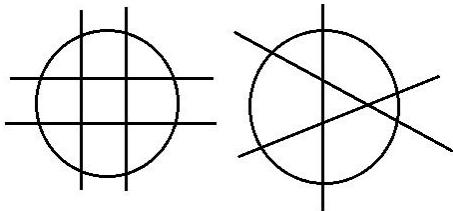
19. 【答案】D。解析：题干满足如下规律：左上角数字+右上角数字=右下角数字÷左下角数字，即 $3+4=7=14\div 2$ ， $2+5=7=21\div 3$ ， $3+6=9=27\div 3$ 。因此问号处数字为 $36\div (2+7)=4$ 。故本题选 D。

20. 【答案】D。解析：题干满足如下规律：左上角数字-右下角数字=右上角数字×左下角数字，即 $9-1=8=4\times 2$ ， $10-4=6=3\times 2$ ， $14-2=12=4\times 3$ 。因此问号处数字为 $7\times 2+1=15$ 。故本题选 D。

21. 【答案】B。解析：基本相遇问题。货车速度为 70 千米/小时，则客车速度为 50 千米/小时。根据题意可知，两车经过 $1200\div (70+50)=10$ 小时相遇。故本题选 B。

22. 【答案】A。解析：设 2017 年甲、乙、丙的年龄分别为 x 岁、y 岁、z 岁，列方程组有① $x+y+z=78$ ，② $x-4=2\times (y-4)$ ，③ $x+2+z+2=3(y+2)$ ，解得 $z=25$ 。故本题选 A。

23. 【答案】D。解析：如下图所示。方法一：先沿水平方向切 1 刀分 2 层，然后再沿垂直方向按“井”字型切 4 刀，蛋糕共切成 $2\times 9=18$ 块。方法二：先沿水平方向切 2 刀分 3 层，然后再沿垂直方向切 3 刀，蛋糕共切成 $3\times 7=21$ 块。故本题选 D。

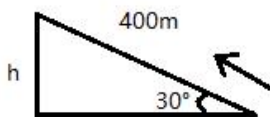


24. 【答案】C。解析：设调整前临时停车位为 x 个，固定停车位有 $(100-x)$ 个。根据题意可知， $20\%x-5\%\times (100-x)=5$ ，解得 $x=40$ 。因此，调整后临时停车位为 $40\times (1+20\%)=48$ 个。故本题选 C。

25. 【答案】C。解析：根据题意可知，甲品牌牙膏 $90\div 120=0.75$ 角/克，乙品牌牙膏 $112\div 160=0.7$ 角/克。因此乙品牌牙膏便宜，价格为 0.7 角/克。故本题选 C。

26. 【答案】A。解析：根据题意可知，有以下两种情况：(1) 甲安排在星期六值班 1 天，再从星期二至星期五中任选 1 天值班，则乙从剩余的 4 天中任选 2 天值班，则值班方案有 $C_4^1\times C_4^2=24$ 种；(2) 甲不安排在星期六，即在星期二至星期五中任选 2 天值班，乙再从星期一至星期五剩余的 3 天中任选 2 天，则值班方案有 $C_4^2\times C_3^2=18$ 种。综上，题干所求为 $24+18=42$ 种。故本题选 A。

27. 【答案】A。解析：如下图所示， $h=400\sin 30^\circ=200$ 米，即这座山高 200 米。故本题选 A。



28. 【答案】B。解析：设定额为 x 吨/月。根据题意可知， $3x+3\times (1+50\%)\times (15-x)=54$ ，解得

$x=9$ ，即房东给每个租户的用水定额是9吨/月。故本题选B。

29. 【答案】C。解析：浓度为40%和20%的盐水混合成浓度为30%的盐水，可知两溶液质量比应为1:1，即从甲烧杯中取出的盐水质量应为150g，则倒回的盐水质量为 $(150+150) \times \frac{2}{3}=200\text{g}$ ，甲烧杯中最终盐水的浓度为 $\frac{(450-150) \times 40\% + 200 \times 30\%}{(450-150) + 200} = 36\%$ 。故本题选C。

30. 【答案】A。解析：第一次翻转时，所有编号是4的倍数的卡片背面朝上，共有 $60 \div 4=15$ 张。第二次翻转时，所有编号是5的倍数的卡片背面朝上，共有 $60 \div 5=12$ 张，其中编号同时是4和5的倍数的卡片被翻转两次，正面朝上，有 $60 \div 20=3$ 张。第三次翻转时，所有编号是6的倍数的卡片背面朝上，共有 $60 \div 6=10$ 张，其中编号同时是4和6的倍数的卡片被翻转两次，正面朝上，有 $60 \div 12=5$ 张；同理可得，编号同时是5和6的倍数的卡片有 $60 \div 30=2$ 张，正面朝上，编号同时是4、5和6的倍数的卡片有 $60 \div 60=1$ 张，背面朝上。因此翻转结束后，一共有 $15 + (12-3) + (10-5-2+1) = 28$ 张卡片被翻转过，其中 $(3-1) + (2-1) + (5-1) = 7$ 张卡片被翻转两次，仍为正面朝上，则背面朝上的有 $28-7=21$ 张。故本题选A。

31. 【答案】C。解析：“勤勤恳恳”与“兢兢业业”为近义关系，C项“吞吞吐吐”与“支支吾吾”也为近义关系。A项“沸沸扬扬”形容人声喧闹，“浩浩荡荡”形容事物的广阔壮大，或前进的人流声势浩大；B项“恍恍惚惚”指神志不清、迷惘的状态，“红红火火”形容旺盛或经济优裕的生活；D项“庸庸碌碌”指平凡无奇，“浑浑噩噩”形容糊里糊涂，愚昧无知。A、B、D项均不是近义关系，排除。故本题选C。

32. 【答案】B。解析：大数据可应用于医疗和金融领域，医疗和金融均属于一种行业，为并列关系；B项计算机可应用于航天和物流领域，航天和物流均属于一种行业，为并列关系。故本题选B。

33. 【答案】A。解析：左右为难描述的是一种矛盾的心理，忐忑不安描述的是一种胆怯的心理。故本题选A。

34. 【答案】D。解析：《三国演义》的作者是元末明初的罗贯中，D项《资治通鉴》的作者是北宋的司马光。《红楼梦》的作者是清代的曹雪芹，《水浒传》的作者是元末明初的施耐庵，《西游记》的作者是明代的吴承恩。故本题选D。

35. 【答案】C。解析：选项逐一代入。A项，蜂蜜是蜜蜂酿制的，苦涩是一种味道，前后关系不一致，排除。B项，花是蜂蜜的来源，青苹果是苦涩的，前后关系不一致，排除。C项，蜂蜜是甘甜的，黄连是苦涩的，前后关系一致。D项，有的蜂蜜是透明的，蔗糖和苦涩无明显联系，排除。故本题选C。

36. 【答案】D。解析：题干论点：运动对减重并没有太大帮助，在减重这件事上，管住嘴比迈开腿更重要。A、C项仅涉及运动对热量消耗的情况，未比较迈开腿与管住嘴对减重的作用，不能支持论点，排除。B项没有说明“动得多吃得少”“动得少吃得少”的结果，也未比较迈开腿与管住嘴对减重的作用，不能支持论点，排除。D项举例说明对减重，管住嘴比迈开腿更重要，最能支持论点。故本题选D。

37. 【答案】解析：第一个房前的牌子和第三个房前的牌子所写内容为矛盾关系，则必有一真一假，结合题干“只有一块牌子写的是真话”可知，第二个房前的牌子和第四个房前的牌子所写内容必然为假，因此第二个房子中有食物且第四个房子中没有床，D项正确。故本题选D。

38. 【答案】D。解析：题干论点：应把燃树发电作为削减二氧化碳排放的策略。论据：树木比煤、天然气更具有“碳中性”，砍树燃树所产生的二氧化碳将会被在原地再次生长的树木吸收。A项支持论据，不能质疑论点，排除。B项指出燃树发电可能加剧全球环境生态危机，未说明燃树发电是否能削减二氧化碳排放，不能质疑论点，排除。C项未明确“不相等”是释放的碳更多还是吸收的碳更多，不能质疑论点，排除。D项砍树燃树排放的碳，新树苗对其的吸收总是滞后于排放，无法削减二氧化碳排放，最能质疑论点。故本题选D。

39. 【答案】C。解析：题干论点：我们未见过外星智慧文明是因为外星智慧文明很少甚至不存在。

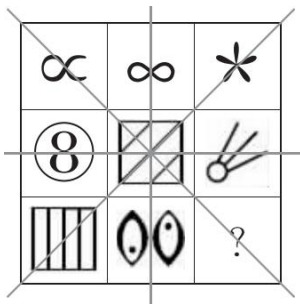
A项指出“只有地球上才能发展出文明”，支持论点，排除。B项说明外星智慧文明很可能还没有诞生，支持论点，排除。C项说明不是外星智慧文明很少甚至不存在，而是因为我们技术落后，因而发现不了他们的踪迹，不能支持论点。D项说明大多数外星智慧生命还未发展到文明阶段就已经毁灭，支持论点，排除。故本题选C。

40. 【答案】B。解析：根据题干仅可知自律的人都坚持运动，不能推出“所有坚持运动的人都自律”，排除A项。根据题干“很多人并不缺少健康常识，他们更多的是缺乏一种自律精神”可知有的缺乏自律精神的人不缺少健康常识，B项正确。题干最后一句可翻译为“坚守自律精神→一放纵自己”，C项“不坚守自律精神”否定前件，不能推出否定后件，排除。D项说法过于绝对，排除。故本题选B。

41. 【答案】D。解析：题干各图形的封闭空间数依次为2、1、2、3、4，外部图形的线条数依次为4、3、4、5、6，均相差2。观察选项，只有D项符合，封闭空间数为3，外部图形的线条数为5，两者相差2。故本题选D。

42. 【答案】C。解析：题干第一列图形均为仅轴对称图形，第二列均为仅中心对称图形，第三列均为仅轴对称图形，则问号处应为仅轴对称图形。观察选项，只有C项符合。故本题选C。

43. 【答案】A。解析：如下图所示，“米”字形每条线两端图形的封闭空间数之和均为4，即等于最中间图形的封闭空间数，则问号处图形的封闭空间数应为3，只有A项符合。故本题选A。



44. 【答案】C。解析：题干圆形、正方形顺时针依次移动一格，三角上下颠倒依次交替出现。观察选项，只有C项符合。故本题选C。

45. 【答案】D。解析：题干每行均包含横向、纵向、斜向3条对称轴。观察选项，只有D项符合。故本题选D。

46. 【答案】A。解析：中央军委授予祁发宝“卫国戍边英雄团长”荣誉称号，追授陈红军“卫国戍边英雄”荣誉称号，给陈祥榕、肖思远、王焯冉追记一等功。故本题选A。

47. 【答案】A。解析：过高浓度的酒精会在细菌表面形成一层保护膜，反而阻止酒精进入细菌体内，难以将细菌彻底杀死。A项说法错误。故本题选A。

48. 【答案】C。解析：题干诗句的意思是绿树葱郁阴影很浓夏日漫长，楼台的倒影映入了池塘。前半句描写树的阴影，涉及光的直线传播原理；后半句描写楼台的倒影涉及光的反射原理。故本题选C。

49. 【答案】D。解析：A项，《中共中央国务院关于实施乡村振兴战略的意见》是2018年中央一号文件。A项错误。B项，《中共中央 国务院关于坚持农业农村优先发展做好“三农”工作的若干意见》是2019年中央一号文件。B项错误。C项，《关于抓好“三农”领域重点工作确保如期实现全面小康的意见》是2020年中央一号文件。C项错误。D项，2021年2月21日，《中共中央 国务院关于全面推进乡村振兴加快农业农村现代化的意见》，即2021年中央一号文件正式发布。D项正确。故本题选D。

50. 【答案】D。解析：通过材料可知，姓氏有的来源于封国，有的来源于对于帝王及高官大臣死后的称呼，有的来源于所从事的职业。先秦时期，“王”地位最高，下有“公侯伯子男”五等爵位。因此，王、侯、公孙等姓氏应源自爵号。故本题选D。

51. 【答案】A。解析：打乒乓球时眼睛会随着快速运动的物体转动，起到调节、放松的作用，延缓老花、预防近视。故本题选A。

52. 【答案】A。解析：2021年中央一号文件指出，“十四五”时期各省(自治区、直辖市)要稳定粮食播种面积、提高单产水平。加强粮食生产功能区和重要农产品生产保护区建设。建设国家粮食安全产业带。故本题选A。

53. 【答案】B。解析：A项“天像盖笠，地法覆盆”是关于“盖天说”的表述，记载于《周髀算经》，大约成书于西汉时期；B项“秋七月，有星孛入于北斗”是古书《春秋》对于鲁文公十四年出现的彗星的记录，这也是关于哈雷彗星最早的记录；C项“如有地动，尊则振龙，机发吐丸，而蟾蜍衔之”是《后汉书·张衡传》中对于地动仪的描述，《后汉书》是记载东汉历史的纪传体史书；D项“住景二，说在重”是我国战国时期墨家的著作《墨经》中“光学八条”的内容。故本题选B。

54. 【答案】A。解析：撰写决定、讲话稿时，一般采用的表达方式是议论。故本题选A。

55. 【答案】A。解析：科举考试在明朝期间形成了完备的制度，共分四级：院试(即童生试)、乡试、会试和殿试，考试内容基本是儒家经义，以“四书”文句为题，规定文章格式为八股文，解释必须以朱熹《四书集注》为准。故本题选A。

56. 【答案】C。解析：自主创新属于内因，发展科学技术必须依靠自主创新，即内因是事物发展的根据。故本题选C。

57. 【答案】C。解析：泰罗提出管理职能细化，并实行“职能工长制”，C项正确。韦伯作为组织管理学派的代表人物，在其《社会和经济组织的理论》中提出了现代行政体系的基本原则；法约尔在《工业管理与一般管理》中认为管理职能可以划分为计划、组织、指挥、协调和控制五项基本职能；德鲁克是经验学派的代表人物。故本题选C。

58. 【答案】B。解析：题干诗句出自杜甫的《蜀相》，表达了诗人对蜀汉丞相诸葛亮雄才大略、辅佐两朝、忠心报国的称颂以及对他出师未捷而身死的惋惜之情。故本题选B。

59. 【答案】C。解析：孙中山领导发起辛亥革命，而辛亥革命开创了完全意义上的近代民族民主革命，推翻了统治中国几千年的君主专制制度，建立起共和政体，传播了民主共和理念。故本题选C。

60. 【答案】A。解析：国家经济实力的大小，通过以下方面衡量：国民收入和国民生产总值；国家财政收入和银行资金；扩大再生产投资；主要产品产量及其在世界的位次。B、C、D三项均属于衡量国家经济实力大小的依据，A项不属于。故本题选A。

61. 【答案】B。解析：根据材料第一段和比重变化公式 $\frac{N}{M} \times \frac{b\% - a\%}{1 + b\%} \times 100\%$ 可知，2018年除夕至初六中午12点，门票收入占总营业收入的比重与上年同期相比变化了 $\frac{1.6}{3.0} \times \frac{10.3\% - 16.9\%}{1 + 10.3\%} \times 100\% \approx \frac{1.5}{3} \times \frac{-0.07}{1.1} \times 100\% \approx -3.1\%$ ，即下降了3.1个百分点，B项与之最接近。故本题选B。

62. 【答案】B。解析：根据材料第二段可知，城市公园型景区接待游客数同比增量为 $\frac{426.9}{1 + 5.5\%} \times 5.5\%$ 万人，历史文化观光型景区为 $\frac{314.3}{1 + 15.9\%} \times 15.9\%$ 万人，现代娱乐型景区为 $\frac{209.8}{1 + 5.6\%} \times 5.6\%$ 万人，博物馆型景区为 $\frac{32.5}{1 + 14.6\%} \times 14.6\%$ 万人。城市公园型景区与现代娱乐型景区接待游客数相差较大，但同比增速相差不大，则城市公园型景区接待游客同比增量大于现代娱乐型景区，排除C项。历史文化观光型景区接待游客数远超过博物馆型景区，且二者同比增速相差不大，则历史文化观光型景区接待游客同比增量大于博物馆型景区，排除D项。最后比较城市公园型景区和历史文化观光型景区，分别为 $\frac{426.9}{1 + 5.5\%} \times 5.5\% \approx 22.26$ 万人， $\frac{314.3}{1 + 15.9\%} \times 15.9\% \approx 43.12$ 万人，因此历史文化观光型景区接待游客数同比增量最大。故

本题选 B。

63. 【答案】A。解析：根据材料第二段可知，2018 年除夕至初六中午 12 点，自然山水型景区接待人数为 28.14 万人，同比下降 20.0%，则 2017 年除夕至初六中午 12 点，自然山水型景区接待人数为 $\frac{28.14}{1-20\%} \approx \frac{28}{0.8} = 35$ 万人，A 项与之最接近。故本题选 A。

64. 【答案】D。解析：根据材料第三段可知，2018 年春节假日累计接待人数排行前五位的景区分别是什刹海风景区、前门大街、地坛公园、龙潭公园以及故宫博物院，其中，故宫博物院接待人数同比增长 10.2%，地坛公园接待人数同比增长 10.7%，龙潭公园接待人数同比增长 11.3%，前门大街接待人数同比增长 1.8%，因此同比增速最小的是前门大街。故本题选 D。

65. 【答案】C。解析：A 项正确，根据材料第一段可知，2018 年除夕至初六中午 12 点，北京市重点监测的 146 家旅游景区累计接待游客 1064.8 万人次，平均每家接待游客 $\frac{1064.8}{146} \approx 7.3$ 万人次。B 项正

确，根据材料第二段可知，2017 年除夕至初六中午 12 点，滑雪场景区接待游客数为 $\frac{9.88}{1+15.4\%}$ 万人，奥

运遗产型景区为 $\frac{5.4}{1+7.6\%}$ 万人， $\frac{5.4}{1+7.6\%} \times 2 = \frac{10.8}{1+7.6\%} > \frac{9.88}{1+15.4\%}$ ，即滑雪场景区接待游客数小于奥运遗产型景区的 2 倍。C 项错误，材料只给出 2018 年接待人数，并没有给出同比增速，不可得知 2017 年相关数据。D 项正确，根据材料最后一段可知，2018 年除夕至初六中午 12 点，民俗游中平均每位游客消费 $\frac{10164.1}{104.8} < 100$ 元。故本题选 C。

66. 【答案】B。解析：根据文字材料第一段“2016 年，M 市“四大产业集群”共完成行业产值……同比增长 4.8%，高于属地产值增速 9.2 个百分点”，可知 2016 年 M 市属地产值的同比增速为 4.8%-9.2%=-4.4%。故本题选 B。

67. 【答案】B。解析：材料无从得知 2015 年 M 市属地产值同比增长，①不符合题意；根据表格可知，2016 年 M 市集成电路及物联网产业产值同比增长为-0.7%，呈现负增长，②符合题意；根据表格可知，2016 年 M 市智能制造及机器人产业产值同比增长为 2.6%，呈现正增长，③不符合题意；根据文字材料第二段“战略性新兴产业……全年其完成产值……同比下降 1.9%”，可知 2016 年 M 市战略性新兴产业产值同比增长-1.9%，呈现负增长，④符合题意。综上，可判断同比增长呈现负增长的有②④，共 2 个。故本题选 B。

68. 【答案】B。解析：根据文字材料第一段“2016 年，M 市‘四大产业集群’共完成行业产值 153.36 亿元”和表格可知，新能源汽车及汽车智能化产业产值为 32.41 亿元，高性能医疗设备及精准医疗产业产值为 18.59 亿元，则前者所占比重比后者多 $\frac{32.41-18.59}{153.36} = \frac{13.82}{153.36} \approx \frac{14}{150} \approx 9\%$ 。故本题选 B。

69. 【答案】D。解析：根据图可知，累计产值最高的产业是电子信息，同比增长率为-4.7%；累计产值最低的产业是新能源，同比增长率为 34.6%，则两者相差 34.6%-(-4.7%)=39.3%。故本题选 D。

70. 【答案】D。解析：根据文字材料第二段“战略性新兴产业以往一直是 M 市工业的重要增长点，全年其完成产值 643.7 亿元，占属地产值的 21.2%”，可知 2016 年 M 市属地产值为 $643.7 \div 21.2\% > 3000$ 亿元，A 项错误。根据文字材料和图可知，2016 年 M 市战略性新兴产业产值 643.7 亿元，新能源汽车产业产值所占比重为 26.1%，则其产值为 $643.7 \times 26.1\% > 650 \times 20\% = 130$ 亿元，B 项错误。根据折线图可知，2016 年 M 市战略性新兴产业中节能环保产业的产值同比增长-22.5%，C 项错误。根据折线图可知，2016 年 M 市战略性新兴产业中新材料产业的产值同比增长为 0，则其产值与去年基本持平，D 项正确。故本题选 D。