

展鸿教育

职测模拟卷



扫描添加陈老师微信

领取海量电子资料

展鸿事业单位招聘笔试试卷

《职业能力倾向测验》模拟卷（一）

说 明

这项测验共有五个部分，100 道题，时限 90 分钟。各部分不分别计时，但都给出了参考时限，供你参考以分配时间。

请在题本和答题卡上严格按照要求填写自己的姓名、涂写准考证号。

请仔细阅读下面的注意事项，这对你获得成功非常重要。

1. 题目应在答题卡上作答，在这份题本上作答无效。
2. 你可以在此题本的空隙处打草稿。
3. 监考人员宣布考试开始后，你才可以开始答题。
4. 监考人员宣布考试结束时，你应立即放下铅笔，停止答题。
5. 考试结束后，当你将题本、答题卡交给监考人员时，请让监考人员在你的准考证上签名，以证明你确已将题本和答题卡交给监考人员。否则，若题本、答题卡遗失，由你承担责任。监考人员签名后，你可离开考场。
6. 在这项测验中，可能有一些试题较难，因此你不要在一道题上思考时间太久，遇到不会答的题目，可先跳过去，待答完了那些容易的题目后，如果有时间再去思考。否则，你可能没有时间去答后面更容

易的题目。试题答错不倒扣分。

7. **特别提醒你注意，填涂答案时一定要认准题号。严禁折叠答题卡！**

第一部分 言语理解与表达

(共 25 题，参考时限 20 分钟)

本部分主要考查考生对语言文字的理解和驾驭能力。这种能力包括：对词、句子、短文一般意思和特定意义的理解；对比较复杂的概念和观点的准确理解；根据上下文，合理推断句子隐含的内容，准确地辨明句义，筛选信息等等。

请开始答题：

1. 当一个社会总有一部分自命为“精英”的人，习惯把炫耀视为生活品质，改变就会变得异常艰难。这首先是一种不正确的荣辱观_____，搞不清或者干脆无视民众的情绪，一再_____公众的道德底线，甚至还把挑衅当成与众不同。他们生活在自己的狭窄世界里，却以为在引领潮流。

填入划横线部分最恰当的一项是（ ）。

- A. 作怪 挑战 B. 使然 打击 C. 导致 冲击 D. 作祟 触犯

2. 随着收入水平的提高，人们的消费心态也随之发生改变，个性化消费需求显著提高。互联网时代，商家可以利用消费数据的积累分析出商品的市场反响情况，对消费者_____，实现更精准的营销策略。

填入划横线部分最恰当的一项是（ ）。

- A. 一视同仁 B. 有的放矢 C. 无微不至 D. 予取予求

3. 只要观察一下语言的变迁史，就会发现，语言体系一直具有强悍的自我_____机制，会以一种温和的集体_____模式，淘汰那些失效的语词。这意味着语言会利用时间效应来进行自我筛选和自我净化，只有数量很少的新语词能够穿越这种“时间筛子”，成为上一历史时段的“舌尖遗产”。

填入划横线部分最恰当的一项是（ ）。

- A. 更新 清洁 B. 完善 舍弃 C. 过滤 遗忘 D. 修正 扫除

4. 在各种兼并方式中，如果两个公司实力悬殊，则多半是强势的一方直接收购弱势的一方。出钱多、实力雄厚的一方，最终还是会要求自己说了算，而实力较弱的一方虽然在名分上得到了“平等”二字，但大多也都知道自己需要_____。

填入划横线部分最恰当的一项是（ ）。

- A. 循规蹈矩 B. 安分守己 C. 亦步亦趋 D. 安步当车

5. 有人用“天价”片酬导致行业畸形来批判“天价”片酬，然而实际上“天价”片酬与行业畸形是恶性循环，互为因果的关系，因为现有的行业的畸形，才导致对明星效应的依赖，一线明星_____，片酬自然_____。

填入划横线部分最恰当的一项是（ ）。

- A. 席珍待聘 坐地起价 B. 囤积居奇 随行就市
C. 奇货可居 水涨船高 D. 待价而沽 居高不下

6. 政府部门应该在社区治理中鼓励社区自治。假如政府部门在这过程中_____，没有处理好社区自治和政府管理的关系，那么，最终所作出的决策就很可能引发社会矛盾。

填入划横线部分最恰当的一项是（ ）。

- A. 李代桃僵 B. 萧规曹随 C. 越俎代庖 D. 广纳良言

7. 养老金制度的改革已经_____，路径之一是多元化的基金补充机制；其次是建立灵活的退休机制。应尽快实现城镇职工基础养老金的全国统筹，科学制定方案_____延迟退休政策，同时深入调整个人账户制度的管理模式，并进行实际的投资运营。

填入划横线部分最恰当的一项是（ ）。

- A. 刻不容缓 启动 B. 势在必行 推开
C. 风生水起 施行 D. 众望所归 开展

8. 印象主义画家莫奈致力于观察沐浴在光线中的自然景色，把握色彩的冷暖变化和相互作用，用看似_____实则准确的迅捷的手法，把_____的光色效果记录在画布上，留下各种瞬间的永恒图像。

填入划横线部分最恰当的一项是（ ）。

- A. 粗糙 转瞬即逝 B. 模糊 千变万化
C. 荒诞 五彩斑斓 D. 随意 变幻莫测

9. 能源、水和食品是这个世界上最关键的三种资源，尽管这一事实已在政策圈中达成共识，但这三种资源之间的_____关系却被严重忽视。其中任何一种资源的紧缺都会影响另外两种。这使得真实社会要比我们想象的_____得多。

填入划横线部分最恰当的一项是（ ）。

- A. 互补 复杂 B. 交互 恶劣 C. 共生 困难 D. 依赖 脆弱

10. 晚明江南的富裕，提供了附庸风雅的环境与条件，使得饮茶风尚引发了名牌效应。先是苏州虎丘茶风行，然后有大方和尚以虎丘制茶法在徽州松萝山制茶，造就了明末_____的松萝茶。一旦成了名牌，人们追求时尚，_____，商家就有了商机，争相仿制，价格也直线上升。

填入划横线部分最恰当的一项是（ ）。

- A. 如雷贯耳 一掷千金 B. 闻名遐迩 如影随形
C. 声名鹊起 趋之若鹜 D. 风靡一时 蜂拥而至

11. 下列词语中，加点字的读音正确的一项是（ ）。

- A. 滂（páng）沱 B. 押解（jiè） C. 徇私（xún） D. 碑帖（tiè）

12. 下列词语中，没有错别字的一项是（ ）。

- A. 病入膏盲 同舟共济 B. 戎马生涯 白璧微暇
C. 针贬时弊 不计其数 D. 风起云涌 峨冠博带

13. ①该卷长 525 厘米，宽 25.5 厘米，是北宋晚期张择端所画

②当时京师风俗，清明节日要出城上坟祭扫，同时也是群众性郊游的日子

③张择端，字正道，东武（今山东诸城）人，徽宗年间游学于京师

④这时四郊景色正好，东郊沿汴河一带游人尤其多，“上河”成为一时风尚

⑤《清明上河图》现藏于北京故宫博物院，全卷描绘清明节日前往汴河一带游览所见到的情景，十分细致而生动

⑥所谓“上河”，就是前往汴河游览的意思

将以上 6 个句子重新排列，语序正确的是（ ）。

A. ③⑤④⑥②①

B. ⑤①③②④⑥

C. ③②⑤⑥①④

D. ⑤②⑥④①③

14. ①随着人们生活水平的提高，珠宝的保值作用增强

②一般来说，珠宝有易保存、体积小、价值高的特点，可被人们制成项链、手链、戒指、耳环佩戴于身上作为装饰品，有一举两得的功效

③对于家庭来说，珠宝可以作为保值的奢侈消费品，作为投资并不可取

④国际上也重视以黄金作为保值并将其作为对付通货膨胀的有力武器之一

⑤但珠宝初始投资主要是制成品，价值已是高估，其增值潜力有待投资品种的验证

⑥珠宝广义上可分为宝石、玉石、珍珠、黄金等制品

将以上 6 个句子重新排列，语序正确的是（ ）。

A. ①②⑥⑤④③

B. ②③⑥①⑤④

C. ③①⑥④②⑤

D. ⑥②①④⑤③

15. 社会学家认为，在“医学化”的框架下，自 20 世纪以来，性，就一直是医学重点加以治疗和干预的范畴，而且被极其严重地“问题化”和“污名化”了。“医学化”的认知，必然带来医学的“矫正与治疗”，甚至会成为唯一的解决手段。然而，社会学家的批判，阻止不了性治疗产业的发展。除了受经济利益驱动外，在中国社会的性文化从工具理性走向全然的快乐主义的过程中，即使秉承“医不叩门”的准则，人们也会为更多个人化的性烦恼而主动寻求解决之道。

上述材料重在说明（ ）。

A. 社会学家关于“医学化”框架下的性治疗评判过于偏激

B. 中国社会的性文化已完成由工具理性向快乐主义的转型

C. “医学化”对性治疗的“矫正和治疗”秉承经济受益原则

D. 尽管“医学化”的性治疗存在诸多不足，但依然不可或缺

16. 在中国古代，商人的社会地位始终很低，唐代就严令禁止商人做官，甚至规定从商者不可与朝贤君子比肩而立、同坐而食。到了明代，朝廷虽然认同商贾“以通有无”是社会所需，但早期在商人衣冠上依然有严苛的规定。明中后期商品经济的发展促使从商者日众，这些圈住商贾的条条框框也逐渐失去往昔的效力。尽管如此，商人在日常用度上的自由也还是有限的，“吃”成了扬州富商可供选择的为数不多的斗富机会。于是，扬州富商一掷千金，在“吃”上无所不用其极。

这段文字接下来最可能说的是（ ）。

A. 扬州饮食发展的不同阶段

B. 扬州人爱吃重吃的深层原因

C. 商人社会地位的历史变迁

D. 扬州富商奢侈的“吃文化”

17. 随着东部沿海地区发展转型、产业转移，中西部地区经济崛起，重庆、湖南、四川等传统劳动力输出地，正迎来返乡创业的热潮。这些创业者中，既有返乡的农民工、企业管理者，也有大学生、公司职员等，他们怀着浓浓的乡情，抓住家乡发展的大好机遇，带着资金、技术以及先进的管理理念回乡打拼。在中西部的一些地方，返乡创业的企业数量和创造的产值，已占据县域经济的半壁江山。目前，这一趋势方兴未艾，它给中西部地区的城镇化、工业化带来了强劲的动力，也改变着中国的经济版图。

对这段文字理解不准确的是（ ）。

- A. 中西部返乡创业主要受益于东部的发展转型
- B. 返乡创业热潮主要出现在传统劳动力输出地
- C. 返乡创业成为推动中西部县域经济发展的动力
- D. 返乡创业已成为撬动中西部地区转型的新杠杆

18. ①每一类型的法制本身都经历适应社会发展或不适应社会发展的动态变化

②历史地看，奴隶制法、资本主义法、社会主义法因生产力的发展前后相继地依次更迭

③这种变化或表现为由盛入衰，或表现为弃旧扬新，没有永恒不变的法

④这一阶段的法制在总体上保持旧法体系的同时，不断地“部分变质”，增生着新法的因素，新类型法的因素不断增多

⑤在法的这种动态发展过程中，特别值得注意的是，法的“部分质变”贯穿于法的发展过程中，激励法的前承后继，不断完善

⑥在一种类型的法与取而代之的另一种类型的法之间，存在着一个为时漫长的过渡阶段

将以上 6 个句子重新排列，语序正确的是（ ）。

- A. ①③②⑤⑥④
- B. ②①③⑥④⑤
- C. ①②⑥④⑤③
- D. ②⑥①③④⑤

19. 无论在中国古代还是在古希腊，早在公元前若干世纪，已经有学者注意到不同地理环境对各人类群体的性情、心理和气质等所产生的不同影响。西方学术界自 18 世纪孟德斯鸠《论法的精神》出版以后，普遍重视社会历史发展过程中自然地理的重要作用，强调地理环境对人类文明类型和文化模式的重要影响。中国自 20 世纪初年节译出版《论法的精神》（译名为《万法公理》）后，学术界中以梁启超为首，广泛探讨“地理与文明之关系”，而“地理史观”也一时蔚然成风。

这段文字意在说明（ ）。

- A. “地理史观”的出现有其内在原因
- B. 学者普遍认为地理环境对文明影响深远
- C. 孟德斯鸠影响了人们对地理环境的认识
- D. 应该重视自然地理对社会发展的作用

20. 和西方同行一样，中国的一些科学家和企业家也对捕捞技术和设备的不断升级感到担忧：现代的捕捞效率将超过海洋的自我更新效率，最终导致全球渔业枯竭。虽然中国的海产品出产量很大，但海产品并未主宰人们的消费。中国人吃的鱼来自湖泊、河流、水库等淡水水体，不过，关于淡水污染的一些信息，让部分人因担心传统鱼类的食品安全问题而选择海产品。因此，要减少对海洋生物的过度捕捞，

填入划横线部分最恰当的一项是（ ）。

- A. 转变人们的饮食观念是首要问题
- B. 提高海产品的食品质量势在必行
- C. 应先恢复消费者对淡水渔场的信任
- D. 食品安全问题必须受到应有的重视

21. 半夜开车的时候遇到红灯，即使无人无车也不能通过，这是浪费资源，这是智能化带来的智能交通的红绿灯控制车流，而物联网将其变革成了车流量控制红绿灯，并已有现实的应用。通过智能安防的摄像机系统抓捕逃犯，这是智能化做到的事后追踪，而物联网却能做到事先预警，防范于未然。

这段文字意在说明（ ）。

- A. 智能化与物联网的区别
- B. 物联网上的信息可预测
- C. 智能化和物联网的功能
- D. 物联网是超越智能化的

22. 传续文明，首先是要保护先人留下的文化遗产，比如要保存好图书文献的各种版本。

_____。犹太文明的传承，就没有完全依赖物质遗产。传续文明，最核心的乃是传续先人的精神。

填入划横线部分最恰当的一项是（ ）。

- A. 但这并不是没有意外的
- B. 但这只是事情的一方面
- C. 但这不是完全可靠的
- D. 但这并不是最重要的

23. 明清鼎革之际，商品经济发展迅速，商贸流通日益增强，徽州商帮成为中国商界翘楚，积累了丰厚的财资。商人们遵循传统，发家后便返乡大兴土木，广修宗祠，遍设书院。同时，徽商“贾而好儒”的文化品质使他们追求生活的艺术品位，强调建筑的布局、结构、装饰要展现主人的涵养。此外，这一时期徽州本土的新安画派、徽州版画也颇为发达，对砖雕艺术具有深远影响。

上述材料旨在说明（ ）。

- A. 徽州商帮的理家方略
- B. 徽州商人的文化品质
- C. 徽商经营与绘画关系
- D. 徽州建筑发达的原因

24. 单看日渐升温的机器换人热潮，在目前劳动力供给偏紧的背景中，它对就业还未见明显的负面影响。而且，科技革命带来的产业深化、分工细化，还可能衍生出更多的就业机会。但是，那种决然否认机器换人和充分就业并不矛盾的说法未免过于乐观。在当下，从事重复性、常规性、高危性工作的员工，最有可能在人机竞争中先被淘汰出局。面对科技的更新，我们在结构改革中还不能轻易放弃有利于增加就业含量的传统制造业，还需要加快发展有利于吸纳就业人口的现代服务业。

这段文字意在强调（ ）。

- A. 发展传统制造业和现代服务业有利于就业
- B. 应该对日渐升温的机器换人热潮进行理性评估
- C. 科技更新可以为缓解当前的就业压力提供新思路
- D. 结构改革中应注意采取措施缓解机器对就业的冲击

25. 一段中国的箏箫古曲，多有雨声中的幽远；一幅中国的山水古画，多有雨声中的迷蒙。一大堆中国古代的哲学，其所谓“自足”“求诸己”“尽其在我”一类的命题，作为几千年文明的意旨内核和

情感基点，当然是事出有因。_____，它们也许都来自作者们在雨声中的独处。

填入划横线部分最恰当的一项是（ ）。

- A. 雨声会让人心中安宁静谧
 B. 这是中国文化独有的意趣
 C. 所谓情由境生和感由事发
 D. 就好像“小楼一夜听春雨”

※※※ 第一部分结束，请继续做第二部分！ ※※※

第二部分 数量关系

(共 25 题，参考时限 25 分钟)

本部分包括两种类型的试题：

一、数字推理：共 10 题。

1. 给你一个数列，但其中缺少一项，要求你仔细观察数列的排列规律，然后从四个选项中选出你认为最合理的一项来填补空缺项。

请开始答题：

26. 1 0 4 5 () 14

- A. 7
 B. 9
 C. 10
 D. 11

27. -1 3 -3 -3 -9 ()

- A. -9
 B. -4
 C. -14
 D. -45

28. 2 3 4 15 56 ()

- A. 285
 B. 235
 C. 245
 D. 225

29. 11 12 26 14 () 16

- A. 15
 B. 20
 C. 27
 D. 37

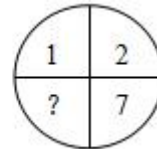
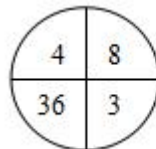
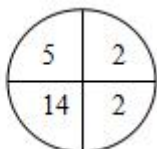
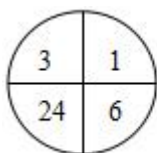
30. $\frac{1}{2}$ $\frac{5}{7}$ $\frac{4}{5}$ $\frac{11}{13}$ $\frac{7}{8}$ ()

- A. $\frac{15}{17}$
 B. $\frac{16}{17}$
 C. $\frac{17}{19}$
 D. $\frac{18}{19}$

2. 每题图形中的数字都包含一定的规律，请你总结前三个图形中数字的规律，从四个选项中选出你认为问号应该代表的数字。

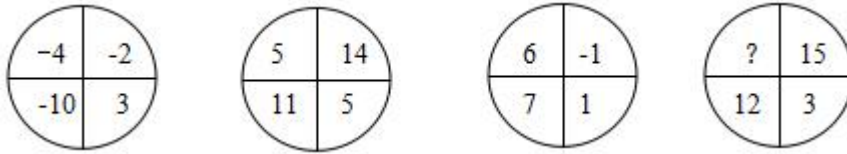
请开始答题：

31.



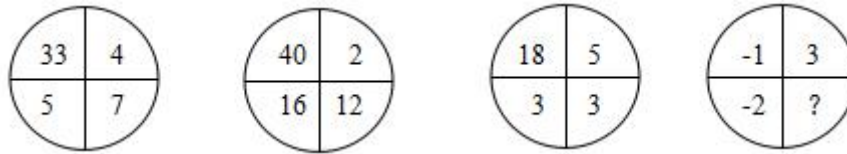
- A. 18 B. 19 C. 20 D. 21

32.



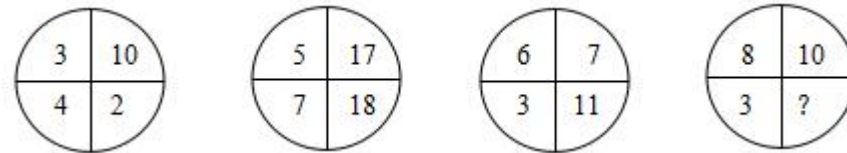
- A. 8 B. 9 C. 10 D. 11

33.



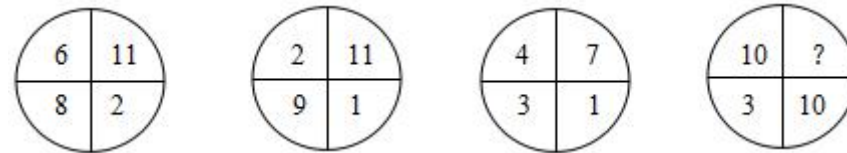
- A. $\frac{1}{3}$ B. $\frac{2}{3}$ C. $-\frac{1}{3}$ D. $-\frac{2}{3}$

34.



- A. 13 B. 14 C. 15 D. 16

35.



- A. 1 B. 2 C. 3 D. 4

二、数学运算：共 15 题。每道试题呈现一道算术式，或表述数字关系的一段文字，要求你迅速、准确地计算或论证出答案。

请开始答题：

36. 请问 539 能被多少个不同的自然数整除？（ ）

- A. 6 个 B. 8 个 C. 10 个 D. 12 个

37. 四个装药的瓶子都贴了标签，其中三个贴错了，那么，共有几种可能贴法？（ ）

- A. 6 种 B. 8 种 C. 12 种 D. 16 种

38. 某公司研发出了一款新产品，当每件新产品的售价为3000元时，恰好能售出15万件；新产品的售价每增加200元时，就要少售出1万件。如果该公司仅售出12万件新产品，那么该公司新产品的销售总额为（ ）。

- A. 4. 32亿元 B. 4. 46亿元 C. 4. 64亿元 D. 4. 72亿元

39. 甲、乙两条生产线同时接到羽毛球、网球两种球拍的生产任务。已知甲要生产的球拍总数和乙

相同，甲的网球拍生产任务是乙的 $\frac{1}{3}$ ，乙的羽毛球拍生产任务是甲的 $\frac{1}{4}$ ，如甲、乙工作效率相同，且单个羽毛球拍生产时间是网球拍的一半，问甲、乙完成任务用时之比为（ ）。

- A. 7:10 B. 10:7 C. 13:19 D. 19:13

40. 某人和同事去吃盖浇饭，一部分人点了每份 25 元的大份盖浇饭，其他人点了每份 18 元的小份盖浇饭，一共花了 183 元。若大份盖浇饭打 8 折的话，他们可以只花 168 元。请问他们一共多少人去吃盖浇饭？（ ）

- A. 8 人 B. 9 人 C. 10 人 D. 11 人

41. 两个人带着宠物狗玩游戏，两人相距 200 米，并以相同速度 1 米/秒相向而行，与此同时，宠物狗以 3 米/秒的速度，在两人之间折返跑，当两人相距 60 米时，宠物狗总共跑的距离为（ ）。

- A. 210 米 B. 240 米 C. 270 米 D. 300 米

42. 一个位于 0 点的雷达探测半径为 25 千米。某日该雷达探测到一辆车沿直线驶过探测区，行驶过程中途经距离雷达 20 千米外的 P 点。如该车在雷达探测区内行驶的距离为 X 千米，问 X 的最大值和最小值相差多少千米？（ ）

- A. 15 千米 B. 16 千米 C. 20 千米 D. 25 千米

43. 老张购进一批商品，共 20 件。销售时，每件合格的商品可以赚 50 元，不合格的商品一件亏损 20 元。他卖出的这 20 件商品中有几件是不合格的，那么卖出这批商品可能赚（ ）。

- A. 690 元 B. 720 元 C. 780 元 D. 850 元

44. 某检修工作由李和王二人负责，两人如一同工作 4 天，剩下工作量李需要 6 天，或王需要 3 天完成。现李和王共同工作了 5 天，则剩下的工作李单独检修还需几天完成？（ ）

- A. 2 天 B. 3 天 C. 4 天 D. 5 天

45. 现有 10 张形状完全相同的卡片，上面分别标有 1、2、3、4、5、6、7、8、9、10 的数字，从中任取两张卡片，其上两数字之积为 4 的倍数的概率为（ ）。

- A. $\frac{16}{45}$ B. $\frac{2}{5}$ C. $\frac{19}{45}$ D. $\frac{4}{9}$

46. 某统计部门对某地 1000 户居民的月均收入进行调查，调查结果如表所示。问下列关于被调查居民月均收入的算术平均数，表述正确的是（ ）。

月均收入区间 (X 元)	占比 (%)
$X < 2000$	20
$2000 \leq X < 4000$	25
$4000 \leq X < 7000$	54
$X \geq 7000$	1
合 计	100

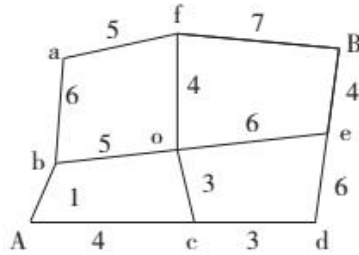
- A. 可能为 1500 元 B. 可能为 3000 元
 C. 不可能为 5000 元 D. 不可能为 12000 元

47. 蔬菜摊贩某日花费 x 元购进蔬菜，上午、下午、傍晚分别按进货单价的 150%、130%、120% 卖掉占总进货价值 50%、20%、25% 的蔬菜，并将剩下未卖的蔬菜送给养殖场。如摊位成本为 0.06x 元，则该摊贩

当日盈利为 ()。

- A. 0.2x元 B. 0.25x元 C. 0.3x元 D. 0.35x元

48. 小王从A地开车去往B地，下图是一张道路示意图，每段路上的数字表示两地之间的距离（单位：千米）。如果汽车百公里耗油量为10升，油价6.5元/升，问小王从A地去往B地至少要消耗价值多少元的燃油？ ()



- A. 9.5元 B. 10.4元 C. 12.3元 D. 13.1元

49. 某公司准备在年会过程中加入抽奖环节，中奖的员工可以每人得到一份价值 500 元的奖品，未中奖的员工也可以每人拿到一份价值 150 元的参与奖，最终保证 40 名员工都能拿到一份奖品。已知奖品的总预算为 8800 元，则有多少名员工能中奖？ ()

- A. 6 名 B. 7 名 C. 8 名 D. 9 名

50. 三个学校的志愿队分别去敬老院照顾老人，A 学校志愿队每隔 7 天去一次，B 学校志愿队每隔 9 天去一次，C 学校志愿队每隔 14 天去一次。三个队伍周三第一次同时去敬老院，问下次同时去敬老院是周几？ ()

- A. 周三 B. 周四 C. 周五 D. 周六

※※※ 第二部分结束，请继续做第三部分！ ※※※

第三部分 判断推理

(共 20 题，参考时限 20 分钟)

本部分包括三种类型的试题：

一、类比推理：共 8 题。先给出一对相关的词，要求你在备选答案中找出一对与之在逻辑关系上最贴近或相近的词。

请开始答题：

51. 报名：培训：结业

- A. 高考：招生：毕业 B. 设计：产品：使用
C. 驾驶：公路：旅行 D. 挂号：看病：痊愈

52. 净水：过滤

- A. 名次：竞赛 B. 房屋：装修

- C. 苗条：节食
 53. 上衣：领袖
 A. 兄弟：手足
 C. 身体：耳目
 54. U 盘：光盘
 A. 楼梯：电梯
 C. 国画：毛笔
 55. 作品：文学作品：摄影作品
 A. 人身权：姓名权：肖像权
 C. 科学：自然科学：经济学
 56. 分析 对于 () 相当于 消除 对于 ()
 A. 阐述 革除
 C. 解决 创新
 57. 处之泰然：镇定
 A. 大义凛然：壮烈
 C. 杳如黄鹤：消失
 58. 口试：笔试：招聘
 A. 摄影：购物：旅游
 C. 批发：零售：销售
 D. 环境：绿化
 B. 时间：岁月
 D. 动物：鹰犬
 B. 插头：插座
 D. 水杯：杯盖
 B. 糖果：棒棒糖：水果糖
 D. 面食：面条：重庆小面
 B. 差距 贫富
 D. 问题 弊端
 B. 虚怀若谷：谦虚
 D. 似水流年：时间
 B. 招标：中标：建设
 D. 出口：内销：商品

二、逻辑判断：共 7 题。每题给出一段陈述，这段陈述被假设是正确的，不容置疑的。要求你根据这段陈述，选择一个答案。注意，正确的答案应与所给的陈述相符合，不需要任何附加说明即可以从陈述中直接推出。

请开始答题：

59. 从 2002 年开始，我国的离婚率就一路走高。专家表示，我国离婚率上升的原因不能简单解释为社会风气不好，一方面与原来整体离婚率水平比较低有关；另一方面也与中国社会方方面面的变化以及舆论环境、社会观念变化有关。

以下哪项如果为真，最能支持专家观点？ ()

- A. 据统计，在众多的离婚者中，年轻人所占的比率越来越大
 B. 统计显示，男女地位平等、个人自我意识的觉醒是我国离婚率上升的主要原因
 C. 2015 年我国离婚率最高的城市是北京，其后依次是上海、深圳、广州、厦门等城市
 D. 我国离婚率上升的原因其实非常复杂，除了社会风气的影响，还牵涉人的情感因素

60. 由于按揭贷款的利率下调，人们每月还贷压力减小，因此一家机构预测某地的商品房销售量会增长，但实际上，销售量并未出现明显增长。

下列哪项如果为真，最能解释以上现象？ ()

- A. 当地一直存在人口外流的现象

- B. 本地的商品房价格没有明显下降
- C. 有的开发商取消了购房优惠政策
- D. 因经济环境不好，当地人均收入下降

61. 某种虾常出现于高温的深海间歇泉附近，那里生长着它爱吃的细菌类生物。由于间歇泉发射一种暗淡的光线，因此，科学家认为这种虾是通过背部的感光器官来寻找间歇泉，从而找到食物的。

下列哪项对科学家的结论提出质疑？（ ）

- A. 这种虾的感光器官对间歇泉发出的光并不敏感
- B. 间歇泉的光线十分暗淡，人类肉眼难以察觉
- C. 大多数其他品种的虾的眼睛都位于眼柄的末端
- D. 其他虾身上的感光器官同样能起到发现间歇泉的作用

62. 在一项实验中，研究者让大学生回忆他们在高中时期的成绩，告知他们研究者将会从高中获取其真实成绩，所以撒谎没有任何意义。结果显示：参与者回忆起的成绩有五分之一都和实际不符，而不同等级的成绩，被误记的概率也是不同的。分数越高越不容易记错：得了 A 的时候总是能准确地被回忆起来，但得了 F 的时候却难以被想起。

根据以上信息，可以推出的是（ ）。

- A. 错误的记忆可以保护我们对公平正义的信念
- B. 错误的记忆让我们自我感觉良好，利于健康
- C. 人们记忆中的成绩可能比真实的业绩更优秀
- D. 一般来说，人们最擅长的就是对细节的遗忘

63. 近日，曼彻斯特大学的科学家宣布，他们已经可以通过精确控制石墨烯膜中的孔径，从咸水中过滤出普通的盐，从而保证饮用的安全性。据此，有科学家宣称这种技术可以让海水变成饮用水，从而彻底改变世界各地的缺水问题。

以下哪项如果为真，最能支持上述论证？（ ）

- A. 从前石墨烯氧化物膜已显示出了进行气体分离的强大潜力
- B. 随着气候变化的影响，许多国家的城市供水出现短缺问题
- C. 这一技术将为制盐业提高脱盐技术的效率开辟新的可能性
- D. 通过改变滤孔大小，可以实现石墨烯膜的大规模工业生产

64. 紫外线穿透能力强，可达真皮层，将皮肤晒黑，对皮肤伤害性很大。即便在非夏季期间，紫外线虽然强度较弱，但仍然存在，长时间累积也容易让皮肤受伤，产生黑色素沉淀、肌肤老化松弛等问题。所以爱美的女性必须每天都涂防晒霜。

如果以下各项为真，最能削弱上述结论的是（ ）。

A. 室内距窗户半米处紫外线辐射量约是室外的40%，距离窗户1.5米处就衰减到室外的15%，因此如果足不出户就不用涂防晒霜

B. 防晒霜一般要求涂抹均匀和及时补涂，如果使用不当，即便是标称高倍数防晒的产品，也不一定能发挥出多大的防护功效

C. 紫外线在每年的4~9月强度最高，而冬天最弱

D. 大部分的阳伞都有一定的防晒保护作用，一把普通的阳伞可以遮挡77%的紫外线，而一把黑色的阳伞可以遮挡99%的紫外线

65. 扬子鳄是中国特有的一种鳄鱼，主要分布在长江中下游地区，它是古老的、现存数量非常稀少的爬行动物。在扬子鳄身上，至今还可以找到恐龙类爬行动物的许多特征，常被称为“活化石”。因此，扬子鳄对于人们研究古代爬行动物的兴衰以及研究古地质学和生物的进化，都有重要意义。

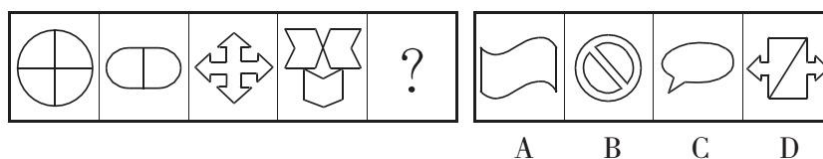
上述结论如果成立，需要基于哪一前提？（ ）

- A. 扬子鳄是世界上最珍稀的爬行动物之一
- B. 扬子鳄生活的年代和恐龙生活的年代大抵相当
- C. 现存的具有恐龙类爬行动物特征动物已经为数不多
- D. 研究恐龙类爬行动物的特征是研究古代爬行动物兴衰的关键

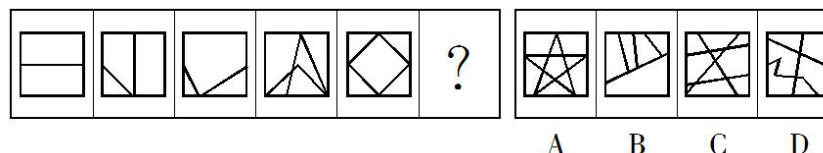
三、图形推理：共5题。请按每道题的答题要求作答。

请开始答题：

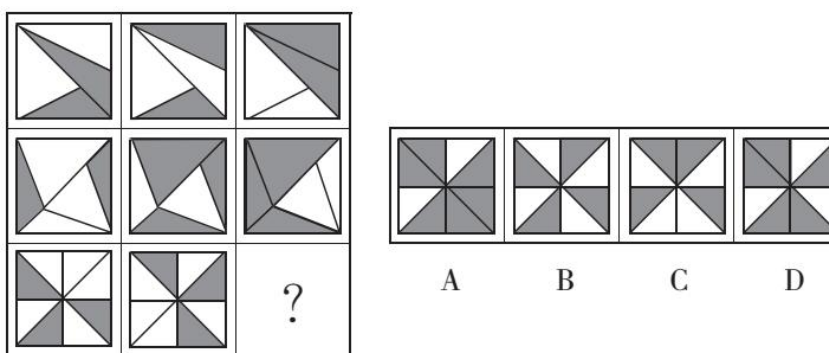
66. 从所给的四个选项中，选出一个填入问号处，使之呈现一定的规律性。



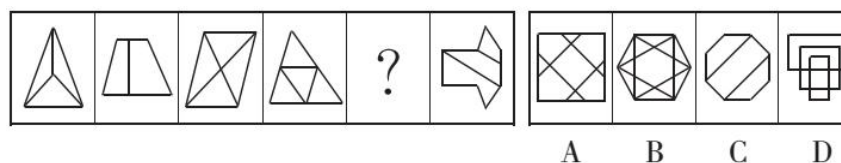
67. 从所给的四个选项中，选出一个填入问号处，使之呈现一定的规律性。



68. 从所给的四个选项中，选出一个填入问号处，使之呈现一定的规律性。



69. 从所给的四个选项中，选出一个填入问号处，使之呈现一定的规律性。



75. 下列中国历史上的变法与其内容对应不正确的是（ ）。
- A. 商鞅变法——实行郡县制
B. 王安石变法——颁行保甲法
C. 张居正变法——推行青苗法
D. 戊戌变法——开办京师大学堂
76. 严重缺氧的病人输氧时，要在纯氧中混入 5% 的 CO_2 （二氧化碳），目的是（ ）。
- A. 用 CO_2 维持呼吸中枢的兴奋
B. 节约氧气
C. 让人体吸收 CO_2
D. 用 CO_2 增加氧气罐压力
77. 下列与电有关的说法，正确的是（ ）。
- A. 铜的导电性比铁弱
B. 电水壶属于纯电阻用电器
C. 电风扇是将电能全部转化为热能
D. 白炽灯的发光原理与 LED 灯相同
78. 下列关于云的说法中，错误的是（ ）。
- A. 冷却云中强烈的气旋扰动使飞机发生波动
B. 积雨云中的雷电会给飞机带来极大的危险
C. 贝母云常见于高纬度地区，有珍珠般光泽
D. 夜光云出现在黄昏后的夜空，有银色光泽
79. 旅行者 2 号探测器于 1977 年 8 月 20 日在肯尼迪航天中心成功发射升空，近探过太阳系的四颗行星后，飞向了外太空。这四颗行星依次为（ ）。
- A. 水星、金星、火星、天王星
B. 水星、金星、木星、天王星
C. 木星、土星、天王星、海王星
D. 木星、火星、天王星、海王星
80. 下列关于管理学知识的表述中，错误的是（ ）。
- A. 在行政组织结构中管理幅度和管理层次成正比例关系
B. 审计监督是行政监督中内部监督的一种方式
C. 时间性原则是公共危机管理的第一原则
D. 公共危机管理的决策是一种非程序性决策
81. 根据我国刑事诉讼法的规定，下列证据应当予以直接排除的是（ ）。
- A. 采用刑讯逼供的方法收集的犯罪嫌疑人的供述
B. 收集犯罪嫌疑人贪污所得现金不符合法定程序的
C. 收集合同诈骗罪涉案支票不符合法定程序，可能严重影响司法公正的
D. 收集盗窃自行车不符合法定程序，不会影响司法公正，但无法作出合理解释的
82. 在当下社会，纸币已经出现电子形态，比如越来越多的人使用手机进行支付，整个支付过程完全见不到纸币的踪影。这说明手机支付可以代替货币的哪项职能？（ ）
- A. 世界货币
B. 储藏手段
C. 价值尺度
D. 支付手段
83. 二十国集团（G20）领导人第十一次峰会于 2016 年 9 月 4 日至 5 日在我国举行，并取得圆满成功。下列关于二十国集团（G20）的说法中，不正确的是（ ）。
- A. 2016 年 G20 峰会在我国浙江省杭州市举行
B. 2016 年 G20 峰会的主题是“构建创新、活力、联动、包容的世界经济”

- C. G20 是亚太地区层级最高、领域最广、最具影响力的经济合作机制
D. 二十国集团领导人第一次峰会于 2008 年举行

84. 甲将自有房屋出售给乙，乙将双方约定的房款支付给甲，并将房子交给儿子丙使用。后由于价格变动，甲又将房子出售给丁，并办理了房屋过户手续。此时，该房屋的所有权归属（ ）。
A. 甲 B. 乙 C. 丙 D. 丁

85. 燕京八绝是指具有“京作”特色的八种工艺门类，它们充分汲取了各地民间工艺的精华，又承袭了宫廷文化的精髓，是北京的艺术典范。下列关于燕京八绝的说法中，正确的是（ ）。
A. 内画壶属于燕京八绝之一
B. 八大工艺门类均兴起于清代，并形成了宫廷特色
C. 燕京八绝都属于非物质文化遗产
D. 这八类工艺品均以皇家生活场景为创作内容

※※※ 第四部分结束，请继续做第五部分！ ※※※

第五部分 资料分析

(共 15 题，参考时限 15 分钟)

所给出的图、表或一段文字均有 5 个问题要你回答。你应根据资料提供的信息进行分析、比较、计算和判断处理。

请开始答题：

一、根据下列资料，回答 86~90 题。

某省 2016 年 1~6 月居民人均可支配收入情况表（单位：元）

项 目	全省居民		城镇居民		农村居民	
	2016 年 1~6 月	增长 (%)	2016 年 1~6 月	增长 (%)	2016 年 1~6 月	增长 (%)
人均可支配收入	17372	8.8	20625	9.0	12217	8.5
工资性收入	12417	12.6	14533	14.0	9063	9.2
经营净收入	773	-0.8	780	-4.6	761	6.1
财产净收入	1978	9.0	2585	9.2	1017	8.6
转移净收入	2204	-5.9	2728	-9.0	1375	5.5

86. 2016 年 1~6 月，全省居民的人均工资性收入比上年同期大约增加了（ ）。
A. 1350 元 B. 1370 元 C. 1390 元 D. 1410 元
87. 2015 年 1~6 月，该省城镇居民的人均转移净收入约占其可支配收入的（ ）。
A. 9.3% B. 11.5% C. 13.7% D. 15.9%
88. 2016 年 1~6 月，该省农村居民的人均工资性收入约是其转移净收入的多少倍？（ ）。
A. 4.8 倍 B. 6.6 倍 C. 8.4 倍 D. 10.2 倍
89. 2016 年 1~6 月，该省农村居民人均可支配收入中比上年同期增加最少的收入为（ ）。

A. 工资性收入 B. 经营净收入 C. 财产净收入 D. 转移净收入

90. 由表可知, 2015 年 1~6 月, 该省城镇居民人均可支配收入约是农村居民的多少倍? ()

A. 1.7 倍 B. 2.5 倍 C. 3.3 倍 D. 4.1 倍

二、根据下列资料, 回答 91~95 题。

2012~2015 年, 我国国内生产总值年均增长率为 7.3%, 远高于世界同期 2.4% (世界银行数据) 的平均水平。对世界经济增长的贡献率平均约为 26%。2015 年被称为新常态元年, 我国 GDP 占世界的比重为 15.5%, 比 2012 年高 4 个百分点。2015 年 GDP 相当于美国的 63.4%, 比 2012 年提高 11 个百分点。我国依然是世界经济增长的最重要引擎。

2015 年, 我国服务业增加值为 34.16 万亿元, 2013~2015 年均增长 8.1%, 服务业增加值在国内生产总值中的比重从 2012 年的 45.5% 提高到 2015 年的 50.5%, 连续三年保持国民经济第一大产业的地位。2015 年, 我国服务业投资额为 31.19 万亿元, 2012~2015 年均增长 15.9%。

网络消费增长强劲。2014 年、2015 年全年网上零售额分别为 2.79 万亿元、3.88 万亿元, 增长 49.7% 和 39.1%, 其中实物商品网上零售额占当年社会消费品零售总额的 9.1% 和 10.8%。

网络服务高速增长。2013~2015 年, 规模以上服务企业中“互联网和相关服务业”营业收入分别增长 27.1%、32.6% 和 25.0%, 远高于同期规模以上服务业营业收入 9.5% 的增速。

电子商务交易额快速增长。2014 年电子商务交易额达 16.4 万亿元, 增长 59.4%; 其中, 自营电商交易额为 8.7 万亿元, 增长 65.9%。

现代金融服务业支撑作用不断增强。2013~2015 年, 上市公司通过境内市场累计筹资年均增长 72.2%。金融对重点领域支持力度明显加强。2014 年, 新增小微企业贷款 2.1 万亿元, 占企业新增贷款 41.9%。2015 年末, 主要农村金融机构贷款余额 12.03 万亿元, 增长 11.4%。

91. 2012 年, 我国国内生产总值占世界的比重为 ()。

A. 8.5% B. 9.5% C. 10.5% D. 11.5%

92. 按年均增长率为 8.1% 计算, 2015 年我国服务业增加值同比约增加了 ()。

A. 1.8 万亿元 B. 2.2 万亿元 C. 2.6 万亿元 D. 3.0 万亿元

93. 2015 年我国服务业投资额相对于 2012 年的增长率约为 ()。

A. 32% B. 40% C. 48% D. 56%

94. 资料显示, 2014 年企业新增贷款额约为 ()。

A. 1 万亿元 B. 3 万亿元 C. 5 万亿元 D. 7 万亿元

95. 根据资料, 下列表述不正确的是 ()。

A. 2012~2015 年间, 我国服务业投资额增速快于 GDP 增速

B. 2014 年, 在电子商务交易中自营电子商务交易是主体

C. 资料显示, 未来服务业的发展主要还是依靠传统服务业

D. 2015 年全年网上零售额比 2013 年增长了约 2.02 万亿元

三、根据下列资料，回答 96~100 题。

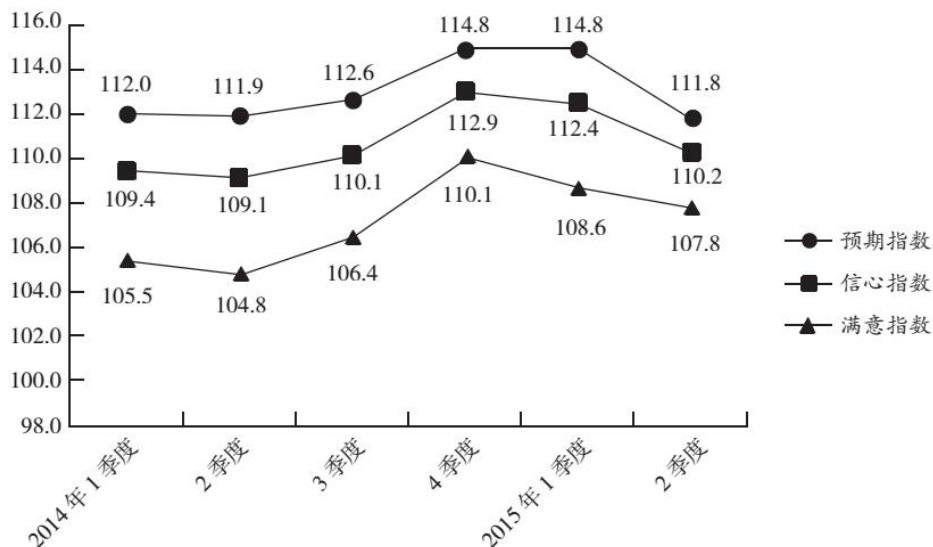
2015 年 2 季度，J 省消费者信心指数（CCI）为 101.1，环比、同比分别下降 4.6、10.7 个百分点。分城乡看，城镇和农村消费者信心指数分别为 101.6 和 100.1，环比分别下降 5.2、3.8 个百分点。

从体现消费者对当前形势的满意程度看，2015 年 2 季度，J 省消费者满意指数（ICC）为 96.9，从满意指数的构成看，消费者对当前就业满意指数为 101.2，其中城乡指数分别为 99.3、104.2，环比分别下降 6.1、3.3 个百分点。从对当前家庭收入的满意程度看，满意指数为 99.5，其中城乡家庭收入满意指数分别为 100.4、98.1，环比分别下降 9.6、3.1 个百分点。

从反映消费者对未来乐观程度的预期指数看，2015 年 2 季度，J 省消费者预期指数（ICS）为 103.8，在持续两个季度小幅回升后，本季度有所回落，环比、同比分别下降 4.1、12.0 个百分点。

2015 年 2 季度，Z 省城乡消费者信心指数均呈下行态势。其中，城镇消费者信心指数为 111.1，较 1 季度下降 1.4 个百分点；农村消费者信心指数为 108.7，较 1 季度下降 3.4 个百分点。

2014 年 1 季度~2015 年 2 季度 Z 省消费者信心指数、满意指数、预期指数



96. 2015 年 1 季度，J 省消费者满意指数构成中，数值最低的是（ ）。

- A. 城镇就业满意指数 B. 农村就业满意指数
 C. 城镇家庭收入满意指数 D. 农村家庭收入满意指数

97. Z 省 2015 年 1 季度农村消费者信心指数是（ ）。

- A. 108.7 B. 112.1 C. 112.5 D. 103.9

98. 设 Z 省 2015 年 1、2 季度消费者信心指数为 Z_1 、 Z_2 ，J 省同期同一指标为 J_1 、 J_2 ，则（ ）。

- A. $Z_1 > J_1 > Z_2 > J_2$ B. $Z_1 > Z_2 > J_1 > J_2$
 C. $J_1 > J_2 > Z_2 > Z_1$ D. $Z_1 > J_2 > Z_2 > J_1$

99. Z 省消费者满意指数下降最快的时间段是（ ）。

- A. 2014 年 2 季度 B. 2014 年 3 季度 C. 2015 年 1 季度 D. 2015 年 2 季度

100. 根据资料，下列表述正确的是（ ）。

- A. 2015 年 2 季度，J 省、Z 省城镇消费者信心指数环比下降的数值均大于农村消费者信心指数
 B. 2014 年 3 季度至 2015 年 2 季度，J 省、Z 省消费者信心指数变化趋势相同

C. 2015 年 2 季度, J 省、Z 省消费者预期指数值相差 10 个百分点以上

D. 2014 年 3 季度至 2015 年 2 季度, Z 省消费者信心指数最高的季度也是该指数环比增速最快的季度

※※※ 全部测验到此结束, 请将题本和答题卡留在桌上, 等待指示 ※※※

展鸿事业单位招聘笔试试卷

《职测》模拟卷（一）参考答案及解析

1. 【答案】D。解析：先看第二空，宾语是“道德底线”，“打击”无法与之搭配，排除B项。再看第一空，“导致”不符合语法结构，排除C项。“作怪”和“作祟”虽然都有“坏人或坏的思想意识捣乱”的意思，但是前者偏于口头语，“作祟”更偏于书面语，联系文段语体色彩，“作祟”更贴切，排除A项。故本题选D。

2. 【答案】B。解析：“一视同仁”形容对人同样看待，不分厚薄。“有的放矢”比喻说话做事有针对性。“无微不至”形容关怀、照顾得非常细心周到。“予取予求”形容任意求取、取索无厌，或者指随心所欲。根据文段“个性化消费需求”“实现更精准的营销策略”，可知此处强调对消费者采取差异化策略，B项“有的放矢”最符合语义。故本题选B。

3. 【答案】C。解析：直接看第一空，根据后文“自我筛选和自我净化”“时间筛子”，可知只有“过滤”最恰当，锁定C项。验证第二空，“遗忘”符合前文所述的用“温和”的模式淘汰那些失效的语词。故本题选C。

4. 【答案】C。解析：“循规蹈矩”原指遵守规矩，不敢违反，现指拘守旧准则，不敢稍做变动。“安分守己”指规矩老实，守本分，不做违法的事。“亦步亦趋”比喻由于缺乏主张，或为了讨好，事事模仿或追随别人。“安步当车”指以从容的步行代替乘车，也指人能够安守贫贱生活。根据文段可知实力较弱的一方不敢有太多意见，需要照着做，C项“亦步亦趋”最恰当。A项“循规蹈矩”侧重“规矩”，B项“安分守己”侧重“不违法”，D项明显错误。故本题选C。

5. 【答案】C。解析：先看第二空，主语是“片酬”，“坐地起价”的主语通常是人，无法与“片酬”搭配，排除A项。“随行就市”指按市场行情行事，不符合语义，排除B项。再看第一空，“奇货可居”比喻拿某种专长或独占的东西作为资本，等待时机，以捞取名利地位，“待价而沽”比喻谁给好的待遇就替谁工作。联系语境，文段讲“明星效应”显然强调“捞取名利地位”，“奇货可居”最贴切，排除D项。故本题选C。

6. 【答案】C。解析：“李代桃僵”借指以此代彼或代人受过。“萧规曹随”比喻按照前任的成规办事。“越俎代庖”比喻超出自己业务范围去处理别人所管的事。“广纳良言”是褒义词，明显不符合语境，先排除D项。根据后文“没有处理好社区自治和政府管理的关系”，可知横线处指政府部门没有做好本职工作，或者处理超出自己本职范围的事务，C项“越俎代庖”最恰当。故本题选C。

7. 【答案】A。解析：第一空先排除C、D项，“风生水起”形容事情做得有生气，蓬勃兴旺，“众望所归”多指某人得到大家的信赖，希望他担任某项工作，此处主语是“养老金制度的改革”，二者均无法与之搭配。再看第二空，宾语是“延迟退休政策”，“推开”无法与之搭配，排除B项。故本题选A。

8. 【答案】D。解析：先看第一空，此处须填入与后文“准确”意思相反的词语，“粗糙”和“荒诞”不符合语义，先排除A、C项。同时，此空的中心语是“手法”，“模糊”不能与之搭配，再排除B项。验证第二空，“变幻莫测”指变化又多又快，使人不可捉摸，呼应后文“留下各种瞬间的永恒图像”。故本题选D。

9. 【答案】D。解析：先看第一空，根据后文“其中任何一种资源的紧缺都会影响另外两种”，可知三种资源之间的关系不是“互补”，排除A项。“交互”指互相、交替地，更侧重于表示事物之间如何联系的，但不能体现三种资源之间的相互影响作用，排除B项。再看第二空，“困难”无法修饰“社会”，排除C项；“脆弱”符合语义。故本题选D。

10. 【答案】C。解析：先看第一空，根据前文“风行”，可知此处也强调一时盛行，“如雷贯耳”

显然不符合语义，“闻名遐迩”形容名声很大，远近都知道，这种程度不是“一时”可以达到的，排除A、B项。再看第二空，“趋之若鹜”比喻很多人争着赶去，“蜂拥而至”形容很多人乱哄哄地朝一个地方聚拢，此处用来形容人们因名牌效应而追求时尚，则“趋之若鹜”的“趋”更符合“追求”的语义，排除D项。故本题选C。

11. 【答案】B。解析：A项“滂沱”的“滂”读音应为 pāng，C项“徇私”的“徇”读音应为 xùn，D项“碑帖”的“帖”读音应为 tiè。B项读音正确。故本题选B。

12. 【答案】D。解析：A项“病入膏肓”的“肓”应为“盲”，B项“白璧微暇”的“暇”应为“瑕”，C项“针贬时弊”的“贬”应为“砭”。D项没有错别字。故本题选D。

13. 【答案】B。解析：通读6个句子，可知③对张择端的介绍必然衔接在①后，先排除A、C项。再比较B、D项，从⑥入手，“所谓‘上河’”的前文必然有提及“上河”这个词，④“‘上河’成为一时风尚”符合，排除D项。验证B项，符合语句逻辑关系。故本题选B。

14. 【答案】D。解析：通读6个句子，④的“也”表示并列意思，说明前文与此句内容相仿，此句讲的是黄金也可保值，①中的“珠宝的保值作用增强”与之对应，则④必然紧随①后，先锁定D项。验证D项，首先介绍珠宝的分类、用途等，接着论述珠宝和黄金都具有保值的特点，最后“但”转折说明珠宝的初始投资主要是制成品，其增值潜力还有待验证，因此对于家庭来说，珠宝可作为保值的奢侈消费品，但作为投资不可取，符合语句逻辑关系。故本题选D。

15. 【答案】D。解析：文段首先论述社会学家对性“医学化”现象的批判，接着用“然而”转折指出这种批判阻止不了性治疗产业的发展。显然，文段重在说明尽管“医学化”的性治疗存在诸多不足，但依然不可或缺，D项最恰当。A项社会学家的评判是否过于偏激，文段无从体现；B项“已完成转型”说法过于绝对，不符合文段意思；C项“秉承经济受益原则”不是文段的论述重点。故本题选D。

16. 【答案】D。解析：文段最后一句讲扬州富商在“吃”上一掷千金，那么，接下来最有可能论述扬州富商在“吃”方面的有关内容，只有D项的主体与之一致。故本题选D。

17. 【答案】A。解析：根据“随着东部沿海地区发展转型、产业转移，中西部地区经济崛起”，可知中西部返乡创业的原因包括“东部沿海地区发展转型、产业转移”和“中西部地区经济崛起”等，“主要受益于”说法有误，A项错误。根据“重庆、湖南、四川等传统劳动力输出地，正迎来返乡创业的热潮”，可知返乡创业热潮主要出现在传统劳动力输出地，B项正确。根据“返乡创业的企业数量和创造的产值，已占据县域经济的半壁江山”，可知返乡创业成为推动中西部县域经济发展的动力，C项正确。根据“这一趋势方兴未艾，它给中西部地区的城镇化、工业化带来了强劲的动力，也改变着中国的经济版图”，可知返乡创业已成为撬动中西部地区转型的新杠杆，D项正确。故本题选A。

18. 【答案】B。解析：通读6个句子，③“这种变化”指的是①中的“动态变化”，则③紧随①后，先排除C项。再看④，“这一阶段”指的是⑥中的“过渡阶段”，则④紧随⑥后，排除D项。再看⑤，“特别值得注意的是，法的‘部分质变’贯穿于法的发展过程”中的“部分质变”指的是④中的“部分变质”，则⑤在④后，排除A项。验证B项，符合语句逻辑关系。故本题选B。

19. 【答案】B。解析：文段共三句话，首句讲早在公元前已经有学者注意到不同地理环境对各人类群体产生的不同影响，第二句讲西方学术界强调地理环境对人类文明类型和文化模式的重要影响，第三句讲中国学术界以梁启超为首的学者也广泛探讨地理与文明的关系。由此可见，文段的主体是“学者”，客体是“地理环境对文明的影响”，则B项最恰当。A、C项均是文段的例证，不是论述重点；D项过度延伸。故本题选B。

20. 【答案】C。解析：横线填入的句子是对文段的总结。由倒数第二句“不过，关于淡水污染的一些信息，让部分人因担心传统鱼类的食品安全问题而选择海产品”，可知要减少对海洋生物的过度捕捞，要先消除部分人对淡水渔场污染的担忧，而选择淡水产品，C项衔接最恰当。A、B项均未提及“淡水污染”这一关键点；D项“食品安全问题”范围扩大。故本题选C。

21. 【答案】D。解析：文段通过智能化与物联网控制交通网络和抓捕逃犯的例子，说明物联网明显

优于智能化，D项最恰当。A项不是意图项，B项仅是文段的部分内容，C项“功能”说法过于宽泛。故本题选D。

22. 【答案】D。解析：横线处语句起着承上启下的作用。横线前面讲传续文明需要保留先人的物质文化遗产，后面讲犹太文明的传承并没有完全依赖物质遗产，最后总结指出传续文明，最核心的乃是传续先人的精神。由此可知，保护先人留下的文化遗产并不是最重要的，D项衔接最恰当。故本题选D。

23. 【答案】D。解析：文段主要阐述了徽州建筑发达是由于徽州商帮的兴盛，商人们在发家后返乡大兴土木之时，追求生活艺术品位，对建筑的布局、结构、装饰等方面都有很高的要求；另外，新安画派、徽州版画对徽州建筑也有深远影响。因此，文段旨在说明徽州建筑发达的原因。A项“理家方略”文段无从体现，B项是徽州建筑发达的其中一个具体原因，C项的内容文段没有涉及。故本题选D。

24. 【答案】D。解析：文段讲机器换人热潮虽然对就业还未见明显的负面影响，但是全然否定机器换人对就业的冲击有些过于乐观，因为在当下从事有些工作的员工有可能在人机竞争中被淘汰出局。因此，在结构改革中应注意采取措施缓解机器对就业的冲击，D项最恰当。A、C项均偏离“机器换人”这一论述重点；B项“理性评估”不是重点。故本题选D。

25. 【答案】C。解析：就近原则。横线处的内容其实是对前面“当然是事出有因”的解释，即原因分析。文段由与雨声相关的古曲、古画入手，引入中国古代的哲学层面，说明古代哲学也与雨声相关。“雨声”即是一种情境、一种事由，由此引发的各种情感便是“作者们在雨声中的独处”所领悟出的哲理。显然，C项衔接最恰当。A、D项与“哲学”的联系均不够紧密；B项偷换概念，文段主要讲中国古代哲学，而不是中国文化。故本题选C。

26. 【答案】D。解析：原数列两两相加得到：1、4、9、(16)、(25)，可写成 1^2 、 2^2 、 3^2 、(4^2)、(5^2)，为平方数列。因此，原数列未知项为 $16-5=11$ ，验证后项， $11+14=25$ ，符合规律。故本题选D。

27. 【答案】D。解析：原数列后项除以前项得到：-3、-1、1、3、(5)，是公差为2的等差数列。因此原数列未知项为 $-9 \times 5 = -45$ 。故本题选D。

28. 【答案】A。解析：原数列满足如下规律： $a_{n+1} = n \times a_n + \text{修正项}$ ($n \geq 1$)，即 $3=1 \times 2+1$ ， $4=2 \times 3-2$ ， $15=3 \times 4+3$ ， $56=4 \times 15-4$ 。因此原数列未知项为 $5 \times 56+5=285$ 。故本题选A。

29. 【答案】A。解析：原数列个位数字除以十位数字得到：1、2、3、4、(5)、6。观察选项，只有A项符合。故本题选A。

30. 【答案】C。解析：将原数列反约分得到： $\frac{2}{4}$ 、 $\frac{5}{7}$ 、 $\frac{8}{10}$ 、 $\frac{11}{13}$ 、 $\frac{14}{16}$ ，其中，分子列：2、5、8、11、14、(17)，是公差为3的等差数列；分母列：4、7、10、13、16、(19)，是公差为3的等差数列。因此原数列未知项为 $\frac{17}{19}$ 。故本题选C。

31. 【答案】D。解析：题干满足如下规律：左上角数字+右上角数字=左下角数字÷右下角数字，即 $3+1=24 \div 6$ ， $5+2=14 \div 2$ ， $4+8=36 \div 3$ 。因此问号处数字为 $(1+2) \times 7=21$ 。故本题选D。

32. 【答案】B。解析：题干满足如下规律：左上角数字×右下角数字=左下角数字+右上角数字，即 $(-4) \times 3 = -10 + (-2)$ ， $5 \times 5 = 11 + 14$ ， $6 \times 1 = 7 + (-1)$ 。因此问号处数字为 $(12+15) \div 3=9$ 。故本题选B。

33. 【答案】A。解析：题干满足如下规律：左上角数字-左下角数字=右上角数字×右下角数字，即 $33-5=4 \times 7$ ， $40-16=2 \times 12$ ， $18-3=5 \times 3$ 。因此问号处数字为 $\frac{-1-(-2)}{3} = \frac{1}{3}$ 。故本题选A。

34. 【答案】B。解析：题干满足如下规律：左上角数字×左下角数字=右上角数字+右下角数字，即 $3 \times 4=10+2$ ， $5 \times 7=17+18$ ， $6 \times 3=7+11$ 。因此问号处数字为 $8 \times 3-10=14$ 。故本题选B。

35. 【答案】D。解析：题干满足如下规律：左上角数字÷右下角数字=右上角数字-左下角数字，即 $6 \div 2=11-8$ ， $2 \div 1=11-9$ ， $4 \div 1=7-3$ 。因此问号处数字为 $10 \div 10+3=4$ 。故本题选D。

36. 【答案】A。解析： $539=7 \times 7 \times 11$ ，则539的约数有1、7、49、11、77、539，共6个，即539

能被6个不同的自然数整除。故本题选A。

37. 【答案】B。解析：4个瓶子其中3个贴错了标签，则有1个贴对了，贴对的那个瓶子有4种可能。再考虑贴错的3个瓶子，3个瓶子的贴法共有 $A_3^3=6$ 种，其中全贴对的贴法有1种，贴对2个的贴法不存在，贴对1个的贴法有 $C_3^1 \times 1=3$ 种，因此3个全贴错的贴法共有 $6-1-3=2$ 种。运用乘法原理，则4个瓶子其中3个贴错了标签的可能贴法共有 $4 \times 2=8$ 种。故本题选B。

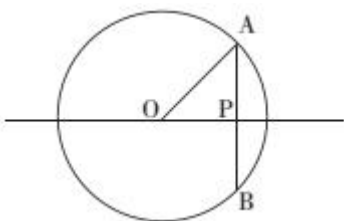
38. 【答案】A。解析：根据题意可知，该公司仅售出12万件，则该新产品售价增加了 $200 \times \frac{15-12}{1}=600$ 元，即售价为3600元。因此该公司新产品的销售总额为 $3600 \times 12=43200$ 万元=4.32亿元。故本题选A。

39. 【答案】A。解析：设甲要生产的网球拍为 x 个，羽毛球拍为 y 个，则乙要生产的网球拍为 $3x$ 个，羽毛球拍为 $\frac{1}{4}y$ 个。由 $x+y=3x+\frac{1}{4}y$ 可知， $2x=\frac{3}{4}y$ ，又因为单个羽毛球拍生产时间为网球拍的一半，则甲完成任务所花费的时间相当于完成 $2x+y=\frac{7}{4}y$ 个羽毛球拍的时间，乙完成任务所花费的时间相当于完成 $3x \times 2 + \frac{1}{4}y = \frac{10}{4}y$ 个羽毛球拍的时间。因此甲、乙完成任务用时之比为 $\frac{7}{4}y : \frac{10}{4}y = 7:10$ 。故本题选A。

40. 【答案】B。解析：大份盖浇饭打8折，即每份比之前便宜 $25 \times (1-0.8)=5$ 元。打折后比打折前少花 $183-168=15$ 元，则点大份盖浇饭的有 $15 \div 5=3$ 人。根据题意可知，点小份盖浇饭的有 $(183-3 \times 25) \div 18=6$ 人，因此他们一共有 $3+6=9$ 人去吃盖浇饭。故本题选B。

41. 【答案】A。解析：宠物狗总共跑的时间即为两人从相距200米到相距60米所经过的时间，为 $(200-60) \div (1+1)=70$ 秒，则宠物狗总共跑的距离为 $70 \times 3=210$ 米。故本题选A。

42. 【答案】C。解析：该车在雷达探测区内行驶距离最大为经过P点的直径长，即 $25 \times 2=50$ 千米。行驶距离最短为与OP垂直的弦长AB，如下图所示：



由于 $OP=20$ 千米， $OA=25$ 千米，则 $AP=\sqrt{25^2-20^2}=15$ 千米， $AB=2AP=2 \times 15=30$ 千米。因此X的最大值和最小值之差为 $50-30=20$ 千米。故本题选C。

43. 【答案】B。解析：根据题意可知，20件商品若全部合格，可以赚 $50 \times 20=1000$ 元。一件不合格商品亏损20元，即少赚 $50+20=70$ 元，则1000与实际所赚的差值为70的倍数，代入选项验证。A项代入，差值为 $1000-690=310$ ，不能被70整除，排除；B项代入，差值为 $1000-720=280$ ，280可被70整除，满足；C、D项均不符合，排除。故本题选B。

44. 【答案】B。解析：由“剩下工作量李需要6天，或王需要3天完成”，可知李和王的工作效率之比为1:2。设李的工作效率为1，王为2，则工作总量为 $(1+2) \times 4+6 \times 1=18$ 。李和王共同工作5天后剩下的工作量为 $18-3 \times 5=3$ ，李单独检修还需 $3 \div 1=3$ 天。故本题选B。

45. 【答案】D。解析：任取两张卡片有 $C_{10}^2=45$ 种选法，两张卡片数字之积能被4整除的情况有三种：

①一张卡片为4，另一张任选，共有9种选法，概率为 $\frac{9}{45}$ ；②一张卡片为8，另一张任选除4以外的卡片，

共有8种选法，概率为 $\frac{8}{45}$ ；③在2、6、10中任选两张，其上数字之积都能被4整除，共有 $C_3^2=3$ 种选法，

概率为 $\frac{3}{45}$ 。因此总概率为 $\frac{9}{45} + \frac{8}{45} + \frac{3}{45} = \frac{4}{9}$ 。故本题选D。

46. 【答案】B。解析：考虑最低和最高情况，最低时取区间最小值，最高时取区间最大值。最低时，算术平均数为 $0 \times 20\% + 2000 \times 25\% + 4000 \times 54\% + 7000 \times 1\% = 2730$ 元，即被调查居民月均收入的算术平均数不可能低于2730元，排除A项。由于X的最大值不确定，则算数平均数的最大值大于 $2000 \times 20\% + 4000 \times 25\% + 7000 \times 54\% = 5180$ 元，因此5000元和12000元均有可能，排除C、D项。故本题选B。

47. 【答案】B。解析：蔬菜总成本为x元，上午按进货单价的150%卖掉占总成本50%的蔬菜，则共盈利 $(150\% - 1) \times 50\%x = 0.25x$ 元。同理，下午和傍晚分别盈利 $(130\% - 1) \times 20\%x = 0.06x$ 元、 $(120\% - 1) \times 25\%x = 0.05x$ 元，剩余未卖出的蔬菜占总进货价值的 $1 - 50\% - 20\% - 25\% = 5\%$ 。因此该摊贩当日盈利 $0.25x + 0.06x + 0.05x - 5\%x - 0.06x = 0.25x$ 元。故本题选B。

48. 【答案】B。解析：要使耗油最少，则行驶的路程应最短。观察示意图，小王从A地到达B地最短路线为A-b-o-e-B，最短路程为 $1+5+6+4=16$ 千米。因此小王从A地去往B地至少要消耗价值 $16 \times \frac{10}{100} \times 6.5 = 10.4$ 元的燃油。故本题选B。

49. 【答案】C。解析：设有x名员工能中奖，根据题意有 $500x + 150 \times (40 - x) = 8800$ ，解得 $x = 8$ 。故本题选C。

50. 【答案】B。解析：根据题意可知A学校志愿队每8天去一次，B学校志愿队每10天去一次，C学校志愿队每15天去一次，则三个队伍每120（8、10、15的最小公倍数）天会同时去敬老院， $120 \div 7 = 17 \dots 1$ ，则三个队伍下次同时去敬老院是周三后一天，即周四。故本题选B。

51. 【答案】D。解析：报名、培训、结业是参与培训的流程，为顺承关系；D项挂号、看病、痊愈是看病的流程，为顺承关系。故本题选D。

52. 【答案】C。解析：通过过滤达到净水的效果，C项通过节食达到苗条的效果。A项通过竞赛应是达到取得好名次的效果，排除。B、D项明显与题干不符，排除。故本题选C。

53. 【答案】C。解析：“领袖”的本义是衣服的领和袖，是上衣的组成部分；C项“耳目”的本义是耳朵和眼睛，是身体的组成部分。A项“手足”比喻兄弟，排除。B项“时间”和“岁月”是近义关系，排除。D项鹰和犬属于动物，排除。故本题选C。

54. 【答案】A。解析：U盘和光盘均具有存储信息的功能，A项楼梯和电梯均具有联系上下楼层通行的功能。B项插头和插座配套使用，不具有相同功能，排除。C项毛笔是画国画的工具，排除。D项杯盖是水杯的组成部分，排除。故本题选A。

55. 【答案】A。解析：文学作品和摄影作品均属于作品，二者为并列关系；A项姓名权和肖像权均属于人身权，二者为并列关系。B项棒棒糖和水果糖为交叉关系，排除。C项经济学属于社会科学，社会科学才与自然科学并列，排除。D项重庆小面属于面条，排除。故本题选A。

56. 【答案】D。解析：选项逐一代入。A项，分析和阐述无明显联系，“消除”和“革除”为近义关系，前后关系不一致，排除。B项，“分析差距”为动宾结构，“消除”和“贫富”不能搭配，前后关系不一致，排除。C项，分析、解决为顺承关系，消除和创新无明显联系，前后关系不一致，排除。D项，“分析问题”和“消除弊端”均为动宾结构。故本题选D。

57. 【答案】B。解析：“泰然处之”形容遇事镇定自如，与“镇定”为近义关系；B项“虚怀若谷”形容非常谦虚，与“谦虚”为近义关系。A项“大义凛然”形容为了正义而坚强不屈，“壮烈”指勇敢而有气节，二者不是近义关系，排除。C项“杳如黄鹤”比喻无影无踪或下落不明，“消失”指事物渐

渐减少以至没有或事物不复存在，二者不是近义关系，排除。D项“似水流年”形容时间一去不复返，与“时间”不是近义关系，排除。故本题选B。

58. 【答案】C。解析：口试和笔试是招聘的不同方式，C项批发和零售是销售的不同方式。A项摄影、购物是旅游过程中的活动，不是旅游的方式，排除。B项招标、中标和建设为顺承关系，排除。D项商品是出口和内销的物品，排除。故本题选C。

59. 【答案】B。解析：专家观点：我国离婚率上升的原因不能简单解释为社会风气不好，一方面与原来整体离婚率水平比较低有关，另一方面也与中国社会方方面面的变化以及舆论环境、社会观念变化有关。A项离婚者中年轻人占比越来越大不能说明离婚率上升的原因，不能支持；B项说明我国离婚率上升的主要原因是社会观念的变化，因此不能简单解释为社会风气不好，最能支持专家观点；C项属于无关项；D项支持力度不及B项。故本题选B。

60. 【答案】D。解析：题干现象：按揭贷款的利率下调，人们每月还贷压力减小，这应当会使某地的商品房销售量增长，但实际销售量并未出现明显增长。A项人口外流与该地商品房销量无明显关系，身在异地的人也可以购买该地的商品房，不能解释题干现象，排除。B项对商品房销量没有明显影响，而人们还贷压力减小，商品房销量应当增长，不能解释，排除。C项部分开发商的情况对解释题干现象的说服力不足，排除。D项指出当地人均收入下降，因此尽管按揭贷款的利率下调，人们仍无力购买商品房，最能解释题干现象。故本题选D。

61. 【答案】A。解析：科学家的结论：这种虾是通过背部的感光器官来寻找间歇泉，从而找到食物的。论据：这种虾常出现于高温的深海间歇泉附近，那里生长着它爱吃的细菌类生物，而间歇泉会发射一种暗淡的光线。A项指出“这种虾的感光器官对间歇泉发出的光并不敏感”，说明这种虾并不是通过感光器官寻找间歇泉的，最能质疑科学家的结论。B项人类的情况以及C、D项其他虾的情况，均属于无关项，排除。故本题选A。

62. 【答案】C。解析：A项“保护我们对公平正义的信念”和B项“让我们自我感觉良好，利于健康”题干均未提及，不能推出。由“分数越高越不容易记错：得了A的时候总是能准确地被回忆起来，但得了F的时候却难以被想起”可推出记忆中的成绩可能比真实的更优秀，C项正确。由“得了F的时候却难以被想起”可知容易遗忘的是较低分数，不等同于“细节”，D项不能推出。故本题选C。

63. 【答案】D。解析：题干论点：这种技术可以让海水变成饮用水，从而彻底改变世界各地的缺水问题。论据：可以通过精确控制石墨烯膜中的孔径，从咸水中过滤出普通的盐，从而保证饮用的安全性。A项讲的是“石墨烯氧化物膜”的“气体分离”，与题干所讲的“石墨烯膜”和“从咸水中过滤出普通的盐”无关，排除。B项也属于无关项，排除。C项与“改变世界各地的缺水问题”无关，不能支持论证，排除。D项指出石墨烯膜可以实现大规模工业生产，从而彻底改变世界各地的缺水问题，是论点成立的前提，最能支持论证。故本题选D。

64. 【答案】A。解析：题干结论：爱美的女性必须每天都涂防晒霜。论据：紫外线穿透能力强，对皮肤伤害性很大，即便在非夏季期间，经过长期累积也容易让皮肤受伤，产生黑色素沉淀等问题。A项直接否定每天涂防晒霜的必要性，最能削弱题干结论。B项使用防晒霜的正确方法、C项不同季节的紫外线强度和D项不同阳伞的遮阳效果，均与每天涂抹防晒霜的必要性无关，排除。故本题选A。

65. 【答案】D。解析：题干论点：扬子鳄对于人们研究古代爬行动物的兴衰具有重要意义。论据：在扬子鳄身上，至今还可以找到恐龙类爬行动物的许多特征。论点和论据之间无直接联系，需在“古代爬行动物兴衰”和“恐龙类爬行动物的特征”之间“搭桥”，D项符合条件。故本题选D。

66. 【答案】B。解析：题干各图形均为轴对称图形，只有B项符合。故本题选B。

67. 【答案】A。解析：题干各图形均能一笔画成，只有A项符合。故本题选A。

68. 【答案】A。解析：题干每一行前两个图形叠加，得到第三个图形，颜色叠加规律为：白+白=白，白+黑=黑，黑+白=黑，黑+黑=白。第三行按此规律，则问号处应为A项图形。故本题选A。

69. 【答案】C。解析：题干各图形封闭空间数依次为3、2、4、4、？、3，交点数依次为4、6、5、

6、?、9, 封闭空间数和交点数之和依次为7、8、9、10、(11)、12, 则问号处图形的封闭空间数和交点数之和应为11, 只有C项符合。故本题选C。

70. 【答案】C。解析: ①③④图形均由3个独立部分组成, ②⑤⑥图形均由4个独立部分组成。故本题选C。

71. 【答案】A。解析: 生物包括动物、植物、微生物, 微生物包括真菌、细菌、病毒等。除病毒外, 细胞是生物体结构和功能的基本单位。病毒没有细胞结构, 由一种核酸分子与蛋白质构成或仅由蛋白质构成, A项说法错误。故本题选A。

72. 【答案】B。解析: A、C、D三项说法均正确。B项说法错误, 避雷针保护建筑物的方式并不是避免房屋遭受雷击, 而是引雷上身, 然后通过其引下线和接地装置, 将雷电流引入地下, 起到保护建筑物的作用。若将避雷针与建筑物绝缘, 导入避雷针内的雷电将无处释放, 易引发危险。因此避雷针必须与它要保护的建筑物联通。故本题选B。

73. 【答案】C。解析: A项对应正确, 桔槔是应用杠杆原理, 在杠杆的一端固定重物, 另一端吊挂水斗, 从深井汲水的工具。B项对应正确, 辘轳是利用轮轴原理制成的井上汲水的起重装置。C项对应错误, 翻车是我国古代最著名的农业灌溉机械之一, 通过驱动链轮, 把水输送到需要之处, 是古代链传动的最早运用, 并不是运用对称守恒原理。D项对应正确, 筒车是利用水力运转的原理, 让竹筒(起叶轮的作用)取水, 流水自转导灌入田, 不用人力。故本题选C。

74. 【答案】D。解析: A项错误, 炒菜时油锅不慎着火, 向油锅里泼水不能灭火, 因为油的密度比水小, 燃着的油会浮在水面上而无法与空气隔绝。正确的做法是立即盖上锅盖, 隔绝空气进行灭火。B项错误, 泡沫灭火器灭火时, 能喷射出大量二氧化碳及泡沫, 使可燃物与空气隔绝, 达到灭火的目的。C项错误, 运行中的电梯进水, 应该将电梯停在就近楼层, 改走楼梯并尽快通知维修人员。D项正确, 在电梯下坠过程中, 乘客要将整个背部和头部紧贴电梯内侧, 呈一直线, 这样可以利用电梯墙壁作为脊椎的防护, 同时, 膝盖要保持弯曲姿势, 利用韧带来缓冲重击压力。故本题选D。

75. 【答案】C。解析: A项对应正确, 公元前356年和公元前350年, 商鞅先后两次实行以“废井田、开阡陌, 实行郡县制, 奖励耕织和战斗, 实行连坐之法”为主要内容的变法。B项对应正确, 保甲法是王安石变法政策之一, 规定乡村住户, 每十家组一保, 五保为一大保, 十大保为一都保, 由住户中最富有者担任保长、大保长、都保长, 用以防止农民的反抗, 并节省军费。C项对应错误, 青苗法亦称“常平新法”, 是王安石变法政策之一, 主要是改变旧有常平仓制度的“遇贵量减市价粟, 遇贱量增市价粟”的呆板做法。张居正变法主要有“考成法”和“一条鞭法”。D项对应正确, 戊戌变法在文化上, 主要是废八股, 兴西学; 创办京师大学堂; 设译书局, 派留学生; 奖励科学著作和发明。故本题选C。

76. 【答案】A。解析: 激素、 CO_2 、 H^+ 、乳酸和 K^+ 等通过体液传送, 对人和动物的生理活动所进行的调节称体液调节。严重缺氧的病人输氧时, 在纯氧中混入5%的 CO_2 气体, 通过体液传送, 作用于呼吸中枢, 以维持呼吸中枢的兴奋。故本题选A。

77. 【答案】B。解析: A项说法错误, 铜的导电性比铁的导电性强。B项说法正确, 纯电阻用电器指用电器把所有电能都转化为内能, 如电热水壶。C项说法错误, 电风扇将电能转化成机械能和热能。D项说法错误, 白炽灯是将灯丝通电加热到白炽状态, 利用热辐射发出可见光的电光源, LED灯是以发光二极管(LED)为发光体的光源。故本题选B。

78. 【答案】A。解析: A项错误, 飞机发生波动是大气中气流扰动的结果, 对气流有干扰作用的主要是积状云引起的强烈对流和乱流。B项正确, 浓积雨云中气流上下对流十分强烈, 云中的闪电、雷击、冰雹等危险天气是飞机飞行中的大敌。C项正确, 贝母云多出现在高纬地区(离地20~30km的高空), 云体具有珍珠般光泽, 透光如卷云。D项正确, 夜光云是黄昏期间出现于高纬度地区高空的一种发光而透明的波状云, 距地面的高度一般在80km左右, 常呈淡蓝色或银灰色。故本题选A。

79. 【答案】C。解析: 旅行者2号探测器于1977年发射升空, 开始遨游太阳系, 期间造访了木星、土星、天王星和海王星, 以及这些行星的部分卫星。故本题选C。

80. 【答案】A。解析：A 项说法错误。管理幅度指一个人或组织直接管理的下属人员或机构的数目；管理层次指组织纵向划分的管理层级的数目。在被管理对象数量确定的条件下，两者成反比关系，即管理幅度越宽，需要设置的管理层次就越少；反之，管理幅度越窄，需要设置的管理层次就越多。故本题选 A。

81. 【答案】A。解析：《刑事诉讼法》第 54 条规定，采用刑讯逼供等非法方法收集的犯罪嫌疑人、被告人供述和采用暴力、威胁等非法方法收集的证人证言、被害人陈述，应当予以排除。收集物证、书证不符合法定程序，可能严重影响司法公正的，应当予以补正或者作出合理解释；不能补正或者作出合理解释的，对该证据应当予以排除。在侦查、审查起诉、审判时发现有应当排除的证据的，应当依法予以排除，不得作为起诉意见、起诉决定和判决的依据。因此，A 项证据可以直接排除，B、C、D 项的证据均不符合法定程序，可以予以补正或者作出合理解释。故本题选 A。

82. 【答案】D。解析：世界货币是指货币在世界市场上作为一般等价物的职能，充当世界货币的是足值的金和银；储藏手段是指货币退出流通领域作为独立的价值形态和社会财富的一般代表被保存的职能，具有储藏手段的货币都必须是具有价值实体的足值的货币；价值尺度是用来衡量和表现商品价值的一种职能；支付手段是指货币作为独立的价值形式进行单方面运动时执行的职能。使用手机进行支付说明手机支付可以代替货币执行支付手段职能。故本题选 D。

83. 【答案】C。解析：C 项说法错误，亚太经济合作组织，简称“亚太经合组织”或“APEC”，是亚太地区层级最高、领域最广、最具影响力的经济合作机制。G20 是一个国际经济合作论坛，属于非正式对话的一种机制。故本题选 C。

84. 【答案】D。解析：《物权法》第 9 条第一款规定，不动产物权的设立、变更、转让和消灭，经依法登记，发生法律效力；未经登记，不发生效力，但法律另有规定的除外。题干甲没有和乙或丙办理房屋过户手续，而是和丁办理，则该房屋的所有权不归属乙或丙，归属丁。故本题选 D。

85. 【答案】C。解析：A、B、D 三项说法均错误。“燕京八绝”是指景泰蓝、玉雕、牙雕、雕漆、金漆镶嵌、花丝镶嵌、宫毯、京绣八大工艺门类。它们充分汲取了各地民间工艺的精华，在明清时期发展至成熟巅峰。C 项说法正确，2006~2008 年，燕京八绝先后有七绝入选《国家级非物质文化遗产名录》，2009 年京绣入选《北京市非物质文化遗产名录》。故本题选 C。

86. 【答案】B。解析：根据表格可知，2016 年 1~6 月，全省居民人均工资性收入为 12417 元，比上年同期增长 12.6%，因此 2016 年 1~6 月，全省居民人均工资性收入的同比增长量约为 $\frac{12417}{1+12.6\%} \times$

$12.6\% \approx \frac{12400}{1+\frac{1}{8}} \times \frac{1}{8} = \frac{12400}{9} \approx 1378$ 元，B 项与之最接近。故本题选 B。

87. 【答案】D。解析：根据表格可知，2015 年 1~6 月城镇居民的人均转移净收入和人均可支配收入分别为 $\frac{2728}{1-9\%}$ 元和 $\frac{20625}{1+9\%}$ 元，前者占后者的比重约为 $\frac{2728}{1-9\%} \div \frac{20625}{1+9\%} \approx \frac{2700}{20600} \times \frac{110}{90} = \frac{33}{206} \times 100\% \approx 16\%$ ，D 项与之最接近。故本题选 D。

88. 【答案】B。解析：根据表格可知，2016 年 1~6 月该省农村居民的人均工资性收入和转移净收入分别为 9063 元和 1375 元，前者约是后者的 $\frac{9063}{1375} \approx \frac{9000}{1400} \approx 6.4$ 倍，B 项与之最接近。故本题选 B。

89. 【答案】B。解析：观察表格可知，2016 年 1~6 月，农村居民的工资性收入和财产净收入的数值与同比增长率均大于经营净收入，则工资性收入和资产净收入的同比增长量也大于经营净收入，排除 A、C 项。转移净收入的数值是经营净收入的 2 倍左右，而两者的同比增长率相差不大，因此经营净收入的同比增长量小于转移净收入。故本题选 B。

90. 【答案】A。解析：根据表格可知，2015 年 1~6 月，该省城镇居民人均可支配收入和农村居民

人均可支配收入分别为 $\frac{20625}{1+9\%}$ 元和 $\frac{12217}{1+8.5\%}$ 元，前者约是后者的 $\frac{20625}{1+9\%} \div \frac{12217}{1+8.5\%} \approx \frac{20600}{12200} \approx 1.7$ 倍，

A 项与之最接近。故本题选 A。

91. 【答案】D。解析：根据材料第一段可知，2015 年我国 GDP 占世界的比重为 15.5%，比 2012 年高 4 个百分点，则 2012 年，我国国内生产总值占世界的比重为 $15.5\% - 4\% = 11.5\%$ 。故本题选 D。

92. 【答案】C。解析：根据材料第二段可知，2015 年，我国服务业增加值为 34.16 万亿元，按年均增长率为 8.1% 计算，2015 年我国服务业增加值同比约增加了 $\frac{34.16}{1+8.1\%} \times 8.1\% \approx 34 \times (1-8\%) \times 8\% \approx 2.5$

万亿元，C 项与之最接近。故本题选 C。

93. 【答案】D。解析：根据材料第二段可知，2012~2015 年我国服务业投资额年均增长 15.9%，则 2015 年我国服务业投资额相对于 2012 年的增长率约为 $(1+15.9\%)^3 - 1 \approx 0.56$ ，即增长率约为 56%。故本题选 D。

94. 【答案】C。解析：根据材料最后一段可知，2014 年，新增小微企业贷款 2.1 万亿元，占企业新增贷款 41.9%，则 2014 年企业新增贷款额约为 $\frac{2.1}{41.9\%} \approx \frac{2.1}{42\%} = 5$ 万亿元。故本题选 C。

95. 【答案】C。解析：根据材料第一段和第二段可知，2012~2015 年我国 GDP 年均增长 7.3%，服务业投资额年均增长 15.9%，后者快于前者，A 项正确。根据材料第五段可知，2014 年电子商务交易额达 16.4 万亿元，其中自营电商交易额为 8.7 万亿元，后者占前者的比重为 $\frac{8.7}{16.4} \times 100\% > 50\%$ ，因此在电

子商务交易中自营电子商务交易是主体，B 项正确。根据材料第四段可知，2013~2015 年，规模以上服务企业中“互联网和相关服务业”营业收入增速远高于同期规模以上服务业营业收入的增速，因此未来服务业的发展主要是依靠互联网和相关服务业，C 项错误。根据材料第三段可知，2014 年、2015 年全年网上零售额分别为 2.79 万亿元、3.88 万亿元，增长 49.7% 和 39.1%，则 2015 年全年网上零售额比 2013 年增长了 $3.88 - \frac{2.79}{1+49.7\%} \approx 2.02$ 万亿元，D 项正确。故本题选 C。

96. 【答案】D。解析：根据文字材料第二段可知，2015 年 2 季度，J 省城乡消费者就业满意指数分别为 99.3、104.2，环比分别下降 6.1、3.3 个百分点；城乡家庭收入满意指数分别为 100.4、98.1，环比分别下降 9.6、3.1 个百分点。因此 2015 年 1 季度，城镇就业满意指数为 $99.3 + 6.1 = 105.4$ ，农村就业满意指数为 $104.2 + 3.3 = 107.5$ ，城镇家庭收入满意指数为 $100.4 + 9.6 = 110$ ，农村家庭收入满意指数为 $98.1 + 3.1 = 101.2$ 。数值最低的是农村家庭收入满意指数。故本题选 D。

97. 【答案】B。解析：根据文字材料最后一段可知，Z 省 2015 年 2 季度农村消费者信心指数值是 108.7，环比下降 3.4 个百分点，则 Z 省 2015 年 1 季度农村消费者信心指数为 $108.7 + 3.4 = 112.1$ 。故本题选 B。

98. 【答案】B。解析：根据折线图可知，Z 省 2015 年 1 季度消费者信心指数为 $Z_1 = 112.4$ ，2 季度为 $Z_2 = 110.2$ 。根据文字材料第一段可知，J 省 2015 年 1 季度消费者信心指数为 $J_1 = 101.1 + 4.6 = 105.7$ ，2 季度为 $J_2 = 101.1$ 。因此从大到小排序为 $Z_1 > Z_2 > J_1 > J_2$ 。故本题选 B。

99. 【答案】C。解析：观察折线图比较可知，Z 省消费者满意指数下降最快的时间段是 2015 年 1 季度。故本题选 C。

100. 【答案】D。解析：根据文字材料第四段可知，Z 省 2015 年 2 季度城镇消费者信心指数环比下降 1.4 个百分点，农村消费者信心指数环比下降 3.4 个百分点，前者数值小于后者，A 项错误。材料未给出 J 省 2014 年 3、4 季度消费者信心指数数值，无法比较变化趋势，B 项错误。根据文字材料和折线图可知，2015 年 2 季度，J 省消费者预期指数（ICS）为 103.8，Z 省为 111.8，二者相差 $111.8 - 103.8 = 8 < 10$ ，C 项错误。根据折线图可知，2014 年 4 季度 Z 省消费者信心指数最高且环比增速最快，D 项正确。故本题选 D。