

展鸿教育

职测模拟卷



扫描添加陈老师微信

领取海量电子资料

展鸿事业单位招聘考试模拟卷《职业能力倾向测验》

本试卷全为单选题。共 100 题，满分 100 分，总时限 120 分钟。所有题目的答案请用 2B 铅笔填涂在答题卡上。切勿在试卷上作答。

第一部分 常识判断

请在每道题列出四个选项中选出一个最佳选项，并将答案用 2B 铅笔填涂在答题卡上。（共 20 题，每题 0.57 分，满分 11.4 分）

- 下列有关生活中常见溶液的说法，错误的是（ ）。
 - 医用酒精浓度越高，消毒效果越好
 - 生理盐水中含有氯化钠
 - 生理盐水可用于清洁伤口
 - 福尔马林具有防腐、消毒和漂白功能
- 人们通常所说的 5 号、7 号干电池代表的是干电池的型号。下列关于干电池型号的说法，正确的是（ ）。
 - 不同型号表示电池的外形尺寸不同
 - 不同型号表示电池所含的电量不同
 - 不同型号表示电池的材质不同
 - 不同型号表示电池的用途不同
- 制作光纤的材料主要是（ ）。

- A. 氧化铁 B. 碳纤维 C. 二氧化硅 D. 氧化铝
4. () 时眼睛会随着快速运动的物体转动, 起到调节、放松的作用, 延缓老花、预防近视。
- A. 打乒乓球 B. 看电视 C. 浏览网页 D. 玩游戏
5. 中国共产党第十九届中央委员会第二次全体会议于 2018 年 1 月 18 日至 19 日在北京召开, 会议的主要议程是 ()。
- A. 研究制定国民经济发展计划 B. 研究全面从严治党的重大问题
C. 讨论修改宪法部分内容的建议 D. 研究党和政府机构改革的重大问题
6. “天地合气, 万物自生”“天行有常, 不为尧存, 不为桀亡”属于 () 观点。
- A. 朴素唯物主义 B. 庸俗唯物主义 C. 客观唯心主义 D. 主观唯心主义
7. 党的十九大报告指出, 在全面建设社会主义现代化强的基础上, 通过“两步走”, 实现建设社会主义现代化强国的目标, 其特征是富强、民主、文明、和谐、()。
- A. 创新 B. 法制 C. 安全 D. 美丽
8. 下列国家中, 不是实行总统共和制的是 ()。
- A. 巴西 B. 美国 C. 埃及 D. 德国
9. 下列不属于物权种类的是 ()。
- A. 所有权 B. 债权 C. 用益物权 D. 担保物权
10. 下列表述不符合我国《刑法》的一项是 ()。
- A. 法律没有明文规定为犯罪行为的, 不得定罪处罚
B. 已满十四周岁不满十六周岁的人, 犯抢劫罪的, 应当负刑事责任
C. 刑罚的主刑包括拘役、有期徒刑、无期徒刑和死刑四种
D. 对于被判处死刑、无期徒刑的犯罪分子, 应当剥夺政治权利终身
11. 燃烧是可燃物与氧气或空气进行的快速放热和放光的氧化反应。下列物质燃烧只生成水的是 ()。
- A. 煤炭 B. 石油 C. 氢气 D. 氦气
12. 孙中山以“世界潮流, 浩浩荡荡, 顺之则昌, 逆之则亡”为自己的座右铭, 强调要“内审中国之情势, 外察世界之潮流, 兼收众长, 益以新创”。在这一过程中, 他吸收了西方资本主义政治学说的内容, 其中最主要的是 ()。
- A. 君主立宪的思想 B. 天人合一的思想
C. 民主共和的思想 D. 人文主义的思想
13. 下列哪一成语的典故不是来自真实历史事件? ()
- A. 暗度陈仓 B. 草木皆兵 C. 逼上梁山 D. 乐不思蜀
14. 下列药物不适用于清热利咽的是 ()。
- A. 胖大海 B. 板蓝根 C. 片仔癀 D. 珍珠粉
15. 地球东西半球的分界线是以 () 来划分的。
- A. 0° 经线与 180° 经线 B. 西经 20° 与东经 160°
C. 东经 20° 与西经 160° D. 东经 90° 与西经 90°

16. 关于我国少数民族，下列说法错误的是（ ）。

- A. 藏文是人民币上的文字之一
B. 回族是分布最广的少数民族
C. 壮族是人口最多的少数民族
D. 苗族主要分布在粤、闽、赣等省区

17. 在某手机专卖店里，最新款式的苹果手机价格超过 6000 元，而一台最新款式的某国产品牌手机却只需要 3000 元，这体现了货币基本职能中的（ ）职能。

- A. 支付手段
B. 价值尺度
C. 世界货币
D. 流通手段

18. “行政机关不得法外设定权力，没有法律法规依据不得作出减损公民、法人和其他组织合法权益或者增加其义务的决定”，这体现了法治政府建设中哪项要求？（ ）

- A. 职能科学
B. 守法诚信
C. 执法严明
D. 权责法定

19. （ ）是公文处理程序的核心环节，也是公文发挥现实效用的基本保证。

- A. 答复
B. 催办
C. 传阅
D. 承办

20. 互联网上每一个网络或每一台主机所分配的逻辑地址称为 IP 地址。目前，IP 地址主要有 IPv4 地址和 IPv6 地址两大类。下列对应错误的是（ ）。

- A. 192. 168. 0. 57——IPv4 地址
B. 10. 255. 8. 239——IPv4 地址
C. 0D-89-A5-9B-F3-61——IPv6 地址
D. 2016:DB8:0:2DE:A13——IPv6 地址

第二部分 言语表达与理解

请在每道题列出的四个选项中选出一个最佳选项，并将答案用 2B 铅笔填涂在答题卡上。（共 25 题，每题 0.96 分，满分 24 分）

21. 明星天价片酬已不是一件新鲜事。拍一部电影、出演一部电视剧动辄千万的酬劳一再受公众质疑和_____。片酬虚高和漫天要价等不良现象，水涨船高式地搅乱着整个行业秩序。明星作为公众人物，光鲜的生活本就在聚光灯下，天价片酬以及由此带来的奢华生活不仅令公众_____，也有损整个社会的公平感和获得感。

依次填入划横线部分最恰当的一项是（ ）。

- A. 批评 不齿
B. 揶揄 反感
C. 诟病 侧目
D. 审视 惊心

22. 树匠心既要弘扬优良传统，又要紧跟时代步伐，勇于开拓创新，应从中华优秀传统文化中汲取营养，不断赋予其新的时代内涵，让尊重劳动、尊重知识、尊重人才、尊重创造成为社会共识，让工匠精神_____、发扬光大。

填入划横线部分最恰当的一项是（ ）。

- A. 重见天日
B. 薪火相传
C. 昨日黄花
D. 凤凰涅槃

23. 当下，“网红食品”让一些美食爱好者_____。然而，朋友圈里的美食宣传往往真假莫辨。“网红食品”利用朋友圈熟人关系、口碑传播的社交特性推销产品，甚至_____营销公众号为其背书。

依次填入划横线部分最恰当的一项是 ()。

- A. 接踵而来 鼓动
- B. 蜂拥而至 发起
- C. 亦步亦趋 策动
- D. 趋之若鹜 发动

24. 电视是最普及的传播_____, 电视工作者更应该有高度的文化自觉, 调整单纯迎合观众需求的_____, 进一步主动挖掘和引导观众的高层次需求, 为满足国人的精神文化生活、增强民族复兴的精神力量助力添薪。

依次填入划横线部分最恰当的一项是 ()。

- A. 载体 思考
- B. 载体 思维
- C. 媒体 思索
- D. 媒体 思维

25. 关系清爽, 干事才能专心。保持头脑清醒, 时刻观照内心, 多一点“精神洁癖”, 不在拉关系、找门路上_____, 而是在干实事、有作为上_____, 才不会上演“树倒猢猻散”的戏码。

依次填入划横线部分最恰当的一项是 ()。

- A. 投其所好 深谋远虑
- B. 投机取巧 殚精竭虑
- C. 废寝忘食 坚持不懈
- D. 好高骛远 磨杵成针

26. 要实施整体性发展, _____必然要求推行协商民主, _____整体性发展的核心要素或内在的统领性要素是整体利益, 这种整体利益把不同的群体统合在一起, _____形成了促进整体性发展的强大动力。

依次填入划横线部分最恰当的一项是 ()。

- A. 就 因为 所以
- B. 于是 因为 从而
- C. 就 因为 从而
- D. 于是 因为 所以

27. 所谓“气盛”, 即作者情绪饱满, 思想充实。因此, 作者的精神状态和语言_____。一个人精神好的时候往往才华横溢, _____; 疲倦的时候往往_____。

依次填入划横线部分最恰当的一项是 ()。

- A. 息息相关 妙语连珠 词不达意
- B. 相辅相成 巧舌如簧 言不尽意
- C. 一脉相承 喋喋不休 模糊不清
- D. 相得益彰 口若悬河 一语中的

28. 小城镇具有低成本吸纳农村人口的先天性优势, 是连接城市与乡村的重要_____。小城镇在促进农村人口转移、_____城乡发展、扩大消费需求及投资需求等方面具有重要作用, 尤其是那些位于城市群区域内的小城镇, 可以在接受来自大城市_____的同时加大对“三农”领域的服务。

依次填入划横线部分最恰当的一项是 ()。

- A. 桥梁 谋划 影响
- B. 节点 统筹 辐射
- C. 枢纽 规划 优势
- D. 通道 筹划 馈赠

29. 有学者认为, 加强传统书写教育的积极作用_____。它能够_____书法文化, 消除使用输入法给人们的汉字记忆带来的负面影响。

依次填入划横线部分最恰当的一项是 ()。

- A. 显而易见 传承
- B. 不言而喻 宣扬
- C. 毋庸置疑 发扬
- D. 众所周知 传递

30. 非物质文化遗产从某种程度上来说是一个民族最稳定的文化 DNA。有了它, 一个民族就可以知道

“我是谁”“我来自哪里”，便可以知道自己用何种方式能够独立于世界民族之林。同时，它也是一个民族必需的“_____”，无论自身的传统如何失落，世界大势如何变化，外来文化如何冲击，只要保护好这最后的东西，这个民族的文化即使危在旦夕，也能起死回生。

填入划横线部分最恰当的一项是（ ）。

- A. 不老泉 B. 生命源 C. 脐带血 D. 还魂草

31. 在信息技术还不发达的年代，信息获得和传播的障碍成为隐私利益的天然保护，因此还不需要专门的法律制度来规范社会成员对他人隐私利益的不当获得和利用。但是，随着信息技术不断发展，一些人可以通过发达的信息技术提高自己的信息能力，从而获得更多的信息时，社会组织成员之间的竞争平衡便被破坏了。这种竞争平衡被破坏的直接后果便是一部分社会组织成员处于不利的竞争地位，从而丧失更多的自由。为了恢复竞争的平衡，需要在制度上设置私权来限制这种不当的竞争行为，_____。

填入文中划横线处最恰当的一句是（ ）。

- A. 这便是隐私权制度的意义
B. 这便需要隐私权制度来进行干预
C. 隐私权制度恢复了社会成员竞争的平衡
D. 隐私权制度就成为个人权利不可或缺的保障

32. ①在全球化进程中，资本主义生产方式与分工体系的急速扩张，引发资源短缺、生态破坏及环境难民增加

②资源匮乏与环境污染带来的生态危机，是全球风险社会的突出问题

③然而，由于选举周期的政治考虑或经济问题优先等现实局限

④而传统地缘治理体系却无法抑制，急需寻求对环境问题的全球治理方案

⑤一些国家缺乏解决生态问题的政治意愿，使全球生态环境的可持续发展无从谈起

将上述句子组成语意连贯的语段，排序最恰当的一项是（ ）。

- A. ②①③⑤④ B. ①②③⑤④ C. ②①④③⑤ D. ③①②④⑤

33. ①远古文明，充满了悬念和玄机，其中的迷雾和疑团，尤其让人着迷，让人心驰神往

②人类的古代文明，时常使现代人感到目眩

③玛雅人的历史虽不如中国的历史那么古老，但因为缺乏足够的历史记载，又突然从南美丛林中销声匿迹，所以给现在人的印象扑朔迷离，神秘之极

④那些刻在龟甲和兽骨上，写在竹简上，刻在石碑上的文字，把数千年前的天地景象和人间故事留给了现代人

⑤中国人善于用文字记载历史

将上述句子组成语意连贯的语段，排序最恰当的一项是（ ）。

- A. ①②③④⑤ B. ②①③⑤④ C. ③⑤④②① D. ③⑤④①②

34. 方言，指各地用语。周秦之时，政府派遣“轩使者”（乘坐轻车的使者）到各地搜集地方用语，并加以记录整理。两千多年前，西汉扬雄著《轩使者绝代语释别国方言》，东汉应劭将此书名简称为《方言》，此后“方言”开始作为特定词语使用。与方言对应的是雅言，后称官话、国语。1956年后称普通

话并予以推广。60年后，普通话推广已非常成功，而方言却面临着式微、需要保护的局面。

根据这段文字，下列说法正确的是（ ）。

- A. 说明方言与普通话的发展相辅相成密不可分
- B. 说明方言与普通话都拥有非常悠久的发展历史
- C. 作者认为普通话的推广导致了方言式微的局面
- D. 应该思考如何让推广普通话与保护方言相得益彰

35. 先秦诸子都曾力图以各自的理论征服诸侯，但是空洞的说教是缺乏魅力的，远不如形象之物能征服对象，他们因此借鉴了此前已有的比兴手法，于是渐渐形成了以自然物寄托审美理想的表达方式，至今已有 3000 年。

这段文字中“对象”一词，指的是（ ）。

- A. 各国诸侯
- B. 被劝说的诸侯
- C. 诸子百家
- D. 有不同意见的诸子百家

36. 人的身高是生物学性状之一。一直以来，人们认为身高主要是遗传、饮食和环境因素综合决定的。但是，在人类认识了基因的作用后，开始认为基因在决定身高中占主要作用，于是在人类基因组计划完成后，开始寻找与身高相关的基因，并获得其与健康、疾病等有关的信息和知识。

接下来最可能讲述的是（ ）。

- A. 身高差距大的人在外貌、健康状态上差异也大
- B. 饮食、环境及个人健康状况对基因有影响
- C. 寻找与身高基因有关的数据并实证分析
- D. 决定身高的基因还影响着健康、疾病等

37. 当河流入海时，由于受潮流及河口变宽的影响，逐渐分散水流，流速因为客观的原因不断下降，这样流速带来的大量泥沙就淤积在河口段，海洋动力的侵蚀速率小于淤积的速率，这样在河流入海处长年累月就形成扇面状的堆积体。另一个造成泥沙大量沉积的原因，是河流中有大量以胶体状态存在的细黏土，这些细黏土遇到海水时，由于盐的作用逐渐形成凝絮沉淀下来，并随着堆积的越来越高而逐渐露出水面，形成三角洲平原。

这段话主要来介绍的是（ ）。

- A. 三角洲平原的特点
- B. 三角洲平原形成的原因
- C. 三角洲平原的分布特点
- D. 三角洲平原对人类生活的意义

38. 某青年作家写过文章讲述自己有限的相亲经历。她认为，人在答应相亲的一刹那，就把自己摆在一个被面试的位置上不能动弹。这大概点出了一些人吐槽相亲的真实想法——一旦参加相亲，就把自己放入了某种被动境地，自己所有的条件都仿佛要受人检阅。相亲成功固然好，但是底牌出尽，未来少了回旋余地；相亲失败，情不投意不合，简直成了一场互相伤害的灾难。

根据这段话，可以看出该青年作家对于相亲这种婚恋模式的态度是（ ）。

- A. 鼓励
- B. 否定
- C. 中立
- D. 辩证

39. 虽然翻拍要比重新创作或“另起灶炉”显得容易些，但也不能因为翻拍就忽略了剧本的质量，胡编乱造更是行不通。创作是第一要务，是翻拍成败的基础，翻拍要是失败了，失掉的不仅是观众，还

会带来对原来成功形象的瓦解和品牌贬值。

上述文字，意在强调翻拍（ ）。

- A. 并不一定比“新拍”容易
- B. 不能胡编乱造，颠覆经典
- C. 也需要进一步挖掘和创新
- D. 如果失败会反噬原有口碑

40. 我国的传统武术，首先强调强身健体，其次才是防御性的自我保护。这一点，在我儿时就接受过类似忠告。村里上年纪的武术教师训练男孩子习武，先跟他们说练习武术不是为了打架，更不是去伤害无辜，而是强身健体，学会自我防御。这样的习武精神，如果不是从老一辈嘴里说出，我是很难理解中国传统武术的“初心”是什么。

这段文字作者意在说明（ ）。

- A. 我们很难理解传统武术的“初心”
- B. 传统武术的“初心”是什么
- C. 传统武术并不能自我保护
- D. 习武的目的是为了强身健体

41. 烙画古称“火针刺绣”，是一门传承千年的艺术。烙画以火为“墨”，用火烧热特制铁笔，在物体上烫出烙痕作画。因炭化程度不同呈现出浅褐色、深褐色和黑色等色调。烙画讲究火候和力度，讲究轻重缓急、深浅浓淡。一支铁笔在手，下笔的力度和时机都决定着画作的质量，任何环节掌握不好都会功亏一篑。

这段文字主要介绍了（ ）。

- A. 评价烙画水平的标准
- B. 烙画制作工艺的特点
- C. 制作烙画的关键环节
- D. 烙画独有的艺术魅力

42. 国家是用边界围起来的政治实体，是国家政权行使权力的区域，可以看作一种政治区划。但是这种边界围起的政治区划，只是国家的形式，并不是国家的本质。真正的国家是指边界之内的国民已经形成了一种“凝聚力”，这种凝聚力可以称之为“国家意识”，就是大家都在内心深处认为我是“某国人”。没有形成这种意识的国家，本质上还不能称为一个国家，是很不稳固的。真正的大国不仅在于领土大、人口多，关键在于其国民是否已经形成了“国家意识”，产生了“国家认同”。

这段话主要谈的是（ ）。

- A. 国家的边界意识
- B. 国家的本质属性
- C. 国家认同的作用
- D. 国家意识的内涵

43. 荆轲，那个“风萧萧兮易水寒，壮士一去兮不复还”的勇士，在我国历史上是个特有的文化符号。然而，在手游里，“荆轲”二字变成了刺客家族世代传承的名号；刘备变成了肩扛火枪身穿风衣的黑帮教父；“刺秦”的故事也被胡编乱造得南辕北辙……在手游里，几千年来人们熟知的历史人物变得面目全非。这对缺少历史知识的少年儿童来说很容易产生迷惑，历史在这里，真成了可以“被随意打扮的小姑娘”。

最适合做以上文字标题的一项是（ ）。

- A. 手游也需要尊重历史
- B. 手游不该“游戏”历史
- C. 对历史的演绎不能过火
- D. 历史不该被手游过度消费

44. 量化历史研究的一部分工作，就是找到合适的量来反映过去。比如身高数据恰好可以在历史研究，尤其是经济史研究中承担起这样的角色。在个体层面影响身高的因素有很多。在社会层面，平均身

高和个体青少年时期的生活水平有很密切的关联。身高会在一定年龄定型，直到老年时期都不会发生太大的变化。身高相当于“冻结”了过去的社会经济状况，虽然没有琥珀定住虫子那么精确，但已弥足珍贵。

作者通过这段文字主要想说明的是（ ）。

- A. 社会经济状况对人体身高有何影响
- B. 经济史研究可以参考人的身体数据
- C. 量化历史研究如何选取恰当的参量
- D. 身高数据“冻结”了社会经济状况

45. 英国一项研究发现，咀嚼行为能激活口腔一种名为 Th17 的免疫细胞，这种免疫细胞能抵御口腔常见的细菌和真菌感染。研究人员在实验室中给小鼠喂食硬度较高的食物，增加它们进食时的咀嚼次数，结果成功导致小鼠的 Th17 免疫细胞数量上升，证明了咀嚼行为激活相关免疫系统的效果。与皮肤、肠道等部位的免疫细胞不同，口腔中的 Th17 免疫细胞的激活机制比较独特，不是因出现细菌被激活，而是通过咀嚼行为被激活，从而引发牙龈中的免疫反应。

这段文字意在说明（ ）。

- A. Th17 免疫细胞激活机制的独特之处在于它是被咀嚼行为激活的
- B. 口腔中能抵御细菌和真菌感染的免疫细胞只能被咀嚼行为激活
- C. 咀嚼行为比细菌更能唤起牙龈的免疫反应
- D. 适当的咀嚼行为有助于增强口腔的免疫力

第三部分 数量关系

请在每道题列出的四个选项中选出一个最佳选项，并将答案用 2B 铅笔填涂在答题卡上。（共 15 题，每题 1.24 分，满分 18.6 分）

46. $2 \cdot 1^2 + 2 \cdot 2^2 + 2 \cdot 3^2 + 2 \cdot 4^2 = (\quad)$ 。

- A. 9.01 B. 20.30 C. 15.90 D. 19.56

47. 一种长方形餐桌，长边处可以坐 2 人，短边处可以坐 1 人。如果把这样的 7 张餐桌在短边处拼接起来，四周可以坐多少人？（ \quad ）

- A. 34 人 B. 30 人 C. 26 人 D. 18 人

48. 红旗汽车厂为生产汽车编号，依次为 101, 103, 105, ……，则编号为 303 的汽车是第（ \quad ）辆。

- A. 101 B. 102 C. 103 D. 104

49. 小明从家里去上班平均速度为 60，下班回家平均速度为 120，小明上下班途中的平均速度为（ \quad ）。

- A. 80 B. 90 C. 100 D. 110

50. 某新建农庄有一项绿化工程，交给甲、乙、丙、丁 4 人合作完成。已知 4 人的工作效率之比为 3:5:4:6，甲、乙合作完成所需时间比丙、丁合作多 9 天，则 4 人合作完成工程所需时间是（ \quad ）。

- A. 17 天 B. 18 天 C. 19 天 D. 20 天

51. 某基层机关有甲和乙两个办公室，共有 10 名员工。其中甲办公室人数为乙办公室人数的 1.5 倍，现从这 10 名员工中随机抽出 2 人借调到上级机关，问借调的人来自同一办公室的概率为（ \quad ）。

- A. $\frac{1}{3}$ B. $\frac{2}{5}$ C. $\frac{4}{9}$ D. $\frac{7}{15}$

52. 某种鸡尾酒的酒精浓度为 20%，由 A 种酒、B 种酒和酒精浓度（酒精重量 ÷ 酒水总重量）10% 的 C 种酒按 1:3:1 的比例（重量比）调制成。已知 B 种酒的酒精浓度是 A 种酒的一半，则 A 种酒的酒精浓度是（ \quad ）。

- A. 36% B. 30% C. 24% D. 18%

53. 3 年前张三的年龄是他女儿的 17 倍，3 年后张三的年龄是他女儿的 5 倍，那么张三的女儿现在（ \quad ）。

- A. 2 岁 B. 3 岁 C. 4 岁 D. 5 岁

54. 小王有若干硬币，他发现如果把这些硬币平均放在 2 个盒子里则多出一个硬币，同样，小王把他们平均放在 3 个、4 个、5 个和 6 个盒子里，均多出一个硬币。问小王至少有多少个硬币？（ \quad ）

- A. 57 个 B. 61 个 C. 73 个 D. 97 个

55. 某餐厅收银员在结算时误将顾客应支付金额百位上的数字看成十位上的数字，十位上的数字看成百位上的数字，导致顾客多支付了 180 元，那么该顾客本来可能支付的金额为（ \quad ）元。

- A. 236 B. 329 C. 356 D. 443

56. 某班共有学生 40 名，其中喜欢打乒乓球、篮球和排球的学生分别有 35 人、33 人和 32 人。问这三项运动都喜欢的学生至少有多少人？（ ）

- A. 20 人 B. 24 人 C. 28 人 D. 32 人

57. 某地区按以下规定收取电费：当月用电不超过 200 度，按每度电 0.45 元收费；当月用电超过 200 度，则超过部分按每度电 0.8 元收费。某用户 6 月份交电费平均每度电 0.55 元，则他家 6 月份用电为多少度？（ ）

- A. 170 B. 220 C. 280 D. 310

58. 某单位准备对 240 份档案进行整理。若职员甲先用 4 天单独整理了其中一部分档案，则余下的档案由职员乙单独整理需要 9 天完成；若职员甲先单独整理 8 天，则余下的档案由职员乙单独整理需要 3 天完成。如果这两个职员一起整理完档案，需（ ）天。

- A. 6 B. 16 C. 24 D. 40

59. 某班共有 8 名战士，现在从中挑出 4 人平均分成两个战斗小组分别参加射击和格斗考核，问共有多少种不同的方案？（ ）

- A. 210 B. 420 C. 630 D. 840

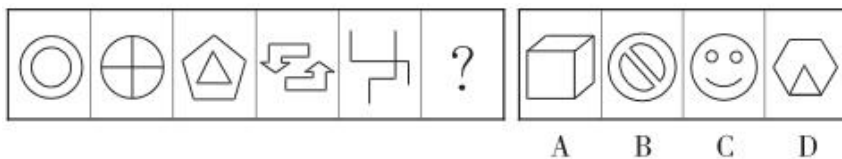
60. 某超市为促销，规定沙姜按原标价的 80% 售卖。但由于受天气影响，沙姜供应不足，该超市决定在现售价的基础上将价格提高 40%。此时，该超市沙姜的售价比原标价（ ）。

- A. 上涨 10% B. 上涨 12% C. 下降 10% D. 下降 12%

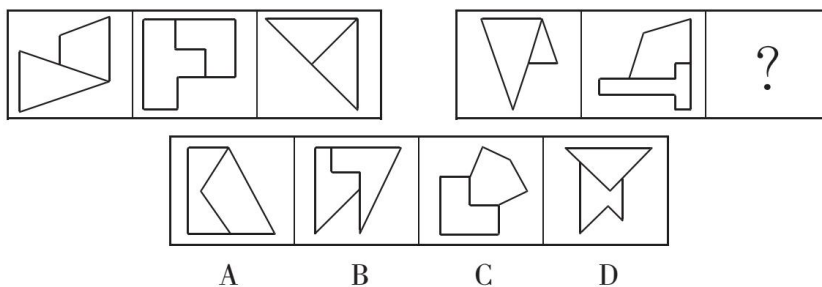
第四部分 判断推理

请在每道题列出的四个选项中选出一个最佳选项，并将答案用 2B 铅笔填涂在答题卡上。（共 20 题，每题 1.06 分，满分 21.2 分）

61. 根据所给图形的既有规律，选出一个最合理的答案。



62. 根据所给图形的既有规律，选出一个最合理的答案。



D. 一个水桶无论有多高，它盛水的高度取决于其中最低的那块木板

68. 与“菡萏：荷花”这组词语逻辑关系最为接近的是（ ）。

- A. 蚍蜉：白蚁
B. 土豆：番薯
C. 西瓜：倭瓜
D. 县衙：部门

69. 与“考试：评分：及格”这组词语逻辑关系最为接近的是（ ）。

- A. 招聘：面试：录用
B. 法庭：审判：辩论
C. 质检：公示：化验
D. 逮捕：扣押：取证

70. 与“莫高窟：敦煌”这组词语逻辑关系最为接近的是（ ）。

- A. 中山陵：南京
B. 白公馆：成都
C. 嵩山：河北
D. 翠湖：济南

71. 与“演员：实力派：偶像派”这组词语逻辑关系最为相近的是（ ）。

- A. 唐朝：秀才：进士
B. 苹果：西瓜：水果
C. 宋词：婉约派：豪放派
D. 开心：快乐：喜悦

72. （ ）对于“简朴”相当于“不名一钱”对于（ ）

- A. 别无长物 廉价
B. 粗茶淡饭 贫穷
C. 金迷纸醉 著名
D. 筚路蓝缕 价值

73. 甲、乙、丙三位老师分别教语文、数学和英语三门科目中的一门。已知英语老师是一个学生的叔叔；甲上课全用汉语；丙是女的，比数学老师年轻。

根据上述条件，甲、乙、丙各教什么科目？（ ）

- A. 甲：英语，乙：语文，丙：数学
B. 甲：语文，乙：英语，丙：数学
C. 甲：数学，乙：英语，丙：语文
D. 甲：语文，乙：数学，丙：英语

74. 某学校有五位学生会留任委员会候选成员，分别是小张、小王、小李、小刘、小陈，其中小张、小王、小李对此次竞选的结果预测如下：

小张：如果小陈没有当选，则我也不会当选

小王：我和小刘、小陈三人要么都当选，要么都不当选

小李：如果我当选，则小王也当选

评定结果出来后，发现三人的预测都是错误的，则最终有多少人当选？（ ）

- A. 1
B. 2
C. 3
D. 4

75. 研究显示，黑、灰色汽车是盗贼的最爱，亮色汽车很少被问津，白色汽车失窃率最低。心理学家分析认为，偷车贼往往有“黑暗型人格”，选择和自己性格颜色相反的汽车倒卖，让他们感觉不踏实。相比新款或豪车而言，盗车贼偏好有着三年车龄左右的大众车型，这种车保值且好转手。

根据上文，最有可能推出的是（ ）。

- A. 三年车龄的红色大众车型最易被盗
B. 暗色系汽车在二手车市场最为畅销
C. 崭新的白色豪华汽车不容易被盗
D. 最畅销的车型也是最易被盗的车型

76. 在美国，X研究院的所有院士都反对人类食用转基因食品，而专门生产转基因玉米的Y公司，其所有领导层人员都认为转基因食品是安全的，提倡人们放心食用。一些大学教授兼任Y公司的领导。

假设以上陈述为真，则以下哪项一定为真？（ ）

- A. 有些大学教授是美国X研究院的院士
- B. 有些研究院院士支持人类食用转基因食品
- C. 一些大学教授支持人们食用转基因食品
- D. 有些大学教授不支持人们食用转基因食品

77. 几乎所有人在吃葡萄的时候都会把葡萄籽扔掉，研究显示，葡萄籽中含有一种对人体健康很重要的营养物质，而葡萄果肉中并没有这种营养物质，因此我们吃葡萄的时候，为了得到葡萄籽中的特殊营养应该把葡萄籽一起吃下去。

下列哪个如果正确，最能质疑专家的上述建议？（ ）

- A. 葡萄籽味道酸涩，难以下咽
- B. 人体无法消化未经过加工处理的葡萄籽
- C. 人类不可以通过其他途径获得葡萄籽中的营养物质
- D. 其他食物中都不含有葡萄籽中的特殊营养物质

78. 某纪检官员断言：“裸官”不是贪官就是要叛国。

下列能增加这个论断的信服力的有（ ）项。

- I. 裸官家属移民和海外生活费用绝大多数来自于他人贿赂
 - II. 已查处的裸官全是贪官
 - III. 经查，A省的裸官87%是贪官，剩下的不是出逃国外，就是有出逃国外的迹象
- A. 0 B. 1 C. 2 D. 3

79. 一名茶叶经销商在对客人介绍一种茶叶时说：“这种茶叶产自云山，而大名鼎鼎的云山茶正是产自云山，所以这就是正宗的云山茶。”

以下与该经销商介绍茶叶时的逻辑最为相似的是（ ）。

- A. 三班的学生都勤奋好学，小李是三班的学生，所以小李勤奋好学
- B. 飞驰牌汽车产自某国，刚才那辆汽车不是飞驰牌，所以肯定不是该国产的
- C. 所有司机都必须有驾照，小郑有驾照，所以小郑是司机
- D. 好医生需要具备精湛的医术和高尚的医德，小陈二者兼备，所以他是好医生

80. 总经理办公室门口有一提醒标志，上面写着“未预约者请勿入内”。某天，总经理约好的几位同事都来到办公室门口。

如果按照标志的要求，下列一定成立的是（ ）。

- A. 他们可能不会被允许进入
- B. 他们一定不会被允许进入
- C. 他们一定会被允许进入
- D. 他们不可能被允许进入

第五部分 资料分析

请在每道题列出的四个选项中选出一个最佳选项，并将答案用 2B 铅笔填涂在答题卡上。（共 20 题，每题 1.24 分，满分 24.8 分）

一、根据以下资料，回答 81~85 题。

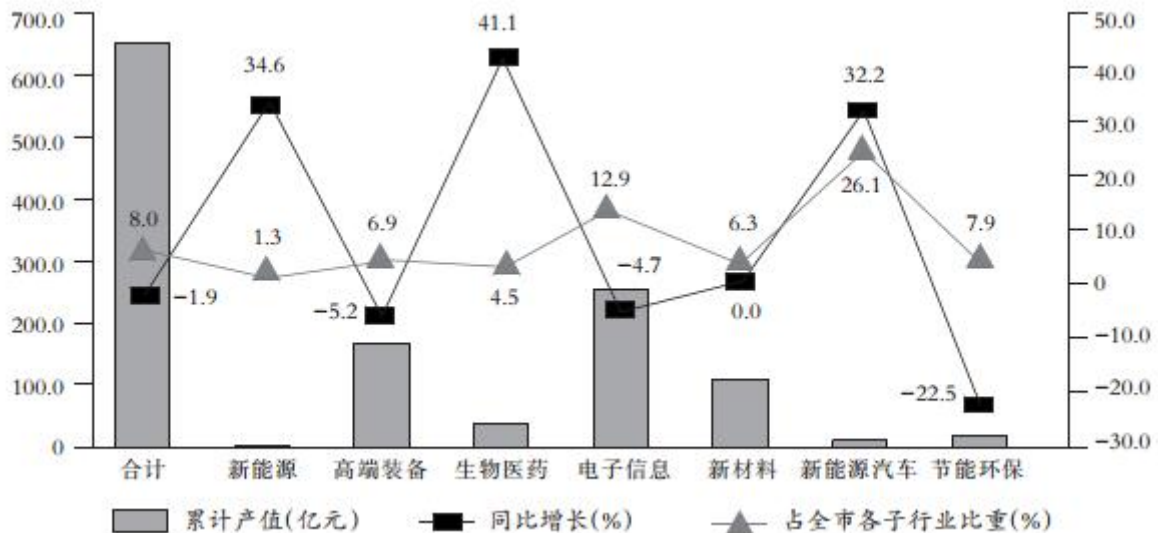
2016 年，M 市“四大产业集群”共完成行业产值 153.36 亿元，同比增长 4.8%，高于属地产值增速 9.2 个百分点。

2016 年 M 市“四大产业集群”产值完成情况

	1~12 月产值（亿元）	同比增长（%）
合 计	153.36	4.8
高性能医疗设备及精准医疗	18.59	79.9
集成电路及物联网	63.47	-0.7
新能源汽车及汽车智能化	32.41	-5.2
智能制造及机器人	38.89	2.6

战略性新兴产业以往一直是 M 市工业的重要增长点，全年共完成产值 643.7 亿元，占属地产值的 21.2%，同比下降 1.9%，降幅慢于属地工业 1 个百分点。

2016 年 M 市战略性新兴产业完成情况



81. 2016 年，M 市属地产值的同比增速为（ ）。

- A. 4.8% B. -4.4% C. 4.4% D. 9.2%

82. 下列数据中，可判断同比增长呈现负增长的有（ ）个。

- ①2015 年 M 市属地产值 ②2016 年 M 市集成电路及物联网产业产值
 ③2016 年 M 市智能制造及机器人产业产值 ④2016 年 M 市战略性新兴产业产值

- A. 1 B. 2 C. 3 D. 4

83. 2016年M市“四大产业集群”产值完成情况中，新能源汽车及汽车智能化产业所占比重比高性能医疗设备及精准医疗产业所占比重约多（ ）个百分点。

- A. 8 B. 9 C. 10 D. 11

84. 2016年M市战略性新兴产业完成情况中，累计产值最高的产业与最低的产业的同比增长率相差（ ）个百分点。

- A. 11.6 B. 21.7 C. 26.6 D. 39.3

85. 根据以上资料，下列说法正确的是（ ）。

- A. 2016年M市属地产值为2036.3亿元
B. 2016年M市战略性新兴产业中，新能源汽车产业的产值为32.2亿元
C. 2016年M市战略性新兴产业中，节能环保产业的产值同比增长7.9%
D. 2016年M市战略性新兴产业中，新材料产业的产值与去年基本持平

二、根据以下资料，回答86~90题。

2017年第一季度，某省农林牧渔业增加值361.78亿元，比上年同期增长5.9%，高于上年同期0.2个百分点。具体情况如下：

该省种植业增加值119.21亿元，比上年同期增长8.2%。其中蔬菜种植面积358.80万亩，比上年同期增加18.23万亩，蔬菜产量471.42万吨，增长7.5%；茶叶种植面积679.53万亩，比上年同期增加19.79万亩，茶叶产量2.30万吨，增长19.4%。

该省林业增加值34.84亿元，比上年同期增长8.3%。

该省畜牧业增加值176.64亿元，比上年同期增长4.2%，增速比上年同期加快2.1个百分点。其中生猪存栏增速由上年同期的下降9.8%转为增长3.1%，出栏增速由上年同期的下降3.2%转为增长3.3%；猪牛羊禽肉产量67.80万吨，比上年同期增长3.1%；禽蛋产量5.33万吨，增长1.0%；牛奶产量1.40万吨，增长6.1%。

该省渔业增加值9.22亿元，比上年同期增长4.5%。全省水产品产量7.68万吨，比上年同期增长4.7%，其中，养殖水产品产量7.3万吨，增长4.7%。

该省农林牧渔服务业增加值21.87亿元，比上年同期增长3.8%。

86. 2016年第一季度，该省平均每亩蔬菜种植地产出蔬菜多少吨？（ ）

- A. 1.26 B. 1.29 C. 1.31 D. 1.35

87. 2017年第一季度，该省生猪出栏增速比上年同期（ ）。

- A. 加快12.9% B. 加快6.7% C. 加快6.5% D. 加快0.1%

88. 2017年第一季度，该省占农林牧渔业增加值比重超过三成的包括（ ）。

- A. 种植业、渔业 B. 林业、畜牧业
C. 种植业、畜牧业 D. 农林牧渔服务业、林业

89. 2017年第一季度，下列产业增加值同比增速从快到慢排序正确的是（ ）。

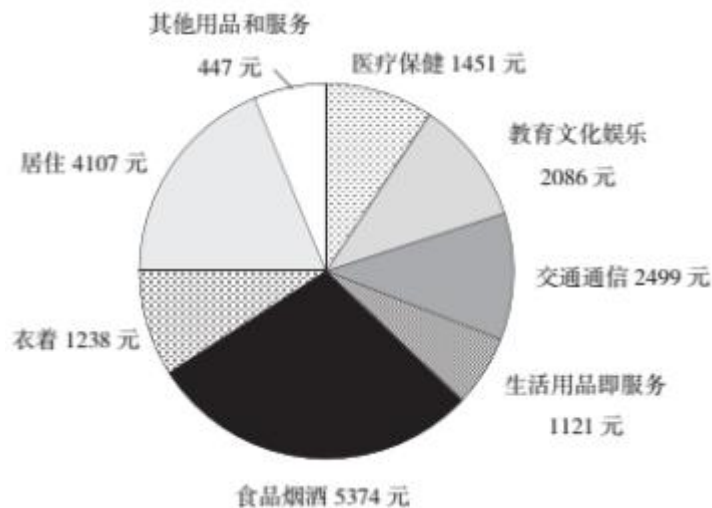
- A. 畜牧业>渔业>种植业>林业 B. 畜牧业>种植业>林业>渔业
C. 渔业>林业>种植业>畜牧业 D. 林业>种植业>渔业>畜牧业

90. 能够从上述资料中推出或计算出的是 ()。
- A. 2017 年该省农林牧渔服务业增加值
B. 2016 年第一季度全国农林牧渔业增加值
C. 2017 年第一季度该省水产品产量中非养殖水产品产量与 2016 年第一季度持平
D. 若 2017 年该省林业增加值每个季度的环比增长率不低于 10%，则 2017 年该省林业增加值将超过 150 亿元

三、根据以下资料，回答 91~95 题。

2017 年全国居民人均可支配收入 25974 元，比上年增长 9.0%，扣除价格因素，实际增长 7.3%。2017 年全国居民人均消费支出 18323 元，比上年增长 7.1%，扣除价格因素，实际增长 5.4%。按常住地分，城镇居民人均消费支出 24445 元，增长 5.9%，扣除价格因素，实际增长 4.1%；农村居民人均消费支出 10955 元，增长 8.1%，扣除价格因素，实际增长 6.8%。恩格尔系数为 29.3%，比上年下降 0.8%，其中城镇为 28.6%，农村为 31.2%。

下图是 2017 年全国居民人均消费支出及其构成：



91. 2016 年城镇居民人均消费支出是多少元？ ()
- A. 23482 B. 23083 C. 17383 D. 10257
92. 食品烟酒和居住分别占居民人均消费支出的百分比为 ()。
- A. 29.3%，22.4% B. 28.6%，23.2%
C. 31.2%，22.4% D. 29.3%，21.5%
93. 2017 年全国居民人均消费支出前三位的总和是多少元？ ()
- A. 11567 B. 11887 C. 11980 D. 11998
94. 2017 年教育文化娱乐支出占居民人均可支配收入的百分比是 ()。
- A. 8% B. 9% C. 10% D. 11%
95. 2016 年全国居民的恩格尔系数为 ()。
- A. 28.6% B. 29.1% C. 29.5% D. 30.2%

四、根据以下资料，回答 96~100 题。

表 1 2016 年某市本级财政预算收入及增收状况

收入项目	收入金额（亿元）	预算完成率（%）	同比增收（亿元）
财政预算总收入	109.16	99.2	30.15
其中：一般预算收入	26.26	102.2	7.13
上划中央收入	47.57	100.8	16.02
基金收入	35.33	95.1	?

注：预算完成率=收入金额÷预算收入金额

2016 年该市本级完成财政一般预算支出 49.86 亿元，比上年增支 16.79 亿元，增长 50.8%。

表 2 2016 年该市本级主要预算支出项目完成情况

支出项目	支出金额（亿元）	同比增速（%）
一般公共服务	6.37	31.0
公共安全	4.77	37.3
教育	6.03	51.7
科学技术	1.11	181.0
文化体育与传媒	1.29	35.8
社会保障和就业	2.63	26.7
医疗卫生	2.28	14.4
节能环保	6.68	567.0
城乡社区事务	2.57	48.7
农林水事务	4.02	34.5
交通运输	2.58	10.8
资源勘探电力信息等事务	4.70	67.8

96. 表1中“？”处的数字为（ ）。

- A. 7 B. 7.5 C. 8.5 D. 9

97. 2016年该市上划中央收入同比约增长了（ ）。

- A. 37% B. 44% C. 51% D. 58%

98. 2016年该市本级主要预算支出项目中，占总预算支出比重较上年有所提高的项目个数有（ ）。

- A. 7个 B. 6个 C. 5个 D. 4个

99. 2016年该市教育支出同比增量约是医疗卫生的多少倍？（ ）

- A. 4 B. 7 C. 10 D. 14

100. 关于该市2016年财政收支状况，能够从上述资料推出的是（ ）。

- A. 财政总收入金额比预算总收入低1亿多元
 B. 基金收入预算额超过40亿元
 C. 节能环保支出同比增长了5亿多元
 D. 支出增速最低的项目是科学技术

展鸿事业单位招聘考试模拟卷

《职测》参考答案及解析

1. 【答案】A。解析：A项说法错误，过高浓度的酒精会在细菌表面形成一层保护膜，反而阻止酒精进入细菌体内，难以将细菌彻底杀死。故本题选A。

2. 【答案】A。解析：5号电池的一般尺寸为：直径14mm，高度49mm；7号电池的一般尺寸为：直径11mm，高度44mm。干电池的不同型号表示电池的不同外形尺寸。故本题选A。

3. 【答案】C。解析：目前通信中所用的光纤一般是石英光纤。石英光纤以二氧化硅为主要原料，并按不同的掺杂量，来控制纤芯和包层的折射率分布。故本题选C。

4. 【答案】A。解析：打乒乓球时眼睛会随着快速运动的物体转动，起到调节、放松的作用，延缓老花、预防近视。故本题选A。

5. 【答案】C。解析：中国共产党第十九届中央委员会第二次全体会议于2018年1月18日至19日在北京召开，全会审议通过了《中共中央关于修改宪法部分内容的建议》。因此会议的主要议程是讨论修改宪法部分内容的建议。故本题选C。

6. 【答案】A。解析：朴素唯物主义肯定世界的物质本原性和统一性，由于认识水平的限制，它总是把某种或具体的物质形态看作世界的物质本原和统一的物质基础。“天地合气，万物自生”体现了“天道自然无为”的哲学思想，把“气”看作构成世界万物的本原，属于朴素唯物主义。“天行有常，不为尧存，不为桀亡”意为大自然的运行有其自身规律，这个规律不会因为尧的圣明或者桀的暴虐而改变，这反映了荀子朴素唯物主义自然观。故本题选A。

7. 【答案】D。解析：习近平总书记在党的十九大报告中提出，通过“两步走”，在本世纪中叶建成富强民主文明和谐美丽的社会主义现代化强国。故本题选D。

8. 【答案】D。解析：实行总统共和制的国家有美国、墨西哥、阿根廷、巴西、埃及、印度尼西亚等。实行议会共和制的国家有意大利、德国、芬兰、奥地利、印度、新加坡等。故本题选D。

9. 【答案】B。解析：物权是指权利人依法对特定的物享有直接支配和排他的权利，包括所有权和他物权（用益物权和担保物权）。故本题选B。

10. 【答案】C。解析：C项错误，主刑是对犯罪分子适用的主要刑罚，它只能独立适用，不能附加适用。主刑分为以下五种：管制、拘役、有期徒刑、无期徒刑和死刑。故本题选C。

11. 【答案】C。解析：煤炭燃烧时除产生大量烟尘外，还会产生一氧化碳、二氧化碳、二氧化硫、氮氧化物、有机化合物等有害物质。石油燃烧产生氮氧化物、一氧化碳、二氧化碳等。氢气，无色无味，是不可燃气体。A、B、D三项均排除。故本题选C。

12. 【答案】C。解析：孙中山领导发起辛亥革命，而辛亥革命开创了完全意义上的近代民族民主革命，推翻了统治中国几千年的君主专制制度，建立起共和政体，传播了民主共和理念。故本题选C。

13. 【答案】C。解析：A项“明修栈道，暗度陈仓”出自《史记·淮阴侯列传》，B项“草木皆兵”出自《晋书·苻坚载记》，D项“乐不思蜀”出自《三国志·蜀书·后主传》，均来自真实历史事件。C

项“逼上梁山”出自施耐庵的长篇小说《水浒传》，不是来自真实历史事件。故本题选 C。

14. 【答案】D。解析：A 项胖大海的主要功效有清热润肺、利咽解毒、润肠通便。B 项板蓝根的主要功效有清热解毒、凉血、利咽。C 项片仔癀的主要功效有清热解毒、凉血化瘀、消肿止痛。A、B、C 三项均适用于清热利咽。D 项错误，珍珠可加工成珍珠粉，其具有安神定惊、明目去翳、解毒生肌等功效，现代研究还表明珍珠粉在提高人体免疫力、延缓衰老、祛斑美白、补充钙质等方面都具有独特的作用。故本题选 D。

15. 【答案】B。解析：地球东西半球的分界线是以西经 20° 与东经 160° 来划分的。东半球是地球上西经 20° 以东、东经 160° 以西的区域，西半球是地球上西经 20° 以西、东经 160° 以东的区域。故本题选 B。

16. 【答案】D。解析：A 项正确，人民币上有五种文字，即汉字、蒙文、藏文、维文和壮文。D 项错误，苗族散布在世界各地，主要分布于中国的黔、湘、鄂、川、滇、桂、琼等省区，以及东南亚的老挝、越南、泰国等国家和地区。故本题选 D。

17. 【答案】B。解析：价值尺度指货币衡量和表现一切商品价值大小的作用，其表现为价格标签。题干中“6000 元”“3000 元”都是货币基本职能中价值尺度的体现。故本题选 B。

18. 【答案】D。解析：“权责法定”是指权力机关的权力和责任都由法律规定，即对权力机关而言，“法不授权不可为之”。题干中“行政机关不得法外设定权力，没有法律法规依据不得……增加其义务的决定”体现的正是法治政府建设中的权责法定。故本题选 D。

19. 【答案】D。解析：只有经过承办，公文才能产生切实效用，它是公文办理中的核心环节，是公文发挥现实效用的基本保证。故本题选 D。

20. 【答案】C。解析：IPv4 中规定 IP 地址长度为 32 位，一般的书写法为 4 个用小数点分开的十进制数。A、B 项均对应正确。IPv6 的地址长度为 128 位，采用十六进制表示。IPv6 有 3 种表示方法，分别为冒分十六进制表示法、0 位压缩表示法、内嵌 IPv4 地址表示法。C 项为主机的物理地址，而不是 IP 地址，对应错误。D 项为冒分十六进制法所表示的 IPv6 地址，对应正确。故本题选 C。

21. 【答案】C。解析：先看第一空，文段讲明星的天价片酬受到公众的质疑，可知需填入的词要表达批判的含义，“揶揄”指嘲笑，“审视”指仔细看，无法表现批判的意思，排除 B、D 项。再看第二空，文段讲天价片酬以及由此带来的奢华生活让公众感到厌恶，“不齿”形容极端鄙视，语义过重，排除 A 项。故本题选 C。

22. 【答案】B。解析：“昨日黄花”比喻过时或无意义的事物，后多比喻已失去新闻价值的报道或已失去应时作用的事物，明显不符合语意，排除 C 项；题干未体现工匠精神之前被埋没，因此“凤凰涅槃”“重见天日”不符合，排除 A、D 项。故本题选 B。

23. 【答案】D。解析：辨析四个成语意思，“接踵而来”形容来者很多，络绎不绝。“蜂拥而至”形容很多人乱哄哄地朝一个地方聚拢。“亦步亦趋”比喻由于缺乏主张，或为了讨好，事事模仿或追随别人。“趋之若鹜”比喻许多人争着去追逐某些不好的事物，符合文段讲的人们对网红食品的追逐心态，锁定 D 项。验证第二空，“发动”指使人行动起来，符合文意。故本题选 D。

24. 【答案】B。解析：先看第一空，“媒体”指媒介、手段，多指抽象概念，而“电视”是一个具体的事物，排除 C、D 项。再看第二空，“思考”侧重于动作行为，“思维”则具体表现一种思考的过程

和方式，是一种固定的模式，则“思维”更符合语义，排除A项。故本题选B。

25. 【答案】B。解析：直接看第一空，“投其所好”指迎合别人的喜好，“好高骛远”比喻不切实际地追求过高的目标，二者均无法搭配“拉关系、找门路”，排除A、D项。再排除C项，“废寝忘食”形容专心努力，含褒义色彩，不符合语境。最后验证第二空，“殚精竭虑”形容用尽心思，符合语义。故本题选B。

26. 【答案】C。解析：先看第一空，“就”与前文的“要实施整体性发展”构成“要……就……”的条件关系句，符合语义；“于是”引导因果关系，而前后文不构成因果关系，排除B、D项。再看第三空，“所以”引导因果关系，“从而”引导了递进分句，“整体利益把不同的群体统合在一起”与“形成……动力”构成递进关系，排除A项。故本题选C。

27. 【答案】A。解析：先看第二空，“巧舌如簧”“喋喋不休”含贬义，明显不符合语境，排除B、C项；再看第三空，所填词语应与第二空意思相反，“口若悬河”“一语中的”不符合，排除D项。验证A项，符合语境。故本题选A。

28. 【答案】B。解析：先看第三空，“优势”无法与“接受”搭配，排除C项。再看第一空，文段主要讲小城镇自身的特色，在作为城乡过渡区域之外，也有自身的优势，“桥梁”和“通道”侧重于沟通过渡的含义，并不能体现小城镇自身优势特点，“节点”即连接点，更符合文意，排除A、D项。验证第二空，“统筹”可以和“发展”搭配。故本题选B。

29. 【答案】A。解析：直接从第二空入手，“传承文化”是常见搭配，锁定A项。验证第一空，“显而易见”形容事情或道理很明显，极容易看清，用在此处表现传统书写教育的积极作用是很明显的，符合语境。故本题选A。

30. 【答案】C。解析：根据后文“这个民族的文化即使危在旦夕，也能起死回生”，可知非物质文化遗产可以在关键时刻拯救民族文化，“不老泉”和“生命源”无法体现“起死回生”的意思，先排除A、B项。C项“脐带血”是胎儿娩出、脐带结扎并离断后残留在胎盘和脐带中的血液，其含有可以重建人体造血和免疫系统的造血干细胞，根据前文“文化DNA”的比喻可知，“脐带血”比“还魂草”更恰当，排除D项。故本题选C。

31. 【答案】A。解析：横线居于文段末尾，是对前文的总结和概括。前文主要说明在制度上设置私权的原因及重要性，即隐私权制度的意义，A项最恰当。B项与前文内容重复；C项时态错误，文段讲“为了恢复竞争的平衡”，而不是已经恢复了；D项文段无从体现。故本题选A。

32. 【答案】C。解析：观察选项，可先确定首句，③以“然而”开头，明显不宜作首句，排除D项；②提出问题，适宜作首句，排除B项。观察A、C项，①指出全球化进程中，环境发生了很大变化，④指出传统地缘治理体系却无法解决问题，需要寻求对环境问题的治理方案，是对①的承接，①④绑定，排除A项。验证C项，符合语句逻辑关系。故本题选C。

33. 【答案】B。解析：通读5个句子，文段主要讲述了玛雅和中国两种代表性的古代文明，先看④⑤，⑤讲中国人善于用文字记载历史，④具体讲述了中国的古人用什么工具记录，则④应紧接着⑤，排除A项。再比较②③，②讲古代文明，③讲古代文明中的玛雅文明，相比而言，②更适合作首句，排除C、D项。验证B项，符合语句逻辑关系。故本题选B。

34. 【答案】D。解析：A项错误，文段并未提及“方言与普通话的发展相辅相成密不可分”。B项错

误，从“1956年后称普通话并予以推广”可知其历史并不悠久。C项错误，文段并未提及两者之间兴衰有何逻辑关系。D项正确，作者分别介绍了方言和普通话的历史，表达了希望两者共同延续发展的关切。故本题选D。

35. 【答案】B。解析：文段讲先秦诸子试图以空洞的理论说教征服诸侯，却发现远不如用形象之物征服他们，可见，“对象”指的是“被劝说的诸侯”，B项最恰当。A项范围太大，缺乏针对性。故本题选B。

36. 【答案】C。解析：文段讲人类开始认为基因在决定身高中占主要作用，并开始寻找与身高相关的基因，并获得相关信息和知识，那么后文最可能对此展开详细论述，C项正确。A项偏离文段主体“基因”；B项不符合文意，文段讲的是基因带来的影响，而非影响基因的因素；D项文段无从体现。故本题选C。

37. 【答案】B。解析：由“另一个造成泥沙大量沉积的原因，是河流中有大量以胶体状态存在的细黏土……形成三角洲平原”可知，文段论述的是三角洲平原形成的原因，B项正确。故本题选B。

38. 【答案】B。解析：文段末句提及相亲成功也有其弊端，而相亲失败更是一场灾难，可知该青年作家对于相亲这种婚恋模式的态度是否定的。故本题选B。

39. 【答案】C。解析：文段首先用转折句指出翻拍也要重视剧本的质量，接着讲“创作是第一要务”，可见意在强调翻拍要重视创作，C项最符合文意。A项与首句意思相悖；B项“颠覆经典”文段未提及；D项非文段重点，文段讲翻拍失败的后果是为了强调“创作”的重要性。故本题选C。

40. 【答案】A。解析：文段最后一句为重点句，即“很难理解中国传统武术的‘初心’是什么”，A项正确。B项“是什么”文段并没有论述，C项说法错误，D项不是文段论述重点。故本题选A。

41. 【答案】B。解析：文段主要围绕烙画这门工艺展开，论述其以火为“墨”，讲究火候和力度、讲究轻重缓急及深浅浓淡。显然，这些都是烙画制作工艺所具有的特点，B项正确。A项“水平”和“标准”文段均无从体现，C项“关键环节”是“特点”的部分内容，D项“艺术魅力”没有详细论述。故本题选B。

42. 【答案】B。解析：文段讲国家的本质不是边界围起来的政治区划，真正的国家是边界之内的国民已经形成“国家意识”，只有形成这种真正的国家意识，才是真正的国家。可见，文段主要谈论的是怎样才是真正的国家，即国家的本质属性。A项“边界意识”不是文段强调的内容；C项“国家认同的作用”文段未论述；D项“国家意识的内涵”不是重点，文段主要讲国家的本质属性。故本题选B。

43. 【答案】B。解析：文段讲荆轲在我国历史上是个特有的文化符号，但在手游里却成了刺客家族世代传承的名号，其他历史人物和历史事件也被胡编乱造，这对缺少历史知识的少年儿童来说很容易产生迷惑，历史在手游中成了可以“被随意打扮的小姑娘”。可见文段意在表达手游不能对历史进行胡编乱造，B项“手游不该‘游戏’历史”最能体现文段主旨，且与历史成了“被随意打扮的小姑娘”相呼应，最适合作为标题。A项未指出历史被胡编乱造，C项过于宽泛，D项“过度消费”文段无从体现。故本题选B。

44. 【答案】C。解析：文段讲量化历史研究需要找到合适的量来反映过去，并举身高的例子加以说明，指出身高数据反映了过去的社会经济状况，从而能够承担起量化经济史研究的角色。由此可知，文段主要强调的是量化历史研究如何选取恰当的参量，C项正确。A、B、D三项均是举例部分的内容，

非文段论述重点。故本题选 C。

45. 【答案】D。解析：文段首先介绍一项研究发现，即咀嚼行为能激活口腔中的 Th17 免疫细胞，从而增强口腔免疫力，接着通过研究实验进一步说明咀嚼行为激活相关免疫系统，最后将 Th17 免疫细胞的激活机制与其他部位的免疫细胞进行对比，强调咀嚼行为引发牙龈的免疫反应。由此可知，文段意在说明咀嚼行为有助于增强口腔免疫力，D 项正确。A 项“Th17 免疫细胞激活机制”非文段重点；B 项“只能被咀嚼行为激活”说法过于绝对，且文段并未体现；C 项无中生有，文段并未比较咀嚼行为与细菌唤起牙龈的免疫反应的强弱。故本题选 D。

46. 【答案】B。解析：利用尾数法， $1+4+9+6=0$ ，尾数为 0，排除 A、D 项。 $2.1^2+2.2^2+2.3^2+2.4^2>2^2+2^2+2^2+2^2=16$ ，排除 C 项。故本题选 B。

47. 【答案】B。解析：7 张餐桌在短边处拼接，拼出来的大长方形长边可坐 $2\times 7=14$ 人，短边不变，可坐 1 人。因此四周可坐 $14\times 2+1\times 2=30$ 人。故本题选 B。

48. 【答案】B。解析：将编号看成是公差为 2 的等差数列，首项为 101。设第 n 项为 303，则 $303=101+(n-1)\times 2$ ，解得 $n=102$ ，因此编号为 303 的汽车为第 102 辆。故本题选 B。

49. 【答案】A。解析：设路程为 120，则小明上班用时为 2，下班回家用时为 1，因此小明上下班途中的平均速度为 $120\times 2\div (2+1)=80$ 。故本题选 A。

50. 【答案】D。解析：设甲、乙、丙、丁工作效率分别为 3、5、4、6，丙、丁合作完成所需的时间为 x 天。则甲、乙合作的工作效率为 $3+5=8$ ，丙、丁合作的工作效率为 $4+6=10$ ，甲、乙合作完成所需时间为 $(x+9)$ 天。根据题意可知， $(x+9)\times 8=10x$ ，解得 $x=36$ ，则总工作量为 $10\times 36=360$ 。因此 4 人合作完成工程所需时间为 $360\div (3+5+4+6)=20$ 天。故本题选 D。

51. 【答案】D。解析：根据题意可知，甲办公室人数为 6 人，乙办公室人数为 4 人。随机抽出 2 人借调到上级机关，共有 $C_{10}^2=45$ 种情况。借调的人来自同一办公室有 $C_6^2+C_4^2=21$ 种情况。因此借调的人来自同一办公室的概率为 $\frac{21}{45}=\frac{7}{15}$ 。故本题选 D。

52. 【答案】A。解析：设 A 种酒的酒精浓度为 x，则 B 种酒的酒精浓度为 $0.5x$ ，根据题意则有 $\frac{x+3\times 0.5x+10\%}{1+3+1}\times 100\%=20\%$ ，解得 $x=36\%$ 。故本题选 A。

53. 【答案】D。解析：设张三的女儿现在 x 岁，则 3 年前张三的年龄为 $17\times (x-3)$ ，3 年后张三的年龄为 $17\times (x-3)+6=5\times (x+3)$ ，解得 $x=5$ 。故本题选 D。

54. 【答案】B。解析：根据题意可知，小王的硬币数量减去 1 所得数值均可被 2、3、4、5、6 整除，而 2、3、4、5、6 的最小公倍数为 60，因此小王至少有 $60+1=61$ 个硬币。故本题选 B。

55. 【答案】C。解析：直接代入选项。A 项， $326-236=90$ 元，排除；B 项，误看后比实际价格少支付，不符合题意，排除；C 项， $536-356=180$ 元，当选；D 项，十位和百位数字相同，不存在多支付情况。故本题选 C。

56. 【答案】A。解析：要使三项运动都喜欢的学生最少，则应使不喜欢各项运动的学生人数最多，即不喜欢各项运动的学生没有交叉。根据题干可知，不喜欢打乒乓球的有 $40-35=5$ 人，不喜欢打篮球的有 $40-33=7$ 人，不喜欢打排球的有 $40-32=8$ 人，则不喜欢各项运动的学生人数最多为 $5+7+8=20$ 人，因

此三项运动都喜欢的学生至少有 $40-20=20$ 人。故本题选 A。

57. 【答案】C。解析：平均每度电 0.55 元大于 0.45 元，则该用户家 6 月份用电大于 200 度。设该用户家 6 月份用电为 x 度，根据题意则有： $200 \times 0.45 + (x-200) \times 0.8 = x \times 0.55$ ，解得 $x=280$ 。故本题选 C。

58. 【答案】A。解析：设职员甲每天整理 x 份档案，职员乙每天整理 y 份档案。根据题意可知， $4x+9y=240$ ， $8x+3y=240$ ，将两式相加得到 $12x+12y=480$ ，即 $6(x+y)=240$ ，则这两个职员一起整理完档案需 $240 \div (x+y) = 6$ 天。故本题选 A。

59. 【答案】B。解析：从 8 名战士中挑出 4 人有 $C_8^4=70$ 种方式，4 人平均分成两个小组，即从 4 人中选出 2 人参加射击考核，另外 2 人参加格斗考核，有 $C_4^2=6$ 种方式。因此共有 $70 \times 6=420$ 种不同的方案。故本题选 B。

60. 【答案】B。解析：设原标价为 1，则规定售卖标价为 0.8，供应不足后售价为 $(1+40\%) \times 0.8=1.12$ ，则此时该超市沙姜的售价比原标价上涨 $(1.12-1) \div 1 \times 100\%=12\%$ 。故本题选 B。

61. 【答案】A。解析：题干各图形均为两笔画图形，只有 A 项符合。B 项为三笔画图形，C 项为四笔画图形，D 项为一笔画图形，均排除。故本题选 A。

62. 【答案】A。解析：题干第一组各图形交点数依次为 6、10、4，即第一个图形和第三个图形的交点数之和等于第二个图形的交点数。第二组图形遵循此规律，则问号处图形的交点数应为 $11-5=6$ ，只有 A 项符合。故本题选 A。

63. 【答案】B。解析：第一组图形第一个图形阴影部分整体向上平移一格得到第二个图形，第二个图形阴影部分整体向右平移一格得到第三个图形；第二组图形也遵循此规律。观察选项，只有 B 项符合。故本题选 B。

64. 【答案】D。解析：①③⑤ 图形均为直曲混合图形，②④⑥ 图形均为纯直线图形。故本题选 D。

65. 【答案】D。解析：A 项，假设正面和顶面正确，则右面应为水平线或十字线，排除。B 项，正面和顶面的阴影三角形在展开图中有公共边，而不是交于一点，排除。C 项，假设正面和顶面正确，则右面应为竖直线或十字线，排除。故本题选 D。

66. 【答案】B。解析：“代位继承”的定义要点：①被继承人子女先于被继承人死亡；②由被继承人的子女的晚辈直系血亲继承。A 项叔公无子女，不符合①，排除。B 项小赵父亲先于小赵爷爷死亡，符合①，小赵继承爷爷部分遗产，符合②，符合定义。C 项老张继承哥哥遗产，不符合①②，排除。D 项老李继承女儿部分遗产，不符合②，排除。故本题选 B。

67. 【答案】B。解析：“蝴蝶效应”的定义要点是“初始条件的极小偏差会引起结果的极大差异”。A 项没有体现“初始条件的极小偏差”，不符合定义；B 项符合定义；C、D 项均未体现“初始条件的极小偏差引起的结果差异”，不符合定义。故本题选 B。

68. 【答案】A。解析：菡萏是荷花的古称，A 项蚍蜉是蚂蚁的古称。B 项土豆指马铃薯，与番薯不同，排除。C 项倭瓜一般指南瓜，排除。D 项县衙是对清代县级官府的俗称，部门是一个组织的机构，排除。故本题选 A。

69. 【答案】A。解析：先考试再评分，及格是考试的结果之一；A 项先招聘再面试，录用是招聘的结果之一。B 项法庭和审判不存在先后关系，排除。C 项化验是质检的一种的方法，排除。D 项先取证才

能逮捕扣押，排除。故本题选 A。

70. 【答案】A。解析：莫高窟位于敦煌，A 项中山陵位于南京。B 项白公馆位于重庆，C 项嵩山位于河南登封，D 项翠湖位于云南昆明，均排除。故本题选 A。

71. 【答案】C。解析：演员可以分为实力派和偶像派，C 项宋词可以分为婉约派和豪放派。故本题选 C。

72. 【答案】B。解析：选项逐一代入。A 项“别无长物”形容贫穷，与“简朴”无明显联系，排除。B 项“粗茶淡饭”形容简朴，“不名一钱”形容贫穷，前后关系一致。C 项“金迷纸醉”和“简朴”为反义关系，“不名一钱”与“著名”无明显联系，排除。D 项“筚路蓝缕”形容创业的艰苦，与“简朴”无明显联系，排除。故本题选 B。

73. 【答案】C。解析：由“英语老师是一个学生的叔叔”和“丙是女的，比数学老师年轻”，可知丙不是英语老师，也不是数学老师，则丙是语文老师。由“甲上课全用汉语”可知甲不是英语老师，则甲是数学老师，因此乙是英语老师。故本题选 C。

74. 【答案】C。解析：“如果 p，那么 q”的负命题是“p 且非 q”。三人的预测都是错误的，则小张和小李预测的负命题均为真，即“小陈没有当选且小张当选”和“小李当选且小王没有当选”为真。假设小刘没有当选，则小王、小刘和小陈三人都没有当选，小王的预测为真，不符合题干条件，因此假设不成立，即小刘当选。由此可知，最终当选的有小张、小李、小刘 3 人。故本题选 C。

75. 【答案】C。解析：由“亮色汽车很少被问津”可排除 A 项。题干仅提及“有着三年车龄左右的大众车型，这种车保值且好转手”，暗色系汽车在二手车市场是否畅销无从得知，排除 B 项。由“白色汽车失窃率最低”和“相比新款或豪车而言，盗车贼偏好有着三年车龄左右的大众车型”可推出 C 项。题干未提及车型的畅销程度与容易被盗的程度的关系，D 项也不能推出。故本题选 C。

76. 【答案】C。解析：题干未提及大学教授与 X 研究院院士的关系，A 项不能推出。题干仅提及“X 研究院的所有院士都反对人类食用转基因食品”，其他研究院院士是否支持无法确定，B 项不能推出。由 Y 公司所有领导层人员都提倡人们放心食用转基因食品和“一些大学教授兼任 Y 公司的领导”可推出 C 项。D 项不能推出。故本题选 C。

77. 【答案】B。解析：题干论点：为了得到葡萄籽中的特殊营养应该把葡萄籽一起吃下去。论据：葡萄籽中含有一种对人体健康很重要的营养物质，而葡萄果肉中并没有这种营养物质。A 项与“特殊营养”无关，不能质疑论点，排除。B 项说明人体无法消化未经加工处理的葡萄籽，即食用葡萄籽后依旧无法得到葡萄籽中的特殊营养，最能质疑论点；C、D 项均说明人类不可以通过其他食物或途径得到葡萄籽中的营养物质，属于加强项，不能质疑论点，均排除。故本题选 B。

78. 【答案】D。解析：题干论断：“裸官”不是贪官就是要叛国。I、II 均支持裸官是贪官，III 举 A 省的例子支持裸官不是贪官就是要出逃国外，3 项均能增加题干论断的信服力。故本题选 D。

79. 【答案】C。解析：题干逻辑：S 是 P，Q 是 P，所以 S 是 Q。A 项：S 是 P，Q 是 S，所以 Q 是 P，与题干不符，排除。B 项：S 是 P，Q 不是 S，所以 Q 不是 P，与题干不符，排除。C 项：Q 是 P，S 是 P，所以 S 是 Q，与题干相符。D 项涉及四个概念，与题干不符，排除。故本题选 C。

80. 【答案】A。解析：提醒标志可翻译为“¬预约者→¬入内”。已知几位同事都是总经理约好的，即否定前件，不能推出必然性结论，B、C、D 三项均属于必然性结论，排除。故本题选 A。

81. 【答案】B。解析：根据文字材料第一段“2016 年，M 市‘四大产业集群’共完成行业产值……”

同比增长 4.8%，高于属地产值增速 9.2 个百分点”，可知 2016 年 M 市属地产值的同比增速为 $4.8\% - 9.2\% = -4.4\%$ 。故本题选 B。

82. 【答案】B。解析：材料无从得知 2015 年 M 市属地产值同比增长，①不符合题意；根据表格可知，2016 年 M 市集成电路及物联网产业产值同比增长为 -0.7% ，呈现负增长，②符合题意；根据表格可知，2016 年 M 市智能制造及机器人产业产值同比增长为 2.6% ，呈现正增长，③不符合题意；根据文字材料第二段“战略性新兴产业……全年其完成产值……同比下降 1.9%”，可知 2016 年 M 市战略性新兴产业产值同比增长 -1.9% ，呈现负增长，④符合题意。综上，可判断同比增长呈现负增长的有②④，共 2 个。故本题选 B。

83. 【答案】B。解析：根据表格可知，2016 年 M 市“四大产业集群”共完成行业产值 153.36 亿元，新能源汽车及汽车智能化产业产值为 32.41 亿元，高性能医疗设备及精准医疗产业产值为 18.59 亿元，则前者所占比重比后者多 $\frac{32.41 - 18.59}{153.36} = \frac{13.82}{153.36} \approx \frac{14}{150} \approx 9\%$ 。故本题选 B。

84. 【答案】D。解析：根据图可知，累计产值最高的产业是电子信息，同比增长率为 -4.7% ；累计产值最低的行业是新能源，同比增长率为 34.6% ，则两者相差 $34.6\% - (-4.7\%) = 39.3\%$ 。故本题选 D。

85. 【答案】D。解析：根据文字材料第二段“战略性新兴产业以往一直是 M 市工业的重要增长点，全年其完成产值 643.7 亿元，占属地产值的 21.2%”，可知 2016 年 M 市属地产值为 $643.7 \div 21.2\% > 3000$ 亿元，A 项说法错误；根据文字材料和图可知，2016 年 M 市战略性新兴产业产值 643.7 亿元，新能源汽车产业产值所占比重为 26.1%，则其产值为 $643.7 \times 26.1\% > 650 \times 20\% = 130$ 亿元，B 项说法错误；根据折线图可知，2016 年 M 市战略性新兴产业中节能环保产业的产值同比增长 -22.5% ，C 项说法错误；根据折线图可知，2016 年 M 市战略性新兴产业中新材料产业的产值同比增长为 0，则其产值与去年基本持平，D 项说法正确。故本题选 D。

86. 【答案】B。解析：根据材料第二段可知，2016 年第一季度该省蔬菜种植面积为 $358.80 - 18.23 = 340.57$ 万亩，蔬菜产量为 $\frac{471.42}{1 + 7.5\%}$ 万吨，则平均每亩蔬菜种植地产出蔬菜 $\frac{471.42}{1 + 7.5\%} \div 340.57 \approx \frac{471}{1.075 \times 341} \approx 1.28$ 吨，B 项与之最接近。故本题选 B。

87. 【答案】C。解析：根据材料第四段可知，2017 年第一季度该省生猪出栏增速由上年同期的下降 3.2% 转为增长 3.3%，即比上年同期加快 $3.3\% - (-3.2\%) = 6.5\%$ 。故本题选 C。

88. 【答案】C。解析：根据材料可知，2017 年第一季度该省农林牧渔业增加值 361.78 亿元，其三成成为 $361.78 \times 30\% \approx 109$ 亿元。2017 年第一季度该省种植业增加值 119.21 亿元，林业增加值 34.84 亿元，畜牧业增加值 176.64 亿元，渔业增加值 9.22 亿元，农林牧渔服务业增加值 21.87 亿元，则占农林牧渔业增加值比重超过三成的包括种植业、畜牧业。故本题选 C。

89. 【答案】D。解析：根据材料可知，2017 年第一季度该省种植业增加值比上年同期增长 8.2%，林业增加值增长 8.3%，畜牧业增加值增长 4.2%，渔业增加值增长 4.5%，则产业增加值同比增速从快到慢排序为林业 > 种植业 > 渔业 > 畜牧业。故本题选 D。

90. 【答案】D。解析：材料仅给出 2017 年第一季度该省农林牧渔服务业的增加值和同比增速，A 项 2017 年全年的数据无法计算出。材料未涉及与“全国”相关的数据，B 项不能计算出。根据材料最后

一段可知，2017年第一季度该省水产品产量比上年同期增长4.7%，其中养殖水产品产量增长4.7%，由混合增长率性质可知，非养殖水产品产量也增长4.7%，即产量与2016年第一季度相比有所增加，C项不能推出。D项计算略复杂，可跳过。故本题选D。

91. 【答案】B。解析：根据文字材料可知，2017年城镇居民人均消费支出24445元，增长5.9%，则2016年城镇居民人均消费支出为 $\frac{24445}{1+5.9\%} \approx \frac{24400}{1.06} \approx 23018.9$ 元，B项与之最接近。故本题选B。

92. 【答案】A。解析：根据材料可知，2017年全国居民人均消费支出为18323元，其中食品烟酒消费为5374元，居住消费为4107元，则食品烟酒占居民人均消费支出的百分比为 $\frac{5374}{18323} \times 100\% \approx 29.3\%$ ，居住占居民人均消费支出的百分比为 $\frac{4107}{18323} \times 100\% \approx 22.4\%$ 。故本题选A。

93. 【答案】C。解析：根据扇形图可知，2017年全国居民人均消费支出排前三位的是食品烟酒5374元、居住4107元和交通通信2499元，总和为(5374+4107+2499)元，利用尾数法，4+7+9=20，即尾数为0，只有C项符合。故本题选C。

94. 【答案】A。解析：根据材料可知，2017年全国居民人均可支配收入25974元，其中教育文化娱乐支出2086元，后者占前者的百分比为 $\frac{2086}{25974} \times 100\% \approx 8\%$ 。故本题选A。

95. 【答案】D。解析：根据文字材料可知，2017年全国居民的恩格尔系数为29.3%，比上年下降0.8%，则2016年全国居民的恩格尔系数为29.3%+0.8%=30.1%，D项与之最接近。故本题选D。

96. 【答案】A。解析：根据表1可知，财政预算总收入同比增收30.15亿元，则基金收入同比增收30.15-7.13-16.02=7亿元。故本题选A。

97. 【答案】C。解析：根据表1可知，2016年该市上划中央收入47.57亿元，同比增收16.02亿元，则同比增长率为 $\frac{16.02}{47.57-16.02} \times 100\% \approx \frac{16}{48-16} \times 100\% = 50\%$ ，C项与之最接近。故本题选C。

98. 【答案】D。解析：部分增速大于总体增速，比重上升。根据文字材料可知，总预算支出的同比增速为50.8%，观察表2，同比增速大于50.8%的有教育(51.7%)、科学技术(181.0%)、节能环保(567.0%)和资源勘探电力信息等事务(67.8%)，共4个项目。故本题选D。

99. 【答案】B。解析：根据表2可知，2016年该市教育支出同比增量为 $\frac{6.03}{1+51.7\%} \times 51.7\%$ 亿元，医疗卫生同比增量为 $\frac{2.28}{1+14.4\%} \times 14.4\%$ 亿元，前者是后者的 $\frac{6.03}{1+51.7\%} \times 51.7\% \div (\frac{2.28}{1+14.4\%} \times 14.4\%) \approx$

$\frac{6}{1+\frac{1}{2}} \times \frac{1}{2} \div (\frac{2.3}{1+\frac{1}{7}} \times \frac{1}{7}) = \frac{6}{3} \times \frac{8}{2.3} = \frac{16}{2.3} \approx 7$ 倍。故本题选B。

100. 【答案】C。解析：材料只给出财政预算总收入，未给出财政总收入的具体数据，A项错误。根据表1可知，基金收入预算额为 $\frac{35.33}{95.1\%} < \frac{36}{90\%} = 40$ 亿元，B项错误。根据表2可知，节能环保同比增长量为 $\frac{6.68}{1+567\%} \times 567\% \approx 5.68$ 亿元，C项正确。根据表2可知，支出增速最低的项目为交通运输10.8%，D项错误。故本题选C。