

# 展鸿教育

## 职测模拟卷



扫描添加陈老师微信

领取海量电子资料

展鸿事业单位招聘考试模拟卷《职业能力倾向测验》

(总分 100 分，总时限为 90 分钟)

### 第一部分 言语理解与表达

(每题 1 分，共 30 题)

本部分主要考查考生对语言文字的理解和驾驭能力。这种能力包括：对词、句子、短文一般意思和特定意义的理解；对比较复杂的概念和观点的准确理解；根据上下文，合理推断句子隐含的内容，准确地辨明句义，筛选信息等等。

**请开始答题：**

1. 现代社会不少人喜欢名牌，把自己的精力消耗在追逐名牌这个事情上，而不是把精力放在\_\_\_\_\_自己上面。你被外在的物质的东西所奴役，就要不停地去满足这个外在的东西。节俭的品德不是让你过苦日子，而是要把自己的心\_\_\_\_\_，不被外在的东西牵着鼻子走。

依次填入划横线部分最恰当的一项是（ ）。

- A. 提高 关上          B. 打扮 拴住          C. 武装 拢住          D. 提升 守住

2. 从长远来看，要维持一个城市的活力和繁荣，就必须注重提高普通市民的生活质量，这最终决定了一个城市真正的\_\_\_\_\_，决定了一个城市是不是\_\_\_\_\_长期居住，是不是值得在闲暇之时走进\_\_\_\_\_，去发现和体验每个人各具特色的生活状态。

依次填入划横线部分最恰当的一项是（ ）。

- A. 内涵 值得 千家万户                      B. 品位 适宜 大街小巷  
C. 地位 方便 街头巷尾                      D. 价值 能够 寻常巷陌

3. 在娱乐方式多元化的今天，“\_\_\_\_\_”是不少人特别是中青年群体对待戏曲的态度。这里面固然存在先入为主的偏见，难以静下心来欣赏戏曲之美等因素，却也绕不开另一个原因：戏曲本身是广大群众\_\_\_\_\_的大众艺术形式，但一些戏曲虽然与观众之间没有荧屏、银幕之隔，却用艺术化的表演讲述着与观众距离较远的生活。

依次填入划横线处最恰当的一项是（ ）。

- A. 爱屋及乌 津津乐道                      B. 不屑一顾 耳熟能详  
C. 敬而远之 喜闻乐见                      D. 心猿意马 信手拈来

4. 从亚里士多德开始，让文学艺术能够真正地还原现实，从而使人们能够在各种艺术样式中复现自己、观照自己，一直是理论家、艺术家一个永恒的梦想。没想到，这个梦想居然被电影\_\_\_\_\_地实现了。

填入划横线部分最恰当的一项是（ ）。

- A. 分毫不差                      B. 出人意料                      C. 轻而易举                      D. 一马当先

5. 进入 21 世纪，全球科学技术迅猛发展，新兴学科不断\_\_\_\_\_。但是，物理学依然是自然科学最重要的基石，爱因斯坦等伟大科学家创造的 20 世纪物理学辉煌，在新世纪得以\_\_\_\_\_。人类社会依然有大量的难题，需要以物理学为基础的学科群去解决。

依次填入划横线部分最恰当的一项是（ ）。

- A. 异军突起 延续                      B. 蒸蒸日上 突破  
C. 方兴未艾 展现                      D. 日新月异 凝聚

6. 中华民族是由 56 个民族组成的大家庭，汉族人口最多，《百家姓》\_\_\_\_\_之时选择的基本都是汉族姓氏。其实，大概在其诞生的宋朝，就已经找不出一个\_\_\_\_\_的汉族姓氏了。各个民族之间早就在文化上声气相通，在血缘上血脉交融了。真正读通了《百家姓》就可以明白，中华民族真是\_\_\_\_\_的民族大家庭。我们恐怕找不到哪个姓氏，只有汉族或其他民族的单一血统。

依次填入划横线部分最恰当的一项是（ ）。

- A. 编撰 纯粹 名副其实                      B. 编订 完整 表里如一  
C. 编写 真正 其乐融融                      D. 编辑 独立 心心相印

7. 当买卖收视率成为行业潜规则，即便是制作精良、艺术精湛的作品，也必须千方百计不惜高价购买假收视率数据，以保障达到电视台要求的播出标准，\_\_\_\_\_停播、降价的命运。而收视率作假抬高了制作成本，\_\_\_\_\_，国产电视剧的质量必定受其影响，整个行业笼罩于“用心用力去做戏，不如花钱买收视率”的阴云之中。

依次填入划横线部分最恰当的一项是（ ）。

- A. 脱离 久而久之                      B. 摆脱 长此以往  
C. 改写 不言而喻                      D. 避免 理所当然

8. 随着人们环保意识的加强，在选购家具时人们更\_\_\_\_\_于选择带有环保标识的产品。本来有这样的意识是件好事，但我国并没有强制家具认证规定，国内也尚未\_\_\_\_\_环保家具认证标准，现在国内市面上的认证机构\_\_\_\_\_，环保标识\_\_\_\_\_。

依次填入划横线部分最恰当的一项是（ ）。

- A. 趋向 公布 鱼目混珠 不一而足      B. 倾向 颁布 鱼龙混杂 五花八门  
C. 热衷 确定 各自为政 良莠不齐      D. 垂青 制定 形形色色 千奇百怪

9. 史学研究如果离开了哲学的\_\_\_\_\_，不关注重大的历史事变和基本的理论问题，以烦琐考辨取代理论思维，以堆砌资料为\_\_\_\_\_，以叠床架屋为\_\_\_\_\_，拾芝麻以为玃珠，袭陈言而自诩多闻，见枯木以为树林，\_\_\_\_\_，见小遗大，就注定要湮没在史料的汪洋之中，堕落到服务故纸堆的陈腐工具。

依次填入划横线部分最恰当的一项是（ ）。

- A. 指引 多 强 一孔见天      B. 引导 广 美 窥斑见豹  
C. 指导 博 精 以偏概全      D. 指点 全 妙 以管窥天

10. 没错，我们的科学研究\_\_\_\_\_远远没有达到看透一切的程度，我们地球生命离不开水，\_\_\_\_\_我们也没法确定说离了水就不能有别的生命形式。从逻辑上讲这是对的，问题是：科学研究还需要一个延续性，科学必须站在已有知识的基础之上，\_\_\_\_\_不能是胡思乱想。

依次填入划横线部分最恰当的一项是（ ）。

- A. 还 但 而      B. 却 可 并  
C. 也 而 并      D. 并 却 可

11. 在大时代背景下，一群文物修复师，默默地固守“冷宫”一隅，日复一日地打理着价值连城的“国宝”。宫墙外的世界\_\_\_\_\_，宫墙内的他们却要用几年的时间摩挲同一件文物。一座宫廷钟表上千个零件要\_\_\_\_\_，一件碎成100多片的青铜器要拼接完整，一幅古画揭一两个月……

依次填入划横线部分最恰当的一项是（ ）。

- A. 沧海桑田 金瓯无缺      B. 熙熙攘攘 完璧归赵  
C. 白云苍狗 精挑细选      D. 斗转星移 严丝合缝

12. 文字可将一个人思考之所得传诸他人，于是不仅可以\_\_\_\_\_，而且可以利用他人的思考为出发点。文字的发展成为传至远方与后世的书籍，书籍也就成了人类思考结果的库藏。读者可以从此库藏中\_\_\_\_\_，手执一卷可以上对邃古的哲人，远对绝域的学者，而仿佛亲聆其以言词\_\_\_\_\_毕生思考的心得。

依次填入划横线部分最恰当的一项是（ ）。

- A. 群策群力 任意索求 显露      B. 取长补短 无厌求取 诉谈  
C. 传承文明 随心所欲 倾诉      D. 集思广益 予取予求 吐露

13. 中央政令下达后，除了加大督查力度，更需要强化政策信息\_\_\_\_\_，通过各种渠道让政策为民众所熟知，利用舆论和公众的监督，提高政策执行的\_\_\_\_\_。

依次填入划横线部分最恰当的一项是（ ）。

- A. 公布 水平      B. 发布 速度      C. 宣传 力度      D. 公开 效率

14. 古村里的许多铺路石板，久已废弃，被随便丢在巷子深处，\_\_\_\_\_就摆在窗前屋下。有些石板\_\_\_\_\_严重，呈现出\_\_\_\_\_的曲线。它们大都是土黄，或者透出点红色，一块一块，像固体的阳光，带着一点温暖，一点黯淡，与镇子的青灰色形成了\_\_\_\_\_的对比。

依次填入划横线部分最恰当的一项是（ ）。

- A. 仿佛 破损 光滑 鲜明                      B. 或者 磨损 柔和 鲜明  
C. 或者 磨损 光滑 明显                      D. 仿佛 破损 柔和 明显

15. 冰川，顾名思义，冰之河也。不同的是，河流动如脱兔，冰川\_\_\_\_\_；河流一泻千里，冰川却只能往前蠕动。当然，二者也有相似之处：河流可以载舟也可以覆舟，冰川也是一样。河流或哗哗流淌，像在低吟；或翻腾咆哮，像在高歌。冰川有时会劈啪作响，像在\_\_\_\_\_；有时会震天怒吼，像在\_\_\_\_\_。

依次填入划横线部分最恰当的一项是（ ）。

- A. 镇定自如 鼓掌欢呼 愤怒焦虑              B. 静若处子 自言自语 大声疾呼  
C. 幼稚调皮 嬉戏玩耍 激愤抗议              D. 纯洁剔透 出声思考 激动欢呼

16. 马克斯·韦伯在《新教伦理与资本主义精神》中指出，理想的社会家类型是如下两方面企业家精神或特征的完美结合：具有确定不移且高度发展的伦理品质，以及洞若观火的远见和行动的能力；注意避免不必要的开销，不自吹自擂，不对自己的权力沾沾自喜。但现实的情况是，整个社会的试错激励、身份激励、回报激励、信仰激励和其他激励均有不足，阻碍了企业家第一种特征的激发。法律约束、道德约束和信仰约束的缺失，使得企业家应该具备的第二种特质表现平平。

这段文字意在表明（ ）。

- A. 理论与实践相结合才能培养合格企业家  
B. 现实的社会机制不利于培养企业家精神  
C. 马克斯·韦伯的理论与现实环境脱节  
D. 良好的社会环境对企业家非常重要

17. 任何技术的价值观，说到底还是人的价值观。技术中立不代表对技术的使用是无害的，失去道德与法律的约束，就会有碰触底线的危险。一方面，对于商业组织来说，即使其抱有保护个人数据的使命感，然而一旦出现商业利益的冲突，仅靠自律是否足够？另一方面，政府组织也会在各类公共服务中采集大量个人数据，这部分个人数据的敏感程度往往较高，如果缺乏一套完善的制度监管体系严防其被滥用、盗用，那么也将使公民的个人信息被暴露在较大风险之中。

这段文字意在说明（ ）。

- A. 商业组织的自律有助于保护个人数据      B. 人的价值观决定了技术使用的利弊  
C. 技术中立给个人数据带来风险              D. 个人数据的收集需要监管

18. 调查显示，青年创业过程中最大的困难是资金问题，64.2%的人认为缺乏足够的资金是主要困难。而很多人尽管缺乏资金，也不愿意去贷款或融资，这反映出很多创业者在创业过程中有保守的心态。另一个比较突出的困难是同行竞争过度，占26.9%。调研过程中发现，青年创业的领域比较集中，如大学生群体更倾向于电商、计算机技术支持等方面的创业，青年农民更愿意从事自己比较熟悉的种植和养殖业等，这种同质化的创业在形成规模效应的同时，也难免会带来过度竞争。

以下说法与原文相符的是（ ）。

- A. 青年创业的领域集中在某些固定行业      B. 金融服务对青年创业者支持力度不足  
C. 同质化创业反映了创业者的保守心态      D. 资金不足是青年创业失败的主要因素

19. 新工业革命浪潮中，很多制造业大国都在押注智能制造。中国既是制造大国，也是使用大国，如果数据是工业 4.0 时代创造价值的原材料，那中国无疑是资源最多的一个国家。但数据不会直接创造价值，就像是现金流而非固定资产决定一个企业的兴衰一样。真正为企业带来价值的是数据流，是数据经过实时分析后及时地流向决策链的各个环节，成为面向用户、创造价值与服务的内容和依据。虽然德国是工业 4.0 的发起者，但作为控制器、物联网技术和生产设备的提供者，德国只是基础技术的供应商，直接面向客户的价值创造端却是中国。

这段文字意在强调（ ）。

- A. 我国应当充分挖掘数据资源的潜在价值
- B. 数据资源拥有者在智能制造方面更具有优势
- C. 我国在新工业革命浪潮中面临新的机遇
- D. 数据流是企业在工业 4.0 时代领先的关键

20. 在当代中国，无论是国有企业还是民营企业，都肩负着经济责任、社会责任和政治责任。有人会有疑惑：为什么民营企业要肩负政治责任？这就要弄明白什么是政治。首先，中国民营企业是中国特色社会主义制度的产物，是中国特色社会主义经济的有机组成部分，带有天然的政治基因。其次，在当代中国，最大的政治是民生，凡涉民生皆政治。更不要说那些涉及国家经济安全、国防安全、网络安全、生态安全等领域的企业。同时，任何企业要做优做强做大，都要做大市场。在中国，自觉融入并服务于国家发展战略就是做大市场的最可靠保证。凡有一定规模、有一定市场占比的中国企业，几乎没有不涉及国计民生、不涉及国家发展战略的。

这段文字意在表明（ ）。

- A. 企业要有大格局
- B. 企业要有大担当
- C. 企业要有大视野
- D. 企业要有大情怀

21. 当前，科技产品的软硬件制造商还习惯于传统的商业模式：每过一年左右发售一个新版本，默认卖点就是更多功能。如此一来，随着时间渐增，软件和应用变得越来越复杂——但是用户使用手册却总有缺失，甚至无法获取。理想的目标是，设计师将产品设计得足够简单，重要的功能足够明显，让大众仅凭自己的推断就能掌握使用方法。

这段文字意在强调（ ）。

- A. 用户使用手册跟不上科技产品发展节奏
- B. 科技产品应以简洁易上手作为开发目标
- C. 传统的商业模式不适用于科技产品领域
- D. 设计师并未理解用户对科技产品的需求

22. 新鲜鱼肉味道鲜美，营养丰富，但鱼的含脂量少，含水量多，保存不易，容易腐败。一旦脱水死亡后，极易遭细菌作用，快速分解，产生三甲胺和哌啶。三甲胺是气体，易溶于水；哌啶是液体，有氨臭味。所以许多人一提到鱼，就会联想到腥臭。意大利菜中有种油渍鲱鱼，经过发酵，气味甚重，但有许多人喜欢，用在调拌色拉酱、制作意大利面酱，经常可见，应当是古希腊、罗马调味料鱼露（Garum）的远亲。

这段文字意在说明（ ）。

- A. 意大利人喜欢气味甚重的油渍鲱鱼
- B. 鱼的气味是怎么产生的
- C. 不同的人对鱼的气味有不同的文化认同
- D. 许多人对鱼的腥臭比较敏感



23. 虽然中国的救灾能力在经历过很多次大型自然灾害后有了较大的提升,但是防灾教育依然落后。中国扶贫基金会 2015 年对中国公众的防灾意识进行了调查,结果显示,仅有 24.3%的城市居民表示关注灾害应对的相关知识,这一数据在农村仅为 11%。此外,只有不到 4%的城市居民在日常生活中做了基本的防灾准备,超过半数的农村居民从未参加过任何防灾培训。形同虚设的防灾教育无法提高民众的自救能力,等到灾难发生后才开始组织学习,逝去的生命已经无法挽回。

这段文字意在说明( )。

- A. 防灾教育比救灾更重要
- B. 中国的防灾教育亟待加强
- C. 防灾教育是提高自救能力的基础
- D. 城市与农村在防灾教育上严重失衡

24. 商标作为一种大众传播的视觉符号,一定要具有特定含义,并且需要以简洁的形象,鲜明地传达出它所具有的特定信息。所以,只具有形象美而不具有丰富内涵的商标是不能称为“标志”的,充其量只是一种图案或图形。同时,我们也必须明白,每个企业都必然具有多方面的特性,试图用一种形象涵盖所有信息是不可能的,试图在一枚商标中容纳所有特征,也是不可取的。这就需要设计师通过分析和筛选,提炼出对象所具有的独特属性,使其与视觉形象完美融合,从而创造出全新的、具有鲜明指示性的符号标识。

这段文字意在说明( )。

- A. 商标怎样才能呈现企业的独特属性
- B. 商标的创造过程是对设计师的考验
- C. 商标应该是形象与内涵的完美统一
- D. 丰富的内涵是对商标的最基本要求

25. 20 世纪建筑遗产的文化价值,不仅存在于物质层面,即物理区位、设计、建造系统、技术与材料等方面,也存在于非物质价值层面,即历史的、社会的、科学的、精神的层面(含创造的天赋等)。为理解环境对一个遗产地价值的贡献,一定还要评估其室内外环境与景观,评估其在城市中的地位与作用,所有评估要采用对比分析的方法,从而为编制 20 世纪建筑遗产登录名单服务。

这段文字主要介绍了( )。

- A. 挖掘建筑遗产非物质层面的意义
- B. 20 世纪建筑遗产的价值与评估方法
- C. 环境对遗产的价值的贡献
- D. 20 世纪建筑遗产登录名单的编制方法

26. 我国科普工作虽然取得了很大进步,可是科普读物,无论数量还是质量,与发达国家还有着数量级的差距。在一些社会关注的重大问题上,科学家更应该主动站出来讲话。要把科学语言转化为老百姓听得懂的语言,实事求是讲真话。如果连科学家都不愿意、不敢讲话,任由真相缺失、谣言扩散,那么势必会引起公众的恐慌和困惑。

上述文字意在强调( )。

- A. 科普工作应该通俗化,接地气
- B. 我国科普读物数量少,质量差
- C. 科学家负有做科普工作的义务
- D. 科学家应坚持求真务实的原则

27. “千里马”是赛出来的,不是相出来的。更多的时候,真正的“伯乐”是创业、创新的实践。这场竞争,对创业者而言,是一种积极的就业方式、生活方式。对整个社会而言,实业的兴旺能够带来更多的就业机会。相反,处于创业、创新活跃期的青年,如果得不到施展才华的机会,不仅会浪费巨大而宝贵的人力资本,也会抑制社会成员的进取意识,加重上升空间的壅塞,引发社会失望和不满。

作者接下来最有可能讲述的是( )。

- A. 创业与创新的关系
- B. 创业创新的重要性
- C. 如何提供创业创新的机会
- D. 青年应该怎样去创业创新

28. 医德是加剧老百姓“看病难看病贵”的一大推手。在“目中无人”成为医疗行业“职业病”的情况下，心中唯有名利的“小医”“恶医”们，只会把普通病人当成“待宰的羔羊”“生财的摇钱树”，普通老百姓难以摆脱“任人摆弄”的境遇。

这段文字接下来想要说明的是（ ）。

- A. 矫正畸形的行医观，重建正确的医风医德，是医改不可或缺的内容
- B. 普通老百姓在现行的医风下只能“任人摆弄”
- C. 医德不正，是加剧老百姓“看病难看病贵”的一大推手
- D. 医生应该只管看病，不能向病人推销药品

29. 作为新一代移动通信技术，5G 网络主要用于满足 2020 年以后的通信需求，它使用户终端始终处于联网状态，可支持的设备远不止智能手机，而是会扩展到未来的智能家居、智能穿戴等设备。与当今 4G 网络使用率相比，5G 技术提供密集而高效的网络支持，并且在使用限制上也比 4G 网络大大减少，可以更方便地实现人与物的联通。

这段文字意在表明（ ）。

- A. 5G 移动通信技术比 4G 网速更快
- B. 5G 移动通信技术将改变人们的生活方式与生产方式
- C. 5G 网络主要用于满足 2020 年以后的通信需求
- D. 5G 技术提供密集而高效的网络支持

30. 虽然翻拍要比重新创作或“另起灶炉”显得容易些，但也不能因为翻拍就忽略了剧本的质量，胡编乱造更是行不通。创作是第一要务，是翻拍成败的基础，翻拍要是失败了，失掉的不仅是观众，还会带来对原来成功形象的瓦解和品牌贬值。

上述文字，意在强调翻拍（ ）。

- A. 并不一定比“新拍”容易
- B. 不能胡编乱造，颠覆经典
- C. 也需要进一步挖掘和创新
- D. 如果失败会反噬原有口碑

## 第二部分 数量关系

（每题 1 分，共 15 题）

本部分包括两种类型的试题：

一、数字推理：共 5 题。给你一个数列，但其中缺少一项，要求你仔细观察数列的排列规律，然后从四个选项中选出你认为最合理的一项来填补空缺项。

请开始答题：

31. 2, 5, 11, ( ), 32, 47, 65

- A. 17
- B. 18
- C. 20
- D. 21

32. 10, 15, 25, ( ), 55, 65

- A. 28                      B. 30                      C. 35                      D. 45  
33. 23, 26, 32, 53, (     ), 296  
A. 66                      B. 87                      C. 113                      D. 216  
34. 10, 30, 8, (     ), 6, 42, 4, 36  
A. 40                      B. 38                      C. 36                      D. 32  
35. 0, 1, 1, 4, 25, (     )  
A. 18                      B. 525                      C. 841                      D. 1200

二、数学运算：共 10 题。每道试题呈现一道算术式，或表述数字关系的一段文字，要求你迅速、准确地计算或论证出答案。

请开始答题：

36. 某公司将在本周一至周日连续七天举办联谊会，某员工随机地选择其中的连续两天参加联谊会，那么他在周五至周日期间连续两天参加联谊会的概率为（     ）。

- A.  $\frac{1}{2}$                       B.  $\frac{1}{3}$                       C.  $\frac{1}{4}$                       D.  $\frac{1}{6}$

37. 某学院从 9 名同学中选出 4 名同学去四个不同的乡镇甲、乙、丙、丁参加三下乡社会实践活动，其中有两名同学不能去乡镇丁，则分配方案共有多少种？（     ）

- A. 2352                      B. 2452                      C. 2552                      D. 2652

38. 某乡有 32 户果农，其中有 26 户种了柚子树，有 24 户种了橘子树，还有 5 户既没有种柚子树也没有种橘子树，那么该乡同时种植柚子树和橘子树的果农有（     ）。

- A. 23 户                      B. 22 户                      C. 21 户                      D. 24 户

39. 一次羽毛球邀请赛，参赛的每两支队伍之间都要进行一场比赛，赛程计划安排 7 天，每天安排 4 场比赛，问共邀请了多少支队伍参赛？（     ）

- A. 8 支                      B. 9 支                      C. 10 支                      D. 11 支

40. 一艘轮船发生漏水事故，立即安装两台抽水机在外抽水，此时已进水 800 桶，一台抽水机每分钟抽水 18 桶，另一台每分钟抽水 14 桶，50 分钟把水抽完。则每分钟进水多少桶？（     ）

- A. 16                      B. 18                      C. 20                      D. 21

41. 用一根绳子测钢管长度。已知绳子的一半比钢管长 8 厘米，而绳子的三分之一比钢管短 1 厘米。那么，绳子长多少厘米？（     ）

- A. 36                      B. 42                      C. 54                      D. 66

42. 小王有若干硬币，他发现如果把这些硬币平均放在 2 个盒子里则多出一个硬币，同样，小王把他们平均放在 3 个、4 个、5 个和 6 个盒子里，均多出一个硬币。问小王至少有多少个硬币？（     ）

- A. 57 个                      B. 61 个                      C. 73 个                      D. 97 个

43. 市总工会举行工会知识竞赛，每位选手作答 25 题，答对一题得 3 分，不答得 1 分，答错扣 1 分。某单位派出 7 名选手参赛，由四位记分员分别统计该单位选手的总得分，结果分别为 539 分、490 分、469 分、434 分。经核查，其中有一位记分员的统计结果正确，则该单位 7 名选手的平均分为（     ）分。

- A. 77                      B. 70                      C. 67                      D. 62



44. 商店经销某商品，第二次进货的单价是第一次进货单价的九折，售价不变，利润率比第一次销售该商品时的利润率增加了15个百分点，则该商店第一次经销该商品时所定的利润率是（ ）。

- A. 35%                      B. 20%                      C. 30%                      D. 12%

45. 小刘在做一道除法题时，误将除数 56 看为 65，结果得到的商是 4，余数是 8，那么正确的商与余数之积是（ ）。

- A. 48                          B. 156                      C. 164                      D. 176

### 第三部分 判断推理

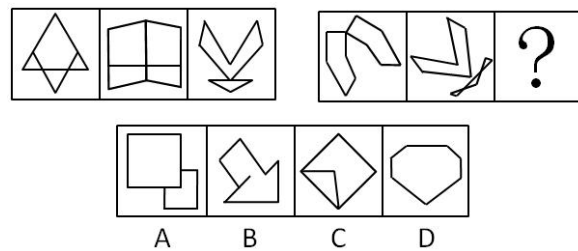
(每题 1 分，共 30 题)

本部分包括四种类型的试题：

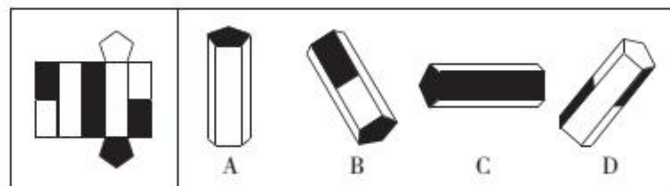
一、图形推理：共 5 题。请按每道题的答题要求作答。

请开始答题：

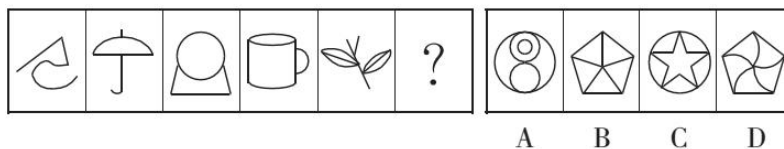
46. 从所给的四个选项中，选出一个填入问号处，使之呈现一定的规律性。



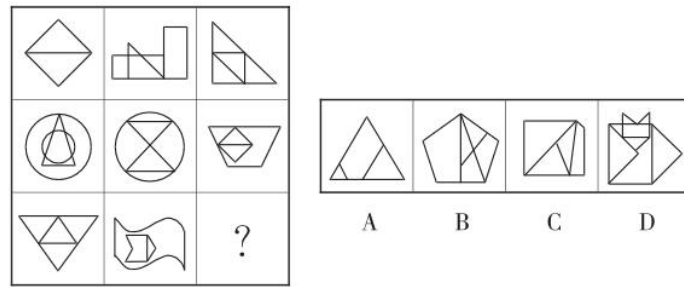
47. 请从所给的这几个选项中，选择一个立体图形相对应。（ ）



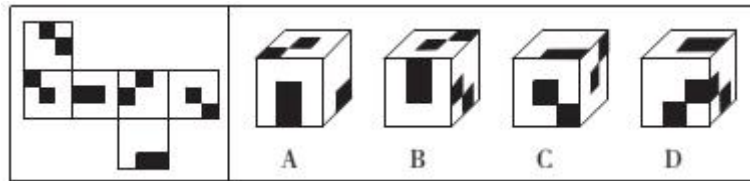
48. 从所给的四个选项中，选出一个填入问号处，使之呈现一定的规律性。



49. 从所给的四个选项中，选出一个填入问号处，使之呈现一定的规律性。



50. 左边给定的是纸盒的外表面，下面哪一项能由它折叠而成？（ ）



二、定义判断：共 5 题。每道题先给出定义，然后列出四种情况。要求你严格依据定义，从中选出一个最符合或最不符合该定义的答案。注意：假设这个定义是正确的，不容置疑的。

请开始答题：

51. 对比效应是指自己与别人相比较时，感觉到与比较目标的差距，从而产生消极的情感体验。与之相对的是投射效应，即在认知或对他形成印象时，以为他人也具备与自己相似的特性，即推己及人的情形。

根据上述定义，下列属于对比效应的是（ ）。

- A. 庞统去见孙权，权见其人形容古怪，心中不喜；庞统又去见刘备，刘备见统貌陋，心中也不悦
- B. 一个长相中等的女性与一个她不认识的漂亮女性走在一起时觉得自己很难看
- C. 本性自卑的人，认为所有的人都很自卑，所以觉得生活很无聊
- D. 疑心重的人，认为别人老在怀疑自己

52. 在企业活动中，库存有多种类型。装运库存是指在价值链末端工厂的库房里，那些已经准备好可以随时出货的产品。在途库存又称中转库存，指还未到达目的地，正处于运输状态或等待运输状态的储备在运输工具中的库存。

根据上述定义，下列选项属于在途库存的是（ ）。

- A. 小张给自己网购了一件毛衣，下单两天后查询该毛衣已到某中转站
- B. 某高速服务区内一辆大货车满载着 A 超市从 B 地采购的各类毛巾
- C. 某皮鞋厂的卡车里，堆满了该厂用于制造新款皮鞋的牛皮
- D. 某公司在城南的自有库房中存放着给城北门店销售的玩具

53. 物权请求权是指当物权受到侵害时，权利人可以请求侵害人返还原物，排除妨害，消除危险，修理、重做、更换或者恢复原状，请求损害赔偿的一种权利。

根据上述定义，下列不属于行使物权请求权的是（ ）。

- A. 甲在乙的菜地周围建造别墅，导致乙的菜地终日不见阳光，乙要求甲拆除
- B. 甲借了乙的笔记本电脑，在使用期间不慎将电脑主板损坏，乙要求甲修好后再返还

- C. 乙的自行车不见了，乙发现甲骑的自行车与自己丢失的相似，乙要求甲返还自行车
- D. 乙外出时赶上大雨，临时用了甲的雨伞使用后雨伞损坏，甲要求乙赔偿

54. 直觉是指一种不经过分析、推理的认识过程而直接快速地进行判断的认识能力。

根据以上定义，下列属于直觉的是（ ）。

- A. 早上，小明推开窗看到地上湿了，心想，昨天晚上又下雨了
- B. 琳琳看到橱窗里展示了三幅手抄报，她马上指着第二幅对小胖说，这肯定是婷婷的
- C. 看了交上来的三份计划后，主管决定采用能体现公司形象的那份计划
- D. 朱红出门的时候走得太急而忘记关门，在路上，他想自己肯定是关了门的，因为自己平时总不忘关门

55. 泛化，指人和动物一旦学会对某一特定的条件刺激作出条件反应以后，其他与该条件刺激相类似的刺激也会引发其条件反应。

根据上述定义，下列现象属于泛化的是（ ）。

- A. 曾经被大狗咬过多次的人，日后见到小狗也会产生恐惧
- B. 看到别人的一个行为得到了奖赏之后，自己常常会效仿
- C. 孩子做了好事，得到一粒糖作奖赏，他就会再做好事
- D. 浸淫古玩行当数年的专家，真品赝品，很容易辨别出来

三、类比推理：共 10 题。先给出一对相关的词，要求你在备选答案中找出一对与之逻辑关系上最贴近或相似的词。

**请开始答题：**

56. 桑叶：蚕：蚕丝

- A. 花粉：蜜蜂：蜂蜜
- B. 青草：绵羊：毛线
- C. 粮食：鸡：茶叶蛋
- D. 土地：树木：木材

57. 奏折：公文：官吏

- A. 里弄：胡同：街道
- B. 学堂：书院：教授
- C. 绝句：诗歌：诗人
- D. 庙宇：住宅：僧人

58. 竞争：共赢

- A. 博弈：和棋
- B. 判决：和解
- C. 买卖：互惠
- D. 球赛：平局

59. 准确：精确

- A. 讨厌：厌恶
- B. 提升：提拔
- C. 渴望：奢望
- D. 接受：接收

60. 灯泡：台灯

- A. 手机：电话
- B. 水：矿泉水
- C. 纸张：打印机
- D. 木门：房间

61. 橡胶：轮胎：汽车

- A. 玻璃：水杯：容器
- B. 塑料：键盘：电脑

- C. 木材：纸张：课本  
62. 蜂蜜：甘甜  
A. 道路：畅通  
C. 雨林：湿润  
63. 白领：研究生  
A. 老师：学生  
C. 工人：工厂  
64. 生产：供给  
A. 刮风：下雨  
C. 骄傲：落后  
65. 地震：救助：募捐  
A. 工作：加班：值班  
C. 疾病：治疗：服药
- D. 铁丝：衣架：阳台  
B. 技术：高超  
D. 资源：丰富  
B. 松花江：清江  
D. 大学生：志愿者  
B. 立法：执法  
D. 创新：创业  
B. 科研：实验：文献  
D. 诈骗：抓捕：惩处

**四、逻辑判断：共 10 题。**每题给出一段陈述，这段陈述被假设是正确的，不容置疑的。要求你根据这段陈述，选择一个答案。注意，正确的答案应与所给的陈述相符合，不需要任何附加说明即可以从陈述中直接推出。

**请开始答题：**

66. 一般而言，猫的平均寿命比狗长 3 年，达 15 年。有研究认为，猫的“长寿之道”可能与它们独居的习性有关。

以下哪项如果为真，最能支持上述研究观点？（ ）

- A. 猫喜欢独自生活，从而减少了感染疾病的可能性  
B. 猫较少遭受掠食者攻击，因为它们具有很好的防御手段  
C. 无论是休息还是活动，猫比狗都要警觉，反应也更为敏捷  
D. 狗和人类一起生活时，其寿命会因为各种奇特的饲养方式而缩短

67. 一项研究显示，与四壁白墙或只能看见其他建筑物的教室相比，那些能看见自然风景的教室可以帮助高中生提高 13% 的注意力测试成绩，自我解压的能力也相应提高。研究者据此认为，窗外的自然风景不但不会令人分心，反而有助于提高学习成绩。

上述结论如果成立，需要基于哪一前提？（ ）

- A. 高中生很容易被其他事物分散注意力  
B. 注意力集中对学习成绩提高有关键影响  
C. 自我解压能力与注意力集中程度有正相关关系  
D. 传统观念认为四壁白墙的教室更有利于学习

68. 所有的舞蹈爱好者都爱好古典音乐；有些古典音乐的爱好者爱好文学阅读；所有爱好文学阅读的都不喜欢体育运动；有些舞蹈爱好者同时爱好体育运动。

如果上述结论为真，那么以下哪项最不可能为真？（ ）

- A. 有的舞蹈爱好者爱好文学阅读
- B. 有的舞蹈爱好者不爱好体育运动
- C. 有些古典音乐爱好者爱好舞蹈
- D. 所有古典音乐爱好者都爱好体育运动

69. 低热量食物是指含淀粉、糖类碳水化合物类较少的食物。通过食用低热量食品，可以有效控制能量的摄入量，避免多余能量在体内以脂肪形式储存下来。如果体重已经较重的人改为食用低热量食品，则可在保持饱腹感的同时达到减肥效果。另外，有许多人认为，低热量食物对糖尿病患者也十分有益。

以下哪项为真，最能支持上述推论？（ ）

- A. 改为食用低热量食物需要逐步进行，否则会引起机体代谢紊乱
- B. 研究表明低热量饮食可减少脂肪在胰脏中的沉积，恢复胰岛素的分泌
- C. 低热量食品可适当增加进食量，满足饱腹感，享受吃饱的乐趣
- D. 低热量食品可以降低超重或糖尿病患者的体重，但需要补充其他营养

70. R 医院连续五年在 C 市举办的“我最满意的医院”调查中高居榜首，该医院负责人表示，这是由于该医院提供了比其他医院更加优质的导诊服务。

以下哪项为真，最能支持该医院负责人的观点？（ ）

- A. C 市各大医院都在导诊服务中投入了大量精力，力图提高导诊服务质量
- B. C 市“我最满意的医院”调查已开展 20 年，高居榜首的均是公立医院
- C. C 市共有 200 多家医院，并非所有的医院都参与了此次调查
- D. 与 R 医院医疗水平相当，但导诊服务不佳的排名均不如 R 医院

71. 几乎所有人在吃葡萄的时候都会把葡萄籽扔掉，研究显示，葡萄籽中含有一种对人体健康很重要的营养物质，而葡萄果肉中并没有这种营养物质，因此我们吃葡萄的时候，为了得到葡萄籽中的特殊营养应该把葡萄籽一起吃下去。

下列哪个如果正确，最能质疑专家的上述建议？（ ）

- A. 葡萄籽味道酸涩，难以下咽
- B. 人体无法消化未经过加工处理的葡萄籽
- C. 人类不可以通过其他途径获得葡萄籽中的营养物质
- D. 其他食物中都不含有葡萄籽中的特殊营养物质

72. 目前许多数据仍处于“孤岛”状态，单一或少数领域的大数据不仅价值有限，还存在片面性的危险。只有数据跨越了行业领域间的界限，关联性加强时，数据的准确性才会提高。打通数据“孤岛”，融合数据，还要走很长的路。另外，数据的收集、存储和搬运虽然越来越便利，但从技术上看，从海量数据中淘出有价值的信息，还缺少强大的工具。

从上述分析能得出下列哪项结论？（ ）

- A. 数据一旦跨越行业领域间的界限，其准确性就会提高
- B. 如果不改变数据“孤岛”状态，数据的准确性就会大受影响
- C. 数据准确性一旦提高，说明数据已经跨越了行业领域间的界限
- D. 如果能提高筛选海量数据的技术，那么收集数据会便利很多

73. 企业要高速发展，必须有强大的盈利能力。企业只有不断开发新产品，才能保证强大的盈利能力。而企业如果忽视研发人才的培养，则无法开发新产品。



以下结论，可以从题干的判定中推出的是（ ）。

- I. 想要高速发展的企业，不能忽视研发人才的培养
- II. 无法研发出新产品的企业，无法得到高速发展
- III. 一个没有强大盈利能力的企业，一定是忽视了研发人才的培养

- A. 只有 I                      B. 只有 II                      C. I 和 II                      D. I 和 III

74. 最新的一项研究得出两个结论：工作复杂性越高，尤其对女性而言，认知表现会随着年龄的增长而越来越好；在脏乱的工作环境中，无论男女，均显示出认知能力的下降。

根据上述论述，对提高员工认知能力帮助不大的是（ ）。

- A. 能够不断学习新技能的工作岗位
- B. 室内有绿植、干净整洁的办公室
- C. 不断有新挑战、创新性强的工作
- D. 对办公纪律要求十分严格的工作

75. 为了预测企业未来几年的岗位需求情况，《职场达人》杂志对 100 家企业进行了一次问卷调查。结果显示，超过半数的答卷都把人力资源管理人才选为企业的重要支撑。这说明，我国人力资源人才的需求日趋增长，企业重技术不重管理的现象已经成为过去。

以下哪项如果为真，将削弱上述结论？（ ）

- A. 目前我国人力资源从业人员平均收入与其他岗位相比，仍然是中等偏下
- B. 被调查者 90%以上是企业的人力资源部经理
- C. 被调查的虽然有 100 家企业，但总人数不过 150 多人
- D. 《职场达人》并不是一份没有影响力的杂志

## 第四部分 资料分析

（每题 1 分，共 15 题）

所给出的图、表或一段文字均有 5 个问题要你回答。你应根据资料提供的信息进行分析、比较、计算和判断处理。

请开始答题：

一、根据下表回答 76~80 题。

中国创新指数情况

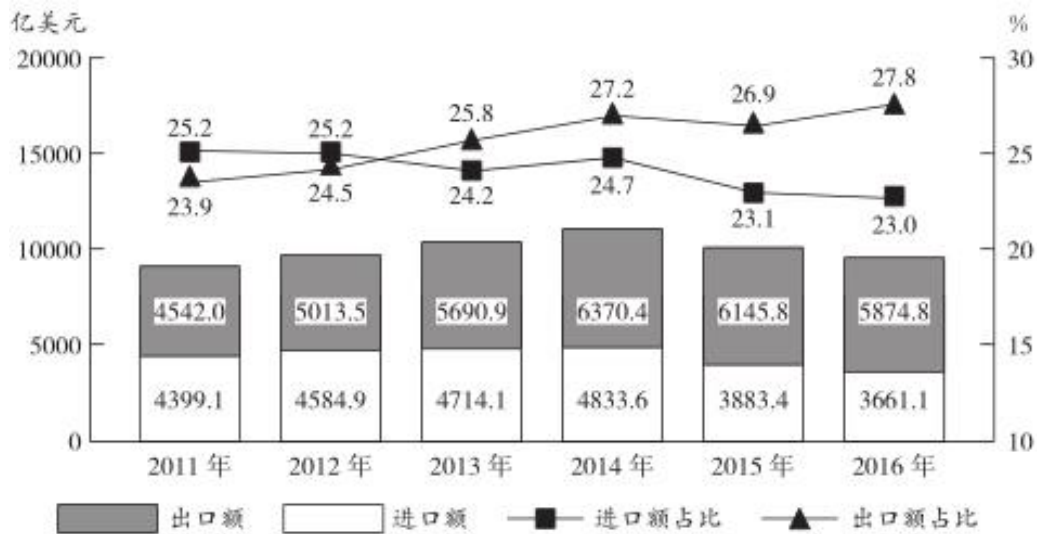
	2005	2010	2011	2012	2013
<b>中国创新指数</b>	100	131.8	139.6	148.2	152.8
<b>一、创新环境指数</b>	100	131.0	138.1	144.0	150.1
1. 经济活动人口中大专及以上学历人数指数	100	161.7	184.7	194.7	208.0
2. 人均 GDP 指数	100	165.9	180.4	193.8	207.1
3. 信息化指数	100	120.0	124.3	128.4	128.4
4. 科技拨款占财政拨款的比重指数	100	116.4	114.1	113.0	112.1
5. 享受加计扣除减免税企业所占比重指数	100	103.0	106.3	113.5	123.2
<b>二、创新投入指数</b>	100	132.7	140.7	152.2	154.1
1. 每万人 R&D 人员全时当量指数	100	182.5	205.0	229.7	248.7

2. R&D 经费占 GDP 比重指数	100	133.3	139.2	150.0	157.6
3. 基础研究人均经费指数	100	163.5	187.0	206.2	217.9
4. R&D 经费占主营业务收入比重指数	100	112.8	115.9	119.7	120.5
5. 有研发机构的企业所占比重指数	100	117.6	124.4	142.7	129.7
6. 开展产学研合作的企业所占比重指数	100	103.7	100.9	102.5	100.6
<b>三、创新产出指数</b>	100	137.2	150.0	164.2	168.4
1. 每万人科技论文数指数	100	152.8	154.5	155.6	156.9
2. 每万名 R&D 人员专利授权数指数	100	230.6	243.8	284.9	276.5
3. 发明专利授权数占专利授权数的比重指数	100	89.3	105.4	102.5	96.9
4. 每百家企业商标拥有量指数	100	100.1	112.0	125.2	141.1
5. 每万名科技活动人员技术市场成交额指数	100	155.3	171.7	211.1	229.9
<b>四、创新成效指数</b>	100	126.4	129.5	132.4	138.4
1. 新产品销售收入占主营业务收入的比重指数	100	115.2	113.9	111.5	116.3
2. 高技术产品出口额占货物出口额的比重指数	100	109.0	100.9	102.5	104.4
3. 单位 GDP 能耗指数	100	123.5	126.1	130.6	135.6
4. 劳动生产率指数	100	177.1	210.1	225.8	251.7
5. 科技进步贡献率指数	100	117.8	119.7	120.8	122.9

76. 2013 年，中国创新指数同比增长（ ）。
- A. 2.2%                      B. 3.1%                      C. 13.0%                      D. 13.16%
77. 2010 年~2013 年，中国创新指数的四大领域分指数中，增长最快的是（ ）。
- A. 创新环境指数          B. 创新投入指数          C. 创新产出指数          D. 创新成效指数
78. 与上年相比，2013 年中国创新指数的四大领域分指数中，（ ）的各项分指数均保持了上升势头。
- A. 创新环境指数          B. 创新投入指数          C. 创新产出指数          D. 创新成效指数
79. 与上年相比，2013 年创新投入指数的分指数中，变化幅度最大的是（ ）。
- A. 每万人 R&D 人员全时当量指数                      B. 基础研究人均经费指数
- C. 有研发机构的企业所占比重指数                      D. 开展产学研合作的企业所占比重指数
80. 根据给定资料，能推出的是（ ）。
- A. 2010 年~2013 年，所有指数历年均保持增长趋势
- B. 2010 年~2013 年，所有指数历年均有不同幅度变化
- C. 2010 年~2013 年，历年的所有指数均大于 100
- D. 2010 年~2013 年，历年的创新投入指数都大于创新成效指数

## 二、根据下图回答 81~85 题。

2011~2016 年中国与“一带一路”沿线国家贸易情况



81. “十二五”（2011~2015年）期间，中国与“一带一路”沿线国家贸易总额约为多少万亿美元？（ ）
- A. 3.4                      B. 4.2                      C. 5.0                      D. 6.0
82. 2011~2016年间，中国对“一带一路”沿线国家贸易顺差超过1000亿美元的年份有几个？（ ）
- A. 2                          B. 3                          C. 4                          D. 5
83. 2016年，中国与“一带一路”沿线国家进出口贸易总额比上年下降了约（ ）。
- A. 5%                        B. 10%                      C. 15%                      D. 20%
84. 2015年，中国与“一带一路”沿线国家进出口贸易总额占当年中国进出口贸易总额的比重约为（ ）。
- A. 24.7%                    B. 22.8%                    C. 27.2%                    D. 25.3%
85. 能够从上述资料中推出的是（ ）。
- A. 2011年中国出口贸易额超过2万亿美元
- B. 2012年中国进口贸易额比上年增长了10%以上
- C. 2011~2016年间中国与“一带一路”沿线国家进口额和出口额最高的年份是同一年
- D. 2011~2016年中国对“一带一路”沿线国家出口额占出口总额比重逐年上升

**三、根据下面文字资料回答86~90题。**

2016年1~12月，国有企业营业总收入458978亿元，同比增长2.6%。其中，中央企业276783.6亿元，同比增长2%；地方国有企业182194.4亿元，同比增长3.5%。

1~12月，国有企业营业总成本449885亿元，同比增长2.5%，其中销售费用、管理费用和财务费用同比分别增长5.9%、增长6.7%和下降3.7%。其中，中央企业268039.9亿元，同比增长2.2%，其中销售费用、管理费用和财务费用同比分别增长5.8%、增长7.3%和下降5.8%；地方国有企业181845.1亿元，同比增长3%，其中销售费用、管理费用和财务费用同比分别增长6.3%、增长5.7%和下降1.5%。

1~12月，国有企业利润总额23157.8亿元，同比增长1.7%。其中，中央企业15259.1亿元，同比下降4.7%；地方国有企业7898.7亿元，同比增长16.9%。

1~12月,国有企业应交税金38076.1亿元,同比下降0.7%。其中,中央企业29153亿元,同比下降2.5%;地方国有企业8923.1亿元,同比增长6%。

12月末,国有企业资产总额1317174.5亿元,同比增长9.7%;负债总额870377.3亿元,同比增长10%。其中,中央企业资产总额694788.7亿元,同比增长7.7%;负债总额476526亿元,同比增长8.2%;地方国有企业资产总额622385.8亿元,同比增长12%;负债总额393851.3亿元,同比增长12.1%。

86. 2016年1~12月,国有企业营业总成本比上年增长了约多少万亿元? ( )

- A. 0.9                      B. 1.1                      C. 1.3                      D. 1.5

87. 如按利润/总收入的方式计算利润率,则2016年1~12月利润率高于上年水平的是 ( )。

- A. 仅地方国有企业                      B. 仅中央企业  
C. 中央企业和国有企业总体                      D. 地方国有企业和国有企业总体

88. 2016年1~12月,中央企业的应交税金占利税总额(利润与应交税金之和)比重比地方国有企业约 ( )。

- A. 高13个百分点      B. 高21个百分点      C. 低13个百分点      D. 低21个百分点

89. 所有者权益的计算方式为资产总额-负债总额。2016年末国有企业所有者权益中,中央企业所有者权益约占 ( )。

- A. 58%                      B. 54%                      C. 49%                      D. 42%

90. 关于2016年国有企业经营状况,能够从上述材料中推出的是 ( )。

- A. 地方国有企业营业收入占国有企业营业总收入的一半以上  
B. 管理费用和财务费用占总成本比重均高于上年水平  
C. 中央企业应交税金占总收入的比重高于上年水平  
D. 地方国有企业资产总额同比增量高于其负债总额同比增量

## 第五部分 常识判断

(每题1分,共10题)

根据题目要求,在四个选项中选出一个最恰当的答案。

**请开始答题:**

91. 2017年,在广东珠海成功完成首飞的我国首款大型灭火/水上救援水陆两栖飞机被命名为 ( )。

- A. 鲲龙 AG600                      B. 蛟龙 ZH215                      C. 精卫 CR919                      D. 鲲鹏 GD311

92. 习近平总书记指出,问题是事物矛盾的表现形式,我们强调增强问题意识,坚持问题导向。这句话的哲学依据是 ( )。

- A. 具体问题具体分析是认识解决问题的关键  
B. 承认矛盾的普遍性是认识解决问题的关键  
C. 坚持问题导向才能体现中国共产党的宗旨  
D. 问题意识是中国特色社会主义的理论基础

93. 金榜题名一直以来是古代文人的梦想，以下诗句与金榜题名无关的一项是（ ）。
- A. 春风得意马蹄疾，一日看尽长安花                      B. 慈恩塔下题名处，十七人中最少年  
C. 白日放歌须纵酒，青春作伴好还乡                      D. 蓬瀛乍接神仙侣，江海回思耕钓人
94. 关于利息，下列说法错误的是（ ）。
- A. 资本的报酬    B. 劳动的报酬  
C. 资本这一生产要素的价格                                      D. 由资本市场的供求双方决定的
95. 下列不属于物权种类的是（ ）。
- A. 所有权                      B. 债权                      C. 用益物权                      D. 担保物权
96. 关于太阳直射，下列说法错误的是（ ）。
- A. 太阳直射北回归线时，南极处于极夜状态  
B. 太阳直射南回归线时，地中海地区温和多雨  
C. 太阳直射赤道时，全球昼夜平分  
D. 太阳直射的最大纬度范围是 50 度
97. 政府为了扶植农产品，规定了高于均衡价格的支持价格，为此政府应采取的措施是（ ）。
- A. 增加农产品的税收    B. 实行农产品配给制  
C. 收购过剩的农产品    D. 取消农产品生产者的补贴
98. 被称作“雨巷诗人”的现代派诗人是（ ）。
- A. 胡适    B. 戴望舒    C. 徐志摩    D. 闻一多
99. 下列生物体或物质与其基本组成单位对应错误的是（ ）。
- A. 病毒——细胞    B. 多糖——单糖  
C. 蛋白质——氨基酸    D. 核酸——核苷酸
100. 下列不属于心理学效应的是（ ）。
- A. 晕轮效应                      B. 马太效应                      C. 破窗效应                      D. 配位效应



## 展鸿事业单位招聘考试模拟卷

### 《职测》参考答案及解析

1. 【答案】D。解析：先看第一空，文段讲现代许多人将精力放在追逐名牌上，划横线处所填词语所构成的句意应与之对应。“提高”多修饰具体的内容，譬如位置、程度、水平、数量、质量等；“打扮”指使衣着和外貌好看，与“追逐名牌”意义相近，排除A、B项。再看第二空，划横线处填入的词语应能体现“不被外在的东西牵着鼻子走”的含义，“拢住”指收拢包裹住，“守住”指坚守、保护，后者更符合语义，排除C项。故本题选D。

2. 【答案】B。解析：第一空，由“注重提高普通市民的生活质量”可知，填入的词语应与“生活质量”相关，“品位”最符合语境；再看第二空，文段表达的是“是否适合居住”之意，故“适宜”比“值得”“方便”“能够”更恰当；第三空“大街小巷”泛指城里的各处地方，符合题干语境。故本题选B。

3. 【答案】C。解析：先看第二空，“耳熟能详”（指听得多了，能够说得很清楚、很详细）与“信手拈来”（多指写文章时能自由纯熟的选用词语或应用典故，用不着怎么思考）不能形容群众对戏曲的看法，排除B、D项。再看第一空，“爱屋及乌”比喻爱一个人而连带地关心到与他有关的人或物，与后文提到的“先入为主的偏见”“难以静下心来欣赏”不搭，排除A项；“敬而远之”形容表面上表示尊敬，实际上不愿接近，符合文意。故本题选C。

4. 【答案】C。解析：文段讲让文学艺术能够还原现实，一直是理论家、艺术家一个永恒的梦想，而没想到这个一直没实现的梦想却让电影实现了。“轻而易举”正好与前文“一直”“永恒”对应，且符合“居然”表示意外的意思。“分毫不差”比喻没有丝毫差错，不符合现实，排除A项。“出人意料”与“居然”语义重复，排除B项。“一马当先”指带头或领先，不符合文意，排除D项。故本题选C。

5. 【答案】A。解析：直接看第一空，“蒸蒸日上”形容事业一天天向上发展，“方兴未艾”指事物正在发展，尚未达到止境，“日新月异”指发展或进步迅速，不断出现新事物、新气象，三者均无法与“不断”搭配，排除B、C、D项。验证A项，“异军突起”比喻一支新生力量突然出现，符合语义，且“得以延续”搭配恰当。故本题选A。

6. 【答案】A。解析：本题直接从第三空入手，根据前文“各个民族之间早就在文化上声气相通，在血缘上血脉交融了”，可知中华民族是“名副其实”的民族大家庭，“表里如一”和“心心相印”通常用来形容人，“其乐融融”文段无从体现，可以直接锁定A项。再验证前面两空，“编撰《百家姓》”符合语法结构，由“我们恐怕找不到哪个姓氏，只有汉族或其他民族的单一血统”可知“找不出一个纯粹的汉族姓氏了”是符合语境的。故本题选A。

7. 【答案】B。解析：先看第二空，根据前后文可知，如果一直高价购买收视率从而抬高制作成本，国产电视剧的质量必然会受到影响，“久而久之”“长此以往”更合适，排除C、D项。再看第一空，“摆脱命运”是习惯搭配。故本题选B。

8. 【答案】B。解析：第一空先排除D项，“垂青于……”的表达方式不恰当。再看第二空，意思是“国内尚未发布环保家具认证标准”，排除C项。第三空辨析两个成语，“鱼目混珠”比喻用假的冒充真的，“鱼龙混杂”比喻坏人和好人混在一起，显然，“鱼龙混杂”更恰当。验证第四空，“五花八门”比喻变化多端或花样繁多，符合语境。故本题选B。

9. 【答案】C。解析：先看第一空，“指点”的主语通常是人，不符合题意，排除D项。再看第二空，根据前面的“堆砌资料”，可知强调“多”；联系文段语体色彩，可知，“博”比“多”更符合语境的语言表达，由此排除A项。再看第四空，“以偏概全”指用片面的观点看待整体问题，正好呼应前面的“见枯木以为树林”。故本题选C。

10. 【答案】A。解析：先看第三空，“必须站在已有知识的基础之上”和“不能是胡思乱想”二者

存在转折关系，“并”表示并列意思，不符合语义，排除B、C项。再看第一空，“并”无法与后文“远远”搭配，排除D项。故本题选A。

11. 【答案】D。解析：先看第一空，后文说宫墙内的文物修复师却要用几年的时间摩挲同一件文物，与宫墙外的世界构成转折，可知宫墙外的世界不断变化。“熙熙攘攘”形容人来人往，不符合文意，排除B项。再看第二空，根据后文“拼接完整”，可知钟表的上千个零件也应能连接完整，“严丝合缝”指缝隙严密闭合，符合文意。“金瓯无缺”比喻国土完整，明显错误，排除A项。“精挑细选”不符合语境，排除C项。故本题选D。

12. 【答案】D。解析：从第三空入手，宾语是“心得”，“显露”和“倾诉”明显无法与之搭配；“诉谈”指诉说，也没有“吐露”来得恰当；“吐露”指说出实情或真心话，文段的意思是读者可以亲自聆听学者分享其毕生所得，锁定D项。再看第一空，“集思广益”指集中群众的智慧，广泛吸收有益的意见。根据前文“一个人思考之所得传诸他人”，可知“集思广益”符合语境。第二空“予取予求”指随心所欲，任意索取，也符合文意。故本题选D。

13. 【答案】D。解析：先看第二空，“力度”通常与“加大”搭配，无法与“提高”搭配，排除C项；再排除B项，“提高政策执行的速度”不符合现实，政策执行更侧重强调成效。再看第一空，“政策信息”与“公开”搭配最贴切，“公布”的对象通常是政府机关的法律、命令、文告等，排除A项。故本题选D。

14. 【答案】B。解析：先看第一空，“丢在巷子深处”和“摆在窗前屋下”二者存在选择关系，“或者”更恰当，排除A、D项。再看第四空，“鲜明”指色彩耀眼、分明，“明显”指清楚地显露出来，根据前文的“土黄”“红色”“青灰色”可知，“鲜明”更恰当，且“鲜明的对比”是习惯搭配，排除C项。验证其他两空，“磨损严重”和“柔和的曲线”均符合搭配。故本题选B。

15. 【答案】B。解析：第一空根据前文“动如脱兔”，可知此处强调相反的“静态”，先排除C、D项。再看第二空，根据前文的“劈啪作响”，可知声音比较小，用“自言自语”最恰当。最后看第三空，应该填入的是动词，B项“大声疾呼”最合适。故本题选B。

16. 【答案】B。解析：文段主要论述马克斯·韦伯对理想社会家的看法，即理想的社会家应该是两种企业家精神或特征的完美结合。但是，现实社会的各种激励不足，阻碍了企业家第一种特征（即高尚的伦理品质和远见、执行力）的激发，由此也使得企业家的第二种特质表现平平（即不自满）。可见，归根到底是现实的社会机制不利于企业家精神的培育，B项正确。A、D项均偷换概念，文段讲的是“企业家精神”而非“企业家”；C项“脱节”说法有误，现实环境的各种激励不足，不能说“脱节”。故本题选B。

17. 【答案】D。解析：文段首先指出技术的使用若失去道德和法律的约束，将会有危害公众的可能，接着从商业组织和政府组织两方面阐述个人数据的使用与保护之间的关系。文段主要强调的是个人数据的使用、收集不仅仅要靠自律，还需要制度监管体系，D项正确。A项仅为文段部分内容，B项“人的价值观”不是文段论述重点，C项说法错误，给个人数据带来风险的并不是“技术中立”，而是个人价值观的偏差和制度监管不完善。故本题选D。

18. 【答案】A。解析：由原文“青年创业的领域比较集中”可知A项正确；文段中提到“很多人尽管缺乏资金，也不愿意去贷款或融资”，并非“金融服务对青年创业者支持力度不够”，B项说法有误；根据文意，反映创业者的保守心态的是“不愿意去贷款或融资”，而不是“同质化创业”，C项说法有误；“创业失败”的原因文段没有涉及，D项说法无从体现。故本题选A。

19. 【答案】A。解析：文段讲如果数据是工业4.0时代创造价值的原材料，那中国就是资源最多的一个国家。但是数据并不会直接创造价值，而是通过分析后及时流向决策链的各个环节才能最终创造价值。由此可知，工业4.0的中心将会在中国，中国应该利用好数据资源优势，A项最恰当。B、D项均偏离“中国”这一论述主体，C项没有提及“数据”。故本题选A。

20. 【答案】B。解析：文段讲在当代中国，国有企业和民营企业除了经济、社会责任外，还要肩负政治责任，促进社会主义经济发展、服务国计民生、融入国家发展战略。对“责任”的感知、认同，就

是一种“担当”，即这段文字主要表明了企业必须要有大的担当。故本题选 B。

21. 【答案】B。解析：文段讲当前科技产品的软硬件制造商还习惯于每过一年左右更新一个新版本，结果使得软件和应用变得越来越复杂，但是用户使用手册却总有缺失。“理想的目标是”后面则是文段的主旨，即产品设计足够简单，重要功能足够明显，可以让大众凭推断掌握使用方法，B 项是其同义转换。A 项“用户使用手册”仅是不易上手的一个方面，不是论述重点；C 项“不适用”偷换概念；D 项说法不具有针对性。故本题选 B。

22. 【答案】C。解析：文段讲鱼肉味道鲜美却不易保存，腐败的气味令很多人无法接受，但一种经发酵气味甚重的意大利菜却受许多人的喜欢。A 项仅为文段举出的一个事例，排除。B 项并非文段主旨项，且文段主要提到的是鱼的“腐败腥臭”气味。C 项正确，有些人不喜欢鱼腐败腥臭的气味，但有些人却很喜欢，体现了不同人对鱼的气味有不同的文化认同。D 项仅为文段提及的某一事实，并非主旨项。故本题选 C。

23. 【答案】B。解析：文段首先讲我国的救灾能力虽然有了较大的提升，但是防灾教育依然很落后，接着通过调查数据加以论述，最后指出形同虚设的防灾教育无法提高民众的自救能力。可见，文段意在说明必须加强防灾教育，B 项最恰当。其他三项均不是意图项。故本题选 B。

24. 【答案】C。解析：先分析文段的内容，前面两句讲述商标不仅要具备简洁的形象，还要有特定含义；第三句说明一枚商标不可能容纳所有的特性；第四句指出文段的观点，即“需要设计师……提炼出对象所具有的独特属性，使其与视觉形象完美融合……”。由此可知，只有 C 项正确。A 项概括不全面，B 项“对设计师的考验”不是文段的论述重点，D 项“最基本的要求”无从判断。故本题选 C。

25. 【答案】B。解析：文段讲 20 世纪建筑遗产的文化价值不仅存在于物质层面，也存在于非物质价值层面，因此，要理解环境对一个遗产地价值的贡献，还要评估其室内外环境与景观，评估其在城市中的地位与作用，而这些评估都要采用对比分析的方法。显然，文段主要介绍 20 世纪建筑遗产的价值与评估方法。A 项“挖掘建筑遗产非物质层面的意义”和 D 项“编制方法”文段均无从体现，C 项不是文段的论述重点。故本题选 B。

26. 【答案】C。解析：文段讲我国的科普工作取得了很大进步，但科普读物与发达国家相比还有很大差距。所以在一些重大问题上，科学家应该主动讲话，并且要讲老百姓听得懂的真话。如果科学家不愿讲、不敢讲，谣言势必引起公众的恐慌。可见文段强调的是科学家应该主动发声，担负起科普工作的责任，C 项正确。A 项是对“老百姓听得懂的语言”的引申，非意图项，B 项为文段的部分内容，D 项文段无从体现。故本题选 C。

27. 【答案】C。解析：下文推断要重点关注末句，文段末句提到“如果得不到施展才华的机会……会抑制社会成员的进取意识，加重上升空间的壅塞，引发社会失望和不满”。由此可知，接下来应该讲述的是与“提供机会”相关的内容，C 项“如何提供创业创新的机会”最有可能是接下来要讲述的内容。故本题选 C。

28. 【答案】A。解析：文段最后一句是“普通老百姓难以摆脱‘任人摆弄’的境遇”，那么，接下来最可能讲述如何摆脱“任人摆弄”的境遇，即医改。再联系前文，可知文段主要讲“心中唯有名利的‘小医’‘恶医’们，只会把普通病人当成‘待宰的羔羊’‘生财的摇钱树’”，则医改的重点是树立正确的医风医德。A 项最恰当。B 项复述文段末句，不可能是下文的内容；C 项是前文的内容，也不可能再复述；D 项“不能向病人推销药品”文段无从体现。故本题选 A。

29. 【答案】B。解析：文段讲作为新一代移动通信技术，5G 网络可支持的设备将会扩展到未来的智能家居、智能穿戴等设备，更方便地实现人与物的联通。B 项讲 5G 技术能够改变人们的生活和生产方式，符合文段主旨，正确。A、C、D 三项仅论述了文段部分内容，无法体现文段主旨，排除。故本题选 B。

30. 【答案】C。解析：文段首先用转折句指出翻拍也要重视剧本的质量，接着讲“创作是第一要务”，可见意在强调翻拍要重视创作，C 项最符合文意。A 项与首句意思相悖；B 项“颠覆经典”文段未提及；D 项非文段重点，文段讲翻拍失败的后果是为了强调“创作”的重要性。故本题选 C。

31. 【答案】C。解析：原数列后项减前项得到：3、6、（9）、（12）、15、18，是公差为 3 的等



差数列。因此原数列未知项为  $9+11=20$ ，验证后项， $20+12=32$ ，符合规律。故本题选 C。

32. 【答案】C。解析：将原数列写成乘积形式： $10=2\times 5$ ， $15=3\times 5$ ， $25=5\times 5$ ，（ ）， $55=11\times 5$ ， $65=13\times 5$ ，乘号左侧：2、3、5、（ ）、11、13，为连续质数列；乘号右侧均为 5。因此原数列未知项为  $7\times 5=35$ 。故本题选 C。

33. 【答案】C。解析：将原数列隔项后项减前项得到：9、27、（81）、243，是公比为 3 的等比数列。因此原数列未知项为  $32+81=113$ 。故本题选 C。

34. 【答案】A。解析：将原数列两两分组得到：（10，30）、[8，（ ）]、（6，42）、（4，36），组内后项除以前项得到：3、（5）、7、9，是公差为 2 的等差数列。因此原数列未知项为  $8\times 5=40$ 。故本题选 A。

35. 【答案】C。解析：原数列满足规律： $a_{n+2}=(a_{n+1}+a_n)^2$  ( $n\geq 1$ )，即  $1=(1+0)^2$ ， $4=(1+1)^2$ ， $25=(4+1)^2$ 。因此原数列未知项为  $(25+4)^2=29^2$ ，尾数为 1，只有 C 项符合。故本题选 C。

36. 【答案】B。解析：该员工在周一至周日期间随机选择其中的连续两天参加，共有 6 种选择方式，在周五至周日期间连续两天参加有 2 种方式。因此题干所求概率为  $\frac{2}{6}=\frac{1}{3}$ 。故本题选 B。

37. 【答案】A。解析：先安排乡镇丁，有 2 名同学不能去，则从其他 7 名同学中选 1 名去，有  $C_7^1$  种方案。再安排其他三个乡镇，剩下 8 名同学随机安排，有  $A_8^3$  种方案。综上，共有  $C_7^1\times A_8^3=2352$  种分配方案。故本题选 A。

38. 【答案】A。解析：根据容斥原理可知，该乡同时种植柚子和橘子树的果农有  $(26+24)-(32-5)=23$  户。故本题选 A。

39. 【答案】A。解析：设共邀请了  $x$  支队伍，进行了  $7\times 4=28$  场比赛，则  $C_x^2=28$ ，即  $x\times(x-1)=56$ ，解得  $x=8$ 。故本题选 A。

40. 【答案】A。解析：根据题意可知，一共抽掉的水量为  $(18+14)\times 50=1600$  桶，则每分钟的进水量为  $(1600-800)\div 50=16$  桶。故本题选 A。

41. 【答案】C。解析：设绳长  $x$  厘米，根据题意可知， $\frac{1}{2}x-8=\frac{1}{3}x+1$ ，解得  $x=54$ 。故本题选 C。

42. 【答案】B。解析：根据题意可知，小王的硬币数量减去 1 所得数值均可被 2、3、4、5、6 整除，而 2、3、4、5、6 的最小公倍数为 60，因此小王至少有  $60+1=61$  个硬币。故本题选 B。

43. 【答案】C。解析：若每位选手 25 题全答对，则可得  $7\times 25\times 3=525$  分，即该单位 7 名选手总分最高得 525 分，排除 539 分，即 A 项。若 1 题不答，则这道题比答对少得 2 分；若答错 1 题，则比答对少 4 分。那么不管有多少题不答或者答错，少得的分数都是偶数，用最高总分 525 减去这个偶数得到的一定是奇数，只有 469 满足，则该单位 7 名选手的平均分为  $469\div 7=67$  分。故本题选 C。

44. 【答案】A。解析：设第一次进货单价为 100，售价为  $x$ ，则第二次进货单价为 90。由题意可得： $\frac{x-90}{90}-\frac{x-100}{100}=15\%$ ，解得  $x=135$ ，因此第一次经销该商品时的利润率为  $\frac{135-100}{100}=35\%$ 。故本题选 A。

45. 【答案】D。解析：由题意可知，被除数为  $65\times 4+8=268$ ， $268\div 56=4\cdots\cdots 44$ 。因此题干所求为  $4\times 44=176$ 。故本题选 D。

46. 【答案】A。解析：第一组图形均有一条竖向对称轴，第二组图形均有一条方向为“左上一右下”的对称轴，只有 A 项符合。故本题选 A。

47. 【答案】C。解析：由展开图可知，该图形只有两个空白的长方形面，且两个空白长方形面间隔一个黑色长方形面，排除 A、B 项；两个半黑半白面相邻，排除 D 项。故本题选 C。

48. 【答案】D。解析：各图形封闭空间数依次为 0、1、2、3、4、（5），排除 C 项；各图形均由直

线和曲线共同构成，排除 A、B 项。故本题选 D。

49. 【答案】D。解析：第一行图形中的三角形个数分别为 2、3、5，第二行图形中的三角形个数分别为 1、2、3，即每一行前两个图形的三角形个数之和等于第三个图形的三角形个数。第三行前两个图形的三角形个数分别为 5、1，则问号处图形的三角形个数应为 6。各选项的三角形个数分别为 3、5、4、6，只有 D 项符合。故本题选 D。

50. 【答案】B。解析：A 项，假设正面正确，则顶面阴影正方形的位置错误，排除。C 项，假设正面正确，则右面右上角的阴影正方形应位于左上角，排除。D 项，假设顶面正确，则正面和右面阴影正方形的位置均错误，排除。故本题选 B。

51. 【答案】B。解析：“对比效应”的定义要点：①自己与别人相比较；②感觉到与比较目标的差距；③产生消极的情感体验。A、C、D 三项均不涉及“比较”，不符合定义。B 项一个长相中等的女性将自己与一个漂亮女性相比较，符合①，“觉得自己很难看”符合②③，符合定义。故本题选 B。

52. 【答案】B。解析：“在途库存”的定义要点：①还未到达目的地，正处于运输状态或等待运输状态；②储备在运输工具中。A 项“已到某中转站”不符合②，排除。B 项毛巾装在大货车里，符合②，大货车在高速服务区，符合①，符合定义。C 项牛皮是该厂用于制造皮鞋的，说明已到达目的地，不符合①，排除。D 项“自有库房”不符合②，排除。故本题选 B。

53. 【答案】C。解析：物权请求权的定义要点：①物权受到侵害；②请求侵害人返还原物，排除妨害，消除危险，修理、重做、更换或者恢复原状，请求损害赔偿。A 项甲建造别墅导致乙的菜地终日不见阳光，影响收成，乙的物权受到了侵害，符合①，乙要求甲拆除，符合②，符合定义，排除。B 项甲将乙的电脑主板损坏，乙的物权受到侵害，符合①，乙要求甲修好，符合②，符合定义，排除。C 项甲不是侵害人，乙无权要求甲返还，不符合②，不符合定义，当选。D 项乙损坏了甲的雨伞，甲的物权受到侵害，符合①，甲要求乙赔偿，符合②，符合定义，排除。故本题选 C。

54. 【答案】B。解析：“直觉”的定义要点是“不经过分析、推理的认识过程而直接快速地进行判断”。A 项，小明看到“地湿了”心想“昨天下雨”，有分析推理的过程，不符合定义，排除。B 项，琳琳看到“三幅手抄报”，立即说第二幅肯定是婷婷的，没有经过任何推理分析过程就快速进行判断，符合定义。C 项，主管决定用“能体现公司形象的”计划，显然是经过了“充分”“非快速”的分析后作出的决定，也不符合定义，排除。D 项，朱红认为自己“肯定关了门”是基于自己“平时总不忘关门”的思维惯性分析，不是直觉。故本题选 B。

55. 【答案】A。解析：“泛化”的定义要点：①学会对某一特定的条件刺激作出条件反应；②其他与该条件刺激相类似的刺激也会引发其条件反应。A 项被大狗咬过多次产生恐惧，符合①，之后见到小狗也产生恐惧，符合②，符合定义。B、C 项未体现“其他与该条件刺激相类似的刺激”，不符合②，排除。D 项属于专业技能，不是对刺激作出反应，不符合定义，排除。故本题选 A。

56. 【答案】A。解析：桑叶是蚕的食物，蚕丝是蚕的分泌物，A 项花粉是蜜蜂的食物，蜂蜜是蜜蜂的分泌物。B 项青草是绵羊的食物，但毛线不是绵羊的分泌物，排除。C 项粮食是鸡的食物，茶叶蛋是鸡蛋经过人工加工后的产物，排除。D 项树木生长在土地上，木材由树木加工而来，排除。故本题选 A。

57. 【答案】C。解析：奏折是公文的一种形式，官吏写奏折；C 项绝句是诗歌的一种形式，诗人写绝句。故本题选 C。

58. 【答案】C。解析：竞争的结果可能是共赢，对双方都有利；C 项买卖的结果可能是互惠，对双方都有利。故本题选 C。

59. 【答案】A。解析：“准确”和“精确”为近义关系，且“精确”的程度比“准确”更深；A 项“讨厌”和“厌恶”为近义关系，且“厌恶”的程度比“讨厌”更深。前后两个词的感情色彩一致。C 项“渴望”为中性词，“奢望”为贬义词，两者感情色彩不一致。故本题选 A。

60. 【答案】D。解析：灯泡是台灯的组成部分，D 项木门是房间的组成部分。A 项手机属于电话，B 项矿泉水属于水，均排除。C 项纸张不是打印机的组成部分，排除。故本题选 D。

61. 【答案】B。解析：橡胶是轮胎的原材料之一，轮胎是汽车的组成部分之一；塑料是键盘的原材料



料之一，键盘是电脑的组成部分之一。C项课本全部由纸张组成。故本题选B。

62. 【答案】C。解析：蜂蜜的特征是甘甜，C项雨林的特征是湿润。A项道路不都是畅通的，B项技术不都是高超的，D项资源不都是丰富的，均排除。故本题选C。

63. 【答案】D。解析：白领和研究生是交叉关系，有些白领是研究生，有些研究生是白领；D项大学生和志愿者也是交叉关系，有些大学生是志愿者，有些志愿者是大学生。A项老师和学生是职业与其工作对象的关系，B项松花江和清江是并列关系，C项工人和工厂是人与其工作场所的关系。故本题选D。

64. 【答案】B。解析：生产是供给的前提，B项立法是执法的前提。故本题选B。

65. 【答案】C。解析：地震发生后可以用募捐的方式进行救助，C项疾病发生后可以用服药的方式进行治疗。A项加班和值班是两种工作状态，排除。B项科研需要实验或者参考文献，排除。D项诈骗（犯人）被抓捕后受到惩处，排除。故本题选C。

66. 【答案】A。解析：题干论点：猫长寿与它们独居的习性有关。A项指出猫独自生活减少了感染疾病的可能性，所以得以长寿，最能支持题干论点。B项指出猫由于具有很好的防御手段所以较少受到掠食者攻击，与猫是否独居无关，属于无关项，排除。C项属于无关项，排除。D项没有解释猫为什么长寿，与题干论点无关，排除。故本题选A。

67. 【答案】B。解析：题干论点：窗外的自然风景有助于提高学习成绩。论据：与四壁白墙或只能看见其他建筑物的教室相比，那些能看见自然风景的教室可以帮助高中生提高13%的注意力测试成绩，自我解压的能力也相应提高。论点和论据之间无直接联系，需要在“学习成绩”和“注意力”或“自我解压的能力”之间“搭桥”，B项指出“注意力集中对学习成绩提高有关键影响”，符合要求，是论点成立需要基于的前提。A、C、D项均属于无关项，排除。故本题选B。

68. 【答案】D。解析：由“有些古典音乐的爱好者爱好文学阅读”和“所有爱好文学阅读的都不喜欢体育运动”可推出有些古典音乐的爱好者不喜欢体育运动，D项最不可能为真。故本题选D。

69. 【答案】B。解析：论点：体重较重的人改为食用低热量食品可在保持饱腹感的同时减肥；低热量食物对糖尿病患者也十分有益。论据：通过食用低热量食品，可以有效控制能量的摄入量，避免多余能量在体内以脂肪形式储存下来。A项为无关项；B项指出“可减少脂肪在胰脏中的沉积，恢复胰岛素的分泌”，说明低热量饮食能够减肥，且对糖尿病患者有益，支持论点；C项仅提及“饱腹感”，加强力度较弱；D项“可以降低超重或糖尿病患者的体重”只说明可以减肥，但不能说明对糖尿病患者有益。故本题选B。

70. 【答案】D。解析：题干论点：R医院连续五年在“我最满意的医院”调查中高居榜首的原因是该医院提供了更加优质的导诊服务。A项未说明“各大医院都在导诊服务中投入了大量精力”的结果如何，属于无关项。B项未提及“导诊服务”，不能支持论点。C项“并非所有的医院都参与了此次调查”说明R医院高居榜首可能是因为更优秀的医院没有参与调查，削弱了论点。D项“医疗水平相当，但导诊服务不佳的排名不如R医院”说明优质的导诊服务有可能是R医院高居榜首的原因，最能支持论点。故本题选D。

71. 【答案】B。解析：题干论点：为了得到葡萄籽中的特殊营养应该把葡萄籽一起吃下去。论据：葡萄籽中含有一种对人体健康很重要的营养物质，而葡萄果肉中并没有这种营养物质。A项与“特殊营养”无关，不能质疑论点，排除。B项说明人体无法消化未经加工处理的葡萄籽，即食用葡萄籽后依旧无法得到葡萄籽中的特殊营养，最能质疑论点。C、D项均说明人类不可以通过其他食物或途径得到葡萄籽中的营养物质，属于加强项，不能质疑论点，均排除。故本题选B。

72. 【答案】C。解析：题干第二句可翻译为：数据的准确性提高→数据跨越了行业领域间的界限（即打通数据“孤岛”）。A项肯定后件，不能推出肯定前件，排除。B项否定后件，可推出否定前件，即“一数据的准确性提高”，不等同于“数据的准确性就会大受影响”，排除。C项肯定前件，可推出肯定后件，即“数据跨越了行业领域间的界限”，正确。D项，题干仅提及“数据的收集、存储和搬运虽然越来越便利，但从技术上看……还缺少强大的工具”，并未提及提高筛选海量数据的技术就能使数据收集便利很多，排除。故本题选C。

73. 【答案】C。解析：题干信息可翻译为：①企业高速发展→企业有强大的盈利能力→企业不断开发新产品；②企业忽视研发人才的培养→企业无法开发新产品。由②可推出“企业不断开发新产品→企业重视研发人才的培养”，与①整合可得③“企业高速发展→企业有强大的盈利能力→企业不断开发新产品→企业重视研发人才的培养”。I意为“企业如果忽视研发人才的培养，就不能高速发展”，否定③的后件，可推出否定前件，正确；II可翻译为“企业无法研发出新产品→无法得到高速发展”，否定③的后件，可推出否定前件，正确；III可翻译为“企业没有强大盈利能力→忽视了研发人才的培养”，否定③的前件，不能推出否定后件，错误。故本题选C。

74. 【答案】D。解析：根据题干可知，复杂性高的工作对提高认知能力有帮助，脏乱的工作环境会降低认知能力，因此A、B、C三项均对提高员工认知能力有帮助。D项“办公纪律”题干未提及。故本题选D。

75. 【答案】B。解析：题干论点：我国人力资源人才的需求日趋增长，企业重技术不重管理的现象已经成为过去。论据：超过半数的答卷都把人力资源管理人才选为企业的重要支撑。B项直接质疑论据，如果调查者中90%以上是企业的人力资源部经理，那么其答卷的结果必然缺乏说服力，最能削弱论点。A项收入高低并不能代表受重视程度的高低；C项调查总人数虽少，但如果样本分布具有科学性，还是能较好地反映实际情况；D项在一定程度上说明该杂志内容的可信度，不能削弱论点。故本题选B。

76. 【答案】B。解析：根据表格第二行可知，2013年中国创新指数为152.8，2012年中国创新指数为148.2。因此，2013年中国创新指数同比增长 $\frac{152.8-148.2}{148.2} \times 100\% = \frac{4.6}{148.2} \times 100\% < 10\%$ ，排除C、D项；利用直除法，首位为3，B项符合。故本题选B。

77. 【答案】C。解析：根据表格可知，2010年~2013年，创新环境指数增长了 $\frac{150.1-131.0}{131.0} \times 100\% = \frac{19.1}{131.0} \times 100\%$ ，创新投入指数增长了 $\frac{154.1-132.7}{132.7} \times 100\% = \frac{21.4}{132.7} \times 100\%$ ，创新产出指数增长了 $\frac{168.4-137.2}{137.2} \times 100\% = \frac{31.2}{137.2} \times 100\%$ ，创新成效指数增长了 $\frac{138.4-126.4}{126.4} \times 100\% = \frac{12}{126.4} \times 100\%$ 。 $\frac{12}{126.4} \times 100\% < \frac{12}{120} \times 100\% = 10\%$ ，其余三项明显大于10%，先排除D项；利用直除法比较 $\frac{19.1}{131.0}$ 、 $\frac{21.4}{132.7}$ 、 $\frac{31.2}{137.2}$ 三项，首两位分别为14、16、22，即增长最快的是创新产出指数。故本题选C。

78. 【答案】D。解析：比较第五列和第六列数据，可知与上年相比，2013年中国创新指数的四大领域分指数中，只有创新成效指数的各项分指数均保持了上升势头。故本题选D。

79. 【答案】C。解析：变化幅度只比较数值大小，不带正负号。根据表格可知，与上年相比，2013年创新投入指数的分指数中，每万人R&D人员全时当量指数的变化幅度为 $\frac{248.7-229.7}{229.7} \times 100\% = \frac{19}{229.7} \times 100\%$ ，基础研究人员人均经费指数变化幅度为 $\frac{217.9-206.2}{206.2} \times 100\% = \frac{11.7}{206.2} \times 100\%$ ，有研发机构的企业所占比重指数变化幅度为 $\frac{142.7-129.7}{142.7} \times 100\% = \frac{13}{142.7} \times 100\%$ ，开展产学研合作的企业所占比重指数变化幅度为 $\frac{102.5-100.6}{102.5} \times 100\% = \frac{1.9}{102.5} \times 100\%$ 。四个分数量级相同，利用直除法，首位分别为8、5、9、1，即变化幅度最大的是有研发机构的企业所占比重指数。故本题选C。

80. 【答案】D。解析：简单比较表格数据可知A项说法错误；2012年和2013年，信息化指数均为128.4，即没有变化，B项说法错误；观察表格数据可知，2010年和2013年，发明专利授权数占专利授权数的比重指数均小于100，C项说法错误；比较“创新投入指数”和“创新成效指数”两行数据可知，2010年~2013年，历年的创新投入指数都大于创新成效指数，D项说法正确。故本题选D。

81. 【答案】C。解析：贸易总额=进口额+出口额。根据柱形图可知，“十二五”（2011~2015年）期间，中国与“一带一路”沿线国家贸易总额约为 $0.45+0.44+0.50+0.46+0.57+0.47+0.64+0.48+0.61+0.39=5.01$  万亿，C项与之最接近。故本题选C。

82. 【答案】B。解析：顺差=出口额-进口额。根据柱形图可知，满足题意要求的年份有2014年（ $6370.4-4833.6=1536.8>1000$ ）、2015年（ $6145.8-3883.4=2262.4>1000$ ）以及2016年（ $5874.8-3661.1=2213.7>1000$ ），共3年。故本题选B。

83. 【答案】A。解析：根据柱形图可知，2016年中国与“一带一路”沿线国家进出口贸易总额为 $5874.8+3661.1\approx 9500$  亿元，2015年为 $6145.8+3883.4\approx 10000$ ，同比增长率为 $\frac{9500-10000}{10000}\times 100\%=-5\%$ ，即下降了5%。故本题选A。

84. 【答案】D。解析：根据混合比重口诀：整体的比重介于各部分比重之间，且靠近量大的比重。根据折线图可知， $23.1\%<$ 整体的比重 $<26.9\%$ ，排除B、C项。又因为出口额（6145.8亿元） $>$ 进口额（3883.4亿元），则整体的比重靠近出口额所占比重，则整体的比重 $\geq 25\%$ ，排除A项。故本题选D。

85. 【答案】C。解析：根据柱形图和折线图可知，2011年中国出口贸易额为 $\frac{4542.0}{23.9\%}$  亿美元，利用直除法，首位数为1，即不到2万亿美元，A项错误。根据柱形图和折线图可知，2012年中国进口贸易额的增速为 $(\frac{4584.9}{25.2\%}-\frac{4399.1}{25.2\%})\div\frac{4399.1}{25.2\%}\times 100\%=\frac{4584.9-4399.1}{4399.1}\times 100\%=\frac{185.8}{4399.1}<10\%$ ，B项错误。根据柱形图可知，中国与“一带一路”沿线国家进口额和出口额最高的年份均为2014年，C项正确。根据折线图可知，2015年中国对“一带一路”沿线国家出口额占出口总额比重同比下降，D项错误。故本题选C。

86. 【答案】B。解析：根据材料第二段可知，2016年1~12月，国有企业营业总成本449885亿元，同比增长2.5%，则同比增长量为 $\frac{449885}{1+2.5\%}\times 2.5\%=\frac{449885}{1+\frac{1}{40}}\times\frac{1}{40}=\frac{449885}{41}\approx 1.1$  万亿元。故本题选B。

87. 【答案】A。解析：根据部分增长率大于总体增长率，则比重上升可类比推出，利润增长率大于总收入增长率，则利润率上升。根据材料第一、三段可知，国有企业利润总额增速1.7%低于总收入增速2.6%、中央企业利润总额增速-4.7%低于总收入增速2%、地方国有企业利润总额增速16.9%高于总收入增速3.5%。综上，仅地方国有企业利润率高于去年。故本题选A。

88. 【答案】A。解析：根据材料第三、四段可知，2016年1~12月，中央企业应交税金29153亿元，利润总额15259.1亿元，地方国有企业应交税金8923.1亿元，利润总额7898.7亿元，则题干所求为 $(\frac{29153}{29153+15259.1}-\frac{8923.1}{8923.1+7898.7})\times 100\%\approx(\frac{29000}{44000}-\frac{9000}{17000})\times 100\%\approx 13\%$ ，即高13个百分点。故本题选A。

89. 【答案】C。解析：所有者权益=资产总额-负债总额。根据材料第五段可知，国有企业所有者权益为 $1317174.5-870377.3\approx 450000$  亿元，中央企业所有者权益为 $694788.7-476526\approx 220000$  亿元，则题干所求为 $\frac{220000}{450000}\times 100\%\approx 49\%$ 。故本题选C。

90. 【答案】D。解析：根据材料第一段可知，地方国有企业占国有企业营业收入的比重为 $\frac{182194.4}{458978}\times 100\%<50\%$ ，A项错误。根据材料第二段可知，管理费用与财务费用分别增长6.7%和下降3.7%，总成本同比增长2.5%， $-3.7\%<2.5\%$ ，比重下降，B项错误。根据材料第一段和第四段可知，中央企业应交税金同比下降2.5%，中央企业总收入同比增长2%， $-2.5\%<2\%$ ，比重下降，C项错误。根据材料第五段可知，2016年12月末地方国有资产总额622385.8亿元，同比增长12%，负债总额393851.3亿元，同比增长12.1%，可看出增长率几乎一样时，现期量大的增长量更大，D项正确。故本题选D。

91. 【答案】A。解析：2017年12月24日，我国首款大型灭火/水上救援水陆两栖飞机“鲲龙”AG600，在广东珠海成功首飞。故本题选A。

92. 【答案】B。解析：习近平总书记指出：“问题是事物矛盾的表现形式，我们强调增强问题意识、坚持问题导向，就是承认矛盾的普遍性、客观性，就是要善于把认识和化解矛盾作为打开工作局面的突破口。”故本题选B。

93. 【答案】C。解析：A项出自孟郊的《登科后》，孟郊进士及第按捺不住得意欣喜之情写下此诗；B项是白居易考中进士后与同僚游于西安慈恩塔，写下的诗句，表现了他当时少年得志、意气风发的心情；D项出自袁皓《及第后作》，及第后自比蓬莱岛上的神仙，又如展翅高空的大鹏。A、B、D项均与金榜题名有关。C项出自杜甫《闻官军收河南河北》，描述的是战争胜利的喜悦心情，与金榜题名无关。故本题选C。

94. 【答案】B。解析：利息是资金所有者由于借出资金而取得的报酬，它来自生产者使用该笔资金发挥营运职能而形成的利润的一部分。利息实质上是利润的一部分，是利润的特殊转化形式。B项说法错误。故本题选B。

95. 【答案】B。解析：物权是指权利人依法对特定的物享有直接支配和排他的权利，包括所有权和他物权（用益物权和担保物权）。故本题选B。

96. 【答案】D。解析：地中海地区位于北半球，是典型的地中海气候，冬季温和多雨，夏季炎热干燥。太阳直射北回归线时，地中海地区处于冬季，B项说法正确。太阳直射的范围是南回归线（南纬 $23^{\circ}26'$ ）与北回归线（北纬 $23^{\circ}26'$ ）之间，不到 $50^{\circ}$ 度，D项说法错误。故本题选D。

97. 【答案】C。解析：当价格高于均衡价格时，供给过剩，需求相对不足。因此，在政府规定支持价格后，市场存在相对过剩的农产品，政府应通过增加需求或减少供给来解决问题，C项收购过剩的农产品有助于减少农产品的供给。故本题选C。

98. 【答案】B。解析：戴望舒是中国现代派象征主义诗人，因1928年发表的《雨巷》含蓄地描述了爱情，被称为“雨巷诗人”。故本题选B。

99. 【答案】A。解析：病毒由一种核酸分子与蛋白质共同构成或仅由蛋白质构成，没有细胞结构，A项对应错误。故本题选A。

100. 【答案】D。解析：晕轮效应又称“光环效应”，属于心理学范畴，是指当认知者对一个人的某种特征形成好或坏的印象后，他还倾向于据此推论该人其他方面的特征。马太效应，指强者愈强、弱者愈弱的现象，广泛应用于社会心理学、教育、金融以及科学领域。破窗效应属于犯罪心理学范畴，是指一个房子如果窗户破了，没有人去修补，隔不久，其他的窗户也会莫名其妙地被人打破，此理论认为环境中的不良现象如果被放任存在，会诱使人们仿效，甚至变本加厉。配位效应属于自然科学范畴，是指当溶液中存在能与沉淀的构晶离子形成配合物的配位剂时，则沉淀的溶解度增大，不属于心理学效应。故本题选D。