

2024年3月30日江西省事业单位联考考试试卷（A类）

《职业倾向能力测验》

【声明】

1. 以下题目均来源于网络，可能存在偏差，展鸿教育不对此准确性、合法性及内容的真实性负责；
2. 本份卷子的答案及解析基本为展鸿教育独家编写，转载请注明出处；
3. 若有权利人对题目及解析主张所有权，请及时联系我司，我司将依法采取措施保障权利人的合法权益！

第一部分 常识判断

（共20题）

请根据每道题的要求，从四个选项中选出一个最恰当的答案。

1. A. 实落细^展^鸿就业优先政策
B. 保障好困难群众的基本生活
C. 切实提升产业链供应链韧性和安全水平
D. 补齐医疗卫生^展^鸿特别是城乡基层医疗卫生公共服务的短板

1. 【答案】C。

2. A. ①——上海 ②——浙江 ③——广西 ④——黑龙江
B. ①——广西 ②——浙江 ③——黑龙江 ④——上海
C. ①——浙江 ②——黑龙江 ③——上海 ④——广西
D. ①——黑龙江 ②——上海 ③——浙江 ④——广西

2. 【答案】D。

3. ①坚持以……的价值取向
②坚持以……指挥^展^鸿棒作用为目标
③坚持把防……融工作的东恒主题
④坚持在市场化法治……金融创新发展

- A. ①②③ B. ①②④ C. ①③④ D. ②③④

3. 【答案】C。

4. ①晃动停止……电梯下楼
②应趴在地……展鸿救援以节省体力
③在户外应……远离高大建筑物
④在室内应就近……开间房屋内，近水不近火

A. 1 B. 2 C. 3 D. 4

4. 【答案】B。

5. A. 我国退休职工的退休金属于转移性收入
B. 劳动者的工资，奖金等是国民收入初次分配的一部分
C. 我国现阶段国民收入分展鸿配的原则是按劳分配，公平优先
D. 我国个人所得税征管采用以自行申报为基础的年度汇算制

5. 【答案】C。

6. ①依照法律……加民兵组织
②维护国……民族团结
③对任何国家……评和建议
④在年老、疾病……社会获得物质帮助

A. ①② B. ①③ C. ②④ D. ③④

6. 【答案】D。

7. A. 如果该快递确为被盗，则属于刑事案件
B. 张某可直接调取邹某摄像头的影像内容
C. 邹某没有义务展鸿向公安机关提供影像内容
D. 邹某在家门口安装摄像头属于违法行为

7. 【答案】D。

8. A. “阵前倒戈”与该事件有关 B. “朝歌”在现今河南省境内
C. 姜子牙主持修建了成展鸿周洛邑 D. 当时的军队中已有青铜武器

8. 【答案】C。

9. A. 毕竟西湖六月中，风光不与四时同——净慈寺
B. 不识庐山真面目，只缘身在此山中——灵隐寺

C. 月落乌啼霜满天，江枫渔火对愁眠——寒山寺

D. 高山一派气茫茫，二月烟霞入画章——少林寺

9. 【答案】B。

10. ①不敢……天上人

②两岸猿声……万重山

③仰天大笑……是莲蒿人

④君不见黄河……海不复回

A. ①③④②

B. ②④③①

C. ③①②④

D. ④②①③

10. 【答案】A。

11. A. 黛玉之死——过恐伤肾

B. 贾谊之死——过思伤脾

C. 周瑜之死——过悲伤肺

D. 范进之疯——过怒伤肝

11. 【答案】B。

12. A. 形意万千——汉字文化观展

B. 众生百态——古代人物画展

C. 流金溢彩——青铜器精品展

D. 千里江山——青缘山水画展

12. 【答案】C。

13. ①昆曲 ②桂林山水 ③中国书法 ④南京云锦织造技艺

⑤中医针灸 ⑥颐和园 ⑦太极拳 ⑧粤菜

A. ①③④⑤⑦

B. ①④⑤⑦⑧

C. ②③④⑥⑧

D. ②③⑤⑥⑦

13. 【答案】A。

14. A. 韩国首尔的时区为东九区

B. 该航班出发时北京时间是 2023 年

C. 该航班的飞行距离比首尔飞往纽约更短

D. 该航班飞行时间大于两地时差才会出现这种情况

【答案】D。

15. A. 青海东部青稞产区——河谷农业

B. 云南滇池水(展)(鸿)稻产区——坝子农业

C. 甘肃张掖小麦产区——灌溉农业

D. 新疆吐鲁番瓜果产区——旱作农业

15. 【答案】D。

16. A. 尽快做拉伸以放松肌肉

B. 立即洗热水澡降低血压

C. 喝大量白开水(展)(鸿)补充水分

D. 就地蹲坐休息恢复体力

16. 【答案】A。

17. A. 体操运动员在单杠上做大回环动作

B. 举重运动员将(展)(鸿)杠铃举过头顶后保持 3 秒

C. 短跑运动员跑到终点后会继续往前跑几步

D. 跳远运动员经过助跑后跳出了 8 米的好成绩

17. 【答案】B。

18. A. 碳酸氢钠可用于治疗胃酸过多

B. 氢氧化钙固体常被用作干燥剂

C. 氮肥可以(展)(鸿)增强农作物抗病虫害的能力

D. 山梨酸钾常被用来作为食物的提鲜剂

18. 【答案】A。

19. A. 支原体肺炎不属于自限性疾病

B. 水痘病愈后(展)(鸿)可获得持久免疫力

C. 夏季是呼吸道传染病的高发季节

D. 呼吸道传染病的病原体没有细菌

19. 【答案】B。

20. A. “鲲龙” AG600 水陆两栖飞机可用于水上救援和森林灭火

B. 国产大直径硬(展)(鸿)岩掘进机“永宁号”能够实现大倾角向上掘进

C. “珠海云”是全球首艘具有远程遥控和开阔水域自主航行功能的科考船

D. 载人潜水器“奋斗者号”采用的国产新型材料最大可以承受 6000 米海压

20. 【答案】B。

第二部分 言语理解与表达

(共 25 题)

一、言语表达：请从每道题所给的四个选项中选出一个填空，使语句的意思表达得最为准确。

21. A. 代名词 B. 替罪羊 C. 绊脚石 D. 障眼法

21. 【答案】B。

22. A. 聪明 匮乏 B. 明智 复杂 C. 高效 有限 D. 合理 不足

22. 【答案】C。

23. A. 稳定 异常 B. 微弱 混乱 C. 独立 波动 D. 均匀 爆发

23. 【答案】A。

24. A. 承担 困境 B. 延续 中断 C. 维持 瓶颈 D. 支撑 衰落

24. 【答案】C。

25. A. 整体 脚踏实地 B. 长期 千方百计

C. 严肃 有的放矢 D. 动态 量体裁衣

25. 【答案】D。

26. A. 相似度 丰富性 B. 重合度 灵活性

C. 无序性 广阔度 D. 同一性 辨识度

26. 【答案】A。

27. A. 信号塔 错失良机 B. 推进器 敝帚自珍

C. 金钥匙 置之不理 D. 硬通货 束之高阁

27. 【答案】D。

28. A. 道听途说 重要性 B. 支离破碎 真实性

C. 子虚乌有 客观性 D. 断章取义 时代性

28. 【答案】A。

29. A. 集思广益 一日千里
C. 取长补短 突飞猛进

- B. 博采众长 崭露头角
D. 推陈出新 脱颖而出

29. 【答案】B。

30. A. 空穴来风 取长补短
C. 自说自话 群策群力

- B. 不经之谈 一举两得
D. 痴人说梦 另辟蹊径

30. 【答案】D。

31. A. 颠倒 扩展 趋向
C. 扭曲 延伸 接近

- B. 变形 放大 临界
D. 重合 延续 濒临

31. 【答案】C。

32. A. 构建 竭尽全力 主动
C. 组合 同心戮力 自动

- B. 创造 不遗余力 迅速
D. 聚集 全力以赴 及时

32. 【答案】A。

33. A. 矛盾 有始无终 如火如荼
C. 脱节 难以维系 丰富多彩

- B. 偏差 前功尽弃 百花齐放
D. 错位 积重难返 生气蓬勃

33. 【答案】C。

34. A. 包罗万象 膜拜 尊崇
C. 言近旨远 推崇 履行

- B. 源远流长 传承 维护
D. 博大精深 弘扬 信奉

34. 【答案】D。

35. A. 闭门造车 毫不犹豫 泥淖
C. 墨守成规 随声附和 桎梏

- B. 泥古不化 不假思索 牢笼
D. 坐井观天 理所当然 镣铐

35. 【答案】B。

二、言语理解：请根据每道题的要求，从四个选项中选出最恰当的一项。

36. A. 树立新媒体意识有重要价值
C. 智库专家应当走进民众主动发声

- B. 智库要借助新媒体(展)(鸿)发挥作用
D. 新媒体引导舆论的作用不容忽视

36. 【答案】B。

37. A. 体教融合有着特殊的历史背景与现实需要

- B. 深化体教融合有助于促进青少年全(展)(鸿)面发展

- C. 体教融合的实践中应强调体育的育人功能
- D. 当前中小学体教融合的实施力(展鸿)度亟待加强

37. 【答案】B。

- 38. A. 白质可以帮助大脑正常发挥功能
- B. 白质中的轴突能够提高记忆能力
- C. 大脑的神经元在白质中实现连接
- D. 髓磷脂加快白质信号传递的(展鸿)速度

38. 【答案】C。

- 39. A. 鉴定“休眠”孢子的依据
- B. 孢子“死而复生”的奥秘
- C. 动物与微生物休眠的差异
- D. 细菌生(展鸿)存能力超强的原因

39. 【答案】B。

- 40. A. 培养高素质人才队伍的重要性
- B. 提升人才与产业升级的匹配度
- C. 构建完善的技能人才制度体系
- D. 在当前弘扬工匠精(展鸿)神的紧迫性

40. 【答案】B。

- 41. A. 月岩的含水量
- B. 月球上水的形成途径
- C. 证明月球有水的方法
- D. 月壤含水量少的原因

41. 【答案】D。

- 42. A. 测量技术发展助力我国工业制造升级
- B. 测量技术和精密仪器制造亟须融合发展
- C. 我国超精密测量技术亟需冲破“封锁线”
- D. 科学探索的“眼睛”高(展鸿)端制造的“尺子”

42. 【答案】D。

- 43. A. 我们有时会带着某种研究目的去旅游
- B. 游历可以成为单纯闭门读书的良好调剂
- C. 亲历现场能够补充读书中难以得到的认识
- D. 不同的阅读经历让人对目(展鸿)的地有不同的体验

43. 【答案】A。

44. ①宋代……不精也。”

②现存史料记载“笨”……晋代开始的

③《说文解字》中对“笨”……本声。”

④“笨”字的结构，……它的本义其实和竹子有关

⑤慢慢地，“笨”字便由……也就(展鸿)是不聪明、不灵活的意思

⑥“笨”指的是竹子的里层……相对，竹青光滑，而竹黄较为粗糙

将以上六个句子重新排序，语序正确的是（ ）。

A. ①②⑤④③⑥

B. ②④①⑤⑥③

C. ③①④⑥⑤②

D. ④③⑥②①⑤

44. 【答案】D。

45. ①1884年，有科……适量安定(展鸿)剂，制成了世界上第一种无烟火药

②由于硝化纤维不稳定……制一直没有进展

③试验证明，无烟火药的爆……理想的发射药

④十九世纪硝化纤维的发现……无烟火药的研制中

⑤无烟火药诞生的消息传遍……新型枪械的研发工作

⑥在当时……因此也称为“单基火药”

将以上六个句子重新排序，语序正确的是（ ）。

A. ①③⑤②④⑥

B. ①⑥②③④⑤

C. ④②①⑥③⑤

D. ④⑥②①⑤③

45. 【答案】C。

第三部分 数量关系

(共5题)

本部分的每道题呈现一段表述数字关系的文字，请迅速、准确地计算答案。

46. ……问当天下午凭身份证进园的有多少人次？（ ）

A. 800

B. 900

C. 1000

D. 1100

46. 【答案】D。

47. ……问企业招聘了多少名应届(展鸿)毕业生？（ ）

A. 126

B. 139

C. 176

D. 189

47. 【答案】B。

48. ……问甲、乙两队合作每天可以修多少米路？（ ）

- A. 400 B. 600 C. 800 D. 1200

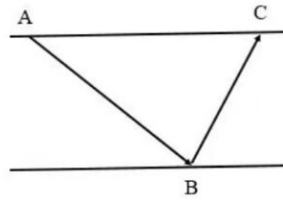
48. 【答案】B。

49. ……2名副教授发言次序相邻的概率为（ ）。

- A. 1/4 B. 1/3 C. 2/3 D. 3/4

49. 【答案】D。

50. ……问 A、C 两点的距离在以下哪个范围内？（ ）



- A. 不到 150 米 B. 150~160 米之间 C. 160~170 米之间 D. 超过 170 米

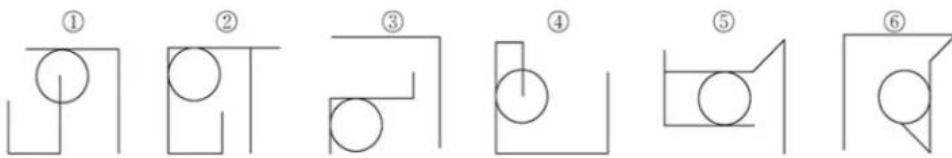
50. 【答案】A。

第四部分 判断推理

(共 35 题)

一、图形推理：请按每道题的要求作答，从四个选项中选出最合适的一项。

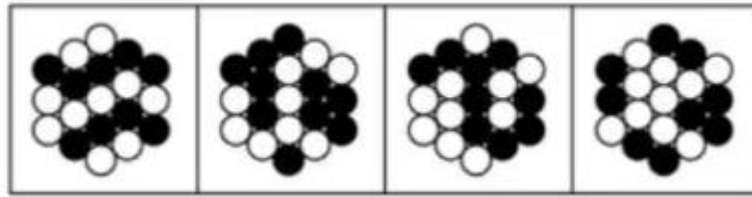
51.



- A. ①②④, ③⑤⑥ B. ①③④, ②⑤⑥
C. ①④⑤, ②③⑥ D. ①④⑥, ②③⑤

51. 【答案】D。

52.



A. 1

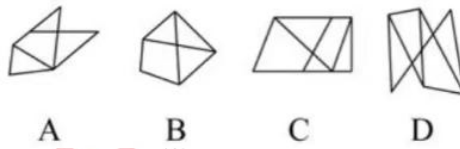
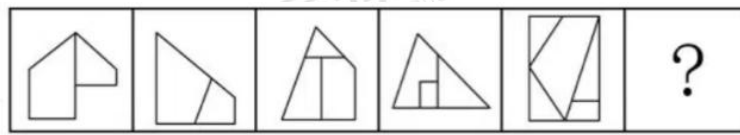
B. 2

C. 3

D. 4

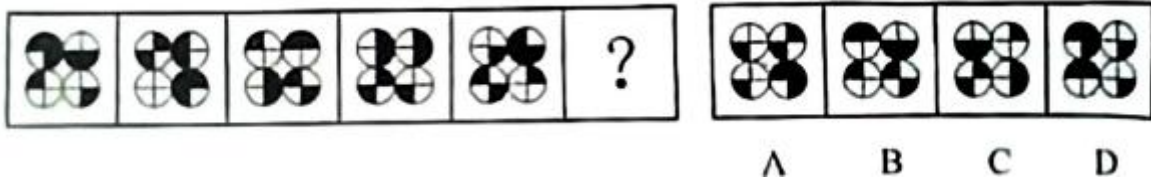
52. 【答案】B。

53.



53. 【答案】C。

54.

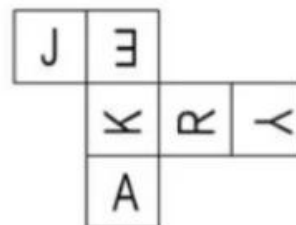


54. 【答案】A。

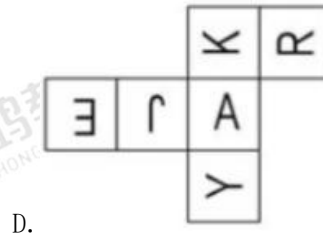
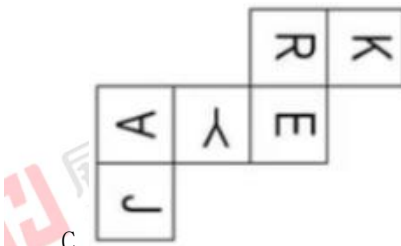
55.



A.



B.



55. 【答案】D。

二、定义判断。本类型共 5 小题，每小题 1.4 分，共 7 分。每道题先给出定义，然后列出四种情况，要求你严格依据定义，从中选出一个最符合或最不符合该定义的答案。注意：假设这个定义是正确的，不容置疑的。

56. A. 饥饿的娃娃喊着妈妈要奶吃
B. 3 岁的孩子对着镜子自言自语
C. 上幼儿园的小天很自我，说话不顾及别人的感受
D. 小学一年级的的小舒考展鸿试不及格，见到父母后立刻开始自我检讨

56. 【答案】B。

57. A. 大海捞针——没处寻
B. 芝麻开花——节节高
C. 鸡蛋碰石头——不自量力
D. 关公面前耍大刀——班门弄斧

57. 【答案】D。

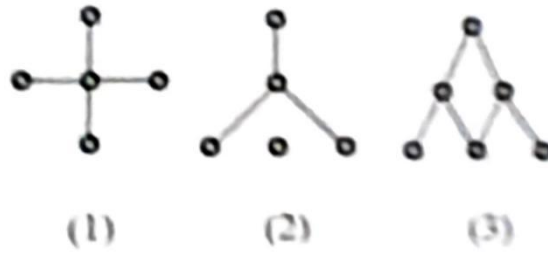
58. A. $g(f(7)) = 7$
B. $h(f(5), 7) = 7$
C. $h(h(7, 5), g(5)) = 7$
D. $h(g(f(5)), h(7, 7)) = 7$

58. 【答案】D。

59. A. 船舶触礁，为防止船舶沉没而被抛入海中的部分货物
B. 因遭遇海上风暴而导致船舶上所装载的部分货物受损
C. 船舶遭遇海盗袭击，货方因延迟交货而支付的违约金
D. 船舶因船长指挥失误延误到达而额外支付的船员工资

59. 【答案】B。

60.



60. 【答案】A。

61. A.

年龄组	40~49	50~59	60~69	70 及以上
调查人数 (人)	450	350	300	207

B.

年 份	2016	2017	2018	2019
钢产量 (亿吨)	9.2	10.5	11.3	12.8

C.

时间段	8:00~10:00	10:00~12:00	12:00~13:00	13:00~17:00
日程安排	开会	处理公文	午餐	考察

D.

工程队	一队	二队	三队	四队
工作时间 (天)	7	9	6	10

61. 【答案】B。

62. A. 这座山上长满了树

B. 土豆的学名是马铃薯

C. 有一些女生当上了老师

D. 蔷薇是一种常展鸿见的落叶灌木

62. 【答案】A。

63. A. 萝卜的谷草比大于胡萝卜

B. 双季水稻的谷草比大于单季水稻

C. 谷草比越大表展鸿示植株果实转化效率越高

D. 谷草比最大可以超过 2，最小可能小于 0

63. 【答案】C。

64. A. 一架飞机能从宽仅 14.62 米的门洞飞过吗？飞行员们正在做着他们的试验

B. 小区外部绿草茵茵，漂亮(展)整洁，然而与小区外部优美的环境相比，小区内部则是一片狼藉

C. 昨日，警方与市民代表召开了一场座谈会。会上，公安局长与市民代表讨论城市安全问题

D. 在这里，地面上燃料奇缺，农民不得不靠挖掘玉米根来生火取暖，煮饭。然而，在 3200 米的地下，地质学家们发现了大量石油和天然气

64. 【答案】C。

65. 根据上述定义，下列选项中，依次为定义蕴涵、因果蕴涵和决心蕴涵的是（ ）。

(1) 如果 4 能被 2 整除……是偶数

(2) 如果物……那么就会发热

(3) 如果今天……也不(展)会是下大雨

(4) 如果这树能开……将从西边出来

A. (1) (2) (4)

B. (2) (3) (4)

C. (3) (4) (2)

D. (4) (1) (3)

65. 【答案】A。

三、类比推理：请根据给出的题干从备选答案中选出一组与之在逻辑关系上最为贴近、相似或匹配的词，或者选出一组词使得题干的表述最符合逻辑。

66. A. 高屋：建瓴

B. 指鹿：为马

C. 洒扫：待客

D. 土崩：瓦解

66. 【答案】C。

67. A. 你追：我赶

B. 绳锯：木断

C. 眉开：眼笑

D. 开云：见日

67. 【答案】B。

68. A. 鸡栖凤巢：德不配位

B. 过江之鲫：井然有序

C. 蜻蜓点水：轻而易举

D. 卧龙凤雏：机关算尽

68. 【答案】A。

69. A. 爆炸：膨胀：混沌

B. 量变：质变：突变

C. 逾期：处罚：警告

D. 遇险：报警：获救

69. 【答案】D。

70. A. 医生：技艺精湛：治病救人

B. 诗人：声名显赫：流芳百世

C. 科学家：夜以继日：科技进步

D. 美食家：五味俱全：珍馐佳肴

70. 【答案】A。

71. A. 沙尘暴：龙卷风：积雨云

B. 立体图形：平面图形：三角形

C. 环境污染：生态破坏：水土流失

D. 灭活疫苗：狂犬病疫苗：破伤风疫苗

71. 【答案】B。

72. A. 多面体：凸面体：凹面体

B. 合格率：次品率：成品率

C. 电功率：平均功率：瞬时功率

D. 圆锥表面积：底面积：侧面积

72. 【答案】D。

73. A. 马术：马鞍：马厩

B. 瑜伽：瑜伽服：瑜伽馆

C. 滑冰：冰刀鞋：滑冰场

D. 斗牛：斗牛士：斗牛场

73. 【答案】C。

74. A. 资金 城市

B. 流通 轰鸣

C. 融化 宁静

D. 申请 禁止

74. 【答案】C。

75. A. 戈壁 建筑

B. 沙丘 高校

C. 绿洲 古籍

D. 沙子 图书

75. 【答案】B。

四、逻辑判断：每道题给出一段陈述。请根据这段陈述，选出最符合题干要求的一项。

76. A. 短期分析除了研究需求管理外，还研究其他问题

B. 缺少供给侧和需求侧任何一个方面，经济都不能发展

C. 如果不依靠供给侧的创展新来推动，则不能实现经济长期持续发展

D. 若坚持供给侧结构性改革的战略方向，就可以构建双循环新发展格局

76. 【答案】C。

77. A. 水稻种植者会越来越多地选择留在植株上的种子，逐渐实现了水稻的驯化

B. 利用显微镜观察发现，这些石块表面的刮痕与其收割水稻所产生的痕迹相似

C. 石块圆滑的边缘和微小的沟槽不用于切割动物组织，而更方便用来切割植物

D. 野生稻成熟的种子会自然掉落到地上，种植的水稻种子会留在植株上，需要进行收割

77. 【答案】B。

- 78. A. 随着智能设备的普及，现代人的睡眠质量较以往大幅下降
- B. “虫儿效应”会持续 30 分钟左右，音乐爱好者更难以摆脱它的纠缠
- C. 当“虫耳效应”发生时，负责听觉信息处理的大脑皮层就会活跃起来
- D. 几乎每个人都曾受过“虫耳^展^鸿效应”的侵扰，但不同的人对其感受存在差异

78. 【答案】C。

- 79. A. 在该项测试中，XN 得分为 86.918，LB 得分为 86.685，人类得分为 86.678，相差微弱
- B. CNBX 的设计大量使用了人类中文信息语料库，这些信息来源于人类对相关语句的理解和处理
- C. 当句子被随机打乱时，许多在某些理解任务上表现胜过人类的 AI 模型就无法辨别这些句子的意思
- D. 是否懂中文，不仅取决于^展^鸿对中文文本的理解和处理，更取决于日常交际中对语言的应答及其背景信息的理解

79. 【答案】D。

- 80. A. 一部作品只有用内容说话，以质量立足，方能真正打动观众，赢得口碑。因此，不以质量立足的产品，一定不能赢得口碑
- B. 加快建设农业强国，才能有效防范涉农领域安全风险。因此，有效防范了涉农领域安全风险，一定能加快建设农业强国
- C. 唯有深入生活，遵循艺术规律、锤炼内容质量、追求社会效益与经济效益相统一，作品才能常演常新，叫好又叫座。因此，不能叫好又叫座的作品，一定没有深入生活
- D. 文艺创作要经得起时代检验和历史沉淀，文艺工作者就必须厚植人民情怀，投入时代洪流，激发青春理想。因此，没有激发^展^鸿青春理想给的文艺创作，一定经不起时代检验或历史沉淀

80. 【答案】C。

- 81. A. 甲来自燕国 B. 乙来自齐国 C. 丁来自魏国 D. 戊来自楚国

81. 【答案】A。

- 82. A. 丙来自燕国 B. 丁来自楚国 C. 戊来自赵国 D. 己来自魏国

82. 【答案】A。

- 83. A. 即使存在类地行星，也未必存在生命
- B. 尽管行星数量极其巨大，其^展^鸿类型可能是有限的

- C. 没有实际观察到类地行星，就不能断定其必然存在
- D. 人类的观察范围有限，有些恒星周围根本就没有行星

83. 【答案】C。

- 84. A. 采用的是类比论证
- B. 采用的是因果论证
- C. 采用的是反证法论证
- D. 采用的是归谬法论证

84. 【答案】A。

- 85. A. 非此即彼
- B. 转移论题
- C. 因果倒置
- D. 轻率概括

85. 【答案】B。

第五部分 资料分析

(共 15 题)

请根据资料提供的信息，通过分析、比较、计算或判断，选出最符合每道题要求的一项。

- 86. A. 第一季度
- B. 第二季度
- C. 第三季度
- D. 第四季度

86. 【答案】B。

- 87. A. 增长了 15%
- B. 增长了 35%
- C. 下降了 15%
- D. 下降了 35%

87. 【答案】D。

- 88. 2022 年 1~12 月，……2021 年同期增加的月份有几个？()

- A. 5
- B. 6
- C. 7
- D. 8

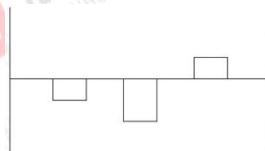
88. 【答案】A。

- 89. 2023 年 2 月……2021 年 2 月的()。

- A. 1.3 倍
- B. 1.5 倍
- C. 1.7 倍
- D. 1.9 倍

89. 【答案】A。

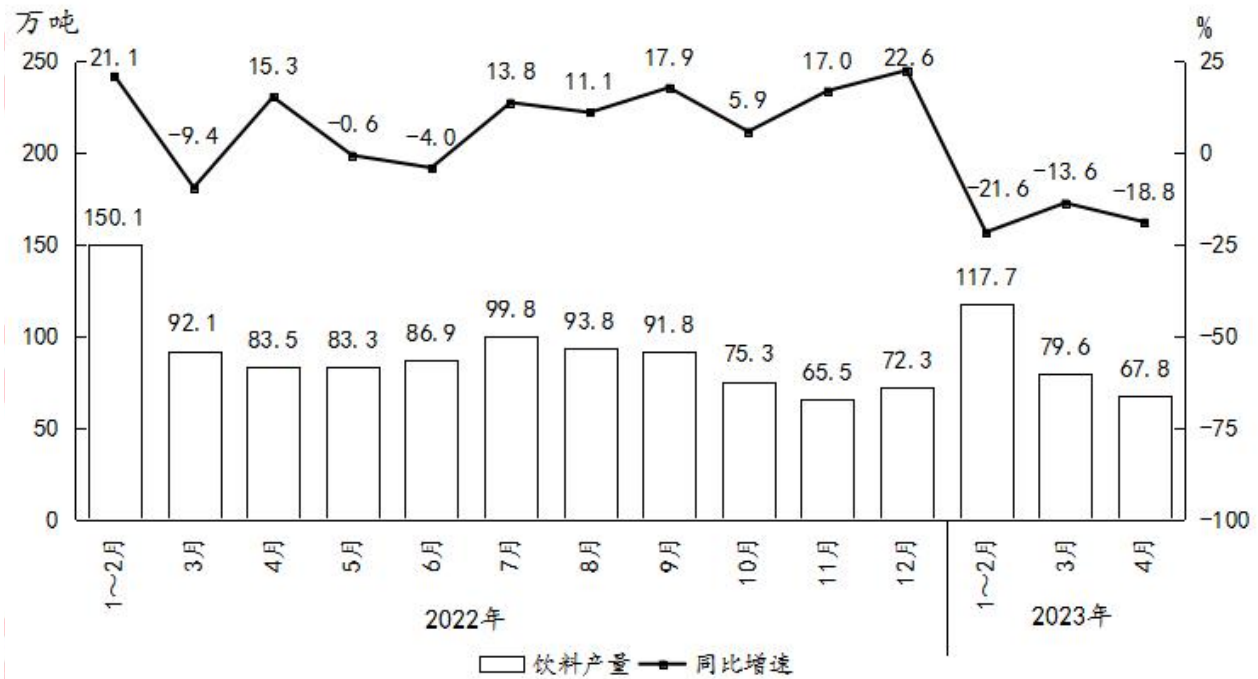
90.



- A. 3~5月 B. 5~7月 C. 7~9月 D. 9~11月

二、根据所给材料，回答 91~95 题。

2022 年 1 月~2023 年 4 月 F 省饮料产量情况



91. 2021 年第一季度，F 省饮料产量在以下哪个范围内？（ ）

- A. 不到 240 万吨 B. 240 万吨~270 万吨之间
C. 270 万吨~300 万吨之间 D. 超过 300 万吨

91. 【答案】A。

92. 2023 年 1~4 月，F 省饮料产量比上年同期下降了（ ）。

- A. 不到 7% B. 7%~14%之间 C. 14%~21%之间 D. 21%以上

92. 【答案】C。

93. 2022 年下半年，F 省饮料产量同比增量超过 6 万吨的月份有几个？（ ）

- A. 2 B. 3 C. 4 D. 5

93. 【答案】D。

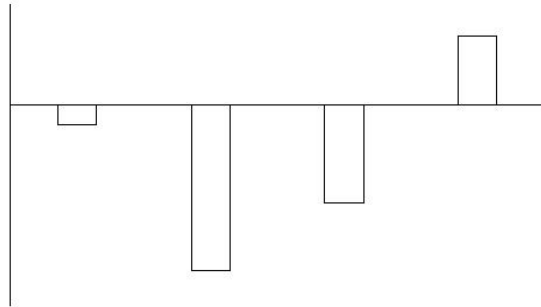
94. 如 2023 年 5 月 F 省饮料产量同比增量与上年同期相同，则 2023 年 5 月 F 省饮料产量比上个月增加了（ ）。

- A. 不到 20% B. 20%~30%之间 C. 30%~40%之间 D. 40%以上

94. 【答案】B。

95. 以下柱状图反映了 2022 年哪一时间段内，F 省饮料产量环比增量的变化趋势(横轴位置代表 0)?

()



- A. 4~7月 B. 5~8月 C. 7~10月 D. 9~12月

95. 【答案】D。

96. A. 不到 0.5 亿元 B. 0.5 亿元~1 亿元之间
C. 1 亿元~1.5 亿元之间 D. 超过 1.5 亿元

96. 【答案】B。

97. A. 低不到 50% B. 低 50%以上 C. 高不到 50% D. 高 50%以上

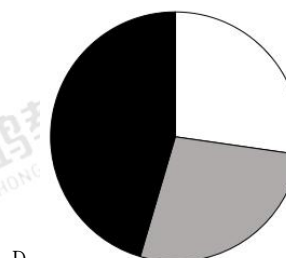
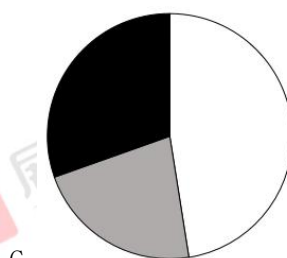
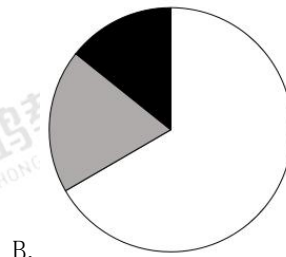
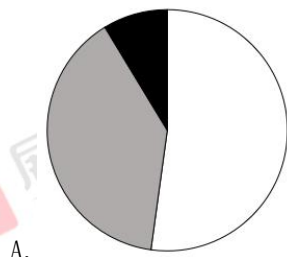
97. 【答案】A。

98. 将 S 省①创意设计服务、……按 2022 年前三季度营业收入从高到低排列，以下正确的是()。

- A. ①②④③ B. ①④②③ C. ④①②③ D. ④①③②

98. 【答案】D。

99.



99. 【答案】C。

100. ①2021 年前三季……现营业收入

②2023 年上半年 S 省……比增速

③2023 年前三季度全……同比增速

A. 0

B. 1

C. 2

D. 3

100. 【答案】D。