

一、常识判断

1. 我国山脉众多，给自然与人文地理环境带来深刻影响。对此，下列说法错误的是（ ）。
- A. 秦岭山脉是我国南北方的重要地理分界线
 B. 祁连山脉融雪是河西走廊绿洲农业的主要水源
 C. 喜马拉雅山脉是世界上最年轻最高大的山脉
 D. 阴山山脉是传统上重要的农业与林业的分界线
2. 赵某逛电器商场，准备购买一台豆浆机，其享有的权利不包括（ ）。
- A. 人身、财产安全不受损害的权利
 B. 选择购买何种品牌豆浆机的权利
 C. 拒绝保安因商场失窃而提出搜查其背包的权利
 D. 购买一台低价促销、有轻微划痕的豆浆机，一个月后以商品存在瑕疵为由提出退款的权利
3. 关于生物净化，下列说法错误的是（ ）。
- A. 植物净化大气主要是通过叶片的作用实现的
 B. 海洋中降解石油烃的微生物主要是酵母
 C. 淡水生态系统中的生物净化，细菌起主导作用
 D. 生物净化能力都有一定的限度
4. 马航MH370航班失踪之后，国际海事卫星组织试图利用多普勒原理计算出失踪航班的下落。多普勒原理，源于这样一种物理现象（多普勒效应）：随着飞机高速接近（或远离）接收微波信号的卫星，卫星所侦测到的微波频率就会越来越高（或越来越低）。下列描述的现象中，哪一种也体现了同样的多普勒效应？（ ）
- A. 站在铁轨附近的人，听到鸣笛的火车由远及近高速驶来时，汽笛的音调逐渐变得尖锐
 B. 一束自然光射入三棱镜，射出时，被分解为不同的颜色
 C. 向平静的湖水中投入一颗小石子，荡起的涟漪呈圆形逐渐向周围扩散
 D. 在日环食的过程中，观测到太阳黑子的存在
5. 生物质能是太阳能以化学能形式贮存在生物质中的能量形式，即以生物质为载体的能量。以下属于生物质能的有（ ）。
- A. 畜禽粪便
 B. 天然气
 C. 厨余垃圾
 D. 农作物秸秆
6. HEPA，即高效空气过滤器，达到HEPA标准的过滤网，对于0.1~0.3微米的微粒有效率达到99.7%。HEPA网的特点是空气可以通过，但细小的微粒却无法通过。下列关于HEPA应用，说法正确的是（ ）。
- A. 用在吸尘器中，HEPA过滤器可滤除引发过敏和哮喘症状的微粒，对哮喘和过敏者有利
 B. 在生物医学领域，HEPA过滤器主要用于滤除空气中的细菌和病毒等有机体

- C. 用在空气净化器中，HEPA可有效过滤PM2.5可入肺颗粒
D. 对空气中的PM10微粒，HEPA过滤器无效
7. 大量议案、提案是每年两会的焦点。关于议案与提案的区别，下列说法错误的是（ ）。
- A. 议案用于人大会议，提案用于政协会议
B. 议案一经通过便具有法律效力，提案没有法律效力
C. 议案内容应在受案者职权范围内，提案不限内容
D. 议案可由个人提出，提案必须由团体提出
8. 近年来，粉尘爆炸事件屡见不鲜。下列粉尘中不容易引起爆炸的是（ ）。
- A. 肥皂粉 B. 水泥粉 C. 面粉 D. 奶粉
9. 关于农作物，下列说法正确的是（ ）。
- A. 中国是最早栽培大豆的国家 B. 玉米是通过丝绸之路传入中国的
C. 花生是世界上最主要的油料作物 D. 印度是世界上最大的稻米出口国
10. 下列塑料制品中，能够作为食物容器放入微波炉中加热的是（ ）。
- A. 聚氯乙烯（PVC） B. 聚乙烯（PE） C. 聚丙烯（PP） D. 聚苯乙烯（PS）
11. 与“究天人之际，通古今之变，成一家之言”这句话同出一人之口的是（ ）。
- A. 史家之绝唱，无韵之离骚 B. 水能载舟，亦能覆舟
C. 文起八代之衰，道济天下之溺 D. 人固有一死，或重于泰山，或轻于鸿毛
12. 日常生活中，人们运用各种手段进行风险管理。下列四种风险管理手段中，明显不同于其他三种的是（ ）。
- A. 小王为一份重要电子文档在多张磁盘上做了备份
B. 老张炒股时通常都会购买3支以上的股票，并很少满仓
C. 古代在扬子江上做生意的商人将一批货物分装在不同的船上
D. 某出租车公司通过兼并重组使其拥有的出租车数量达到原来的3倍
13. 四川青城山、江西龙虎山、安徽齐云山与湖北武当山合称道教四大名山。四大名山中属于中国丹霞地貌且被列入《世界遗产名录》的是（ ）。
- A. 青城山 B. 龙虎山 C. 齐云山 D. 武当山
14. 《来自星星的你》一剧中，都敏俊在地球已经生活了四百多年。在刚刚过去的四百多年里，地球上未曾发生的事件或不能观测到的现象是（ ）。
- A. 受印第安人启发，西方人发明了治疗疟疾的特效药
B. 哥德巴赫猜想提出，并被德国人证明
C. 日本侵略朝鲜，中国出兵救援 D. 哈雷彗星出现在地球上空
15. 关于化石燃料，下列说法不正确的是（ ）。
- A. 是古代生物遗体在特定地质条件下形成的、可作燃料和化工原料的沉积矿产
B. 包括煤、石油和沼气
C. 大量使用该燃料，会引起全球气候变暖
D. 是不可再生的资源
16. 孟子从“意志之天”出发，认为君权是“天授之”，而“天授之”又是由“民授之”即人民的态度来决定的。这是一种（ ）。
- A. “天人相胜”的思想 B. “天人相通”的思想

C. “天人相分”的思想

D. “天人平等”的思想

17. 下列行为符合我国法律规定的是（ ）。

A. 房东黄某与吴某签了两年的租房合同，半年后黄某将房屋卖出，通知吴某限期搬出

B. 公安机关为追捕被通缉的犯罪嫌疑人陈某，对其通话进行监听

C. 商场保安王某根据商场的规定，对涉嫌盗窃的赵某进行搜身

D. 债权人李某因找不到拖欠债务的张某，便要求张某的儿子偿还债务

18. 我国行政强制法有关条款规定，行政强制的设定和实施应当适当，采取非强制手段可以达到行政管理目的的，不得设定和实施行政强制。这体现了行政强制的（ ）。

A. 信赖保护原则

B. 法定原则

C. 教育与强制相结合的原则

D. 比例原则

19. 电子商务的蓬勃发展使得物流和快递业在近几年飞速发展，形成了一个年均收益上百亿的新兴产业，为此，有人大代表提出议案，应该增设一个专门的行政部门以加强管理。行政组织设立的根本依据是（ ）。

A. 宪法规定

B. 民主呼吁

C. 政府职能需要

D. 经济与社会发展需要

20. 据统计，地震常常发生在夜间，而且还常常发生在农历初一或者十五前后。这是因为（ ）。

A. 农历初一、十五与夜间，地球表面受太阳、月球引力较大

B. 人们的错觉，因为人们在白天接收的刺激比较多，不容易感知小地震的发生

C. 夜间气温较低，地表容易为炽热的岩浆冲破，而农历初一或者十五也常常是当月中气温最低的阶段

D. 地震统计仅统计较为剧烈的地震，而大多数地震是较为轻微的

二、言语理解与表达

21. 党的十八大以来，中央以猛药去疴、重典治乱的_____，以刮骨疗毒、壮士断腕的_____，不断加大党风廉政建设和巡视的力度，效果显著。

依次填入划横线部分最恰当的一项是（ ）。

A. 意念 底气

B. 恒心 气势

C. 意志 气魄

D. 决心 勇气

22. 火星上是否有生物存在？长期以来，科学家们争论不休，也曾引起_____。美国和前苏联自20世纪60年代以来进行长期探测，美国先后向火星发射了系列探测器，前苏联也发射过相应的探测器，他们对火星上有巨石人面像、金字塔等类似城市遗迹先是_____，20世纪80年代后期才逐渐向公众披露。

依次填入划横线部分最恰当的一项是（ ）。

A. 轰动 秘而不宣 B. 争议 不置可否 C. 质疑 各执一端 D. 反响 视而不见

23. 书店应当想方设法降低书价或改善服务，让读者_____地掏钱，而不是_____，指责消费者说，我们费了这么大心思，你怎么还是跑去网上买书，太不道德了！

填入划横线部分最恰当的一项是（ ）。

- A. 真心诚意 悲天悯人
B. 心悦诚服 自怨自艾
C. 心甘情愿 怨天尤人
D. 慷慨解囊 自说自话

24. 将下列选项中的词语依次填入各句横线处，最恰当的一句是（ ）。

(1) 由达成共识到制订计划，_____欧盟在军事一体化道路上迈出了可喜的一步。

(2) 虽然时间紧、任务重，但领导既然这样要求，我们也只能_____而为之了。

(3) 实践证明，人的大脑愈用愈发达，不用则会_____。

- A. 表明 勉励 蜕化
B. 说明 勉力 蜕化
C. 说明 勉励 退化
D. 表明 勉力 退化

25. 畅销书已经深入我们的阅读生活，它与当代社会生活最为_____，与时代的变化联系最为密切。我们无法_____畅销书，只期望有越来越多像霍金的《时间简史》那样的书成为畅销书，也期望畅销书的文化品位与其销量_____。

依次填入下面横线处的词语最恰当的是（ ）。

- A. 贴近 拒绝 得而兼之
B. 契合 忽视 两全其美
C. 紧密 排斥 双管齐下
D. 一致 抵触 并行不悖

26. 目前，美国和西方各国深陷2008年以来的世界经济萧条中，复苏_____；另一方面，中国、印度等金砖国家又呈现出经济增速下行的征兆。在此世界经济格局下，重温哈耶克与凯恩斯之间有关货币、利息、信用，资本形成和商业周期发生机理的大论战，重新_____人类进入现代社会后经济危机发生的深层原因和复苏机理，不但具有经济学说史上的理论意义，也显然有着极强的、切实的和巨大的当下意义。

依次填入划横线部分最恰当的一项是（ ）。

- A. 遥遥无期 反思
B. 步履维艰 认识
C. 旷日持久 审视
D. 进退维谷 探讨

27. 今天，手机、个人电脑、网站成为我们日常生活的主导，但是我们仍然可以从每天的_____生活中发现乐趣和美好。在法国插画师桑德琳眼里，垃圾袋、街边的栏杆、破旧的墙壁乃至地下通道的水龙头，都能创造出一个_____的“魔力”世界。

依次填入划横线部分最恰当的一项是（ ）。

- A. 呆板 另类
B. 无聊 神奇
C. 简单 崭新
D. 平凡 疯狂

28. 填入下列横线处的词语，最恰当的是（ ）。

在物联网、云计算等新技术日趋进步之时，管理软件厂商如何提升自身的市场洞察力和创新能力已经_____。

- A. 迫不及待
B. 迫不得已
C. 迫在眉睫
D. 时不我待

29. “文化搭台，经济唱戏”的最大危害，是将文化仅仅看作是经济的工具和仆佣，_____文化本身的价值，由此将文化完全_____为商品。

依次填入划横线部分最恰当的一项是（ ）。

- A. 忽视 贬低
B. 疏忽 等同

C. 无视 异化

D. 漠视 降格

30. 必须更加注重改革的系统性、整体性、协同性，让一切劳动、知识、管理、资本的活力竞相_____，让一切创造社会财富的源泉充分_____，让发展成果更多更公平惠及全体人民。

A. 迸发 涌动

B. 散发 涌流

C. 迸发 涌流

D. 散发 涌动

31. 要写出_____的文字，写出时代的壮阔和生活的丰富，更需要阅历，更需要思想。

填入划横线部分最恰当的一项是（ ）。

A. 动人心弦

B. 石破天惊

C. 惊天动地

D. 动人心迹

32. 艺术的助人伦、成教化，不是如演说家那样带有着直接的_____。它在潜移默化中，使人们_____，趋向社会的崇高。

依次填入划横线部分最恰当的一项是（ ）。

A. 功利性 身临其境

B. 实用性 耳濡目染

C. 功用性 心服首肯

D. 目的性 心悦诚服

33. 党和国家机关工作人员在国内交往中，_____收受_____影响公正执行公务的礼品馈赠，因为各种原因_____拒收的礼品，_____登记上交。

依次填入划横线部分最恰当的一项是（ ）。

A. 不能 可能 未能 一定

B. 不该 或许 没有 务必

C. 不应 或许 没有 应该

D. 不得 可能 未能 必须

34. 新一轮的城镇化，势必更加_____质量，_____要让农民进城，_____要以产业转移为依托，确保农民进城后能找到稳定的工作并享有市民待遇，真正做到安居乐业。

依次填入划横线处最恰当的一项是（ ）。

A. 注重 不仅 还

B. 关注 可是 就

C. 侧重 既然 也

D. 顾及 如果 就

35. 文化与生命_____，与生命相渗透的前人的文化已随生命的消失而消失，我们仅是得到了他们的倒影——人类历史文化的倒影。好比我们弯腰低头俯对河水，我们看到的水中映像便_____是正相了；但是我们总得直起身来，满脸赧颜羞色地接受这_____的倒影。

依次填入划横线处最恰当的一项是（ ）。

A. 同在 俨然 宿命

B. 共生 完全 可怕

C. 伴随 必然 艰难

D. 纠缠 几乎 麻木

36. 迁都是件大事，有“牵一发动千钧”的效果。不仅迁都国家的政治经济格局将随着新都的诞生而发生改变，其他国家也将依照新都的情况而改变与这个国家的联络方式，比如驻该国的使馆要迁到新都啦，随着该国政治经济和人口分布的改变，对该国的经济政策也要变化啦等等。因此，迁都实际上牵扯到许多人的现实利益，_____，由于众口难调，实施起来就格外困难。

填入划横线部分最恰当的一项是（ ）。

- A. 会有连锁反应 B. 堪比世界难题 C. 是个系统工程 D. 易致恶性循环

37. 互联网改变了世界，互联网也成就了马云。以成功上市开启一个时代的马云，谈起了梦想，享受着告白理想的特权。站在成功者的立场，他说：“今天非常残酷，明天会更加残酷，后天会非常美好，但是绝大多数人都死在了明天晚上。”但审视这个阶层固化的时代，真正的残酷，并不是梦想的煎熬，而是理想不孕不育的苦恼。

对加横线的句子解释最恰当的一项是（ ）。

- A. 不是为成功而奋斗时的艰难，而是不再梦想着成功
B. 不是不想做马云第二，而是马云的成功难以复制
C. 不是死在明天晚上，而是没有死在明天晚上的机会
D. 不是奋斗中的半途而废，而是被固化在社会底层

38. ①事实上，在耕田之外也几乎没有其他的选择

②同样地，生活上的大小事情，除了可以遵循风俗习惯之外，也由宗亲长老按祖训家法裁夺

③在传统的农业社会里，绝大多数的人以农业为生

④在某一层意义上来说，一个人几乎没有什么机会要他自己做决定，在少数需要他自己做决定的时候，也有现成的规矩习惯等等可以作为参考

⑤农作上的点点滴滴，除了靠自己已经年累月的积累，也由宗亲长老口耳相传

⑥这些经验、规矩、风俗、习惯、祖训、家法，可以说涵盖了一个人生老病死、婚丧嫁娶的每一个环节

将以上6个句子重新排列，语序正确的是（ ）。

- A. ①③⑤④②⑥ B. ③①⑤②⑥④ C. ①③⑤②⑥④ D. ③①⑤④②⑥

39. 在触屏时代，从倡导多读多写汉字的角度，“汉字听写”无疑是一件好事。但是一旦过度，好事也会变成坏事。比如，比赛偏重冷僻字词，参赛小选手们只能强化记忆，在比赛中展示了“中国式教育”。就连汉字拼音之父周有光先生也认为，现在把通用汉字增加到8000多个，这个数量实在有点太多了。联想到近几年一直没有停歇过的汉字繁简之争以及中高考改革方案的推出，我们不难发现，大家对汉语言文字的关注在日渐深入，民众的母语水平和学习母语的积极性在不断提高。

从这段文字，可以看出作者的态度是（ ）。

- A. 汉字听写数量过多会引发民众提笔忘字的忧虑
B. 触屏时代的汉字听写加快语言教育改革的步伐
C. 新时期的汉字听写比赛应该适度适当导向正确
D. 中国式教育与强化记忆是语文教育的必要手段

40. 世界烹饪的三大风味体系中，法餐和土耳其的美食文化项目已先后于2010年和2011年入选世界非遗名录。博大精深的中国饮食文化缺失于世界非物质文化遗产名录，是餐饮界的一大憾事。关于申遗工作，世界各国都是举国家之力来做。在国内，其他非物质文化遗产的申请工作基本靠政府推动，但美食申遗现在多由行业协会和民间组织在推动，而仅靠协会自身的资金、能力，难度很大。

这段文字意在暗示（ ）。

- A. 中国的饮食文化没有产生广泛的国际影响 B. 其他国家申遗工作的经验未必适用于中国

C. 政府部门应尽早地积极推动中餐申遗工作 D. 美食申遗未能成功是因为误读了评选标准

41. 当前，劳动密集型产业从沿海地区向中西部转移，说明劳动力成本因素起的作用越来越大，配套性和规模经济所起的作用相对变小。虽然中西部地区暂时还没有这种产业配套的聚焦效应，但国内的中部省份和沿海地区，往往只有一河一山之隔，所以配套中心在国内范围的转移，比起向其他国家转移的可能性高得多，效率也高得多。

下面列举的中西部所具有的优势在文段中没有涉及的一项是（ ）。

A. 土地价格相对便宜 B. 工资水平较沿海低 C. 劳动力相当丰富 D. 与沿海地区距离并不遥远

42. 在促使近代科学产生的外部原因中，清教主义的兴盛是一个相当重要的因素。学者们认为，近代科学的一个前提性的假设就是一种广泛传播、出自本能的信念，相信存在事物的秩序，特别是自然的秩序。科学史专家以具体资料表明：在17世纪英国皇家学会会员中，十个当中就有七个是清教徒，这一比例大大高于清教徒在总人口中所占的比例；大多数科学家都是活跃的教士，而很多教士也鼓励或亲自投身科学事业；清教学校在其课程中也会设置自然科学科目。

这段文字意在说明（ ）。

A. 清教主义在十七世纪盛行的原因 B. 宗教与科学之间并非是绝对对立的
C. 宗教对近代科学具有催生及促进作用 D. 近代科学的前提性假设与宗教的渊源

43. 私募的“钱途”在于退出。私募基金有一个好退路，才能安分守己。眼下，中国本土有130亿私募等待退出。一般情况下，IPO（公开私募）是私募退出的最佳选择。由于上市退出回报率最高，私募自然会将IPO奉为神灵。从政府角度，可以通过适当降低上市标准、改审核制为注册制等方式降低IPO门槛，还可以通过大力培育和发展产权交易市场，实现私募基金的退出。

这段文字旨在说明（ ）。

A. 政府应完善私募基金的退出机制 B. 大力培育和发展产权交易市场是私募退出的途径
C. 私募基金的退出是当前亟待解决的问题 D. IPO（公开募股）是私募退出的首要选择

44. 当人们闻气味时，如果感觉到挥发在空气中的化学物质，就会对这种刺激性的气味作出反应。植物也会对气味产生反应，最明显的实例是果实成熟时的情形——如果将一枚成熟的果实和一枚尚未成熟的果实放在一个袋子里，未成熟的果实会更快成熟。这是因为成熟的果实散发出一种“成熟信息素”——乙烯，青涩的果实“闻”到这种气息后，也开始变得成熟。这种情形在自然界很普遍，当一枚果实开始成熟时，它会释放这种“成熟信息素”，周围的果实一旦“嗅到”这种气息，接着，整棵树甚至整片树林的果实几乎会随之成熟。

这段文字意在说明（ ）。

A. 植物会释放信息素 B. 果实是如何成熟的 C. 植物间会传递信息 D. 植物和人也有共性

45. 在过去50年间，不合规范的语言使用现象激起了一场严肃的争论，一方是规范主义者，认为需要指导人们如何说话、写字；另一方是描述主义者，认为我们只能讨论语言当前的用法。规范主义者认为，有的用法是正确的，有的是错误的，推广正确的用法是坚持真理、尊敬文明的精华，纵容错误就是鼓励相对主义、粗俗的平民主义和文学的简单化。描述主义者认为，正确的规范是一种强制性的规则，语言是人类创造性的有机活动，人们应该有高兴怎么写就怎么写的自由。

下面说法中符合描述主义者观点的是（ ）。

- A. 语言的平民化应成为媒体的主流
- C. 规范的语言禁锢了人们的思想

- B. 网络热词可以在更大范围内使用
- D. 语言应该与时俱进

三、数量关系

46. 若买6个订书机、4个计算器和6个文件夹共需504元，买3个订书机、1个计算器和3个文件夹共需207元，则购买订书机、计算器和文件夹各5个所需的费用是（ ）。

- A. 465元
- B. 475元
- C. 485元
- D. 495元

47. 小王和小刘两人分别从甲镇和乙镇同时出发，匀速相向而行，1小时后他们在甲镇和乙镇之间的丙镇相遇，相遇后两人继续前进，小刘在小王到达乙镇之后27分钟到达甲镇，那么小王和小刘的速度之比为（ ）。

- A. 5:4
- B. 6:5
- C. 3:2
- D. 4:3

48. 在数列 a_n ($n=1, 2, \dots$) 中， $a_1=1959$ ， $a_2=1995$ ，且从第三项起，每项是它前两项平均数的整数部分，则 $\lim_{n \rightarrow \infty} a_n =$ （ ）。

- A. 1980
- B. 1981
- C. 1983
- D. 1982

49. 一个圆形的草地中央有一个与之同心的圆形花坛，在花坛四周和草地四周上各有3个不同的点，安放了洒水的喷头。现用直管将这些喷头连上，要求任意2根喷头都能被一根水管连通，问最少需要多少根水管？（一根水管上可以连接多根喷头）（ ）

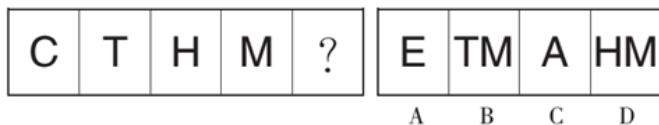
- A. 5
- B. 8
- C. 20
- D. 30

50. 某工厂某种产品每月的产量为8000个，1月的销量为5000个，且预计每月销量环比增加10%，则当年该产品库存最高的月份是（ ）。

- A. 4月
- B. 5月
- C. 6月
- D. 7月

四、判断推理

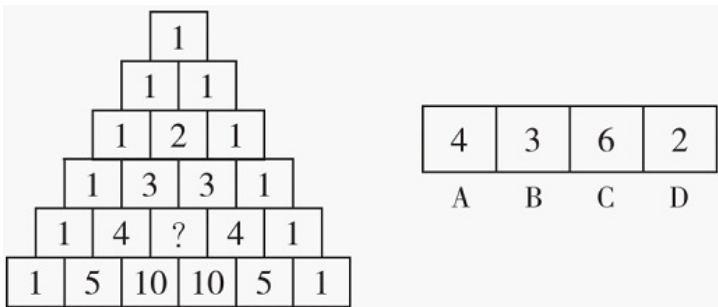
51. 从所给的四个选项中，选择最合适的一个填入问号处，使之呈现一定的规律性。



- A
- B
- C
- D

- A. A
- B. B
- C. C
- D. D

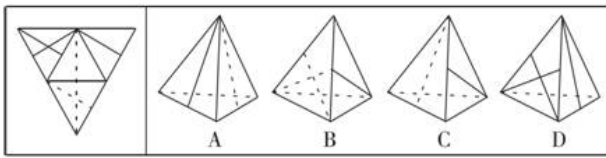
52. 从所给的四个选项中，选择最合适的一个填入问号处，使之呈现一定的规律性。



- A
- B
- C
- D

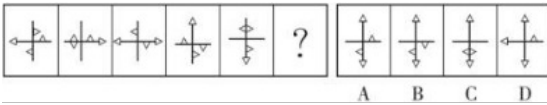
- A. A
- B. B
- C. C
- D. D

53. 左边给定的是纸盒外表面的展开图，右边哪一项能由它折叠而成？请把它找出来。



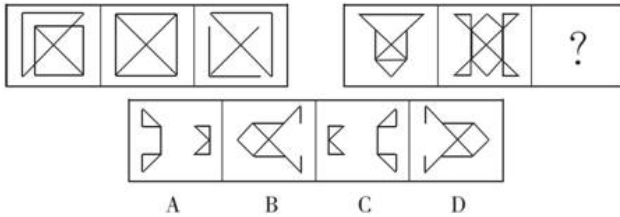
- A. A B. B C. C D. D

54. 从所给四个选项中，选择最合适的一个填入问号处，使之呈现一定规律性。



- A. A B. B C. C D. D

55. 从所给的四个选项中，选择最合适的一个填入问号处，使之呈现一定的规律性。



- A. A B. B C. C D. D

56. 生物学研究发现，成群的蚂蚁中，大部分蚂蚁很勤劳，寻找、搬运食物争先恐后，少数蚂蚁却东张西望不干活。当食物来源断绝或蚁窝被破坏时，那些勤快的蚂蚁一筹莫展。“懒蚂蚁”则“挺身而出”，带领众伙伴向它早已侦察到的新的食物源转移。这就是所谓的懒蚂蚁效应。

根据上述定义，下列属于懒蚂蚁效应的是（ ）。

- A. 通信工程师待遇优厚，工作时间自由，擅长攻克技术难题
- B. 某汽车公司鼓励员工创新，允许员工在上班时间钻研技术
- C. 某经理用人不拘一格，看重的是坚韧和正直，而非学历背景
- D. 在金融危机中，某外贸公司凭借多元化经营手段渡过了难关

57. 可持续消费，指既能满足当代人的消费发展需要又不对后代人满足其消费发展需要的能力构成危害的消费。

根据上述定义，下列属于可持续消费的是（ ）。

- A. 某富翁要求其子女自己挣钱支付吃穿住行的费用
- B. 某著名帝王的陵墓内部一直没有发掘，游人可游览周边风景
- C. 某国水资源缺乏，运用“海水淡化”技术增加淡水量
- D. 一些手机生产商鼓励消费者每年更换一部手机

58. 白色农业是指以蛋白质工程、细胞工程、酶工程为基础，用基因工程等高科技手段开发微生物资源的工程农业。它是通过优化配置微生物资源，利用微生物惊人的繁殖生产能力，在工厂化条件下生产人类及动植物所需营养品和保健品的新型农业。

根据上述定义，下列不属于白色农业的是（ ）。

- A. 使用各种农业废料制成蛋白饲料
- B. 利用转基因技术培育水稻新品种
- C. 农业生产中应用细菌、真菌制成杀虫剂、杀菌剂、除草剂

D. 应用科学技术措施，形成宜林则林、宜牧则牧、宜渔则渔的高效农业群

59. 前馈控制是指通过观察情况、整理信息、掌握规律、预测趋势，正确预计未来可能出现的问题，提前采取措施，将可能发生的偏差消除在萌芽状态。

根据上述定义，下列属于前馈控制的是（ ）。

- A. 股票投资者根据往年的股市行情预测今年股票投资可能存在的风险
- B. 某企业根据企业的规模、核心竞争力和发展规划制定企业战略
- C. 某电子商务网为应对可能出现的市场变化制定了多个方案
- D. 某工厂因为原材料和燃料等物资价格上涨调整了生产模式

60. 自信是坚信自己能力和行为力量的积极健康的个性品质和心理特征。它以实事求是的科学态度为前提，建立在对自己和社会充分了解的基础上。

根据上述定义，下列属于自信的是（ ）。

- A. 小赵学习成绩在年级排名第一，又担任校学生会主席，深受老师和同学的喜爱，他相信今年学院的十个奖学金名额肯定有一个是自己的
- B. 老钱认为三个副经理中，自己在人缘方面最好，经理之位非自己莫属
- C. 丁鹏刚踏入江湖，凭借家传绝技打败了好几位武林高手，因此他觉得自己离天下第一只有一步之遥
- D. 小孙初中还未毕业就进城打工，虽然每天从事繁重的体力劳动，但坚信自己五年内一定会出人头地

61. 用典是指引用古籍中的故事或词句的一种修辞方法，该修辞可以丰富而含蓄地表达有关的内容和思想，也称“用事”。用典可以分为明典、暗典、翻典三种。明典，令人一望而知其典故；暗典是指字面上看不出用典的痕迹，须详加玩味，方能体会；翻典，即反用典故原意，使文章产生意外之效果。

根据上述定义，下列选项不属于翻典手法的是（ ）。

- A. 周公吐哺，天下归心
- B. 随意春芳歇，王孙自可留
- C. 东风不与周郎便，铜雀春深锁二乔
- D. 可堪回首，佛狸祠下，一片神鸦社鼓

62. 绿客：指热爱生活，崇尚健康，酷爱户外运动，既善待自己又善待环境的人。

下列属于绿客的是（ ）。

- A. 周某刚到中年就大腹便便，虽然最近开始节食，但因工作太忙，总抽不出空来锻炼，为此他苦恼不已
- B. 小吴与她的同学平时经常在周末跳舞、唱歌、登山、划船，临近期末考试的时候就熬夜复习，甚至通宵达旦
- C. 王某从不将单位事情带回家做，每到周末就外出摄影采风，随身总带着几个塑料袋用于捡拾垃圾
- D. 李老板平时很忙，节假日也难得约朋友打高尔夫球，他很希望儿子早日接班，让自己能亲近自然，享受生活

63. 知情同意原则是指临床医师在为病人作出诊断和治疗方案后，必须向病人提供包括诊断结论、治疗决策、病情预后及诊治费用等方面真实、充分的信息，尤其是诊疗方案的性质、作用、依据、损伤、风险、不可预测的意外及其他可供选择的诊疗方案及其利弊等信息，使病人或家属经深思熟虑自主

作出选择，并以相应方式表达其接受或拒绝此种诊疗方案的意愿和承诺；在得到患方明确承诺后，才可最终确定和实施由其确认的诊治方案。

根据上述定义，下列违反了知情同意原则的是（ ）。

A. 医生向患者交代了目前患者可以选择的两种治疗方案，但患者和家属由于文化水平低，并未听懂，因此让医生替他们作决定

B. 医生向白血病患儿的家属交代了骨髓移植手术的作用、风险、预后及花费等情况，家属在讨论后，决定在手术同意书上签字

C. 某患者在进行检查前，医生将检查的用处以及可能存在的风险向患者告知，患者表示清楚，但非常关心检查的费用是否能报销，在得知是自费检查时，拒绝了该项检查

D. 某患者在化疗前，医生提供了两种可供选择的方案，一种为效果较好但昂贵的进口药，一种是效果稍差但便宜的国产药，家属和患者的意见不一致，请医生帮他们拿主意，在医生的耐心解释下，患者与家属终于达成了共识

64. 社会体育是由企业、事业单位职工，国家机关工作人员，以及城镇或农村居民等不同的群体，为达到健身、健心、健美、娱乐、医疗等目的而进行的内容丰富、形式多样的身体锻炼活动。

根据上述定义，以下哪项活动不是社会体育活动？（ ）

A. 由北京市体委举办的群众长跑运动 B. 某大学举办了教工篮球队与社区篮球队的友谊比赛

C. 某市承办了国际铁人三项赛 D. 在国家奥林匹克体育中心举办的社区居民网球赛

65. 激情群体是指一种临时性的、高效率的，往往为某项富有挑战性的工作而临时组建的工作群体。

根据上述定义，下列属于激情群体的是（ ）。

A. 某画家发起、多位画家一起聚居的创意和设计社区

B. 某人因见义勇为而受伤的事迹感动了网友，数位网友发起募捐活动

C. 为尽快完成多品牌战略规划，某汽车公司集结了公司内数名专家组成项目组

D. 数十名自行车爱好者组成骑车团队，相约在某个周末从上海骑自行车去苏州

66. 纸：书

A. 竹：筏

B. 雨：衣

C. 叶：树

D. 河：海

67. 雨水：干旱

A. 阳光：潮湿

B. 雾霾：寒冷

C. 飓风：灾害

D. 冰雹：农田

68. 非法：非难

A. 非但：非凡

B. 非礼：非洲

C. 非分：非议

D. 非诚勿扰：非常完美

69. 孩子：明珠：女儿

A. 护士：天使：医生

B. 少年：花朵：儿童

C. 卧室：港湾：家

D. 师长：春蚕：教师

70. 配乐：电影：烘托

A. 序言：著作：致谢

B. 电视：屏幕：显示

C. 道具：戏剧：提示

D. 桅杆：帆船：支撑

71. 防火墙：隔离网

A. 暖气片：电热毯

B. 手表：罗盘

C. 存储器：计算器

D. 孔明灯：节能灯

72. 围棋：棋子：棋盘

A. 二胡：琴弦：琴弓 B. 窗帘：帘子：窗轨 C. 书法：毛笔：宣纸 D. 茶具：茶壶：茶杯

73. 孔子：颜回

A. 李白：杜甫 B. 郭德纲：于谦 C. 省长：市长 D. 苏格拉底：柏拉图

74. 微机：电脑桌：办公室

A. 仪器：小白鼠：实验室 B. 门：窗：家具 C. 芹菜：炒锅：食堂 D. 牛：马：大草原

75. 花瓶：瓷器

A. 电视机：电器 B. 中药：植物 C. 画作：诗篇 D. 桌子：八仙桌

76. 牛奶的包装盒设计成方形，是因为方形比圆形的包装盒更节约存储牛奶所需的冷藏空间，这样一个冷藏柜中可以摆放更多的牛奶，可乐的瓶子设计成圆形是因为该形状更容易随手拿取和携带。

如果以上的观点是正确的，那么必须以下列（ ）为前提。

A. 存储牛奶的冷藏空间比存储可乐的空间小 B. 可乐不需要冷藏而牛奶需要冷藏
C. 产品包装设计以实用为主要目的 D. 人们无法接受圆形的牛奶盒和方形的可乐瓶

77. 在一项针对216名6到12月的婴儿进行的测试中，研究人员教给婴儿新的手指木偶玩耍的三个本领，有一半的宝宝在学习之后的四个小时就睡了一大觉，但是另外的宝宝则没有睡觉或者只小憩了不到30分钟。研究显示，平均说来，有充足睡眠的宝宝能记住1.5个本领，但是没有怎么睡觉的宝宝则一项本领都没有记住。可见，婴儿学习本领后保持充足睡眠有利于增强记忆。

下列哪项是上述论证最可能依赖的假设？（ ）

A. 该研究结果在青少年群体中同样适用 B. 充足睡眠有利于宝宝正常的身体发育
C. 实验前两组宝宝的智力水平状况相当 D. 有其他研究验证了这项结果可靠性

78. 某国近年来放松了对销售民用枪支的管制，枪击案发生率快速上升。据统计，大多数枪击案与合法购置的民用枪支被滥用有关，所以有人提出为减少该国的枪击案发生率，政府应该加强销售民用枪支的限制。

下列哪项最能支持上述论述？（ ）

A. 该国走私枪支的数量远远大于合法购置的枪支
B. 目前对枪击案罪犯的严厉惩罚没有足够的威慑力
C. 大多数在该国销售的民用枪支的杀伤力并不大
D. 严格限制销售民用枪支能得到国民的支持

79. 一项新的研究发现，短期摄入高脂食物有益心脏，研究人员在实验后期人工引发老鼠心脏缺血性伤害，类似人心脏病发作时的情况。他们发现，吃高脂食物24小时、1周和2周的老鼠心脏组织受损状况比吃6周高脂食物的老鼠和“吃素”的老鼠轻70%。研究人员认为这是由于短期摄入高脂食品可以使心脏肌肉获得更多能量，增强抵御伤害能力。他们认为，短期摄入高脂饮食或可保护心脏机能。

以下哪项为真，最能支持题干的结论？（ ）

A. 高脂食物中所含有的低密度脂蛋白胆固醇是人体所不可缺少的物质
B. 高脂食物可以使人体获得进行新陈代谢等活动所必需的物质和能量
C. 如果让老鼠“吃一天荤”后改“吃素”，它们心脏抵御伤害的能力比一开始就“吃素”的老鼠强

D. 要想降低患心脏病风险，应注意饮食平衡，适当摄入脂肪和胆固醇

80. 某单位要选拔人才下乡挂职，符合条件的候选人有甲、乙、丙、丁、戊、己，人事部门、组织部门和办公室分别提出了自己的要求：

人事部门：丙、丁两人中只能去一人。

组织部门：若丁不去，则戊也不能去。

办公室：甲、丙和己三人必须留下一个。

由此可以推出，能够同时满足三个部门要求的派出方案是（ ）。

- A. 甲、乙、丙 B. 甲、乙、丙、己 C. 乙、丙、戊 D. 乙、丙、丁、戊

81. 最新研究发现，狼和狗的关键性区别，是食用人类食物这一特点。经过几个世纪，食用人类食物导致了狗具备消化淀粉的基因，它们因此能依靠人类剩余的饭菜繁衍下来，并最终被驯化，即在形态、生理功能、行为习惯、对人类的态度等方面都发生大幅度的变化，成为家畜。

以下哪项为真，不能质疑上述说法？（ ）

A. 如果人们在野外捕捉了狼的幼崽，并对它们进行驯化，时间长了小狼的行为也会发生变化，并且会和人类亲近

B. 长期的野外观察表明，当狼群缺少可猎食的动物时也会挖掘植物的块茎充饥

C. 在牧区许多牧羊犬和其主人一样以肉食为主，并不吃淀粉类食物，并且世代如此

D. 狗从农业社会开始食用人类的饭菜，因此狗比狼对人类更友好，更愿意在人类定居点的周围徘徊

82. 在一次介绍英国历史的讲座中，演讲嘉宾介绍：根据1701年制定的英国王位继承法，君主的长子拥有绝对的王位继承优先权。现场听众中有人提出质疑：那不正确，包括现任女王在内，英国历史上有很多女王都继承了王位。

这位现场听众可能产生了以下误解，除了（ ）。

A. 只在君主的长子才能够合法继承王位

B. 英国历届女王都作为第一顺序继承人直接继承了王位

C. 英国历史上诸位女王可能并不都是通过王位继承法合法继承王位的

D. 只有儿子才是合法的王位继承人

83. 某科学家在研究意大利古比奥地区白垩纪末期地层中的黏土层时，发现微量元素铈的含量比其他时期地层陡然增加了30~160倍，之后人们从全球多处地点取样检测都得出同样结论：白垩纪末期地层中铈元素含量异常增高的确是普遍性的。科学家据此推测，在白垩纪末期有一颗巨大的小行星撞击了地球，产生的尘埃遮天蔽日，造成地表气候环境巨变，从而导致了恐龙的灭亡。

以下哪项如果为真，最能削弱上述科学家的推测？（ ）

A. 小行星一般由硅、铁类元素构成，巨大的小行星落在地球表面，即使经历漫长岁月也不可能踪迹全无

B. 白垩纪末期的岩层大部分是熔岩冷却形成的火成岩，而由小行星撞击地球产生的尘埃堆积而成的沉积岩只占地表的很小一部分

C. 铈元素不仅存在于地球外的天体，也存在于地壳内部

D. 已发现的恐龙和恐龙蛋化石全部存在于富含铈元素的黏土层下的地层中

84. 在自己最愤怒的时候，不让自己做出后悔事情的方法是先让自己忍住3秒钟，然后再想想对方为什么会这样，然后想自己的错误。如果还有余怒的话，一时找不出倾诉的人，就拿笔写下来，这样一个过程你也慢慢冷静了，忍得一口气，能免百日忧。

根据以上陈述，可以得出以下哪项？（ ）

- A. 在自己最愤怒的时候，应先反省自己的过失，然后再思考对方行为的原因
- B. 在自己最愤怒的时候，应先让自己忍住3秒钟，反思自己可能有的错误
- C. 在自己还有余怒的时候，如果能够习惯向别人倾诉，就能保持一生快乐
- D. 在自己还有余怒的时候，如果想使自己慢慢冷静下来，可能需要写作倾诉

85. 在进化史中，一种生物的灭绝或许是另一种生物崛起的福音。某研究小组对200余种鳄形目动物化石进行分析后发现，如果不是这些身长可达12米、称霸海洋的史前巨鳄（如生存于白垩纪晚期的北美洲恐鳄）在距今1.45亿年前大规模灭绝，现代海龟的祖先生存机会将微乎其微。

以下哪项如果为真，不能支持上述论述？（ ）

- A. 目前发现的史前巨鳄和现代海龟化石均不在同一年代
- B. 白垩纪晚期史前巨鳄、恐龙等大部分大型物种先后灭亡
- C. 史前巨鳄大多都有宽广、厚重的头颅骨，适合咬食大型动物
- D. 在史前巨鳄化石的发现处经常发现龟壳有巨大齿痕的同期海龟化石

五、资料分析

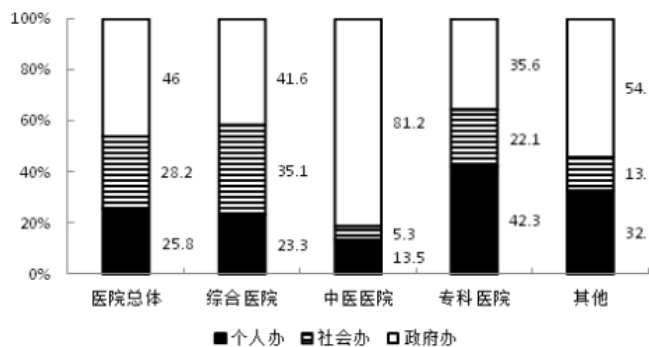
2010年，我国医院总数为20918家，较上年增长627家，医院接待诊疗20.40亿人次，比上年增长1.18亿人次，综合医院接待诊疗人次占全部医院接待诊疗人次的74.1%，是位居第二的中医医院诊疗人次的4.6

2006~2010年我国医疗卫生机构分布状况

年份	2006	2007	2008	2009	2010
医院总数(家)	19246	19852	19712	20291	20918
综合医院(%)	68.2	67.4	66.6	65.9	65.4
中医医院(%)	13.8	13.7	13.6	13.4	13.3
专科医院(%)	15.7	16.5	17.4	18.3	18.9
其他类(%)	2.3	2.4	2.4	2.4	2.4

倍。

2010年我国各类医疗卫生机构按主办单位分类的分布情况



86. 2007~2010年间，中医医院占医院总数比重同比下降最快的一年是（ ）。

- A. 2007年
- B. 2008年
- C. 2009年
- D. 2010年

87. 与2009年相比，2010年我国约增加了多少家其他类医院？（ ）

- A. 15
- B. 54
- C. 128
- D. 627

88. 2010年，我国政府的专科医院有多少家？（ ）

- A. 1100 B. 1400 C. 1700 D. 2000

89. 2010年，平均每家综合医院的接待诊疗者人次数约是中医医院接诊人次的多少倍？（ ）

- A. 0.94 B. 1.05 C. 1.16 D. 1.27

90. 能够从上述资料中推出的是（ ）。

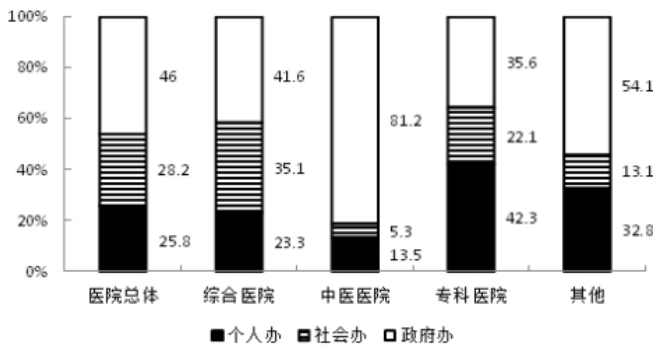
- A. 2006~2010年间，医院总数持续增加
 B. 2009年全国医院共接待诊疗者21.58亿人次
 C. 2010年的政府办医院中，一半以上是中医医院
 D. 与2006年相比，2010年专科医院增速高于综合医院

2010年，我国医院总数为20918家，较上年增长627家，医院接待诊疗20.40亿人次，比上年增长1.18亿人次，综合医院接待诊疗人次占全部医院接待诊疗人次的74.1%，是位居第二的中医医院诊疗人次的4.6倍。

2006~2010年我国医疗卫生机构分布状况

年份	2006	2007	2008	2009	2010
医院总数(家)	19246	19852	19712	20291	20918
综合医院(%)	68.2	67.4	66.6	65.9	65.4
中医医院(%)	13.8	13.7	13.6	13.4	13.3
专科医院(%)	15.7	16.5	17.4	18.3	18.9
其他类(%)	2.3	2.4	2.4	2.4	2.4

2010年我国各类医疗卫生机构按主办单位分类的分布情况



91. 2007~2010年间，中医医院占医院总数比重同比下降最快的一年是（ ）。

- A. 2007年 B. 2008年 C. 2009年 D. 2010年

92. 与2009年相比，2010年我国约增加了多少家其他类医院？（ ）

- A. 15 B. 54 C. 128 D. 627

93. 2010年，我国政府的专科医院有多少家？（ ）

- A. 1100 B. 1400 C. 1700 D. 2000

94. 2010年，平均每家综合医院的接待诊疗者人次数约是中医医院接诊人次的多少倍？（ ）

- A. 0.94 B. 1.05 C. 1.16 D. 1.27

95. 能够从上述资料中推出的是（ ）。

- A. 2006~2010年间，医院总数持续增加
 B. 2009年全国医院共接待诊疗者21.58亿人次
 C. 2010年的政府办医院中，一半以上是中医医院
 D. 与2006年相比，2010年专科医院增速高于综合医院

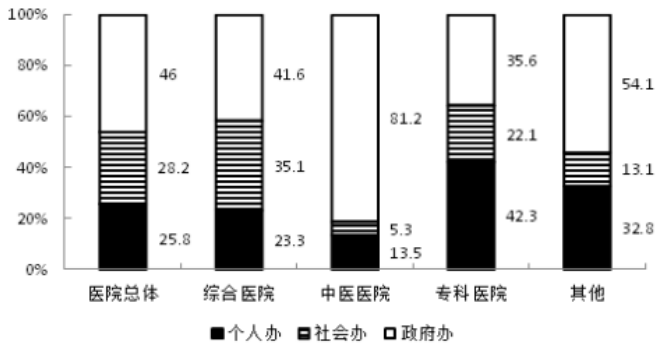
2010年，我国医院总数为20918家，较上年增长627家，医院接待诊疗20.40亿人次，比上年增长1.18亿人次，综合医院接待诊疗人次占全部医院接待诊疗人次的74.1%，是位居第二的中医医院诊疗人次的4.6

2006~2010年我国医疗卫生机构分布状况

年份	2006	2007	2008	2009	2010
医院总数(家)	19246	19852	19712	20291	20918
综合医院(%)	68.2	67.4	66.6	65.9	65.4
中医医院(%)	13.8	13.7	13.6	13.4	13.3
专科医院(%)	15.7	16.5	17.4	18.3	18.9
其他类(%)	2.3	2.4	2.4	2.4	2.4

倍。

2010年我国各类医疗卫生机构按主办单位分类的分布情况



96. 2007~2010年间，中医医院占医院总数比重同比下降最快的一年是（ ）。
- A. 2007年 B. 2008年 C. 2009年 D. 2010年
97. 与2009年相比，2010年我国约增加了多少家其他类医院？（ ）
- A. 15 B. 54 C. 128 D. 627
98. 2010年，我国政府的专科医院有多少家？（ ）
- A. 1100 B. 1400 C. 1700 D. 2000
99. 2010年，平均每家综合医院的接待诊疗者人次数约是中医医院接诊人次的多少倍？（ ）
- A. 0.94 B. 1.05 C. 1.16 D. 1.27
100. 能够从上述资料中推出的是（ ）。
- A. 2006~2010年间，医院总数持续增加
- B. 2009年全国医院共接待诊疗者21.58亿人次
- C. 2010年的政府办医院中，一半以上是中医医院
- D. 与2006年相比，2010年专科医院增速高于综合医院

1

.【答案】D

【解析】阴山山脉是中国北部东西向山脉和重要地理分界线，横亘在内蒙古自治区中部及河北省最北部。阴山山脉界线以西以北为牧区畜牧业；以东以南为农区畜牧业；周围为半农半牧区畜牧业。因此阴山山脉是牧业与农业的分界，D项说法错误。

故本题选D。

2

.【答案】D

【解析】《消费者权益保护法》第7条第一款规定，消费者在购买、使用商品和接受服务时享有人身、财产安全不受损害的权利。A项正确。

该法第9条第二款规定，消费者有权自主选择提供商品或者服务的经营者，自主选择商品品种或者服务方式，自主决定购买或者不购买任何一种商品、接受或者不接受任何一项服务。B项正确。

该法第27条规定，经营者不得对消费者进行侮辱、诽谤，不得搜查消费者的身体及其携带的物品，不得侵犯消费者的人身自由。C项正确。

根据该法第24条的规定，没有国家规定和当事人约定的，消费者可以自收到商品之日起七日内退，D项“一个月后”不符合规定。

故本题选D。

3

.【答案】B

【解析】海洋中降解石油烃的微生物主要是细菌，此外还有酵母、丝状真菌等。

故本题选B。

4

.【答案】A

【解析】多普勒效应指出，波在波源移向观察者接近时接收频率变高，而在波源远离观察者时接收频率变低。其主要内容为物体辐射的波长因为波源和观测者的相对运动而产生变化。在运动的波源前面，波被压缩，波长变得较短，频率变得较高；在运动的波源后面时，会产生相反的效应。在生活中的体现即鸣笛的火车迎面驶来时，鸣笛声越来越高；而火车离去后，鸣笛声越来越低。

故本题选A。

5

.【答案】A, C, D

【解析】生物质能是太阳能以化学能形式贮存在生物质中的能量形式，即以生物质为载体的能量。有机物中除矿物燃料以外的所有来源于动植物的能源物质均属于生物质能，包括农作物秸秆、薪柴、禽畜粪便、生活垃圾、工业有机废渣与废水沼气类等。B项天然气属于化学燃料。

故本题选ACD。

6

.【答案】A, B, C

【解析】引发过敏和哮喘症状的微粒、细菌、病毒、PM_{2.5}可入肺颗粒和PM₁₀颗粒的直径都在0.1~0.3微米之间，因此都可被HEPA滤除。A、B、C三项正确，D项错误。

故本题选ABC。

7

.【答案】D

【解析】议案，是指由法定机关和人大代表依照法定程序提请本级人民代表大会会议或者人大常委会会议进行审议并作出决定的议事原案。法律对议案的内容作出了明确的规定，其内容必须是属于法律规定的本级人大或者人大常委会职权范围内的事项。提案，是政协委员向人民政协组织，并通过政协组织向人民代表大会或人民政府就有关国家或地方大政方针、社会生活等重大问题提出意见和建议的形式。政协提案实行提出提案的时间不限、内容不限、人数不限的“三不限制”原则。A、C项正确。

在法律方面，人民代表大会是权力机关，议案一经通过就具有法律效力；而人民政协是统一战线组织，政协委员提案是民主监督的一种形式，没有法律约束力，B项正确。

提出议案的主体必须是法律规定的主席团、常务委员会、各专门委员会、本级人民政府，同时代表联合提名可以提出议案。但代表提出的议案，必须要达到法定的人数，即县级以上人大代表十人以上联名、乡镇的人大代表五人以上联名才有提议案权。而政协提案的主体相对较宽泛，委员个人或者联名、小组或者联组、各党派和人民团体、政协各专门委员会都可以提出提案，D项错误。

故本题选D。

8

.【答案】B

【解析】通常不易引起爆炸的粉尘有土、砂、氧化铁、研磨材料、水泥、石英粉尘以及类似于燃烧后的灰尘等。这类物质的粉尘化学性质比较稳定，不易燃烧。

故本题选B。

9

.【答案】A

【解析】A项正确，我国是最早种植大豆的国家，也是最早利用大豆制成豆腐制品的国家。

B项错误，玉米是在1492年哥伦布发现美洲以后，才传到各国，不是通过丝绸之路传入中国的。

C项错误，目前世界上最主要的油料作物是大豆。

D项错误，目前世界上最大的稻米出口国是泰国。

故本题选A。

10

.【答案】C

【解析】A项错误，PVC在高温时易产生有害物质，目前很少用于食品包装。

B项错误，PE通常用于制造薄膜、日用品瓶子、管道等，具有耐低温性。

C项正确，PP用于制造微波炉餐盒和保鲜盒，是唯一可以放进微波炉的塑料盒。

D项错误，PS用于生产碗装泡面盒和快餐盒，遇到超过70度的温度就会释出有害化学物质。

故本题选C。

11

.【答案】D

【解析】“究天人之际，通古今之变，成一家之言”出自司马迁的《报任安书》，是司马迁关于自己编写《史记》的目的和意义的概括。

A项是鲁迅对于《史记》的评价，B项出自荀子的《荀子·哀公》，C项是苏轼在《潮州韩文公庙碑》中对韩愈的赞誉。A、B、C三项均错误。

D项出自司马迁的《报任安书》，符合题意。

故本题选D。

12

. 【答案】D

【解析】A、B、C三项属于风险管理手段中的损失预防，损失预防是指在风险事故发生前，为了消除或减少可能引起损失的各种因素而采取的处理风险的具体措施，其目的在于通过消除或减少风险因素而降低损失发生的频率。

D项“通过兼并重组使其拥有的出租车数量达到原来的3倍”明显不属于损失预防。

故本题选D。

13

. 【答案】B

【解析】龙虎山是中国典型的丹霞地貌风景，是中国道教发祥地。龙虎山、龟峰包含了中国亚热带湿润区丹霞单体与群体的重要形态类型，形态类型的多样性造就了丹霞峰林地貌组合和象形丹霞景观的独特性。2010年8月2日，龙虎山与龟峰被一并列入《世界自然遗产名录》，B项正确。

故本题选B。

14

. 【答案】B

【解析】“在刚刚过去的四百多年里”指的是1514~2014年。

A项正确，大约在1639年，一位西班牙伯爵带着他的妻子埃娜一起来到秘鲁首都利马，不幸，埃娜染上了疟疾病，一位印第安姑娘用金鸡纳树的树皮为她治病。埃娜痊愈后，西班牙人就带着这种树皮回到欧洲。这种树皮提取出来的“金鸡纳霜”是第一种真正对疟疾有疗效的药物。后来，瑞典科学家里纳尤斯对这种植物的树皮进行了认真的研究，提取出其中的有效成分，起名为“奎宁”。

B项错误，哥德巴赫猜想是在1742年提出的，1924年德国的拉特马赫只证明了“7+7”，其他问题相继被其他国家的数学家证明，但哥德巴赫猜想还未完全被证明。

C项正确，1597年日本侵略朝鲜，朝鲜求援，明朝初次调集4万兵力赴朝救援，后续不断增兵，最高至7万。日军在丰臣秀吉死后难以为继，遂全部从朝鲜半岛撤退。

D项正确，哈雷彗星每隔大约76年都会按时回归，自秦始皇七年（公元前240年）至清宣统二年（1910年）共有29次记录。

故本题选B。

15

. 【答案】B

【解析】A项正确，化石燃料也称矿石燃料，是由死去的有机物和植物在地下分解而形成的燃料资源。

B项错误，化石燃料包括煤炭类、石油、油页岩、天然气、油砂以及海下的可燃冰等，沼气不是化石燃料。

C项正确，人类燃烧石油、天然气和煤炭将释放大量二氧化碳，产生温室效应，使全球变得更加温暖。

D项正确，化石燃料是不可再生资源。

故本题选B。

16

. 【答案】B

【解析】A项错误，“天人相胜”是唐代刘禹锡关于“天人关系”的问题观点。他指出，自然界（即天）和人类社会具有各自的规律，它们的职能各不相同，有时人胜天，有时天胜人。这种观点指出社会和自然的区别与联系，主张对二者的关系进行具体分析，与题意不符。

B项正确，孟子认为天和人是相通的，民意即是天意，符合题意。

C项错误，“天人相分”是荀子自然观方面的主张，他认为自然界的变化有自己的规律，不受人的意志支配，同时天也管不了人事，与题意不符。

D项错误，道家认为“天人平等”，即天与人是相辅相成，和谐存在的，与题意不符。

故本题选B。

17

.【答案】B

【解析】A项不符合法律规定，《民法典》第725条规定，租赁物在承租人按照租赁合同占有期限内发生所有权变动的，不影响租赁合同的效力。因此房东黄某无权要求吴某限期搬出。

B项符合法律规定，《刑事诉讼法》第150条第三款规定，追捕被通缉或者批准、决定逮捕的在逃的犯罪嫌疑人、被告人，经过批准，可以采取追捕所必需的技术侦查措施。技术侦查措施包括电子侦听、电话监听、电子监控、秘密拍照或录像、秘密获取某些物证等专门技术手段。

C项不符合法律规定，根据《宪法》第37条的规定，中华人民共和国公民的人身自由不受侵犯。禁止非法拘禁和以其他方法非法剥夺或者限制公民的人身自由，禁止非法搜查公民的身体。《刑事诉讼法》第138条第一款规定，进行搜查，必须向被搜查人出示搜查证。因此商场保安无权对赵某进行搜身。

D项不符合法律规定，债务人是张某，则债权人李某只能向张某主张偿还债务。

故本题选B。

18

.【答案】C,D

【解析】题干体现了行政强制的适当原则和教育与强制相结合的原则。适当原则是行政法上的比例原则在《行政强制法》中的运用，适当原则强调行政强制应当作为行政执法的最后手段，采用非强制手段可以达到行政管理目的的，不得设定和实施行政强制。行政管理机关在执法过程中，如果能通过指导、鼓励、协商等手段实现管理目标，就不应采用强制手段，这符合行政强制的教育与强制相结合的原则。

故本题选CD。

19

.【答案】C

【解析】行政组织的设立必须有法律依据，经过法定的程序，得到法律的认可，才能获得和行使合法的权力。其中，政府职能是建立行政组织和进行机构设置、人员配备的根本依据。

故本题选C。

20

.【答案】A

【解析】地震不仅多发生在夜间，而且还常发生在农历初一、十五或十六前后，这是因为农历初一、十五或十六前后是太阳和月球引力最大的时候。太阳和月球的引力可引起海水在一天里两次涨落，猛烈的潮汐在地震的引发过程中发挥了很大的作用，地震发生的时间会因潮汐造成的压力波动而提前或

推迟，A项正确。

故本题选A。

21

.【答案】D

【解析】先看第一空，“猛药去疴、重典治乱”强调一种态度，“意志”和“决心”最贴切。“意念”指念头、想法，显然不符合语义，排除A项；文段没有体现“恒心”的意思，排除B项。

再看第二空，“气魄”指气概魄力，“勇气”指敢想敢干、毫不畏惧的气概，定语是“刮骨疗毒、壮士断腕”，可知此处不仅强调魄力，更强调勇敢，“勇气”更恰当。

故本题选D。

22

.【答案】A

【解析】先看第一空，“争议”与前文“争论不休”语义重复，先排除B项。

再看第二空，根据后文“20世纪80年代后期才逐渐向公众披露”，可知之前是“没有披露”，“秘而不宣”最恰当，排除C、D项。

故本题选A。

23

.【答案】C

【解析】第一空先排除D项，“慷慨解囊”已经包含“掏钱”的语义，从语法结构上看，不符合。

再排除B项，“心悦诚服”指真心地服气或服从，不符合语境。

再看第二空，比较A、C项，“悲天悯人”指哀叹时世的艰难，怜惜人们的痛苦；“怨天尤人”指遇到挫折或出了问题，一味地抱怨天，责怪别人。显然，“怨天尤人”更恰当，且呼应后文的“指责消费者说……”。

故本题选C。

24

.【答案】D

【解析】先看第二空，“勉励”指鼓励或鼓舞，“勉力”指尽力、努力，对领导要求的任务应该努力去完成，“勉力”更符合语境，排除A、C项。

再看第三空，“蜕化”指虫类脱皮，比喻人或事物发生质变，“退化”指生物体的一部分器官变小，机能减退、甚至完全消失，此处形容“大脑”，“退化”更准确，排除B项。

故本题选D。

25

.【答案】A

【解析】先看第一空，前文指出畅销书已经深入我们的阅读生活，则填入横线处的词应表示畅销书与当代生活有密切联系，“契合”和“一致”不符合语义，排除B、D项。

再看第三空，“得而兼之”指同时涉及几个方面或同时具有几种事物，“双管齐下”比喻做一件事情两个方面同时进行或者两种方法同时使用，强调做事情的方法。相比之下，“得而兼之”更恰当，指期望

畅销书既有文化品位又有销量，排除C项。

故本题选A。

26

.【答案】B

【解析】先看第一空，“遥遥无期”形容距离达到目的、实现理想的时间还很远；“步履维艰”指行走困难行动不便或者创业经营艰辛；“旷日持久”指荒废时间，拖得很久；“进退维谷”指无论进还是退，都是处在困境之中，形容进退两难。

由“深陷”可看出美国和西方各国在世界经济萧条中复苏的困难，“旷日持久”和“进退维谷”明显不符合语义，排除C、D项。

再看第二空，文段并未体现出原来进行的“反思”，因此不存在“重新反思”一说，“认识”更符合语义。

故本题选B。

27

.【答案】C

【解析】先看第一空，结合后文“发现乐趣和美好”以及创造“‘魔力’世界”，可知文段没有体现消极的感情色彩，“呆板”“无聊”均用于形容消极的事物，排除A、B项。

再看第二空，“创造”是一个从无到有的过程，“崭新”更符合语义，排除D项。

故本题选C。

28

.【答案】C

【解析】辨析四个成语的意思：

“迫不及待”形容心情急切；

“迫不得已”指被逼得没有办法，不得不这样；

“迫在眉睫”形容事情已到眼前，情势十分紧迫；

“时不我待”指时间不会等待我们，要抓紧时间。

根据“在物联网、云计算等新技术日趋进步之时”，可知管理软件厂商提升自身的市场洞察力和创新能力具有紧迫性，“迫在眉睫”最恰当。

故本题选C。

29

.【答案】C

【解析】先看第二空，“文化”和“商品”的价值并没有高低之分，“贬低”“降格”不符合语义，排除A、D两项。

再看第一空，“疏忽”指忽略、不留心；“无视”指不放在眼里、漠视、不认真对待，含贬义。由“将文化仅仅看作是经济的工具和仆佣”可知横线处应填入一个贬义词，“无视”更合适，排除B项。

故本题选C。

30

. 【答案】C

【解析】先看第一空，“迸发”指由内而外地突然发出、爆发，爆发出的事物一般力度较大，“散发”仅仅指分发、发出，“劳动、知识、管理、资本的活力”是由内而外发出的，“迸发”更恰当，排除B、D项。

再看第二空，“涌动”一般用来形容心情，比喻人或事物像水一样冒出流动，“涌流”指喷涌流淌，与“源泉”相呼应，排除A项。

故本题选C。

31

. 【答案】A

【解析】“惊天动地”形容某个事件的声势或意义极大，无法修饰“文字”，排除C项。

“石破天惊”多比喻文章议论新奇惊人，强调“新奇”，“动人心迹”侧重是否能打动人，根据后文“壮阔”，可知二者均不符合语义，排除B、D项。

验证A项，“动人心弦”形容事物或语言激动人心，符合语义。

故本题选A。

32

. 【答案】D

【解析】先看第一空，根据“不是”可知横线处填入的词与前文“助人伦、成教化”是相对立的，则“功利性”与“目的性”更符合语义。“实用性”侧重事物的应用价值，“功用性”侧重事物的功能，二者均不符合语义，排除B、C项。

再看第二空，“身临其境”指亲自到了那个境地，明显不符合语义，排除A项。

故本题选D。

33

. 【答案】D

【解析】文段讲党政机关工作人员的工作作风，带有明显的强制性，直接看首尾两空，语气最坚定的只有D项的“不得”和“必须”，锁定D项。

验证其他两空，“可能”表示不确定，“未能”表示不及时，均符合语义。

故本题选D。

34

. 【答案】A

【解析】从最后两空看，二者构成递进关系，选项中只有A项“不仅……还……”可以表示递进关系。

故本题选A。

35

. 【答案】A

【解析】第一空根据文段的感情色彩，排除D项，“纠缠”含有贬义色彩。

再看第二空根据“映像”和“正相”的关系，可知“俨然”最恰当，因为“正相”是相对“倒影”来说的，并非是真的“正相”。

最后看第三空，“宿命”与上文“前人的文化已随生命的消失而消失”相呼应。

故本题选A。

36

.【答案】C

【解析】根据前文“有‘牵一发动千钧’的效果”和“迁都实际上牵扯到许多人的现实利益”，可知迁都所牵涉的事情较多，涉及的利益较广，C项“系统工程”最贴切。

A项“连锁反应”侧重环环相扣，文段仅说明迁都对其他事情的影响，并不是环环相扣；

B项“世界难题”语义过重；

D项“恶性循环”无从体现。

故本题选C。

37

.【答案】C

【解析】文段首先指出马云对梦想的看法，即绝大多数人无法坚持自己的梦想，最终在成功的前夕放弃了；接着通过转折关联词“但”指出真正的残酷其实不是坚持梦想的艰辛，而是根本没有梦想。C项最恰当。

A项“不再梦想着成功”无法明确体现出“没有梦想”这个观点；B项无中生有；D项“被固化在社会底层”无从体现，文段提到的是“阶层固化的时代”，不一定是“社会底层”。

故本题选C。

38

.【答案】B

【解析】先判断首句，①句以“事实上”开头不适宜作首句，排除A、C项。

第②句和第⑤句都围绕“宗亲长老”展开，所以应该捆绑在一起，并由②“同样地”可知，②句在⑤句之后。

故本题选B。

39

.【答案】C

【解析】文段首先肯定在触屏时代，“汉字听写”是一件好事，“但是”引出作者的观点，即“汉字听写”比赛如果过度，好事也会变成坏事，后文则是对这个观点的例证。由此可知，作者强调“汉字听写”比赛必须把握适度的原则，C项是其同义转化。

A项“引发民众提笔忘字的忧虑”文段无从体现；B、D项均属于无中生有。

故本题选C。

40

.【答案】C

【解析】文段讲世界各国的申遗工作都是举国家之力去做，而中国关于美食申遗现在多由行业协会和民间组织去推动，从资金、能力等方面看难度都很大。显然，文段意在说明我国政府应参与到中国美食申遗的工作中，C项是其同义转换。

A项中国饮食文化的国际影响文段无从体现；B项与文段意思相悖；D项“评选标准”文段没有提及。

故本题选C。

41

.【答案】A

【解析】B、C项由“劳动力成本因素起的作用越来越大”和“劳动密集型产业从沿海地区向中西部转移”可得知，D项由“国内的中部省份和沿海地区，往往只有一河一山之隔”可得知。A项“土地价格相对便宜”文段没有提及。

故本题选A。

42

.【答案】C

【解析】文段为总一分结构，首句点明主旨，指出清教主义的兴盛给近代科学的产生带来了重要作用，后文对此展开具体论证，由此可知C项最恰当。

A、D两项均为文段对观点解释说明部分的内容，不是文段重点；B项说法过于宽泛。

故本题选C。

43

.【答案】A

【解析】文段首先指出私募的“钱途”在于退出，接着讲公开募股是私募退出的最佳选择及其原因，最后从政府角度提出私募退出的对策，A项为其同义转换。

B、D项仅为对策中的一部分，不够全面；

C项偷换概念，文段主要阐述私募需要退出以及关于私募退出的对策。

故本题选A。

44

.【答案】C

【解析】文段讲植物会对气味产生反应，并以果实成熟为例，介绍青涩的果实“闻”到成熟的果实散发出的“成熟信息素”后，会开始变得成熟，这说明果实会释放“成熟信息素”，即植物间会传递信息，C项正确。

A、B两项是文段例证部分的内容，不是重点；D项说法过于宽泛，未指出共性的具体特征。

故本题选C。

45

.【答案】B

【解析】描述主义者的观点是“人们应该有高兴怎么写就怎么写的自由”，言外之意是语言的使用应该持宽容与开放的态度，B项符合。

A项错误，“应成为媒体的主流”文段无从体现。

C项错误，“禁锢”语义过重。

D项错误，“与时俱进”文段中无从体现。

故本题选B。

46

. 【答案】D

【解析】 本题考查基础应用问题。

第一步：审阅题干。已知两次购买的量以及费用，求另一种购买量的费用，可通过简单列式找关系。

第二步：根据题意可得，6订书机+4计算器+6文件夹=504元①，3订书机+1计算器+3文件夹=207元

②，①-②可得3订书机+3计算器+3文件夹=297元，则订书机+计算器+文件夹=99元。因此购买订书机、计算器和文件夹各5个所需的费用为 $99 \times 5 = 495$ 元。

故本题选D。

47

. 【答案】A

【解析】 本题考查一次相遇追及问题。

第一步：审阅题干。已知相遇时间和两者达到时间差，其他数量关系均不知，则可从速度、路程、时间三者之间的关系入手解题。

第二步：

方法一：设小王从丙镇到达乙镇需要 x 分钟，小王和小刘的速度分别为 $V_{\text{王}}$ 、 $V_{\text{刘}}$ ，根据题意可知，小刘从乙镇到丙镇需要1小时，小王从丙镇到乙镇需要 x 分钟，因此 $V_{\text{王}}:V_{\text{刘}}=60:x$ （路程相同，速度与时间成反比）；同理小王从甲镇到丙镇需要1小时，小刘从丙镇到甲镇需要 $(x+27)$ 分钟，则 $V_{\text{王}}:V_{\text{刘}}=(x+27):60$ 。小王和小刘的速度比不变，则 $60:x=(x+27):60$ ， $x^2+27x-3600=0$ ，即 $(x+75) \times (x-48)=0$ ，解得 $x=-75$ （排除）或 $x=48$ （满足）。因此， $V_{\text{王}}:V_{\text{刘}}=60:48=5:4$ 。

故本题选A。

方法二：假设小王、小刘的速度分别为 a 、 b ，则甲地到乙地的距离为 $60(a+b)$ ，小王从甲镇到乙镇所需时间为 $\frac{60(a+b)}{a}$ ，小刘从乙镇到甲镇所需时间为 $\frac{60(a+b)}{b}$ ，二者相差27分钟，即 $\frac{60(a+b)}{b} - \frac{60(a+b)}{a} = 27$ ，化简可得： $\frac{a}{b} - \frac{b}{a} = \frac{9}{20}$ 。

将选项代入验证：若 $a:b=5:4$ ，则 $\frac{5}{4} - \frac{4}{5} = \frac{9}{20}$ ，满足。

故本题选A。

48

. 【答案】D

【解析】 根据题意可知， $a_1=1959$ ， $a_2=1995$ ，且从第三项起，每项是它前两项平均数的整数部分，则 $a_3=1977$ ， $a_4=1986$ ， $a_5=1981$ ， $a_6=1983$ ， $a_7=1982$ ， $a_8=1982$ ，...，即从第七项开始，后面的每一项都等于1982，因此 $\lim_{n \rightarrow \infty} a_n = 1982$ 。

故本题选D。

49

. 【答案】B

【解析】 要使所需水管数量最少，则应使喷头尽可能多地排在同一条直线上，最多有4个喷头可以排在同一条直线上，另有2个与其中一个连在一条直线上，如下图所示。

因此，最少需要8根水管才能使任意2个喷头都能被一根水管相连。

故本题选B。



50

.【答案】B

【解析】该产品库存最高的月份为销量刚大于产量的前一个月份，则 $5000 \times (1+10\%)^{n-1} \geq 8000$ ，解得 $n=6$ ，即6月销量开始大于产量，那么当年该产品库存最高的月份是5月。

故本题选B。

51

.【答案】B

【解析】本题考查数量类规律。

第一步：观察图形。题干图形中出现字母，无属性规律，可以考虑图形数量类规律。题干各图形的交点个数依次为：0、1、2、3，则问号处图形交点数应为4。

第二步：分析选项，确定答案。

A项：交点数为3，排除。

B项：交点数为4，当选。

C项：交点数为3，排除

D项：交点数为5，排除。

故本题选B。

52

.【答案】C

【解析】本题考查形状类规律。

第一步：观察图形。题干各图形均由数字组成，考虑数字叠加规律。题干各图形从第三行开始，除两侧数字1外，每个数字均等于上一行左右相邻两数字之和，则问号处数字应为 $3+3=6$ 。

第二步：分析选项，确定答案。

A项：为4，排除。

B项：为3，排除。

C项：为6，当选。

D项：为2，排除。

故本题选C。

53

.【答案】B

【解析】A项，左面与右面相对位置关系与展开图相反，排除；C项，假设左面正确，则右面的实线应从上顶点指向底边，排除；D项，假设右面正确，则左面应为只含一条虚线的面，排除。

故本题选B。

54

.【答案】A

【解析】 本题考查位置类规律。

第一步：观察图形。题干图形元素的类型和数量完全一致，只有相对关系不一样，可以考虑图形位置类规律。各图形中小三角形按下图所示路径依次移动，则问号处应为第五个图形三角形按下图顺序移动所得。



第二步：分析选项，确定答案。

A项：符合题干要求，当选。

B项：右边三角形应朝上，排除。

C项：右下方三角形应不存在，排除。

D项：最左边三角形应不存在，排除。

故本题选A。

55

.【答案】B

【解析】 第一组图形中，前两个图形叠加去异存同，然后顺时针旋转90°，得到第三个图形。第二组图形遵循此规律，则问号处应为B项图形。

故本题选B。

56

.【答案】A

【解析】 本题考查社会类定义判断。

第一步：分析定义要点。“懒蚂蚁效应”的定义要点：①平时不怎么干活；②关键时候发挥作用。

第二步：分析选项，确定答案。

A项：“工作时间自由”符合①，“攻克技术难题”，符合②，符合定义，当选。

B项：某外贸公司凭借多元化经营手段渡过难关，未体现个体在关键时刻发挥作用，不符合①②，排除。

C项：允许员工上班时间钻研技术，未体现个体在关键时刻发挥作用，不符合①②，排除。

D项：只讲了某经理的用人标准，未体现个体在关键时刻发挥作用，不符合①②，排除。

故本题选A。

57

.【答案】C

【解析】 本题考查经济类定义判断。

第一步：分析定义要点。“可持续消费”的定义要点：①满足当代人的消费发展需要；②不对后代人满

足其消费发展需要的能力构成危害。

第二步：分析选项，确定答案。

A项：富翁要求其子女自己挣钱没有体现是否对后代人满足其消费发展需要的能力构成危害，不符合②，排除。

B项：供游人游览没有体现是否对后代人满足其消费发展需要的能力构成危害，不符合②，排除。

C项：运用“海水淡化”技术增加淡水量，利用海水转换成淡水，没有对后代人的发展构成危害，符合②，也满足当代人对淡水的使用，符合①，符合定义，当选。

D项：每年更换一部手机没有体现是否对后代人满足其消费发展需要的能力构成危害，不符合②，排除。

故本题选C。

58

.【答案】D

【解析】本题考查科学类定义。

第一步：分析定义要点。“白色农业”的定义要点：①以蛋白质工程、细胞工程、酶工程为基础；②利用基因工程等高科技手段开发微生物资源。

第二步：分析选项，确定答案。

A项：“农业废料制成蛋白饲料”符合①②，排除。

B项：“转基因技术培育水稻”符合①②，排除。

C项：“应用细菌、真菌”，符合①②，排除。

D项：“宜林则林、宜牧则牧、宜渔则渔”属于因地制宜策略，不涉及蛋白质工程、细胞工程、酶工程或基因工程，不符合①②，不符合定义，当选。

故本题选D。

59

.【答案】C

【解析】本题考查管理类定义判断。

第一步：分析定义要点。“前馈控制”的定义要点：①预计可能出现的问题；②提前采取措施。

第二步：分析选项，确定答案。

A项：股票投资者预测风险，但未提前采取措施，不符合②，排除。

B项：企业制定战略，并未预计可能出现的问题，也未提前采取措施，不符合①②，排除。

C项：“可能出现的市场变化”符合①，“制定了多个方案”符合②，符合定义要点，当选。

D项：因物资价格上涨调整生产模式，即问题已经出现，不符合①②，排除。

故本题选C。

60

.【答案】A

【解析】本题考查心理类定义

第一步：分析定义要点。“自信”的定义要点：①以实事求是的科学态度为前提；②建立在对自己和社

会充分了解的基础上。

第二步：分析选项，确定答案。

A项：小赵根据自己“学习成绩在年级排名第一，又担任校学生会主席，深受老师和同学的喜爱”，相信自己会获得奖学金，符合①②，符合定义，当选。

B项：未体现“对自己和社会充分了解”，不符合②，排除。

C项：未体现“对自己和社会充分了解”，不符合②，排除。

D项：未体现“对自己和社会充分了解”，不符合②，排除。

故本题选A。

61

.【答案】A

【解析】本题考查人文类定义判断。

第一步：分析定义要点。“翻典”的定义要点是“反用典故原意”。

第二步：分析选项，确定答案。

A项：“周公吐哺”指周公礼贤下士，求才心切，进食时多次吐出食物停下来不吃，急于迎客，后用为在位者礼贤下士之典实；“周公吐哺，天下归心”出自曹操的《短歌行》，意为像周公那样虚心对待贤才，一定会得到天下人的拥戴，未反用典故原意，不符合定义要点，当选。

B项：“王孙自可留”反用《楚辞·招隐士》“王孙兮归来，山中兮不可以久留”的原意，符合定义要点，排除。

C项：“东风不与周郎便，铜雀春深锁二乔”意为倘若当年东风不帮助周瑜的话，那么铜雀台就会深深地锁住东吴二乔了，反用赤壁之战吴胜曹败典故的原意，符合定义要点，排除。

D项：“佛狸祠下，一片神鸦社鼓”意为当年拓跋焘（小名佛狸）的行宫外竟有百姓在那里祭祀，乌鸦啄食祭品，人们过着社日，只把他当作一位神祇来供奉，这与当年百姓反抗异族统治者侵略的情形形成对比，作者反用典故，以此正告南宋统治者收复失土刻不容缓，符合定义要点，排除。

故本题选A。

62

.【答案】C

【解析】“绿客”的定义要点：①酷爱户外运动；②既善待自己又善待环境。

A项“节食”不符合②，“抽不出空来锻炼”不符合①，排除。

B项“熬夜复习”“通宵达旦”不符合②，排除。

C项“每到周末就外出摄影采风”符合①，“从不将单位事情带回家做”“捡拾垃圾”符合②，符合定义。

D项“平时很忙，节假日也难得约朋友打高尔夫球”不符合①②，排除。

故本题选C。

63

.【答案】A

【解析】“知情同意原则”的定义要点是“提供包括诊断结论、治疗决策、病情预后及诊治费用等

方面真实、充分的信息”“使病人或家属经深思熟虑自主作出选择”。

A项“医生替他们作决定”不符合定义。

B、C、D项均是医生提供了相关信息后，最终由患者或家属作出选择，符合定义。

故本题选A。

64

.【答案】C

【解析】“社会体育活动”的定义要点：

①企业、事业单位职工，国家机关工作人员，以及城镇或农村居民等不同的群体；

②为达到健身、健心、健美、娱乐、医疗等目的；

③身体锻炼活动。

A项“群众长跑运动”、B项“教工篮球队与社区篮球队的友谊比赛”、D项“社区居民网球赛”均符合

①②③，排除。

C项“国际铁人三项赛”属于竞技体育，参与主体是运动员，不符合①②③，不符合定义。

故本题选C。

65

.【答案】C

【解析】“激情群体”的定义要点：①为某项富有挑战性的工作；②临时组建。

A项不是临时组建的，不符合②，排除。

B、D项均未体现“富有挑战性的工作”，不符合①，排除。

C项“为尽快完成多品牌战略规划”“集结了公司内数名专家组成项目组”符合①②，符合定义。

故本题选C。

66

.【答案】A

【解析】本题考查材料关系。

第一步：分析题干词语间的关系。纸是制作书的原材料，二者为材料关系。

第二步：分析选项，确定答案。

A项：竹是制作筏的原材料，二者为材料关系，当选。

B项：雨和衣不是材料关系，排除。

C项：叶是树的组成部分，排除。

D项：河与海是反对关系，排除。

故本题选A。

67

.【答案】A

【解析】本题考查因果关系。

第一步：分析题干词语间的关系。缺少雨水可能导致干旱，雨水可缓解干旱。

第二步：分析选项，确定答案。

A项：缺少阳光可能导致潮湿，阳光可缓解潮湿，当选。

B项：雾霾与寒冷无明显联系，排除。

C项：飓风属于一种灾害，排除。

D项：冰雹可能毁坏农田，排除。

故本题选A。

68

.【答案】C

【解析】本题考查修饰关系。

第一步：分析题干词语间的关系。“非法”指不合法，其中的“非”指不、不是；“非难”指批评责难，其中的“非”指责怪、反对。

第二步：分析选项，确定答案。

A项：“非但”和“非凡”中的“非”均指不、不是，排除。

B项：“非礼”（指不合礼节、不礼貌）的“非”指不、不是，但“非洲”的“非”指阿非利加洲，排除。

C项：“非分”指不守本分、不安分，其中的“非”指不、不是；“非议”指责备，其中的“非”指责怪、反对，当选。

D项：“非诚勿扰”和“非常完美”的“非”均指不、不是，排除。

故本题选C。

69

.【答案】D

【解析】本题考查组成关系。

第一步：分析题干词语间的关系。孩子被喻为（掌上）明珠，孩子和女儿为属种关系。

第二步：分析选项，确定答案。

A项：护士被称为（白衣）天使，但是医生和护士为反对关系，排除。

B项：花朵泛指学生，包括青少年、儿童等，排除。

C项：家被喻为港湾，而卧室是家的组成部分，但词语顺序与题干不符，排除。

D项：师长被称作春蚕，师长和教师为属种关系，当选。

故本题选D。

70

.【答案】D

【解析】配乐是电影的组成部分，具有烘托电影的作用；D项桅杆是帆船的组成部分，具有支撑帆船的作用。

A项致谢的对象不是著作本身，排除。

B项屏幕是电视（机）的组成部分，词语位置与题干相反，排除。

C项提示的对象也不是戏剧本身，排除。

故本题选D。

71

.【答案】A

【解析】防火墙和隔离网均用于隔离，A项暖气片和电热毯均用于取暖。

B项手表主要是指示时间，罗盘指示方向，排除。

C项存储器用于储存，计算器用于计算，排除。

D项孔明灯用于观赏祈福，节能灯用于照明，排除。

故本题选A。

72

.【答案】C

【解析】围棋是使用棋子在棋盘上排兵布阵，C项书法是使用毛笔在宣纸上书写，且围棋和书法均是我国琴棋书画四艺之一。

故本题选C。

73

.【答案】D

【解析】孔子和颜回是师徒关系，D项苏格拉底和柏拉图也是师徒关系。

A、B、C项均不是师徒关系，排除。

故本题选D。

74

.【答案】C

【解析】微机放在电脑桌上，电脑桌放在办公室里；C项芹菜放在炒锅里，炒锅放在食堂里。

A项应是小白鼠在仪器里，词语位置与题干相反，排除。

B项门和窗、D项牛和马均为并列关系，排除。

故本题选C。

75

.【答案】B

【解析】本题考查交叉关系。

第一步：分析题干词语间的关系。花瓶和瓷器为交叉关系。

第二步：分析选项，确定答案。

A项：电视机是电器的一种，二者为种属关系，排除。

B项：中药和植物为交叉关系，当选。

C项：画作和诗篇为反对关系，排除。

D项：八仙桌是桌子的一种，二者为种属关系，排除。

故本题选B。

76

.【答案】C

【解析】本题考查前提类。

第一步：分析题干论点论据。

论点：牛奶的包装盒设计成方形是因为方形更节约冷藏空间，可乐的瓶子设计成圆形是因为圆形更容易随手拿取和携带。

论据：无。

第二步：分析选项，确定答案。

A项：不能说明可乐瓶子设计成圆形的原因，排除。

B项：不能说明可乐瓶子设计成圆形的原因，排除。

C项：指出包装设计以实用为主要目的，假如不需要实用，则没必要将牛奶包装盒设计成方形，也没必要将可乐瓶子设计成圆形，因此是题干观点的前提，当选。

D项：假设该项不成立，即人们可以接受圆形的牛奶盒和方形的可乐瓶，对论证不产生影响，不是题干观点成立的必要条件，排除。

故本题选C。

77

. 【答案】C

【解析】 本题考查前提类。

第一步：分析题干论点论据。

论点：婴儿学习本领后保持充足睡眠有利于增强记忆。

论据：通过对照实验发现，有充足睡眠的宝宝能记住1.5个本领，没有怎么睡觉的宝宝则一项本领都没有记住。

第二步：分析选项，确定答案。

A项：青少年群体与论点中的婴儿无关，属于无关项，排除。

B项：睡眠对宝宝身体发育的影响与增强记忆无关，属于无关项，排除。

C项：排除了宝宝本身智力水平状况对实验结果的影响，即排除他因，是题干论证依赖的假设，当选。

D项：其他研究验证了这项结果，具有加强作用，但缺少这一内容不影响题干论点成立，不是论证成立的必要条件，排除。

故本题选C。

78

. 【答案】B

【解析】 论点：为减少该国的枪击发生率，政府应该加强销售民用枪支的限制。

B项惩罚手段威慑力不够说明加强销售民用枪支的限制是很有必要的，加强了论点。

A、C项都在一定程度上削弱论点，不符合；

D项为无关项。

故本题选B。

79

. 【答案】C

【解析】 题干论点：短期摄入高脂食品可以使心脏肌肉获得更多能量，增强抵御伤害能力，可保护心脏机能。

论据：吃高脂食物24小时、1周和2周的老鼠心脏组织受损状况比吃6周高脂食物的老鼠和“吃素”的老鼠轻70%。

A、B项未提及高脂食物对心脏机能的作用，属于无关项。

C项说明短期摄入高脂食物的老鼠心脏抵御伤害的能力比“吃素”的老鼠强，加强论点。

D项“适当摄入脂肪和胆固醇”与“短期摄入高脂饮食”并不等同，不能支持。

故本题选C。

80

.【答案】A

【解析】根据“办公室：甲、丙和己三人必须留下一个”可知B项不满足，排除。

根据“人事部门：丙、丁两人中只能去一人”可知D项不满足，排除。

组织部门的要求可以翻译为“ \neg 丁 \rightarrow \neg 戊”，戊参加，否定后件，可推出否定前件，即丁参加，排除C项。

故本题选A。

81

.【答案】D

【解析】论点：狼和狗的关键性区别是狗食用人类食物从而具备了消化淀粉的基因，并最终被驯化。

A项说明狼也可以被人类驯化，B项说明狼也食用淀粉类食物，C项说明狗不吃淀粉类食物也可以被驯化，均能够质疑论点，排除。

D项说明食用人类食物使得狗比狼对人类更友好，不能质疑论点。

故本题选D。

82

.【答案】C

【解析】题干中嘉宾介绍“君主的长子拥有绝对的王位继承优先权”，强调长子的优先继承权，而现场听众根据女王的例子提出质疑，A、B、D项均可能是听众产生的误解，排除。

C项解释了女王在“君主的长子拥有绝对的王位继承优先权”的法律规定下继承了王位的原因。

故本题选C。

83

.【答案】C

【解析】本题考查削弱类。

第一步：分析题干论点论据。

论点：在白垩纪末期有一颗巨大的小行星撞击了地球，产生的尘埃遮天蔽日，造成地表气候环境巨变，从而导致了恐龙的灭亡。

论据：白垩纪末期地层中铱元素含量异常增高是普遍性的。

第二步：分析选项，确定答案。

A项：小行星的踪迹属于无关项，排除。

B项：小行星撞击造成的沉积岩数量，属于无关项，排除。

C项：指出地壳内部本身存在铀元素，因此白垩纪末期地层中含量异常增高的铀元素可能不是由小行星撞击地球产生的，恐龙的灭亡可能另有他因，最能削弱题干论点，当选。

D项：仅说明恐龙灭亡时黏土层铀元素含量高，不能削弱题干论点，排除。

故本题选C。

84

.【答案】D

【解析】由“先让自己忍住3秒钟，然后再想想对方为什么会这样，然后想自己的错误”可知A、B项错误。

题干并未提及向别人倾诉能保持一生快乐，C项错误。

由“就拿笔写下来，这样一个过程你也慢慢冷静了”可知D项正确。

故本题选D。

85

.【答案】B

【解析】本题考查加强类。

第一步：分析题干论点论据。

论点：一种生物的灭绝或许是另一种生物崛起的福音。

论据：某研究小组对200余种鳄形目动物化石进行分析后发现，如果不是这些身长可达12米、称霸海洋的史前巨鳄（如生存于白垩纪晚期的北美洲恐鳄）在距今1.45亿年前大规模灭绝，现代海龟的祖先生存机会将微乎其微。

第二步：分析选项，确定答案。

A项：说明史前巨鳄和现代海龟生存时期不同，能够加强题干论点，排除。

B项：史前巨鳄、恐龙等大型物种先后灭亡，与海龟是否因此获得生存机会无关，当选。

C项：史前巨鳄对大型动物存在威胁，因此，史前巨鳄的灭绝为现代海龟保留生存空间，能够加强题干论点，排除。

D项：巨大齿痕表明史前巨鳄对大型动物存在威胁，因此，史前巨鳄的灭绝为现代海龟保留生存空间，能够加强题干论点，排除。

故本题选B。

86

.【答案】C

【解析】本题考查比重比较。

第一步：查找相关材料。题干命题点的对应材料在表格，即第四行数据。

第二步：根据已知条件解题。观察第四行数据可知，2007~2010年间，中医医院占医院总数比重同比下降最快的一年是2009年，为 $13.4\%-13.6\%=-0.2\%$ ，即下降0.2个百分点，其余年份均下降0.1个百分点。

故本题选C。

87

. 【答案】A

【解析】 本题考查增长量计算。

第一步：查找相关材料。题干命题点的对应材料在表格第二行和最后一行，即2009年医院总数为20291家，2010年为20918家，而两年其他类医院所占比重均为2.4%。

第二步：根据已知条件解题。与2009年相比，2010年我国其他类医院增加了 $(20918-20291) \times 2.4\% \approx 600 \times 2.4\% \approx 14$ 家，A项与之最接近。

故本题选A。

88

. 【答案】B

【解析】 本题考查现期比重。

第一步：查找相关材料。题干命题点的对应材料在表格最后一列和柱形图，即2010年医院总数为20918家，专科医院占医院总数的比重为18.9%；政府办专科医院占专科医院总数的比重为35.6%。

第二步：根据已知条件解题。2010年我国政府的专科医院有 $20918 \times 18.9\% \times 35.6\% \approx 20900 \times 20\% \times 35\% = 1463$ 家，B项与之最接近。

故本题选B。

89

. 【答案】A

【解析】 本题考查平均量比较。

第一步：查找相关材料。题干命题点的对应材料在文字材料和表格，即2010年综合医院的接待诊疗人次是位居第二的中医医院诊疗人次的4.6倍；2010年综合医院占医院总数的比重为65.4%，中医医院占医院总数的比重为13.3%。

第二步：根据已知条件解题。题干所求为 $\frac{\text{综合医院诊疗人次}}{\text{综合医院数}} \div \frac{\text{中医医院诊疗人次}}{\text{中医医院数}}$ ，根据2010年医院数总量一致，可用占比直接比较，即 $\frac{\text{综合医院诊疗人次}}{\text{综合医院数占比}} \div \frac{\text{中医医院诊疗人次}}{\text{中医医院数占比}} = \frac{\text{综合医院诊疗人次}}{\text{中医医院诊疗人次}} \times \frac{\text{中医医院数占比}}{\text{综合医院数占比}}$ ，列式为 $4.6 \times \frac{13.3\%}{65.4\%} \approx 4.6 \times 0.2 = 0.92$ 倍，A项与之最接近。

故本题选A。

90

. 【答案】D

【解析】 本题考查综合分析。

A项错误：根据表格第二行可知，2008年医院总数（19712家）小于2007年医院总数（19852家），即2008年医院总数下降，排除。

B项错误：根据文字材料可知，2010年我国医院接待诊疗20.40亿人次，比上年增长1.18亿人次，则2009年全国医院共接待诊疗者 $20.4-1.18=19.22$ 亿人次，排除。

C项错误：根据表格和柱形图可知，2010年医院总数为20918家，中医医院占比为13.3%；政府办医院占医院总数的比重为46%，中医医院中政府办占比为81.2%，因此2010年中医医院占政府办医院的比重为 $\frac{20918 \times 13.3\% \times 81.2\%}{20918 \times 46\%} \approx \frac{13\% \times 81\%}{46\%} \approx \frac{10\%}{46\%} < 50\%$ ，排除。

D项正确：现期比重>基期比重说明部分增速>总体增速。根据表格可知，与2006年相比，2010年专

科医院占比有所上升（ $18.9\% > 15.7\%$ ），则2010年专科医院增速高于医院总数增速。同理，与2006年相比，2010年综合医院占比有所下降（ $65.4\% < 68.2\%$ ），则2010年综合医院增速低于医院总数增速，即专科医院增速高于综合医院，当选。

故本题选D。

91

. 【答案】C

【解析】 本题考查比重比较。

第一步：查找相关材料。题干命题点的对应材料在表格，即第四行数据。

第二步：根据已知条件解题。观察第四行数据可知，2007~2010年间，中医医院占医院总数比重同比下降最快的一年是2009年，为 $13.4\% - 13.6\% = -0.2\%$ ，即下降0.2个百分点，其余年份均下降0.1个百分点。

故本题选C。

92

. 【答案】A

【解析】 本题考查增长量计算。

第一步：查找相关材料。题干命题点的对应材料在表格第二行和最后一行，即2009年医院总数为20291家，2010年为20918家，而两年其他类医院所占比重均为2.4%。

第二步：根据已知条件解题。与2009年相比，2010年我国其他类医院增加了 $(20918 - 20291) \times 2.4\% \approx 600 \times 2.4\% \approx 14$ 家，A项与之最接近。

故本题选A。

93

. 【答案】B

【解析】 本题考查现期比重。

第一步：查找相关材料。题干命题点的对应材料在表格最后一列和柱形图，即2010年医院总数为20918家，专科医院占医院总数的比重为18.9%；政府办专科医院占专科医院总数的比重为35.6%。

第二步：根据已知条件解题。2010年我国政府的专科医院有

$20918 \times 18.9\% \times 35.6\% \approx 20900 \times 20\% \times 35\% = 1463$ 家，B项与之最接近。

故本题选B。

94

. 【答案】A

【解析】 本题考查平均量比较。

第一步：查找相关材料。题干命题点的对应材料在文字材料和表格，即2010年综合医院的接待诊疗人次是位居第二的中医医院诊疗人次的4.6倍；2010年综合医院占医院总数的比重为65.4%，中医医院占医院总数的比重为13.3%。

第二步：根据已知条件解题。题干所求为 $\frac{\text{综合医院诊疗人次}}{\text{综合医院数}} \div \frac{\text{中医医院诊疗人次}}{\text{中医医院数}}$ ，根据2010年医院数总量一致，可用占比直接比较，即 $\frac{\text{综合医院诊疗人次}}{\text{综合医院数占比}} \div \frac{\text{中医医院诊疗人次}}{\text{中医医院数占比}} = \frac{\text{综合医院诊疗人次}}{\text{中医医院诊疗人次}} \times \frac{\text{中医医院数占比}}{\text{综合医院数占比}}$ ，列式为 $4.6 \times$

$\frac{13.3\%}{65.4\%} \approx 4.6 \times 0.2 = 0.92$ 倍，A项与之最接近。

故本题选A。

95

.【答案】D

【解析】本题考查综合分析。

A项错误：根据表格第二行可知，2008年医院总数（19712家）小于2007年医院总数（19852家），即2008年医院总数下降，排除。

B项错误：根据文字材料可知，2010年我国医院接待诊疗20.40亿人次，比上年增长1.18亿人次，则2009年全国医院共接待诊疗者 $20.4 - 1.18 = 19.22$ 亿人次，排除。

C项错误：根据表格和柱形图可知，2010年医院总数为20918家，中医医院占比为13.3%；政府办医院占医院总数的比重为46%，中医医院中政府办占比为81.2%，因此2010年中医医院占政府办医院的比重为 $\frac{20918 \times 13.3\% \times 81.2\%}{20918 \times 46\%} \approx \frac{13\% \times 81\%}{46\%} \approx \frac{10\%}{46\%} < 50\%$ ，排除。

D项正确：现期比重>基期比重说明部分增速>总体增速。根据表格可知，与2006年相比，2010年专科医院占比有所上升（18.9%>15.7%），则2010年专科医院增速高于医院总数增速。同理，与2006年相比，2010年综合医院占比有所下降（65.4%<68.2%），则2010年综合医院增速低于医院总数增速，即专科医院增速高于综合医院，当选。

故本题选D。

96

.【答案】C

【解析】本题考查比重比较。

第一步：查找相关材料。题干命题点的对应材料在表格，即第四行数据。

第二步：根据已知条件解题。观察第四行数据可知，2007~2010年间，中医医院占医院总数比重同比下降最快的一年是2009年，为 $13.4\% - 13.6\% = -0.2\%$ ，即下降0.2个百分点，其余年份均下降0.1个百分点。

故本题选C。

97

.【答案】A

【解析】本题考查增长量计算。

第一步：查找相关材料。题干命题点的对应材料在表格第二行和最后一行，即2009年医院总数为20291家，2010年为20918家，而两年其他类医院所占比重均为2.4%。

第二步：根据已知条件解题。与2009年相比，2010年我国其他类医院增加了 $(20918 - 20291) \times 2.4\% \approx 600 \times 2.4\% \approx 14$ 家，A项与之最接近。

故本题选A。

98

.【答案】B

【解析】本题考查现期比重。

第一步：查找相关材料。题干命题点的对应材料在表格最后一列和柱形图，即2010年医院总数为20918

家，专科医院占医院总数的比重为18.9%；政府办专科医院占专科医院总数的比重为35.6%。

第二步：根据已知条件解题。2010年我国政府的专科医院有

$20918 \times 18.9\% \times 35.6\% \approx 20900 \times 20\% \times 35\% = 1463$ 家，B项与之最接近。

故本题选B。

99

.【答案】A

【解析】本题考查平均量比较。

第一步：查找相关材料。题干命题点的对应材料在文字材料和表格，即2010年综合医院的接待诊疗人次是位居第二的中医医院诊疗人次的4.6倍；2010年综合医院占医院总数的比重为65.4%，中医医院占医院总数的比重为13.3%。

第二步：根据已知条件解题。题干所求为 $\frac{\text{综合医院诊疗人次}}{\text{综合医院数}} \div \frac{\text{中医医院诊疗人次}}{\text{中医医院数}}$ ，根据2010年医院数总量一致，可用占比直接比较，即 $\frac{\text{综合医院诊疗人次}}{\text{综合医院数占比}} \div \frac{\text{中医医院诊疗人次}}{\text{中医医院数占比}} = \frac{\text{综合医院诊疗人次}}{\text{中医医院诊疗人次}} \times \frac{\text{中医医院数占比}}{\text{综合医院数占比}}$ ，列式为 $4.6 \times \frac{13.3\%}{65.4\%} \approx 4.6 \times 0.2 = 0.92$ 倍，A项与之最接近。

故本题选A。

100

.【答案】D

【解析】本题考查综合分析。

A项错误：根据表格第二行可知，2008年医院总数（19712家）小于2007年医院总数（19852家），即2008年医院总数下降，排除。

B项错误：根据文字材料可知，2010年我国医院接待诊疗20.40亿人次，比上年增长1.18亿人次，则2009年全国医院共接待诊疗者 $20.4 - 1.18 = 19.22$ 亿人次，排除。

C项错误：根据表格和柱形图可知，2010年医院总数为20918家，中医医院占比为13.3%；政府办医院占医院总数的比重为46%，中医医院中政府办占比为81.2%，因此2010年中医医院占政府办医院的比重为 $\frac{20918 \times 13.3\% \times 81.2\%}{20918 \times 46\%} \approx \frac{13\% \times 81\%}{46\%} \approx \frac{10\%}{46\%} < 50\%$ ，排除。

D项正确：现期比重 > 基期比重说明部分增速 > 总体增速。根据表格可知，与2006年相比，2010年专科医院占比有所上升（18.9% > 15.7%），则2010年专科医院增速高于医院总数增速。同理，与2006年相比，2010年综合医院占比有所下降（65.4% < 68.2%），则2010年综合医院增速低于医院总数增速，即专科医院增速高于综合医院，当选。

故本题选D。