

2022 年江西省考财经管理真题（回忆版）

第一部分 财政学

一、单项选择题

1. 国债依存度是指（ ）。

- A. 当年国债发行额占当年财政收入的比重
- B. 当年国债余额占当年财政支出的比重
- C. 当年国债发行额占当年财政支出的比重
- D. 当年国债累计余额占当年GDP 的比重

【答案】根据定义，国债依存度等于当年国债发行额/财政支出，正确选项为C。选项D 是国债负担率的定义。

未眠小技巧：所谓依存，从字面上理解，就是日常支出依靠什么。国债依存度意味着，财政支出在多大程度上依靠国债。因此，国债依存度等于当年国债发行额/财政支出。所谓偿债，从字面上理解，就是年度收入偿还所欠债务。国债偿债率意味着，财政收入的绝大部分用于还债。因此，国债偿债率等于当年还本付息额/财政收入。

2. 国债债务率的计算公式是（ ）。

- A. 国债债务率=当年国债发行额/当年GDP
- B. 国债债务率=财政赤字率/GDP 增长率
- C. 国债债务率=当年国债发行额/财政支出
- D. 国债债务率=当年还本付息额/财政收入

【答案】根据定义，国债债务率等于财政赤字率/GDP 增长率，正确选项为B。

3. 发行主体不预先确定发行条件，而是委托销售网点和代理销售机构相机确定，且可随时调整发行条件，调节发行流量的国债发行方式是（ ）

- A. 公募招标发行
- B. 承购包销发行
- C. 随买发行
- D. 私募发行

【答案】题干符合随买发行的定义，正确选项为C。

4. 政府在为自然垄断产品定价时，会产生企业亏损问题的定价方法是（ ）

- A. 边际成本定价
- B. 二部定价

C.平均成本定价

D.固定成本与变动成本定价

【答案】自然垄断行业，以电信行业为例，初始投资极大，但是增加一个电信用户的成本极低，意味着边际成本很低（与初始投资相比，边际成本可以视为0），由于初始投资极大，增加一个用户的平均成本大于边际成本（平均成本，要分摊初始投资额），如果采用边际成本定价（就是电信服务定价为0），会导致电信公司亏损。正确选项为A。

5.作为衡量财政活动规模的指标，（ ）占GDP的比重更能反映财政的功能。

A.财政收入

B.财政支出

C.国债

D.财政赤字

【答案】衡量财政活动规模，财政支出指标相对财政收入指标可以提供更多、更重要的信息，主要原因有四个：一是财政支出指标体现财政集中程度。二是财政分配最终完成于财政支出。三是财政收入和财政支出相互搭配。四是财政支出可以反映政府债务余额的变化。正确选项为B。

6.下列项目不属于投资性支出的是（ ）。

A.财政部对于高铁轨道建设的资金支持

B.农村农业部对农村水利工程的资金支持

C.国家对邻国自然灾害的捐款支出

D.国家发展与改革委员会为长江三峡工程的某项技术论证所提供的资金支持

【答案】投资性支出是一种长期支出，一般会形成固定资产，用于长期使用。ABD选项都是长期支出，并形成固定资产（无形资产）。C选项属于捐赠，是一种转移性支出。

7.以下属于绿箱补贴的是（ ）。

A.根据光伏出口绩效提供的补贴

B.对高新技术企业给予工业研究成本80%的研究补贴

C.对环保改造项目给予改造工程费用15%的一次性补贴

D.因使用国产汽车给予的补贴

【答案】本次难度较大，A选项是出口补贴，D选项是进出替代补贴，都属于禁止性补贴，可以排除。B选项和C选项，是针对科研和环保改造的补贴，都属于绿箱补贴的范畴，但是科研和环保改造的补贴不能超过上限，根据法律规定，对高新技术企业给予的研究补贴不能超过工业研究成本75%，对环保改造项目给予的一次性补贴不能超过改造工程费用的20%。因此，B选项虽然属于绿箱补贴，但是补贴比例超过上限。正确答案为C。

4.刺激性税收支出可分为（ ）。

- A.针对特定纳税人的税收支出
- B.针对特定税基的税收支出
- C.针对特定课税对象的税收支出
- D.针对特定起征点的税收支出

【答案】刺激性税收支出可分为针对特定纳税人（如残疾人）和特定纳税对象（和农林牧渔）的税收支出。

5.关于供给侧结构性改革，下列说法正确的是（ ）

- A.....
- B.....
- C.....
- D.供给侧结构性改革的理论基础与供给学派一致。

【答案】重点分析 D 选项，说到供给学派，稍微懂一点经济学思想流派的人，听到供给学派，应该能够联想到石油减产，联想到AD-AS 曲线移动，想到滞涨。供给学派的核心主张是减税（是不是又想到了拉弗曲线）。供给侧结构性改革是我国的经济政策，主要解决产业结构性问题，我的理论基础当然是马克思主义经济理论，怎么可能与供给学派一致呢？显然，D 选项是错误的。

6.紧缩性财政政策手段包括（ ）。

- A.增加税收
- B.减少税收
- C.增加财政支出
- D.减少财政支出

第二部分 经济学

一、单项选择题

1.在达到消费均衡时，消费者（ ）。

- A.在各种商品上的支出相同
- B.在各种商品上的消费数量相同
- C.从各种商品中获得的效用相同
- D.花在各种商品上的每一元钱都具有相同的边际效用

【答案】根据基数效用理论，消费者均衡的一阶条件可以改写为： $MU_1/P_1=MU_2/P_2=.....$

$=MU_n/P_n=\lambda$ ，其经济学含义是，消费者花在各种商品上的每一元钱具有相同的边际效用，即货币的边际效用相等。正确选项为D。

2.吉芬商品一定是（ ）

- A.劣等商品 B.必需品 C.奢侈品 D.正常商品

【答案】当价格上涨的，吉芬商品的收入效应（+）与替代效应（-）方向相反，且收入效应的作用更大，导致需求上升。由于收入效应（+），因此吉芬商品一定劣等商品（低档商品）。正确选项为A。

3.下列长期生产函数中，规模报酬递增的是（ ）

- A. $Q(L, K) = aL + bK$
B. $Q(L, K) = AL^{0.5}K^{0.5}$
C. $Q(L, K) = AL^{0.3}K^{0.5}$
D. $Q(L, K) = AL^{0.6}K^{0.7}$

【答案】规模报酬递增的数学公式为： $Q(nL, nK) > nQ(L, K)$ 。为了便于理解，设 $n=2$ 。带入A选项，可得 $Q(2L, 2K) = 2Q(L, K)$ ，即规模报酬不变。带入B选项，可得 $Q(2L, 2K) = 2Q(L, K)$ ，即规模报酬不变。带入C选项，可得 $Q(2L, 2K) < 2Q(L, K)$ ，即规模报酬递减。带入D选项，可得 $Q(2L, 2K) > 2Q(L, K)$ ，即规模报酬递增。实际上，B、C、D三个选项为柯布—道格拉斯生产函数，当满足 $\alpha + \beta > 1$ 时，柯布—道格拉斯生产函数表现为规模报酬递增。本题正确选项为D。

4.动的边际产出为 $200-L$ ，生产产品的市场价格为200，劳动者报酬为200，请问劳动要素投入是多少（ ）

- A. 99
B. 199
C. 159
D. 299

【答案】直接带入公式： $w = p \times MP$ ， $200 = 200 \times (200 - L)$ ，计算可以得到 $L = 199$ ，选择B。

5.劳动的市场供给曲线向右上方倾斜的，这是因为（ ）。

- A. 单个消费者的劳动供给曲线向右上方倾斜
B. 单个消费者的劳动供给曲线向后弯曲
C. 总的市场劳动供给一般随着工资的上升而增加
D. 单个消费者的劳动供给曲线并不影响市场劳动供给曲线

【答案】劳动的市场供给曲线向右上方倾斜是因为市场劳动供给一般随着工资的上升而增加。AB 两个选项，是单个劳动供给曲线，与题干考察的劳动市场供给曲线关系不大。

6. () 的基本内容是：只要财产权是明确的，并且交易成本为零或很小，则无论在开始时将财产权赋予谁，市场均衡的最终结果都是有效率的。

- A. 帕累托定理
- B. 欧拉定理
- C. 恩格尔定理
- D. 科斯定理

【答案】科斯定理表明，只要财产权是明确的，并且交易成本为零或很小，则无论在开始时将财产权赋予谁，市场均衡的最终结果都是有效率的。帕累托定理是指，世界上充满了不平衡性，比如20%的人口拥有80%的财富，20%的员工创造了80%的价值，80%的收入来自20%的商品，80%的利润来自20%的顾客。恩格尔定理是指，随着家庭收入的增加，家庭收入中（或总支出中）用来购买食物的支出份额则会下降。正确答案为D。

7. 消费者在购买汽车盗抢险之后经常不锁车门属于 () 的现象。

- A. 外部性
- B. 逆向选择
- C. 道德风险
- D. 非竞争性

【答案】消费者在购买汽车盗抢险之后经常不锁车门属于事后信息不对称导致的道德风险。正确答案为C。

8. 根据凯恩斯总需求理论，如果家庭的边际消费倾向为 0.8，政府购买增加 100 亿元，那么总需求增加 ()。

- A. 20 亿元
- B. 80 亿元
- C. 100 亿元
- D. 500 亿元

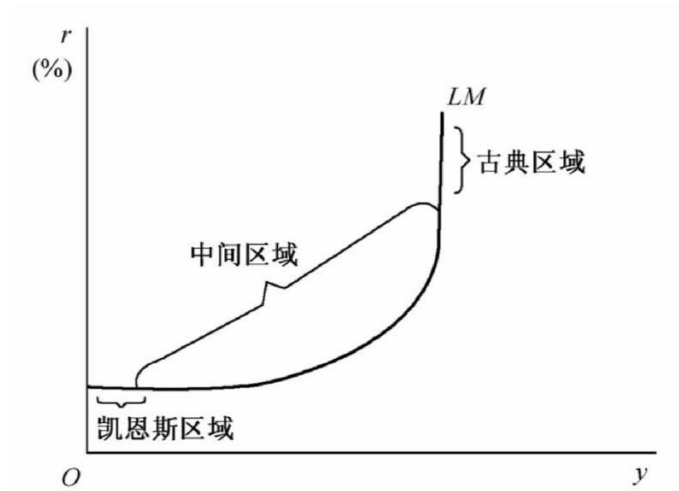
【答案】政府购买乘数 $k_g = 1 / (1 - \beta) = 5$ 。因此政府购买增加100 亿元，总需求 y 增加 500 亿元。

9. “古典区域”是指LM 曲线呈 () 的区域。

- A. 水平状态

- B.垂直状态
- C.向右上方倾斜
- D.向右下方倾斜

【答案】根据典型LM曲线



可知“古典区域”是指LM曲线呈垂直状态的区域。

10. 凯恩斯认为，出于投资动机的货币需求量主要取决于（ ）。其值越大，货币需求量越小。
- A.收入
 - B.支出
 - C.价格
 - D.利率

【答案】出于投资动机的货币需求量，即货币的投机需求，与利率负相关。当利率较大时，理性人会购买有价证券，留下少量的货币。

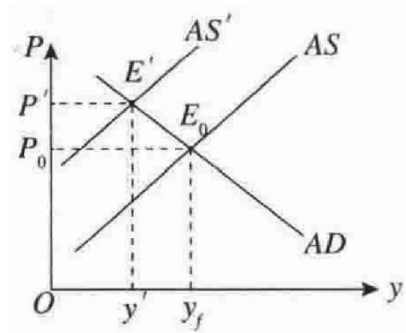
- 11.其他条件不变，技术进步会使得AS曲线（ ）。
- A. 向左移
 - B. 不变化
 - C. 斜率增加
 - D. 向右移

【答案】AS曲线，即总供给曲线，总供给是劳动力、资本、能源、技术的增函数，劳动力、资本、能源、技术的增加，都有助于增加总供给，即导致AS曲线向右移。因此，本题选D。

- 12.下列哪一项会引起物价水平上升和实际国民收入下降？（ ）。
- A. 总需求曲线在给定的短期总供给曲线右上方移动

- B. 短期总供给曲线沿着不变的总需求曲线左移
- C. 长期总供给曲线右移
- D. 央行增加货币供给量

【答案】A 选项，总需求曲线向右上方移动，会导致物价水平上升和实际国民收入增加。
 B 选项，符合下图的情况，会导致物价水平上升和实际国民收入下降，即滞胀。C 选项，长期总供给曲线（垂直线）右移，会导致物价水平下降和实际国民收入增加。D 选项，央行增加货币供给量，与A 选项的情形一致。因此，本题选B。

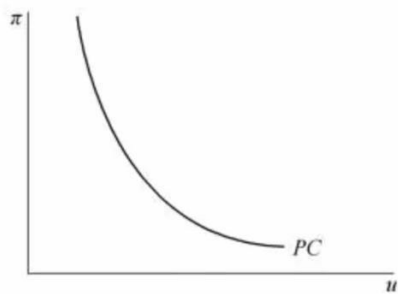


13. 菲利普斯曲线描述的通货膨胀率与失业率之间的关系是（ ）。

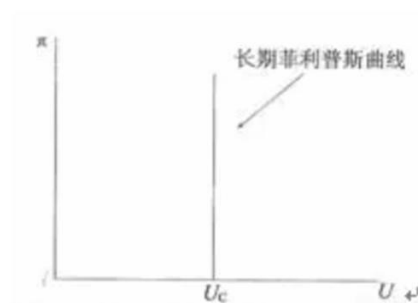
- A. 正相关
- B. 负相关
- C. 倒 U 型
- D. L 型

【答案】菲利普斯曲线表明，宏观经济短期存在通货膨胀率与失业率的两难选择，通货膨胀率低，则失业率高，如下图（左）所示。本题选择B 选项。

注：此题不严谨，从长期看，菲利普斯曲线是一条垂直线，如下图（右）所示。



短期菲利普斯曲线



长期菲利普斯曲线

二、多项选择题

1.完全竞争市场的基本特征是（ ）。

- A.市场上有大量的卖主和买主，从而厂商价格既定
- B.产品同质，可以完全互相替代
- C.投入要素可以自由流动
- D.信息充分

【答案】完全竞争市场四大特征，价格接受者、产品同质、无市场壁垒、信息完全。其中，A选项对应价格接受者，B选项对应产品同质，C选项对应无市场壁垒，D选项对应信息完全。ABCD为正确选项。

2.在IS—LM模型中，引起LM曲线移动的因素包括（ ）。

- A. 名义货币供给量变动
- B. 实际货币供给量变动
- C. 价格水平变动
- D. 产出的变化

【答案】根据LM曲线的函数表达式，

$$r = \frac{ky}{h} - \frac{m}{h}$$

实际货币供给量 m （等于名义货币供给量 M /价格水平 P ）变动会引起LM曲线移动，ABC三个选项正确。D选项产出的变化，是LM曲线移动的经济后果。实际上，引起LM曲线移动就是货币政策调整，对应日常经济生活中的名义货币供给量变动，而名义货币供给量变动，必然引起实际货币供给量变动。在名义货币供给量保持不变的前提下，价格水平变动，也会影响实际货币供给量。因此，ABC三个选项都会影响实际货币供给量 m ，导致LM曲线移动。

3.以下哪些具有自动稳定器的作用（ ）。

- A. 税收
- B. 财政转移支付
- C. 农产品价格维持
- D. 利率

【答案】自动稳定器，亦称内在稳定器，是指经济系统本身存在的一种会减少各种干扰对国民收入冲击的机制，能够在经济繁荣时期自动抑制通胀，在经济衰退时期自动减轻萧

条，无须政府采取任何行动。财政政策的这种内在稳定经济的功能主要通过下述三项制度得到发挥：

(1) 政府税收的自动变化（特别是累进税率，经济繁荣时期税率高，有助于抑制经济；经济衰退时税率低，有助于减轻萧条）。

(2) 政府支出的自动变化（特别是转移支付，经济衰退时期，加大政府转移支付，有助于弥补低收入群体的消费不足，起到维持经济增长的作用）。

(3) 农产品价格维持制度（经济衰退时期，农产品价格下降，政府按照农产品维持价格收购，有助于增加农民收入，激活消费；经济繁荣时期，农产品价格上涨，政府可以减少农产品采购）。

4. 关于小型开放经济的蒙代尔—弗莱明模型，下面说法正确的是（ ）

- A.固定汇率下，财政政策无效
- B.固定汇率下，货币政策无效
- C.浮动汇率下，财政政策无效
- D.浮动汇率下，货币政策无效

【答案】蒙代尔—弗莱明模型的政策效应总结如下：

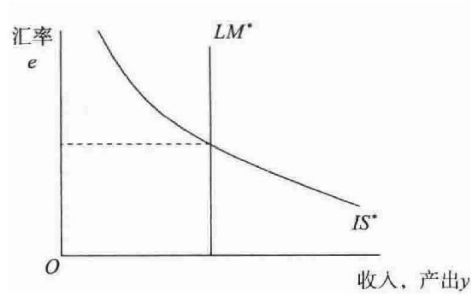
表 18-1 蒙代尔-弗莱明模型：政策效应的总结

政策	汇率制度					
	浮动汇率			固定汇率		
	对以下各项的影响					
	y	e	nx	y	e	nx
财政扩张	—	↑	↓	↑	—	—
货币扩张	↑	↓	↑	—	—	—

说明：本表展示了各种经济政策对收入 y 、汇率 e 和贸易余额 nx 影响的方向。“↑”表示某变量增加；“↓”表示某变量减少；“—”表示无影响。要记住，汇率定义为每单位本国通货兑换的外国通货量（例如，1 美元兑换 100 日元）。

如表所示，固定汇率下，财政政策有效，货币政策无效；浮动汇率下，财政政策无效，货币政策有效。因此，本题选择B、C。

注：上表无需死记硬背，要结合IS*—LM*的图形自行推导。



第三部分 金融学

一、单项选择题

1.使用微信支付功能购买零食，货币执行什么职能？（ ）。

- A.价值尺度
- B.流通手段
- C.支付手段
- D.储藏手段

【答案】B。使用微信支付购买零食，属于一手交钱一手交货的交易，货币执行流通手段的职能。

2.以下那种货币本位制会引发劣币驱逐良币（ ）。

- A.金块本位制
- B.金汇兑本位制
- C.金银双本位制
- D.金银平行本位制

【答案】C。格雷欣法则揭示，当金铸币和银铸币按政府规定的法定比率流通，即双本位制，会发生劣币驱逐良币现象。

由此可以看出，政府管得越多，效果可能适得其反。相反地，政府不规定比价的金银平行本位制，就不会发生劣币驱逐良币现象。

3.代表国家行使对国有商业银行等重要金融企业出资人的权利和义务的是（ ）。

- A.银保监会
- B.中国银行
- C.中国汇金公司
- D.中国人民银行

【答案】C。常识类题型。中央汇金投资有限责任公司为国有独资公司，根据国家授权，对国有重点金融企业进行股权投资，以出资额为限代表国家依法对国有重点金融企业行使出资

人权利和履行出资人义务、维护金融稳定、防范和化解金融风险、高效运用外汇储备、实现国有金融资产保值增值。

本次也可以采用排除法做，A选项银保监会和D选项中国人民银行是政府机构，排除。B选项，中国银行，属于商业银行，排除。

4.名义利率为8%，预期通货膨胀率为4%，则实际利率水平为（ ）。

- A.4%
- B.5%
- C.3%
- D.3.85%

【答案】C。根据公式

$$i = \frac{1+r}{1+p} - 1$$

可以计算出实际利率=3.85%。

未眠提示：公式不要硬记，要理解。你有1元钱，银行的利率是10%，那么你一年后有1.1元，但是由于通货膨胀（假设为5%），一年后1.1元的购买力缩减了，其购买力相当于一年前的1.1元（ $1 \div 1+5\%$ ）=1.0476元，则实际上你存钱的净收益是0.0476元，实际利率时4.76%。

1+名义利率=（1+实际利率）（1+通货膨胀率）

5.X公司购买一台大型设备，付款方式为现在付10万元，以后每隔一年付10万元，共计付款5次。假设利率为5%，如果打算现在一次性付款应该付多少？

- A. 45.45万
- B. 48.87万
- C. 47.12万
- D. 50万

【答案】A。方法一：本题可以采用现金现值系数做，列式 $PV=10+10 \times (P/A, 4, 5\%)$ ，查表 $(P/A, 4, 5\%)=3.545$ ，则 $PV=45.45$

方法二：考试中无法查表，需要计算。根据付款方式“现在付10万元，以后每隔一年付10万元，共计付款5次”，即年初付10万不折现；第一年末付10万，折现为 $10/1.05$ ，第二年末付10万，折现为 $10/1.05^2$ ；第三年末付10万，折现为 $10/1.05^3$ ；第四年末付10万，折现为 $10/1.05^4$ ，五次折现加总 $=10+10/1.05+10/1.05^2+10/1.05^3+10/1.05^4=45.45$ 。

6.凯恩斯认为，出于投资动机的货币需求量主要取决于（ ）。

- A.收入
- B.支出
- C.价格
- D.利率

【答案】D。凯恩斯流动性偏好理论认为，投机动机引起的货币需求与利率负相关。

7.下列哪项不是国际宏观经济学中的不可能三角（ ）。

- A.货币政策独立性
- B.金融账户开放
- C.关税税率调整
- D.固定汇率制

【答案】C。根据图9-2的不可能三角，可以判断C选项不是不可能三角理论的内容。

二、多项选择题

1.我国政策性银行有哪些（ ）。

- A.中国农业发展银行
- B.国家开发银行
- C.中国进出口银行
- D.中国人民银行

【答案】ABC。常识类题型。我国三大政策性银行包括中国农业发展银行、国家开发银行、中国进出口银行。

2.以下属于衍生金融工具的是（ ）。

- A.期权
- B.期货
- C.基金
- D.可转换债券

【答案】ABD。衍生金融工具包括远期、期权、期货、互换等，可转换债券内含期权，是股票衍生工具。有的教材，认为可转换债券是债券，并非衍生金融工具。

3.下关于我国支付清算系统，说法正确的是（ ）。

- A.我国支付清算系统由中国人民银行组织实施

- B. 支付清算系统是商业银行资金结算的“高速通道”
- C. 结算和清算是我国支付清算系统的两个过程
- D. 支付清算系统只是保障资金结算过程的顺利，对经济发展没有影响

【答案】ABC。我国支付清算系统由中国人民银行组织实施，中国人民银行内设支付结算司，专门负责支付清算系统，A选项表述正确。支付清算系统有助于商业银行高效率开展资金结算工作，是交易结算的“高速通道”，B选项表述正确。我国支付清算系统有结算和清算两个过程，C选项表述正确。D选项表述，错误。想想俄乌战争，美国发起金融制裁，将俄罗斯踢出国际结算系统，导致国际贸易无法正常开展，肯定会影响经济发展进度和水平。

4. 外汇储备增加，会导致（ ）。

- A. 基础货币增加
- B. 商业银行存款准备金增加
- C. 基础货币减少
- D. 商业银行存款准备金减少

【答案】AB。常识做题法。

（常识1）外汇储备是我国发行基础货币的重要保障，比如说，我国出口货物到美国，收到美国的1美元，这1美元就是我国发行人民币的基础。因此A选项是对的。

（常识2）企业出口货物收到外汇，到商业银行结汇，商业银行再将外汇卖给中央银行，成为中央银行的外汇储备，商业银行的存款增加，存款准备金随之增加。因此B选项是对的。

（常识3）改革开放以来，我国外汇储备持续增加，我国财富随之积累，基础货币和商业银行存款准备金肯定会增加。

第四部分 会计学

一、单项选择题

1. 甲乙丙3个人投资入股企业，每个人投资100万，作为股本。一年后，公司盈利100万，未分配利润，净资产达到200万。丁现在入股，投入180万，占25%。请问丁实收资本确认多少（ ）。

- A. 100万
- B. 180万
- C. 133.34万
- D. 125万

【答案】A。

2. 某企业2016年12月份销售商品收到货款1000万元，已售出商品未收到的货款400万元，则该企业12月份商品销售收入为（ ）万元。

- A. 1 000 B. 1 300 C. 1 400 D. 1 700

C. 【答案解析】在权责发生制下，12月份应确认的收入=1 000+400=1 400(元)。

3.某会计人员在审核记账凭证时，发现误将2 000元写成200元，尚未入账，一般应采用（ ）改正。

- A.重新编制记账凭证 B.红字更正法
C.补充登记法 D.冲账法

答案：A。如果发现的记账凭证的错误尚未入账，可以重新编制记账凭证。故选A

4.X公司购买一台大型设备，付款方式为现在付10万元，以后每隔一年付10万元，共计付款5次。假设利率为5%，如果打算现在一次性付款应该付多少？

【答案】A。方法一：本题可以采用现金现值系数做，列式 $PV=10+10 \times (P/A, 4, 5\%)$ ，查表 $(P/A, 4, 5\%)=3.545$ ，则 $PV=45.45$

方法二：考试中无法查表，需要计算。根据付款方式“现在付10万元，以后每隔一年付10万元，共计付款5次”，即年初付10万不折现；第一年末付10万，折现为 $10/1.05$ ，第二年末付10万，折现为 $10/1.05^2$ ；第三年末付10万，折现为 $10/1.05^3$ ；第四年末付10万，折现为 $10/1.05^4$ ，五次折现加总 $=10+10/1.05+10/1.05^2+10/1.05^3+10/1.05^4=45.45$ 。

二、多项选择题

1.以下哪些交易不会对留存收益产生影响（ ）。

- A.资本公积转增资本 B.盈余公积转增资本
C.提取盈余公积 D.经营利润补亏

【答案】ACD。

2.在下列经济业务中，不影响资产总额的有（ ）。

- A.用银行存款购入原材料
B.向供货单位赊购商品
C.从银行提取现金
D.用银行存款归还应付账款

【答案】AC。A选项，银行存款减少，原材料增加，资产总额不变；

B选项，应收账款增加，主营业务收入增加，资产总额增加；

C选项，银行存款减少，库存现金增加，资产总额不变；

D选项，银行存款减少，应付账款减少，资产总额减少；

