

# 2019年6月23日江西省高校毕业生“三支一扶”招募考试试卷

## 《行政职业能力和农村工作能力测验》

### 第一部分 客观题

本部分为客观题，共50道题。根据题目要求，在四个选项中选出一个最恰当的答案。

- 1.2019年5月20日至22日,习近平总书记亲临江西视察指导工作,对江西提出的殷切希望是( )。
- A.奋力开启建设富裕美丽幸福现代化江西新征程
  - B.让老区人民过上更加美好的生活
  - C.弘扬长征精神,率先在中部地区崛起
  - D.加快革命老区高质量发展、推动中部地区崛起
- 2.5月31日,“不忘初心、牢记使命”主题教育工作会议在北京召开。下列不属于这次主题教育根本任务的是( )。
- A.深入学习贯彻新时代中国特色社会主义思想
  - B.弘扬爱国主义的优良传统
  - C.锤炼忠诚干净担当的政治品格
  - D.团结带领全国各族人民为实现伟大梦想共同奋斗
- 3.关于我国2018年宏观经济指标,下列表述错误的是( )。
- A.经济总量突破80万亿元
  - B.国内生产总值增长6.6%
  - C.居民消费价格上涨2.1%
  - D.调查失业率稳定在5%左右
- 4.2019年“中央一号文件”提出以土地制度改革为牵引推进农村改革,概括为“三个坚持、两个允许、两个加快和一个推开”。关于“三个坚持”,下列表述错误的是( )。
- A.坚持农地农用、防止非农化
  - B.坚持农村土地集体所有、不搞私有化
  - C.坚持土地流转、实行农村土地适度规模经营
  - D.坚持保障农民土地权益、不得以退出承包地和宅基地作为农民进城落户条件
- 5.根据《乡村振兴战略规划(2018-2022年)》,下列表述不正确的是( )。
- A.2022年农村全面实现脱贫
  - B.分两个阶段实现第二个百年奋斗目标
  - C.2020年农村全面实现小康
  - D.为基本实现农业农村现代化开好局、起好步、打好基础
- 6.当前全球移动通信基本上是以十年一代的规律进行演进。关于移动通信技术,下列表述不正确的是



15. “两不愁三保障”是我国在易地扶贫搬迁中提出的主要目标。下列不属于“三保障”内容的是（ ）。
- A.义务教育有保障 B.基本医疗有保障 C.住房安全有保障 D.饮水安全有保障
- 16.下列行为成立以危险方法危害公共安全罪的是（ ）。
- A.赵某醉酒后驾车，刚开出10分钟就撞死1人  
B.李某在繁华路段飙车，2名老人受到惊吓致心脏病发作死亡  
C.张某驾车在公路转弯处高速行驶，撞翻相向行驶车辆，致3人死亡  
D.华某驾车在道路上横冲直撞，撞翻数辆他人所驾汽车，致4人死亡
- 17.下列不属于农业现代化基本内容的是（ ）。
- A.农业生产手段现代化 B.农业生产技术现代化  
C.农业生产工具现代化 D.农业生产管理现代化
- 18.有关农村宅基地，下列表述错误的是（ ）。
- A.农村村民一户只能拥有一处宅基地  
B.村民经审批取得宅基地后，拥有宅基地的使用权和所有权  
C.农村村民出租住房或出卖住房后，再次申请宅基地的，不予批准  
D.宅基地是指建了房屋、建过房屋或者决定用于建造房屋的土地
- 19.港珠澳大桥是世界上最长的跨海大桥，海中桥隧主体工程由粤、港、澳三地共同建设，采取“三地三检”通关模式，正式开通时间是（ ）。
- A.2018年9月22日 B.2018年10月26日  
C.2018年10月23日 D.2018年11月20日
- 20.党的十八大以来，我国农村加快构建新型农业经营体系。关于合作社，下列表述错误的是（ ）。
- A.合作社是封闭型的经济组织 B.合作社是有特殊原则的合作经济组织  
C.合作社是劳动者的联合组织 D.合作社是一种特殊的服务型企业
- 21.村民甲欠村民乙两万元钱，村民乙欠村民丙两万元钱，乙丙之间就乙对甲的债权转让事项达成了一致，但没有通知甲。关于乙丙之间的债权转让，下列说法正确的是（ ）。
- A.如果甲不履行债务，则丙有权向法院起诉，要求乙承担违约责任  
B.如果甲不履行债务，则乙有权向法院起诉，要求甲承担违约责任  
C.如果甲不履行债务，则丙有权向法院起诉，要求甲承担违约责任  
D.乙丙之间债权转让有效
- 22.我国农村实行村民自治。有关村民自治，下列表述错误的是（ ）。
- A.民主评议 B.民主决策 C.民主管理 D.民主监督
- 23.关于有机蔬菜，下列表述不正确的是（ ）。
- A.无农药无化肥无激素无转基因的蔬菜  
B.温室大棚也能种植出有机蔬菜  
C.与普通蔬菜相比，有机蔬菜保存时间较久，不易腐烂

D.农民在自家地里种植的蔬菜

24.今年召开的全国生态环境保护工作会议指出，打好碧水保卫战是2019年的重点工作。打赢这一战役的重要保障是（ ）。

- A.黄河流域综合治理
- B.长江流域河道治理
- C.江河湖海综合治理
- D.内河内湖生态治理

25.关于二十四节气，下列表述错误的是（ ）。

- A.惊蛰、小满和处暑是反映物候现象的节气
- B.夏至是北半球一年中白昼最长的一天
- C.立春、秋分是反映季节的节气
- D.白露、寒露、霜降反映气温逐渐下降的过程和程度

26.现在不少博物馆在展品和展厅里设置传感器，收集观众停留时间和是否拍照等行为数据，以此作为改进展览的依据。法国卢浮宫用蓝牙传感器采集观众参观行为数据，分析短期停留和长期停留的参观者的不同参观模式，为治理馆内拥堵提供决策依据。陕西历史博物馆通过大数据分析发现，观众对有文字的展品、图版、成套的文物更感兴趣，驻足时间明显更长。

以上文字意在说明（ ）。

- A.大数据可以为博物馆改善工作提供依据
- B.数字技术可以提升博物馆等文化场所的管理和服务水平
- C.数字技术在世界各地的博物馆中都得到了运用
- D.现有博物馆可以运用数字技术改成数字博物馆

27.共享经济都习惯把潜在收益留给自己，把潜在风险转嫁给他人。比如许多单车企业只管投放，而不管投放的质量，不管后续的管理，有的故意降低成本、追求数量，甚至任由问题单车堆积，这就是一种不负责任的态度。谁获益，谁买单。管理部门不能总是默默无闻地收拾烂摊子，而必须通过强硬措施进行回应。既然某些单车企业总是回避短板，甚至公然违背“禁投令”，那么就应该依法惩处，让企业承担必要的风险和代价。

以上文字意在强调（ ）。

- A.必须加强对共享经济组织的公共管制
- B.必须加强共享单车企业的市场投放管理
- C.应让共享经济组织承担必要的代价和风险
- D.共享经济组织管理应遵循“谁获益，谁买单”的原则

28.政府服务窗口的隔离玻璃参照银行柜台标准而设，曾在建设“一窗式”服务中发挥了一定的作用。但是随着政府从管理型向服务型转变，隔离玻璃成为一面“有形”的墙，不仅隔开了与百姓的接触，还可能隔开民心。\_\_\_\_\_。玻璃墙的存在很大程度暴露了部分单位服务意识没跟上。这种心态是一堵让政府部门与群众产生隔阂的“心墙”，如果不拆除，“门难进，脸难看，话难听”及吃拿卡要等问题就难以解决，群众就不满意、不高兴、不答应。

填入划横线部分最恰当的一项是（ ）。

- A.去除玻璃墙，总归是一种趋势

- B.玻璃墙隔开了群众与政府部门的联系
- C.拆除这堵墙就显得尤为重要了
- D.相对于有形的玻璃墙，拆除心中无形的玻璃墙更重要

29.“文明是多彩的，人类文明因多样才有交流互鉴的价值。”“文明是平等的，人类文明因平等才有交流互鉴的前提。”当今世界，不同文明之间，是冲突还是对话、对抗还是合作，已经成为关乎人类前途命运的重大课题，也是人类文明何去何从的“时代之问”。在一些国家之间，诸多历史的隔阂需要消除，诸多现实的误解需要澄清，诸多人为的偏见更应该摒弃。事实上，能战胜“文明较量”“文明冲突”“文明对抗”的，只能是文明对话、文明交流、文明互鉴。

最适合作为这段文字标题的是（ ）。

- A.多彩多样的文明
- B.文明的冲突
- C.文明的交流互鉴
- D.时代之问

30.①天地之书是文字之本源，即便是文字之书高度发达的今天，读天地之书仍然是人类一刻也不能停息的必修课

②发明了文字之后，读天地之书仍然是人类不可替代的、最重要的活动

③读不懂天地这本大书，也自然就没有文字之书

④向自然学习，是文字出现之前人类唯一的阅读方式，人类经历了漫长的读天地之书的时光

⑤古今中外的名流雅士对此早有精辟的解读，近代思想家严复说：“吾人为学穷理，志求登峰造极，第一要知读无字之书。”

将以上5个句子重新排列，语序正确的是（ ）。

- A.①⑤④②③
- B.④②③①⑤
- C.①④②③⑤
- D.④⑤①②③

31.艺术是以一定的形式为载体对人的感受的呈现和传达，是人的本质力量和自然本性\_\_\_\_\_的一种重要形式。未来人类发展不是在科技牵引下的\_\_\_\_\_，而是按照美的法则建设出来的理想田园。

依次填入划横线部分最恰当的一项是（ ）。

- A.内化 携手同行
- B.呈现 突飞猛进
- C.外化 一意孤行
- D.显现 一枝独秀

32.以文化交流，\_\_\_\_\_亚洲命运共同体，\_\_\_\_\_起亚洲大家庭同呼吸共命运的精神价值，共襄命运共同体谋和平促发展的繁荣盛举。

依次填入划横线部分最恰当的一项是（ ）。

- A.缔造 凝聚
- B.缔结 凝结
- C.结成 凝练
- D.缔约 凝固

33.一座山峰的崛起，挺立的是脊梁；一个政党的勃兴，昂扬的是精神。开天辟地、敢为人先的首创精神，坚定理想、\_\_\_\_\_的奋斗精神，立党为公、执政为民的奉献精神，是中国革命精神之源，也是“红船精神”的深刻内涵。“红船精神”思想深邃、\_\_\_\_\_，是中国共产党人薪火相传的精神源泉、红色基因。

依次填入划横线部分最恰当的一项是（ ）。

- A.百转千回 老而弥坚
- B.坚贞不屈 难能可贵
- C.百折不挠 历久弥新
- D.不屈不挠 弥足珍贵



34.①事实证明，做事若不能慎终，往往会功亏一篑、\_\_\_\_\_；做人若不能慎终，则容易走入歧途、误人误己。

②他在接受了一个创作任务之后，就“破门”而出，“以笔牵马”上坡、上山、上梁，\_\_\_\_\_, 精心挥洒，创作了《转战陕北》这幅名画。

依次填入划横线部分最恰当的一项是（ ）。

- A.徒劳无益 深思熟虑 B.前功尽弃 激情横溢  
C.前途渺茫 信心满怀 D.半途而废 胸有成竹

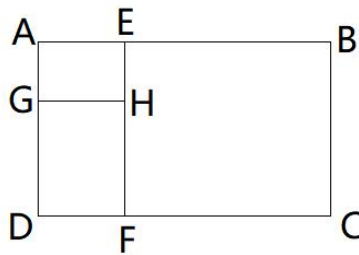
35.①古老的亚洲是人类文明的重要\_\_\_\_\_, 亚洲大陆上不同文明之间的对话和交流从未中断。

②中国领导人的远见与联合国教科文组织的使命\_\_\_\_\_, 全世界所有的国家都应该通过教育、文化、科学、交流和信息等“软实力”携手共进，推动人类的文明进步与世界的和平发展。

依次填入划横线部分最恰当的一项是（ ）。

- A.发源地 不约而同 B.策源地 不期而遇  
C.发祥地 不谋而合 D.起源地 异曲同工

36.设一矩形 ABCD 的长与宽分别为 a、b，点 E 是长边上的黄金分割点，即  $\frac{AE}{EB} = \frac{\sqrt{5}-1}{2}$ ，点 G 是宽边上的黄金分割点，即  $\frac{AG}{GD} = \frac{\sqrt{5}-1}{2}$ ，则矩形 DGHF 与矩形 BCFE 的面积之比为（ ）。

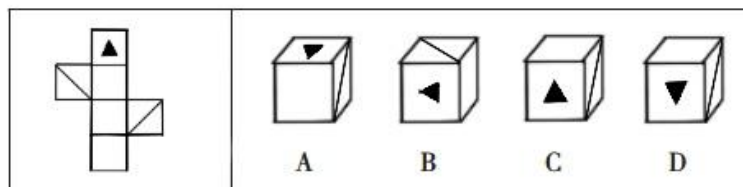


- A.  $(\sqrt{5}-1) : 2$       B.  $(3-\sqrt{5}) : 1$       C.  $(\sqrt{5}-2) : 1$       D.  $(3-\sqrt{5}) : 2$

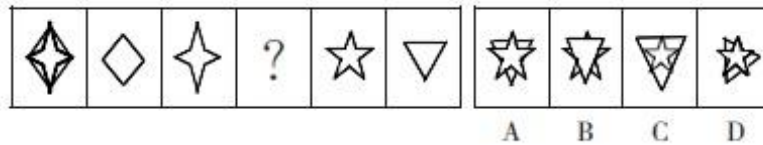
37.某公司经理找甲、乙、丙三位员工面谈，预计与甲谈 10 分钟，与乙谈 8 分钟，与丙谈 5 分钟，为了使谈话时间与等待时间之和最短，则合理安排的最短时间是（ ）。

- A.53 分钟      B.51 分钟      C.41 分钟      D.39 分钟

38.左边给定的是纸盒外表面的展开图，右边哪一项不能由它折叠而成？（ ）



39.从所给的四个选项中，选择最合适的一项填入问号处，使之呈现一定的规律性。



40.制度的反功能指的是该制度实现了系统的某些功能之后而产生的副作用。诸如破坏该系统的内部协调、稳定关系，造成系统内部冲突，对系统良性运行产生破坏作用等现象。

根据上述定义，下列属于制度的反功能的是（ ）。

- A.某单位实行弹性上班制度，结果上班迟到的现象比之前减少了
- B.某公司实行累进制奖励绩效制度，一段时间后觉得不合理就取消了
- C.某高校实行绩效考核，一段时间后引发了教师争抢上课、乱发文章等一系列问题
- D.某外贸公司规定销售额可以提成，结果李某一个月增加了5万元销售额

41.线性文化遗产是世界遗产的一种形式，主要是指在拥有特殊文化资源集合的线形或带状区域内的物质和非物质的文化遗产族群，运河、道路以及铁路线等都是重要的表现形式。

根据上述定义，下列不属于线性文化遗产的是（ ）。

- A.丝绸之路
- B.京杭大运河
- C.茶马古道
- D.黄河故道

42.某班有七名候选人，其中女生四人，分别是A、B、C、D，男生三人分别是E、F、G。现要从七名候选人中选出三人组成参赛团队，且符合以下规则：A和E不能同时入选，B不能和男生同时入选。

如果C和D不入选，那么该参赛团队的组成方式有（ ）。

- A.一种
- B.两种
- C.三种
- D.四种

43.某比赛有四位选手进入复赛，他们分别是小张、小李、小王和小赵。复赛前，有甲、乙、丙、丁四人预测复赛的结果。

甲说：小张第一名。

乙说：小李既不是第一名，也不是第三名。

丙说：小赵的名次在小李的后面。

丁说：小王第四名。

比赛结果显示，四人中只有一人预测错了。

那么，小张、小李、小王和小赵四位选手的名次分别为（ ）。

- A.1、3、2、4
- B.1、2、4、3
- C.2、4、3、1
- D.1、2、3、4

44.信件：邮箱：邮递员

A.学校：教室：教师

B.垃圾：垃圾桶：清洁工

C.顾客：服装店：店长

D.铅笔：卷笔刀：学生

45.乐谱 对于 （ ） 相当于 （ ） 对于 分类

A.钢琴 归类

B.谱曲 信息

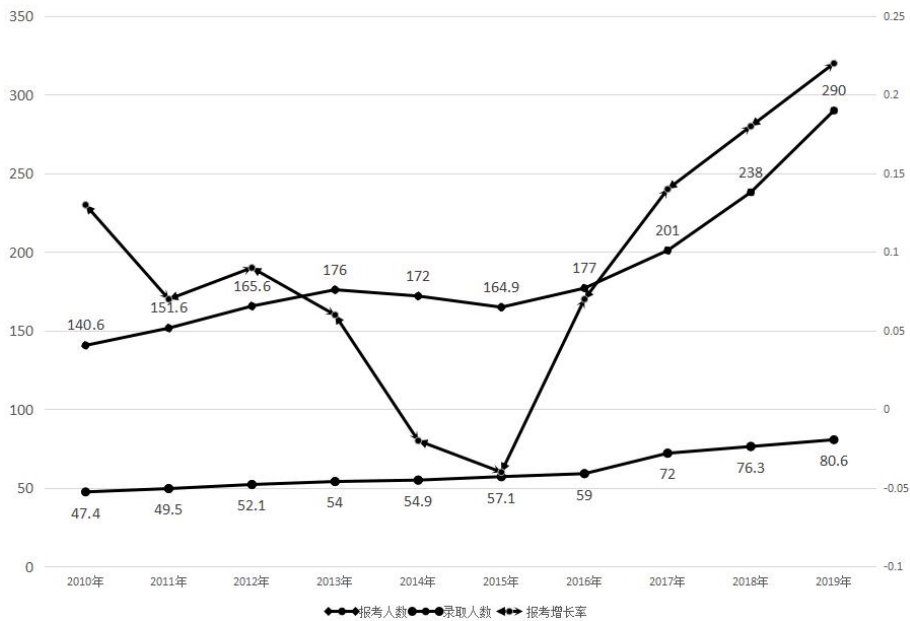
C.五线谱 商品

D.演奏 标准

根据以下资料，回答 46~50 题。

近几年我国研究生报考人数越来越多。统计数据显示，2019 年全国普通高校毕业生 834 万人，而 2019 年研究生报名人数达 290 万，比 2018 年增加了 52 万，增幅达到了 21.8%。尽管每年的招生计划有所增加，但是对于考生来说竞争压力还是越来越大。下面给出 2010~2019 年研究生报考人数、录取人数和报考增长率。

2010~2019 年我国研究生报考人数与录取人数统计 (单位: 万人)



46.2010~2019 年报考人数的年增长率超过 2015~2019 年年均增长率的有 ( )。

- A.2 年                      B.3 年                      C.4 年                      D.5 年

47.2010~2019 年录取率最高的年份是 ( )。

- A.2010 年                      B.2015 年                      C.2016 年                      D.2017 年

48.2019 年未录取人数比 2010 年增长了 ( )。

- A.113.4 万                      B.116.2 万                      C.186 万                      D.120.8 万

49.2010~2019 年报考人数增长率的最高值与最低值之差约为 ( )。

- A.25%                      B.26%                      C.27%                      D.28%

50.根据上述资料，下列表述正确的是 ( )。

- A.2010~2019 年报考人数的增幅不断增大  
 B.2010~2019 年报考人数增速同比回落的年份有 2011 年、2012 年、2013 年、2014 年、2015 年  
 C.2010~2019 年录取人数增速最快的是 2017 年  
 D.2010~2019 年录取人数年均增长率约为 10%



## 第二部分 主观题

本部分为主观题，共 3 道题。请根据题目要求，在答题卡指定区域作答。

### 给定资料 1

互联网技术发展以后，农业科技特派员制度也随之得到深化和发展。从前是一群农民追着一个农业专家跑，期盼得到专家的指导和解答，现在是一群搞栽培、搞温室、搞土壤、搞病虫害防治的资深专家、博士、硕士、科技特派员围着给一户农民解决问题。通过互联网使认识、思想的上层建筑同农业生产的物质基础对接碰撞，实现了智力资源的精准帮扶，让“先富”带动“后富”，最终实现农业科技高质量快速发展的“共同富裕”。这已完全颠覆了传统农业服务模式。

近年来 S 市从高校、科研院所、龙头企业择优选派 200 多名科技专家和管理人员，深入到扶贫工作重点村开展各种科技帮扶活动。2017 年，林科院研究员 H 被选派到大茂村担任科技特派员后，积极开展科技指导服务，主动将其参与完成的“四倍体泡桐种植创制与新品种培育”项目安排在大茂村进行转化，建立了四倍体泡桐科技示范基地 6 亩，引进四倍体泡桐种根种苗 4000 条，每亩纯利润达到 4000 多元，成为该村增收致富新的增长点。

S 市农村研究中心主任高某告诉记者，为推进农业科技快速进村入户，S 市鼓励各类农业研发、生产经营主体，作为法人科技特派员与贫困村、贫困户结对帮扶，服务贫困地区特色产业发展，带动农民创新创业。

下面是记者在 S 市走访农业科技特派员了解到的一些情况：

在小孟村，农科所 L 研究员指导新建占地 42 亩的春秋大拱棚 20 个，通过菠菜-西瓜-丝瓜、菜花-黄瓜等轮作模式的推广，全村瓜农每年户均增收 2 万元，实现了脱贫致富。在南源村，科技特派员小张带领药农建立“互联网+中药材”运行模式，用微信、微博、淘宝网等网络平台注册店铺，在全国各地发展客户 1000 多户，并推出微店优惠合作措施，使南源村高产、高质、高价的无公害中药材走向全国各地。在明楼村，农学院 N 教授自担任科技特派员以来，选择了 10 名具有一定文化基础的农民作为重点培育对象，使他们成为先进技术的接受者、实施者、传承者、受益者，逐步发展为科技致富带头人。

### 作答要求

一、根据给定资料 1，概括 S 市农业科技特派员帮扶的主要类型。（10 分）

要求：概括全面、准确，条理清晰，不超过 150 字。

### 给定资料 2

近年来，随着国家乡村振兴战略的提出，各地开始引入新技术、新方法推进农业农村转型升级，“互联网+农业”成为大家关注的热点。传统的电商是通过互联网把工业品、消费品送到农村，而对乡村振兴来说，更重要的是帮助农民把优质特色的农产品卖到城市，使现代农业生产和农民生活搭上互联网的快车。

“今年，村里枇杷产量近 150 吨，我们有 40% 的优质枇杷通过‘网上枇杷节’卖出去了。”64 岁的村民徐某高兴地对记者说。徐某所说的“网上枇杷节”，是 W 市近年探索的“互联网+农业”农产品销

售新业态。今年在枇杷上市时节，当地举办“京东网上枇杷节”让农民尝到了互联网带来的“甜头”。

近期 W 市 600 多万亩小麦正陆续收割，麦区“三夏”生产热闹繁忙。在 W 市智能农机创新中心，2 万多台农机被接入了互联网平台，农机跨区作业的轨迹、机收面积换个农机位置等信息一目了然。W 市还推出“网约农机”App，农民扫描二维码下载安装后，可以方便地寻找到附近 3 公里到 5 公里范围内的联合收割机，通过一键呼叫、一键导航，就能够迅速与农机手取得联系，自主对接农机，及时完成收割。W 市智能农机创新中心相关负责人说：“我们开发的管理平台，可以通过安装在农机上的北斗星远程控制器，将分散在各地的农机连接到网络系统平台上，从而进行实时监测、统一调度、协调管理，实现农机智能化升级。”

### 作答要求

二、结合给定资料 2，谈谈你对“互联网+农业”的认识。（15 分）

要求：紧扣资料，观点明确；分析透彻，条理清晰；不超过 300 字。

### 给定资料 3

随着工业化、城镇化加速发展，人们生活水平提升，城乡各类新旧垃圾问题正在给生态环境埋下隐患，困扰着民众生活，处置不当会带来不良的社会影响。许多地方都不同程度地面临着“无力处置、无处可去、低效利用”的窘境。

“叮咚。”6 月 4 日上午 8 时，R 县环境科技有限公司接单员何某的手机上，“回收垃圾”App 弹出等待接单的对话框，核对信息无误后，他按下确认键，随后系统就把单子派给了“垃圾快递员”金某。金某告诉记者：“我今天不是配送货物，而是上门去收废品。”一早他共接了 3 个村的垃圾回收派送单，回收的废品是纸板、玻璃等不腐烂、具有再利用价值的可回收垃圾。

在丽水村垃圾中转站，记者看到了除了腐烂垃圾处理设备，还多了 6 个白色的小隔间，分别张贴了“布料”“金属”“纸质”“玻璃”“其他”的指示牌。那些不可腐烂的垃圾被重新分成 6 大类，便于“垃圾快递员”回收。R 县农业农村服务部门负责人介绍，为鼓励村民进行垃圾分类，以 4 个月为周期，由第三方机构对村民投放的可回收垃圾数量和实现价值量进行鉴定打分，对总分排名靠前的村民给予一定奖励。

作为 G 市农村生活垃圾分类试点区，R 县农村生活垃圾分类从 2009 年开始试点；2012 年 3 月颁布实施《R 县生活垃圾分类管理办法》，明确城乡垃圾分类投放、收运、处置各环节实施主体，设立“拒收制”倒逼企业、个人进行垃圾分类；2018 年实现农村垃圾分类全域覆盖。为破解垃圾精确分类“最后一公里”，今年 R 县对农村垃圾分类再深化，农业农村服务部门鼓励社会资本参与，引入专业化运营服务，优化农村回收网络和回收模式，构建便民利民的废品回收网络，村垃圾收集员或村民首先自行对废品进行资源重新归置，再由环境科技有限公司的专职“垃圾快递员”上门按市场价回收废品。目前，R 县对全县 465 个行政村实行上门回收，提升了农村可回收垃圾的收运服务水平。

### 作答要求

三、假如你是 R 县农业农村服务部门的工作人员，要参加全市农村垃圾分类工作经验交流会，请根据给定资料 3，拟定一份介绍 R 县农村垃圾分类工作的发言提纲。（35 分）

要求：紧扣资料，结构完整；重点突出，特色鲜明；条理清晰，语言准确；500~600 字。

2020年7月26日江西省高校毕业生“三支一扶”招募考试试卷  
《行政职业能力和农村工作能力测验》

第一部分 客观题

本部分为客观题，共50道题，根据题目要求，在四个选项中选出一个最恰当的答案。

- 1.习近平在第十三届全国人民代表大会第一次会议上指出：中国人民是具有伟大创造精神的人民，具有伟大（ ）的人民，具有伟大团结精神的人民，具有伟大梦想精神的人民。  
A.奋斗精神            B.牺牲精神            C.奉献精神            D.斗争精神
- 2.习近平总书记指出：民法典在中国特色社会主义法律体系中具有重要地位，是一部（ ）的基础性法律。  
A.息纷争、维稳定、促和谐            B.促和谐、调纠纷、利人民  
C.固根本、稳预期、利长远            D.固根本、调纠纷、利人民
- 3.（ ）是人与自然相处时应秉持的首要态度。  
A.保护自然            B.改造自然            C.顺应自然            D.尊重自然
- 4.新型冠状病毒是以前从未在人类中发现的冠状病毒新毒株。世界卫生组织将本次发现的新型冠状病毒引起的疾病正式命名为（ ）。  
A.OC43            B.MERS            C.COVID-19            D.SARS
- 5.2020年我国爱国卫生月的主题是（ ）。  
A.关注小环境，共享大健康            B.共推“厕所革命”，共促卫生健康  
C.防疫有我，爱卫同行            D.加强城乡环境卫生整治
- 6.农民专业合作社的成员中，农民至少应当占成员总数的（ ）。  
A.百分之六十            B.百分之四十            C.百分之二十            D.百分之八十
- 7.江西素有“文章节义之邦”。以诗而言，（ ）创立江西诗派；（ ）创立诚斋诗体；（ ）创立半山体。  
A.黄庭坚 杨万里 王安石            B.王安石 杨万里 黄庭坚  
C.黄庭坚 王安石 杨万里            D.王安石 黄庭坚 杨万里
- 8.关于鄱阳湖，下列描述错误的是（ ）。  
A.是长江流域的一个重要的过水性、吞吐型、季节性湖泊  
B.是中国第一大淡水湖，也是中国第二大湖，仅次于青海湖  
C.鄱阳湖流域径流由降水补给为主，五河入湖径流年内分配与降水分配一致，非常均匀  
D.鄱阳湖流域地貌北部以平原为主，南部以山区为主，中部为过渡区
- 9.根据《中华人民共和国农业法》，下列说法错误的是（ ）。  
A.农业行政主管部门与农业生产、经营单位必须在机构、人员、财务上彻底分离

- B.在粮食的市场价格过低时，国务院可以决定对部分粮食品种实行保护制度
- C.国家实行农村土地承包经营制度，依法保障农村土地承包关系的长期稳定，保护农民对承包土地的使用权
- D.农业行政主管部门及其工作人员允许参与和从事农业生产经营
- 10.关于村民委员会，下列说法错误的是（ ）。
- A.登记参加选举的村民，选举期间外出不能参加投票的，可以书面委托本村有选举权的近亲属代为投票
- B.村民委员会主任、副主任和委员由村民直接选举产生
- C.村民委员会由主任、副主任和委员，共三至七人组成
- D.村民委员会每届任期五年，村民委员会成员不可以连选连任
- 11.国家重点保护野生动物名录，由国务院野生动物保护主管部门组织科学评估后制定，并每（ ）年根据评估情况确定对名录进行调整。
- A.十                      B.一                      C.五                      D.三
- 12.《农业行政处罚程序规定》自2020年3月1日起施行。关于该规定说法错误的是（ ）。
- A.农业行政执法证件由农业农村部统一制定，省、自治区、直辖市人民政府农业农村主管部门负责本地区农业行政执法证件的发放和管理工作
- B.农业行政执法人员调查收集证据、进行检查时不得少于五人，并应当出示农业行政执法证件
- C.对当事人的同一违法行为，两个以上农业行政处罚机关都有管辖权的，应当由先立案的农业行政处罚机关管辖
- D.电子商务平台经营者和通过自建网站、其他网络服务销售商品或者提供服务的电子商务经营者的农业违法行为由其住所地县级以上农业行政处罚机关管辖
- 13.资本主义（ ）是租佃较好土地的农业资本家向大土地所有者缴纳的超额利润。
- A.级差地租              B.相对地租              C.垄断地租              D.绝对地租
- 14.一般由政府设立，以贯彻国家产业政策、区域发展政策等目标的金融机构是（ ）。
- A.政策性银行              B.农业银行              C.信用合作社              D.投资银行
- 15.（ ）属于宪法规定的公民基本权利。
- A.环境权              B.受教育权              C.司法豁免权              D.质询权
- 16.关于开展农村闲置宅基地和闲置住宅盘活利用工作，下列说法不正确的是（ ）。
- A.鼓励利用闲置住宅发展符合乡村特点的休闲农业、乡村旅游、餐饮民宿、文化体验、创意办公、电子商务等新产业新业态
- B.可以买卖宅基地，也可以利用农村宅基地建别墅大院和私人会馆
- C.鼓励有一定经济实力的农村集体经济组织对闲置住宅进行统一盘活利用
- D.引导有实力、有意愿、有责任的企业有序参与盘活利用工作
- 17.乡村振兴战略的五个要求是（ ）。
- A.产业发达、乡村美丽、乡风淳朴、治理有效、生活小康
- B.工业发达、乡村美丽、乡风淳朴、社会和谐、生活小康

C.工业强盛、生态环保、乡风文明、农民富裕、政府廉洁

D.产业兴旺、生态宜居、乡风文明、治理有效、生活富裕

18.王某的犯罪行为使村集体财产遭受损失，人民检察院在对王某提起诉讼时，可以（ ）。

A.予以追缴                      B.予以没收                      C.提起附带民事诉讼      D.责令赔偿

19.下列不属于新基建的是（ ）。

A.新能源汽车充电桩建设                      B.特高压、5G 基站建设

C.高速公路建设                      D.城际高速铁路建设

20.建国以来我国农村生产关系的变革调整，经历了四个步骤，依次是（ ）。

A.土地改革、农业合作化、人民公社化、家庭联产承包责任制

B.土地改革、人民公社化、农业合作化、家庭联产承包责任制

C.农业合作化、家庭联产承包责任制、土地改革、人民公社化

D.农业合作化、土地改革、家庭联产承包责任制、人民公社化

21.每个人的孩童时代，或许都有过上天入地的梦。直到有一天，那些幻想化作现实。翼装翱翔于天际、徒手\_\_\_\_\_于岩壁、深潜\_\_\_\_\_于大海、单板\_\_\_\_\_于雪山……极限运动在挑战身心潜能的过程中，不断拓展人类的边界，让更多不可能变成可能。

依次填入划横线部分最恰当的一项是（ ）。

A.攀爬 遨游 飞翔                      B.腾跃 畅游 飞驰

C.攀附 徜徉 飞跃                      D.跳跃 跋涉 飞跨

22.真正的努力，是“富贵本无根，尽从勤里得”的\_\_\_\_\_；是“读书破万卷，下笔如有神”的\_\_\_\_\_；是“欲穷千里目，更上一层楼”的\_\_\_\_\_。

依次填入划横线部分最恰当的一项是（ ）。

A.踏实 勤奋 精进                      B.平淡 高超 豁然

C.勤勉 博识 精深                      D.艰辛 勤恳 豁达

23.很多得到在时光的\_\_\_\_\_中慢慢失去，而很多失去在时光的\_\_\_\_\_下也渐渐变成一种得到。真真假假，虚虚实实，那些你想知道却一时得不到解决的问题，时间都会在最合适的时机告诉你答案。

依次填入划横线部分最恰当的一项是（ ）。

A.筛选 沉淀                      B.流逝 积淀                      C.消磨 沉积                      D.蚀刻 积累

24.书籍，尤其是经典书籍，是承载知识和记忆的宝库，探索这座宝库里的珍藏，需要耐心、沉静和时间。疫情影响了我们的生活，但也让我们暂别了匆忙、\_\_\_\_\_，为我们创造了亲近经典的\_\_\_\_\_。

依次填入划横线部分最恰当的一项是（ ）。

A.躁动 机会                      B.浮躁 机会                      C.躁动 机缘                      D.浮躁 机缘

25.“到基层去，到西部去，到祖国最需要的地方去。” \_\_\_\_\_，这样的责任担当，激励着无数年轻人投身基层，用智慧和汗水去浇灌一片片充满希望的土地。时间为证，这一粒粒播撒到乡间的青春种子，必将生根发芽、茁壮成长，写下一个个动人的奋斗故事。

填入划横线部分最恰当的一项是（ ）。

A.这样的英雄气概      B.这样的精神气质      C.这样的青春呼唤      D.这样的时代呐喊



26.①文化是城市的灵魂

②这充分说明，保护古迹与建设城市并不矛盾，历史文化和现代生活完全可以融为一体

③一个城市的历史遗迹、文化古迹、人文底蕴，是城市生命的一部分，老城区改造提升必须同保护历史遗迹、保存历史文脉统一起来。永庆坊微改造成功的秘诀正在于此

④在旧城改造中，如何既提升居住品质，又留住历史记忆和文化根脉

⑤“修旧如旧，建新如故”，一边进行原样修复，一边进行改造提升，既保留了岭南建筑的整体风貌和空间肌理，也更新了配套设施、改善了人居环境

⑥广州市荔湾区西关历史文化街区永庆坊用“绣花”功夫进行微改造，值得借鉴

将以上六个句子重新排列，语序正确的是（ ）。

- A.④⑥①③⑤②      B.⑥④①⑤②③      C.①⑥④②⑤③      D.③④①⑤⑥②

27.在特殊时期应运而生的健康码，虽是“急就章”，却离不开长期的数字化能力建设、智慧城市建设等作为基础和支撑；它是疫情防控所需，但不应仅仅“一次性”使用，还可以着眼长远，深入研究、拓展应用，让它从“管一时”变成“管长久”。杭州市主要负责同志近日明确表示：健康码不能只用在一时一地，不仅要用于眼下的疫情防控、企业复工复产，更要用于今后的数字化城市治理和公共卫生服务。

以上文字意在强调“健康码”的（ ）。

- A.技术支撑      B.防疫功能      C.深度应用      D.产生背景

28.当下，使用人脸信息进行身份识别和验证越来越成为人们的日常，生活变得越来越便利。然而，在享受便利的同时，有些风险也需要警惕。近日，有媒体调查发现，在一些网络交易平台上不少商家非法兜售人脸信息数据，还利用“照片活化”工具将人脸照片修改为执行“眨眨眼、张张嘴、点点头”等操作的人脸验证视频。五毛钱一份人脸数据、三十五元一套修改软件，个人身份信息立马唾手可得。

最适合做以上文字标题的是（ ）。

- A.小心，你的脸正在被滥用!      B.鱼与熊掌不可兼得  
C.“人脸”与“隐私”      D.小心，你的隐私正在被窃取!

29.当下，网红带货随着直播经济火遍大江南北。客观说来，网红带货对疫情期间的市场活跃与经济发展起到了一定的积极作用，但也有个别网红利欲熏心，搞虚假广告、误导宣传，甚至兜售“三无”产品。这些网红的失信行为严重损害了消费者的知情权、选择权、公平交易权与安全保障权等一系列权利，消费了粉丝们的信任，破坏了公平交易秩序、自由竞争秩序和电子商务市场生态环境。

以上文字旨在强调（ ）。

- A.网红带货促进了疫情期间的市场经济      B.直播经济严重侵害了消费者的权益  
C.直播经济当下发展势头强劲      D.优化网红带货的法治生态环境势在必行

30.实体，是一种综合性的场景。与电子阅读相比，去书店挑选、购买、阅读纸质书，是一种传统而有仪式感的体验。与网上书店相比，进入一个可以驻足的空间，并在这个空间中人与书相依、人与人相处，也是难以替代的。因此，尽管科技快速进步、社会不断变迁，纸质书印刷并未如一些人当年想象的那样被取代，扶持实体书店也逐渐成为社会共识。

以上文字意在强调（ ）。

- A.实体书店具有不可替代性



- B.实体书店阅读比电子阅读更有仪式感
- C.实体书店体现着一个地方文化建设的诚意和内功
- D.实体书店是现代城市的重要文化坐标

31.小强在期末考试中，五门课成绩的平均分为 90 分，每门课成绩都是整数，且有三门课的成绩是一样的，最高分是 98 分，则最低分至少得分为多少分？（ ）

- A.59
- B.60
- C.61
- D.68

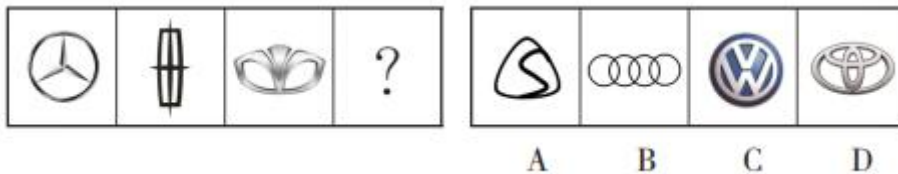
32.有 A、B 两个工程总量相同的工程，分别由甲、乙两个工程队同时开始施工，当甲工程队完成了自己任务的  $\frac{1}{3}$  时，乙工程队被抽调了一半人数去支援别的工程，最后两队同时完成任务，则甲、乙两工程队的施工速度比为（ ）。

- A.2:3
- B.3:1
- C.1:3
- D.1:6

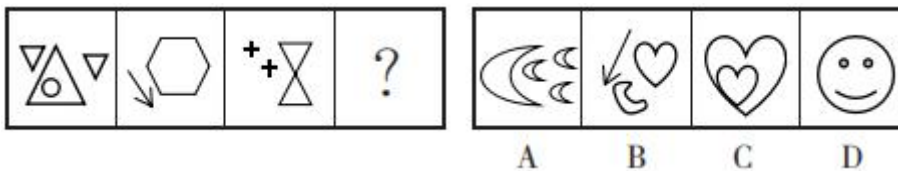
33.小明将家里一块很规则的正方形院子分割为四小块，并将小木条均匀整齐地插在四小块所有边界上，且在每小块的四个角上都插上小木条。小明准备了 72 个小木条，如果仍按上述想法插，他至少多准备了多少根小木条？（ ）

- A.2
- B.3
- C.5
- D.12

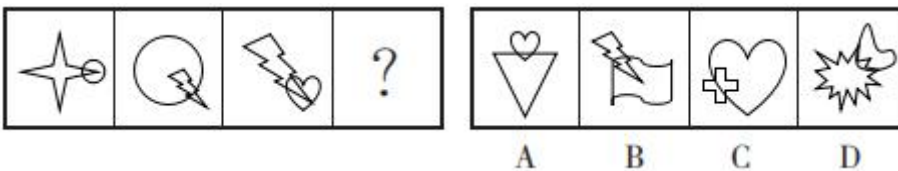
34.从所给的四个选项中，选择最合适的一个填入问号处，使之呈现一定的规律性。



35.从所给的四个选项中，选择最合适的一个填入问号处，使之呈现一定的规律性。



36.从所给的四个选项中，选择最合适的一个填入问号处，使之呈现一定的规律性。



37.边际递减效应是指在其他条件不变的情况下，如果一种投入要素连续地等量增加，增加到一定产值后，所提供的产品的增量就会下降，即可变要素的边际产量会递减。

根据上述定义，下列不符合边际递减效应的是（ ）。

- A.当你第一次向农田里撒 100 公斤化肥的时候，增加的产量最多，后来接着撒的时候增加的产量就会减少甚至减产
- B.某项政策出台以后，刚开始往往管理或者规范效应很明显，但随着时间的推移，这项政策的功能

就越来越小了，越来越不适宜社会管理的需要了

C.一个没有鞋穿的人意外得到一双鞋，他立刻给鞋子高分。接下来有机会不断地得到鞋子，但是他给的分数却越来越低

D.某学生上个学期在王老师辅导下，成绩提高很快。因此，这个学期该学生打算继续跟着王老师学习

38.语音是指人类通过发音器官发出来的、具有一定意义的，目的是用来进行社会交际的声音。

根据上述定义，下列属于语音的是（ ）。

- A.赵某弹奏的钢琴声  
B.李某哈哈大笑声  
C.张某自言自语声  
D.张某和李某争辩声

39.光的反射是指光从一种介质射向另一种介质表面时，在界面处有一部分光返回原介质的现象。

根据上述定义，下列属于光的反射的是（ ）。

- A.小孔成像  
B.水面上房子的倒影  
C.手影游戏  
D.海市蜃楼

以下 40~42 题是类比推理，每道题先给出一组相关的词，要求你在备选答案中找出一组与之逻辑关系上最为贴近、相似或匹配的词。

40.二氧化碳：温室效应

- A.茄子：农田  
B.手机：网络  
C.洪水：水灾  
D.香蕉：水果

41.刮目相看：吕蒙

- A.老当益壮：廉颇  
B.鸡鸣狗盗：李林甫  
C.风声鹤唳：苻坚  
D.一鼓作气：匡衡

42.葡萄：蜻蜓

- A.玻璃：琵琶  
B.马路：笔直  
C.集训：穷苦  
D.国家：人民

43.远程办公是一个在新兴行业和互联网产业中兴起的新生事物，而疫情在全球范围内加速了远程办公的方法革命，让新型办公模式浮出水面，为人类社会运行模式创新提供了可能。

以上论述不能推出的是（ ）。

- A.疫情极大地改变了现代社会的运行方式  
B.疫情使一大批新兴技术和新产业进入大众视野  
C.疫情使远程办公成为未来社会最主要的办公模式  
D.疫情加速了新兴技术的运用

44.甲、乙、丙三位同学准备第二天去公园写生。老师说：“可以的，除非明天下雨，你们就在教室上自习。”对老师这句话的意思，三个人各持己见。

甲：明天若下雨，那我们就要在教室自习。

乙：若是明天我们在教室自习，说明明天下雨。

丙：明天若不下雨，我们就去写生。

对老师这句话的理解（ ）。

- A.乙和丙正确，甲不正确  
B.甲、乙、丙都正确  
C.甲和丙正确，乙不正确  
D.甲和乙正确，丙不正确

45.某单位组织员工去疗养，A、B、C、D、E、F、G七人中能且只能一人去。关于谁会去疗养，小易、小刘、小陈谈了自己的看法。

小易认为：D、F、G都不可能。

小刘认为：不是A就是B。

小陈认为：绝不是E。

最后发现他们三人中只有一人猜错了，请问这七人中，去疗养的是（ ）。

- A.A                      B.B                      C.C                      D.E

**根据以下资料，回答46~50题。**

截至2019年底，中国共产党党员总数为9191.4万名，比上年净增132.0万名，女党员2559.9万名，比上年提高0.7个百分点。少数民族党员占7.4%，比上年提高0.1个百分点。40岁以下党员超过总数的三分之一，队伍年龄结构有所改善。工人和农民仍占主体，占比34.8%。党员队伍文化程度继续提高，大专及以上学历党员达4661.5万名。全年发展党员234.4万名，比上年增28.9万名，发展35岁及以下党员188.3万名。产业工人、青年农民、高知识群体和非公有制经济组织、社会组织中发展党员数量增加明显。

基层党组织建设不断加强，全国共设立基层党委24.9万个、总支部30.5万个、支部412.7万个，分别比上年增加1.0万个、0.6万个、5.5万个，组织设置更加科学规范。农村基层党组织在脱贫攻坚中战斗堡垒作用增强，选派第一书记24.0万名，实现建档立卡贫困村和党组织软弱涣散村全覆盖。城市基层党建创新发展，各领域党组织互联互通，实行与驻区单位党建联建共建的街道、社区有8123个、6.5万个，占比分别提高3.4、2.6个百分点。基层基础保障力度加大，95.8%的社区落实服务群众专项经费，提高2.7个百分点。全年新建或改扩建村级组织活动场所5.0万个。国有企业、机关、高校、公立医院和非公有制企业，社会组织党建工作得到新的提升。

46.截至2019年底，中国共产党党员总数比上年提高（ ）。

- A.0.8%                      B.1.5%                      C.1.8%                      D.2.7%

47.截至2019年底，具有大专以上学历的党员人数占中国共产党党员总数的比例约为（ ）。

- A.21.8%                      B.32.6%                      C.50.7%                      D.60.9%

48.截至2018年底，女性党员人数占中国共产党党员总数的比例约为（ ）。

- A.39.6%                      B.28.1%                      C.19.2%                      D.30.9%

49.截至2018年底，全国共设立基层党委（ ）万个。

- A.24.9                      B.23.9                      C.24.8                      D.30.5

50.根据以上资料，下列说法不正确的是（ ）。

- A.2019年发展35岁及以下党员超过这年发展党员数的一半  
B.2019年党员数量平稳增长  
C.2019年绝大部分社区落实了服务群众专项经费

D.截至 2019 年底，男性党员人数是女性党员人数的两倍

## 第二部分 主现题

本部分为主观题，共 3 道题。根据照目要求，在管理卡指定区域作答。

### 给定资料 1

N 县 T 镇 S 洲水位持续上涨且涨势迅猛，形势严峻。为保障周边大堤及群众生命安全，7 月 10 日，当地政府压实责任，紧急转移群众，并将转移出来的 300 余名村民安置在堤镇中心小学和红星中学。

在中心小学安置点，当地的党员干部、医护人员和志愿者成为了这里的“后勤保障员”“服务员”，全力保障安置点村民的生活，帮助他们一起渡过难关。

一大早，来自 B 洲村的涂奶奶，感觉胸口有点发闷，额头上也冒着汗，嘴唇发紫，医护人员小邱拎着药箱来到涂奶奶床前，先是测量血压，随后再往额头上抹上药膏，倚床休息了，几分钟后，涂奶奶的症状慢慢有所好转。

作为临时安置点，T 镇在中心小学和红星中学都交排了医护人员值守，配备了常用药品，每天为高龄老人进行血压测量和病态体征监测。同时，为做好卫生防护工作，T 镇卫生院调了 2000 个口罩分别发放给两个安置点的群众。

临近中午时分，4 名志愿者抬着两大箱盒饭走进教室。“我想吃烧豆角。”F 村彭奶奶 5 岁的小孙女从床上蹦了起来，接过志愿者递来的盒饭。

安置工作启动以来，T 镇在每个安置点安排专人负责对接村民们的一日三餐，确保村民每天准时吃上干净、卫生的热饭热菜。“早上有馒头、牛奶等，中午和晚上都有一荤两素，吃的挺好的。”彭奶奶说。

走进一间教室，床铺放置有序、地面干净整洁，年纪稍大些的村民正坐在一起闲聊着。吃得好，还要住得好，为此，T 镇利用学校床铺等现有设施，调拨购置折叠床 300 余张、空调被 300 余床，确保每个村民都有自己的床铺。

与此同时，针对连日的高温天气，为了让安置点的村民生活得舒适，T 镇迅速行动，购买了 38 台空调，每个安置房间分别安装两台空调。为及时做好用电保障，电力公司紧急调动人力，做好校舍的电路检修、排查，确保整个电路能带动校舍空调。为方便群众有热水澡可洗，安置点还安装了两个公共淋浴房和淋浴设施。

此外，T 镇党员志愿者、青年志愿者、文明志愿者、巾帼志愿者齐上阵，对受灾群众做好心理疏导。“困难总会过去的，阿婆您放心，党和政府会尽全力帮助大家渡过难关，早日回到自己的家里！”在中心小学安置点，志愿者与受灾群众面对面谈心，在开展心理咨询的同时，还为群众捐赠饮料、方便面、蛋糕等物资。

### 作答要求

一、根据给定资料 1，概括 N 县 T 镇在抗洪抢险中安置群众的主要做法。（10 分）

要求：概括全面、准确，条理清晰；不超过 150 字。

### 给定资料 2

习近平总书记在党的十九大报告中指出，要“加强农村基层基础工作，健全自治、法治、德治相结合的乡村治理体系”“打造共建共治共享的社会治理格局”。M县在脱贫攻坚进程中，以Q镇为试点，坚持党建引领，将自治、法治、德治有机融合创新展开乡村治理。

把党建引领作为社会治理的固本之源。M县把脱贫攻坚成效作为检验基层基础的试金石，结合村“两委”换届工作，以作风硬、善作为、敢担当为标准，培养优秀的农村基层党组织书记，配齐配强贫困村“第一书记”，并不断强化基层党组织大脑神经网络作用。基层党组织全程对发展生产、政策引领、自治管理等工作进行把脉纠偏，确保政策不走样、措施不偏激、任务能落实。同时，发挥组织优势，整合政策、项目等资源，按照党员带头，集体参与的思路，引领群众合力攻坚，一批以“党建+”为基础的农村经济实体不断壮大，众多以党员为代表的优秀人才纷纷涌现。

把“三治”融合作为社会治理的通络之作，坚持打早打小、露头就打，深入开展扫黑除恶、破小案暖民心等活动，惩治了一批农村工作的害群之马，社会风气得到了净化；坚持实行以道德评议为基础的“三会两榜”工作法，通过群众说、乡贤论、榜上亮，唤醒了一批尚未“睡醒”的群众，农村道德体系逐渐重塑；切实修订以村规民约为主的各类自治制度，约束了一批违规不违法犯错误、犯错误不犯罪的群众，群众规矩意识、红线意识不断加强。“三治”融合以深入人心，解决了脱贫攻坚和农村综合治理中的诸多难题。

### 作答要求

二、结合给定资料2，谈谈对乡村治理中“三治”融合的认识。（15分）

要求：（1）紧扣资料，观点明确；（2）分析透彻，条理清晰；（3）不超过300字。

### 给定资料3

某省A县B镇把积分管理作为攻坚克难的创新之举。一方面，从产业、就业、政策、法纪、家庭、卫生等多个方面建立正清单；另一方面，从消极被动、违规违约等方面列出负清单。积分公示在村内醒目的位置。正积分达到一定分数，实行物质奖励与精神鼓励。负积分达到一定分数，对其进行惩戒。

在积分管理中，B镇坚持以正向激励为主的原则。帅某家住在D村，右脚残疾，妻子智力障碍，生活清苦，一度生活态度消极。然而，自从积分管理开展以来，他主动承担村里的卫生保洁工作和照顾瘫痪哥哥的生活起居。帅某的良好品行和主动脱贫的劲头，不仅得到邻里的肯定，还让他在积分管理评比中加分不少，连续两个季度获得五星级积分奖励。

据不完全统计，自开展积分管理以来，该镇有98%的贫困户在年终享受了积分管理带来的实惠，并参与发展了蔬菜、水稻、水果、水产养殖等产业，绝大多数贫困劳动者实现了就业，就业率达到98.88%；80多人获得“道德模范”“身边好人”“文明家庭”等表彰。

在脱贫攻坚过程中，针对少数贫困户“等着扶、躺着要”现象，B镇党委经充分调研，决定试行脱贫攻坚“惩戒”机制。该镇组织召开各村村民代表大会，广泛征求各方意见，针对一些顽瘴痼疾问题，讨论制定了赌博酗酒、违法乱纪、不赡养老人、铺张浪费等细化指标，并将其列入村规民约，最终形成“惩戒”制度。“惩戒”制度规定，对符合上述任何一项指标的贫困户，除了住房、教育、医疗、兜底政策等国家硬性扶持政策外，县镇村各类财务慰问扶助、产业扶持、贴息贷款等一律停止。让贫困户享受扶贫政策的同时，也面临违反规定的惩戒。根据贫困户所违反的指标，惩戒时限分为三个月和半年，



最长不超过一年。反向惩戒效果立竿见影，C村村民胡某曾被确定为“惩戒”对象，他说：“首先感觉丢人，自己脸上挂不住。”在村镇干部近半年时间的帮助和督促下，胡某的思想彻底转变过来，贷款3万元，种植了十余亩经济作物。

B镇在积分管理工作中取得了阶段性成效，然而他们并没有就此满足现状，正考虑将贫困户分为有劳动能力和无劳动能力两类，对无劳动能力的贫困户在兴产业、保就业方面就不再提出硬性要求。此外，该镇还扩大了积分管理的范畴，对基层党建、脱贫攻坚任务等具体工作也实行积分制管理。目前，积分管理的相关制度已趋于完善，为在全县推广奠定了坚实的基础。

### 作答要求

三、假如你是A县B镇工作人员，领导要求你根据给定资料3，拟写一份A县B镇开展积分管理工作的概要性总结。（35分）

- 要求：
- (1) 紧扣资料，结构完整；
  - (2) 重点突出，特色鲜明；
  - (3) 条理清晰，语言准确；
  - (4) 500~600字。



## 2021年7月4日江西省高校毕业生“三支一扶”招募考试试卷 《行政职业能力和农村工作能力测验》

### 第一部分 客观题

本部分为客观题，共50道题，根据题目要求，在四个选项中选出一个最恰当的答案。

1.习近平在中央农村工作会议上指出，要牢牢把住粮食主动权，落实最严格的耕地保护制度。严防死守的耕地红线是（ ）。

- A.16 亿亩                      B.18 亿亩                      C.20 亿亩                      D.22 亿亩

2.搭载神舟十二号载人飞船的长征二号F遥十二运载火箭，在酒泉卫星发射中心腾空而起，神舟十二号载人飞船成功进入预定轨道，与天和核心舱完成自主快速交会对接，顺利将3名航天员送入太空。腾腾的火箭，\_\_\_\_\_的是一个民族的飞天梦想，\_\_\_\_\_的是一个国家的前行脚步。

依次填入以上横线部分最恰当的一项是（ ）。

- A.承担 铭记                      B.担负 雕刻                      C.承载 镌刻                      D.承受 铭刻

3.正因为各民族文化上\_\_\_\_\_、经济上\_\_\_\_\_、情感上\_\_\_\_\_，中华文明才具有无与伦比的包容性和吸纳力，才可久可大、根深叶茂。

依次填入以上横线部分最恰当的一项是（ ）。

- A.兼容并包 相互依赖 相互融合                      B.兼收并蓄 相互依存 相互亲近  
C.相互包容 相互依托 相互亲切                      D.兼而有之 相互依附 相互亲密

4.村口长着一棵\_\_\_\_\_的虎头槐，实在太苍老了，估计要十来个人才能抱得拢，树根如巨型龙爪牢牢抠在大地上，树冠高大却枝叶\_\_\_\_\_，能看到枝叶间最少筑了七八个鸟窝，鸟窝都很大，看样子也是鸟中的豪族，避在这世外的地方逍遥。

依次填入以上横线部分最恰当的一项是（ ）。

- A.老气横秋 清朗                      B.老迈龙钟 舒缓                      C.老态龙钟 疏朗                      D.蓬头历齿 稀疏

5.①很多人对励志书籍的阅读体验是，读的时候\_\_\_\_\_，但激动了几天之后却发现生活还在继续，自己的人生道路并没有多大改变。

②生命是环境“逼出来”的，因而生为环境的奴隶，它最多只是“主动地”附属于环境。谁要考察一种生命形式，不妨先去考察它寄生的环境，否则就会对生命的“怪异”感到\_\_\_\_\_。

依次填入以上横线部分最恰当的一项是（ ）。

- A.心潮澎湃 惊异                      B.思潮起伏 疑惑                      C.热血沸腾 震惊                      D.慷慨激昂 惊诧

6.空间探测器拍摄的大量照片和探测仪器的取样分析，揭开了被测行星的大气环境和表面景观的\_\_\_\_\_，让人看到了它们的真实面目。“天问一号”火星探测器拍摄的大量照片和检测结果显示，如今一片荒凉的火星曾经是一个温暖、潮湿的地方，而且可能曾是一个\_\_\_\_\_和维持过生命的星球。



- A.新时代的志愿精神  
B.新时代的“雷锋故事”  
C.雷锋精神的时代价值  
D.新时代雷锋精神的新内涵
- 12.入选国家新一轮农村宅基地制度改革试点的江西县市是（ ）。
- A.庐山、鄱阳、信丰、樟树  
B.湖口、余江、大余、永丰  
C.莲花、广丰、全南、瑞金  
D.武宁、进贤、于都、南城
- 13.有关脱贫攻坚任务完成后的农村政策，下列表述错误的是（ ）。
- A.对摆脱贫困的县，从脱贫之日起设立3年过渡期  
B.过渡期内要保持主要帮扶政策总体稳定  
C.对现有帮扶政策逐项分类优化调整，合理把握调整节奏、力度、时限  
D.逐步实现由集中资源支持脱贫攻坚向全面推进乡村振兴平稳过渡
- 14.“十四五”时期，江西提出建设新时代的“五美”乡村。下列不是“五美”乡村内容的是（ ）。
- A.产业兴旺之美  
B.自然生态之美  
C.民风淳朴之美  
D.和谐有序之美
- 15.四合院青砖灰瓦、玉阶丹楹、庭院方正、屋脊错落……这些传统的老北京建筑，承载着人们的情感、乡愁，传达着历史信息和文化意向。有关北京四合院，以下表述错误的是（ ）。
- A.四合院的布局讲究尊卑有序、长幼有序、内外有别的礼制传统  
B.四合院的布局设计以中轴为对称，大门开在正中位置，与正房相对  
C.标准的四合院为三进院落，主要由宅门、影壁、倒座房、垂花门、正房、东西厢房、耳房、抄手游廊、后罩房等组成  
D.北京四合院有着悠久的历史，自元代正式立都、大规模规划建设都城时就已经出现
- 16.有关江西古代与现代的地名，下列对应错误的是（ ）。
- A.虔州——赣州  
B.洪州——南昌  
C.袁州——宜春  
D.饶州——上饶
- 17.2020年12月8日公布的珠穆朗玛峰最新“身高”是（ ）。
- A.8844.43米  
B.8848.86米  
C.8848.13米  
D.8848.48米
- 18.下列对江西科技史描述错误的是（ ）。
- A.北宋德兴齐彦槐著《浸铜要略》，成为冶金史和化学史上的一大发明  
B.万年县仙人洞、吊桶环遗址发现距今1.2万年前的栽培水稻植硅石  
C.元代广丰县尹王祜著《王祜农书》37卷  
D.清代建昌（今永修）雷氏世代为皇家建筑设计师
- 19.有关全球气候变化对海洋的影响，下列描述错误的是（ ）。
- A.海洋热浪发生频率增加  
B.海平面上升  
C.海洋酸化  
D.海洋生物大量死亡
- 20.根据《中华人民共和国民法典》，民事主体依法享有物权。物权是权利人依法对特定的物享有直接支配和排他的权利，包括所有权、担保物权和（ ）。
- A.经营权  
B.占有权  
C.用益物权  
D.分配权
- 21.根据《中华人民共和国土地管理法》，统一负责全国土地的管理和监督工作的部门是（ ）。
- A.国务院建设行政主管部门  
B.国务院农业农村主管部门

C.国务院自然资源主管部门 D.国务院生态环境主管部门

22.习近平总书记指出，建立以国家公园为主体的自然保护地体系，目的就是按照山水林田湖草是一个（ ）的理念，保持自然生态系统的原真性和完整性，保护生物多样性。

A.生命共同体 B.系统性 C.整体性 D.全局性

23.习近平总书记指出，要在党史学习教育中做到学史明理，明理是增信、（ ）、力行的前提。要从党的辉煌成就、艰辛历程、历史经验、优良传统中深刻领悟中国共产党为什么能、马克思主义为什么行、中国特色社会主义为什么好等道理，弄清楚其中的历史逻辑、理论逻辑、实践逻辑。

A.求真 B.崇德 C.奋发 D.修身

24.2019年5月20日至22日，习近平在江西考察时强调，要加快构建生态文明体系，做好治山理水、显山露水的工作，打造美丽中国（ ）。

A.“生态样板” B.“江西样板” C.“全国样板” D.“绿色样板”

25.以科技创新催生新发展动能，实现高质量发展，必须实现依靠创新驱动的（ ）型增长，我们更要大力提升自主创新能力，尽快突破关键核心技术。

A.内涵 B.跨越 C.集约 D.科技

26.股票市场上常常被提到的“IPO”的意思是（ ）。

A.已有股票的公司再次私募股票 B.公司第一次私募股票  
C.已有股票的公司再次公募股票 D.首次公开发行，即公司第一次公募股票

27.《基本农田保护条例》第十八条规定，承包经营基本农田的单位或者个人连续（ ）年弃耕抛荒的，原发包单位应当终止承包合同，收回发包的基本农田。

A.2 B.3 C.4 D.5

28.《种子法》第四十九条在种子质量上规定属于假种子的是（ ）。

A.质量低于标签标注指标的  
B.种子种类、品种与标签标注的内容不符或者没有标签的  
C.质量低于国家规定标准的  
D.带有国家规定的检疫性有害生物的

29.国家税务总局规定：农民销售农产品，月销量额不到（ ）元或每次（日）销售额不到（ ）元的，不缴纳增值税。

A.3000, 200 B.4000, 200 C.4000, 300 D.5000, 200

30.《江西省实施<中华人民共和国土地管理法>办法》第四十一条规定，下列符合宅基地标准的是（ ）。

A.占用宅基地和村内空闲地的，每户不得超过160平方米  
B.占用耕地的，每户不得超过125平方米  
C.因地形条件限制，居住分散而占用荒山、荒坡的，每户不得超过240平方米  
D.山区有条件利用荒地荒坡的，每户不得超过200平方米

31.原计划用20天收割一片麦子，先由3台收割机8天完成收割任务的 $\frac{2}{5}$ 。如果要提前6天完成麦子收割任务，还需要增加（ ）台收割机。

A.2                                      B.3                                      C.4                                      D.5

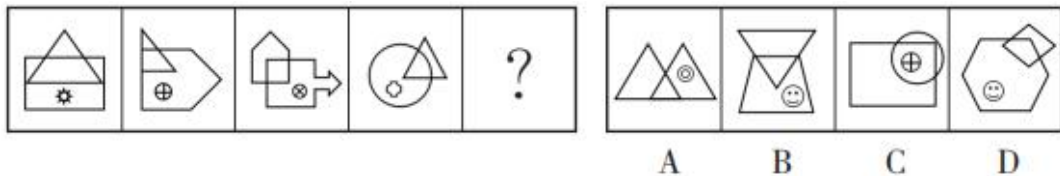
32.某食品店有三种蛋糕出售，它们的价格分别是3元、6元和8元。某日3元蛋糕与6元蛋糕的销售量之比为5:3，3元蛋糕与8元蛋糕的销售量之比为7:5，卖出8元蛋糕比3元蛋糕收入多285元，这家食品店当日共售出（ ）块蛋糕。

A.245                                      B.243                                      C.241                                      D.393

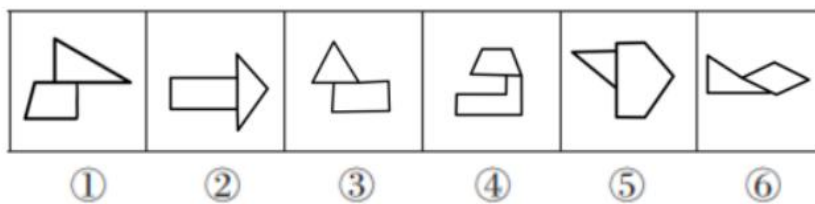
33.现有奖券2万张，其中一等奖1张，奖金1000元；二等奖4张，每张奖金250元；三等奖20张，每张奖金50元；四等奖120张，每张奖金5元。假设每张奖券2元，则买一张奖券的平均收入是（ ）。

A.0.18元                                      B.0.16元                                      C.-1.84元                                      D.-1.82元

34.从所给的四个选项中，选择最合适的一个填入问号处，使之呈现一定的规律性。

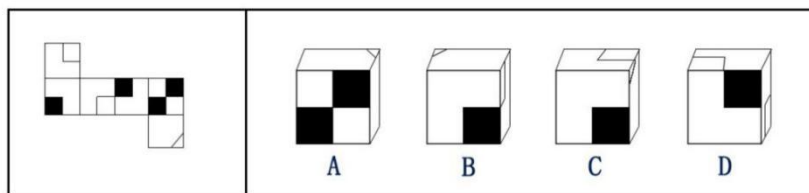


35.把下面的1-6个图形分为两类，使每一类图形都有各自的共同特征或规律，分类正确的一项是（ ）。



A.①③⑥, ②④⑤                                      B.①④⑤, ②③⑥                                      C.①③④, ②⑤⑥                                      D.①②③, ④⑤⑥

36.左边所给的是纸盒外表面的平面展开图，右边哪一项能由它折叠而成（ ）？



37.某癌症基金会的调查显示，世界各国肺癌最为严重，在全球癌症患者中肺癌患者占了85%，然而，肺癌的病因至今尚不完全明确。已有研究显示，长期大量吸烟者患肺癌的概率是不吸烟者的10~20倍。研究者由此认为，长期大量吸烟与肺癌的发生有非常密切的关系。

以下哪项如果为真，最能支持上述结论的是（ ）。

A.肺癌患者张三有吸烟史                                      B.患有肺癌的李四是长期大量吸烟者  
C.肺癌患者中不吸烟者较少                                      D.肺癌患者中长期大量吸烟者占的比例较高

38.某学院有三个专业，小刘、小廖和小李分属不同专业，某次英语考试成绩公布情况如下：小刘和三人中第三个专业那位不一样，小李比三人中第一个专业的那位的成绩高，三人中第三个专



业的那位比小廖分数低。若小刘、小廖、小李三人按英语成绩由低到高排列，正确的是（ ）。

- A. 小李、小刘、小廖
- B. 小刘、小李、小廖
- C. 小廖、小刘、小李
- D. 小李、小廖、小刘

39. 在大学时代，甲、乙、丙、丁四位同学曾经一起对未来的职业做过预测。当时，甲预测说：乙将来会成为作家。乙预测说：丙不会当医生。丙预测说：甲不会当律师。丁预测说：自己无论如何将来都做不了教师。事实证明，只有后来成为作家的那位同学预测对了。那么，甲、乙、丙、丁的职业分别是（ ）。

- A. 甲是律师，乙是教师，丙是医生，丁是作家
- B. 甲是作家，乙是医生，丙是律师，丁是教师
- C. 甲是律师，乙是作家，丙是教师，丁是医生
- D. 甲是教师，乙是医生，丙是作家，丁是律师

以下 40~42 题是类比推理，每道题先给出一组相关的词，要求你在备选答案中找出一组与之逻辑关系上最为贴近、相似或匹配的词。

40. 游乐园：小孩：旋转木马

- A. 户外运动：爬山：溯溪鞋
- B. 车祸：酒驾：违章驾驶
- C. 沙漠：人：骆驼
- D. 傍晚：老年人：广场舞

41. 打折：促销：商品

- A. 演出：节目：服装
- B. 学习：铭记：党史
- C. 研究：文献：阅读
- D. 昆曲：艺术：愉悦

42. 建议：赞同：反对

- A. 检验：弃真：取伪
- B. 道歉：虚假：真实
- C. 邀请：接受：拒绝
- D. 问候：感谢：诅咒

以下 43~45 题是定义判断，每道题先给出定义，然后列出四种情况，要求你严格依据定义，从中选出一个最符合或者最不符合该定义的答案。注意：假设这个定义是正确的，不容置疑的。

43. 安慰剂效应是指病人虽然获得无效的治疗，但却“预料”或“相信”治疗有效，而让病患症状得到舒缓的现象。

根据上述定义，下列现象不属于安慰剂效应的是（ ）。

A. 某医生为缓解癌症患者的恐惧心理，谎称某新药对癌症治疗有疗效，某癌症患者欣然接受了新药治疗，病情果然得到好转

B. 某护士给小朋友打针说：小朋友别怕，我在药水里面加了无痛药水，打针就不痛了。其实并没有加无痛药水，结果小朋友很安心地把针打完了

C. 某医生介绍“牵引棒”由特殊材料制成，如果把“牵引棒”放在病人的疼痛部位来回滚动 20 分钟，就可以缓解疼痛，同时身体其他部分的疼痛也能得到缓解。结果参与体验的病人在使用过“牵引棒”后，大部分都觉得疼痛减轻



D.某癌症患者由于接受了医生的特殊治疗，病情果然好转了

44.随机事件是指在一次试验中可能发生也可能不发生的结果。

根据上述定义，下列不属于随机事件的是（ ）。

A.甲定点投篮的命中率为0.9，如果给甲10次定点投篮的机会，那么甲命中9次

B.在标准大气压下，水加热到100℃必沸腾

C.将一枚质地均匀的硬币连续抛掷100次，出现正面50次

D.袋中有三个红球和一个黑球，甲、乙、丙、丁四人依次从袋中取出一球，丁取得黑球

45.Z世代是指1995年互联网普及后出生的一代人形成的快速、即兴、碎片、随时切换、缺乏深度的“浅表注意力”的代际现象。

根据上述定义，下列不属于Z世代的是（ ）。

A.互联网时代，碎片化学习已成为现代大学生拓展视野的一种不可缺少的学习方式

B.面对移动互联网丰富的碎片化信息资源，人们往往根据自己的实时感受需求选择喜欢的东西进行浏览

C.现代的学生利用互联网解决学习中遇到的问题常常是照搬照抄，缺乏思考，被动接受

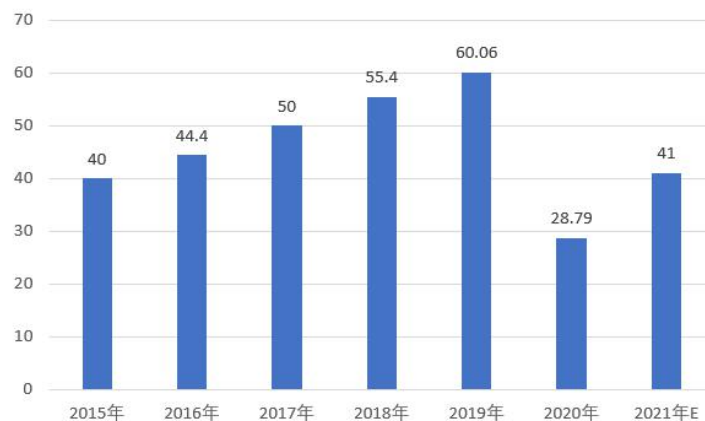
D.某大学生利用互联网查阅文献，完成毕业论文写作

根据以下资料，回答46~50题。

2015~2021年国内旅游总收入变化趋势表（单位：万亿元）

年份	2015	2016	2017	2018	2019	2020	2021
总收入	4.13	4.69	5.4	5.99	6.63	2.23	3.3

2015~2021年国内旅游人数变化趋势图（单位：亿人次）



46.2015~2020年国内旅游人数年均增长（ ）亿人次。

A.4.66

B.5.4

C.-2.242

D.-3.25

47.2015~2020年国内旅游人均每次出游花费最多的年份是（ ）。

A.2016

B.2017

C.2018

D.2019

48.2015~2019年国内旅游总收入年均增长率为（ ）。

A.10.26%

B.12.56%

C.13.12%

D.13.74%

49.由于受到新型冠状病毒肺炎疫情影响，2020年比2019年的国内旅游人次和总收入分别下降（ ）。

A.51.06%和 66.73%    B.52.06%和 66.37%    C.51.06%和 66.06%    D.53.46%和 67.06%

50.2018年国内旅游总收入增速比2017年回落（ ）个百分点。

A.4.21    B.3.22    C.1.81    D.1.07

## 第二部分 主观题

本部分为主观题，共3道题。根据题目要求，在答题卡指定区域作答。

### 给定资料1

M省在多元化解纠纷方面进行了很多有益探索，基本形成以人民调解为基础，人民调解、行政调解、行业性专业性调解、司法调解优势互补、有机衔接、协调联动的“大调解”工作格局，对畅通矛盾纠纷化解渠道、构建社会矛盾综合治理机制发挥了重要作用，积累了一定经验。

多元化解纠纷工作重在基层，必须着力向基层下沉法治资源，指导基层组织依法自治。引导基层群众依法理性表达诉求，让老百姓遇到问题能有地方“找个说法”，做到“小事不出村，大事不出镇，矛盾不上交”，在诉讼源头构建“净化器”。

起诉到法院的纠纷其实仍有相当一部分适宜通过调解解决，或者向公证、仲裁渠道分流。因此，搭建矛盾纠纷多元化解的工作平台，在诉前打造“分流器”就显得非常重要，这就需要配备专、兼职工作人员，组织人民调解员、网格员、村（社区）社会工作者、法律顾问、志愿者、农村“法律明白人”骨干等，就地预防、排查、化解矛盾纠纷，有效引导涉诉纠纷向非诉渠道分流、将纠纷化解在登记立案前。同时，“我们还鼓励和引导当事人优先选择成本较低、对抗性较弱、有利于修复关系的非诉讼方式解决纠纷。”M省政法委有关负责人表示。

为从源头上预防纠纷的发生，把各类矛盾隐患消灭在萌芽，化解在初始。在诉外构筑“过滤器”则是必不可少的环节，M省还十分注重将源头预防工作贯穿于重大决策、行政执法、司法诉讼等全过程，强化重大决策风险评估和合法性审查，从而减少纠纷的产生。为此，他们要求各级人民政府建立健全矛盾纠纷排查制度，推行网格化管理；同时要求，各地建立健全社会矛盾风险预警机制，要求各级人民政府及其有关部门在作出关系人民群众切身利益且涉及面广、容易引发社会稳定问题的重大决策之前，必须先行开展社会稳定风险评估，并编制评估报告。

### 作答要求

一、根据给定资料1，请你概括M省基层矛盾纠纷多元化解工作的几点做法。（10分）

要求：概括全面、准确，条理清晰，不超过150字。

### 给定资料2

打赢脱贫攻坚战之后，中国开始向着更高的目标前进，全面开启乡村振兴的新征程，为2035年基

本实现现代化目标补齐“三农”短板。在这一新阶段，如何实现乡村振兴的良好开局？在20日举办的中国发展高层论坛2021年会上，来自政界、学界、业界的专家分析了中国乡村振兴面临的“瓶颈”，为乡村振兴的道路出谋划策。

“对照现代化的要求，中国‘三农’还比较薄弱，务农劳动收入还比较低，乡村振兴还有很繁重的任务。”B大学Z教授表示，推动乡村振兴，需要挖掘乡村振兴的潜能，发现乡村能够满足国民经济需求的关键点。Z教授认为，中国城市化高速发展，城市周围蕴藏着对高质量农产品的旺盛需求。推动乡村振兴，要从城市周边来突破，提高农产品的供给水平，提升农村收入水平。

一直以来，农业回报率低制约着乡村发展，也是乡村振兴的最大阻碍之一。中国提出，在全面推动乡村振兴中，将着力促进乡村产业发展。如何才能改变农业回报率低的现状？如何才能实现“产业兴旺”？R大学经济学院院长L教授表示，改变农业回报率低的问题，关键要处理好“人”的问题。

“一定要改变‘回村’的城市化模式。”L教授表示。目前很多进城务工人员在打工半生后还是不能留在城市，下一步，应该着力让进城务工农民能够真正在城市“生根”，居住、社保、教育、医疗等做到与城市居民同权，这样中国的城市化进程才能慢慢进入正常轨道。同时，这种流动也有助于农村土地等要素资源重组，吸引更多资本和城市人员进入农村，进而发展现代农业，解决农业投资回报率低的问题，形成良性循环。

事实上，乡村发展水平落后是全球面临的共同难题。除了理顺机制，农村地区也需要更多政府和社会的扶持和帮助。来自海外的H大学T教授表示，中国在乡村建设上取得了重大进展，下一步推动乡村振兴关键需要改善农村的教育水平，想方设法吸引高素质人才进入乡村从事教学，让农村的孩子能够享受更高水平的教育。

X集团董事长Y先生表示，发展现代农业需要很多农业领域的专业人员，对此，农业龙头企业可以有所作为。同时，在一定过渡期内，希望政府可以采取一定引导政策，比如给大学毕业生补贴，吸引他们到乡村创新创业，这对乡村振兴有很好的推动作用。

中国国家乡村振兴局G某当天表示，中国将全面推进乡村振兴。这就要求改变农村“硬件”，加强基础设施建设，改善交通、通讯状况，改善农村人居环境，同时还需要努力提升农村“软件”，改善公共服务水平，加强农村公益事业的建设。此外，还必须极大促进乡村产业振兴，激发乡村内生动力。

### 作答要求

二、根据给定资料2，请你谈谈我国乡村振兴面临哪些“瓶颈”？（15分）

要求：（1）紧扣资料，观点明确；（2）分析透彻，条例清晰；（3）不超过300字。

### 给定资料3

对许多江西人来说，每个早晨，从一碗冒着烟火气的米粉开始，漂泊在外的赣鄱游子，无论身处何方，记忆深处都藏着一碗米粉的乡愁。作为江西人最亲切的日常主食，米粉早已跳脱于食物的本质，成为江西人寄托美好情感和真挚愿望的载体。江西米粉既是民间日常食物，又在漫漫历史中源远流长。早在南宋时期，就留下了“江西谁将米作缆，捲送银丝光可鉴”的佳话。学者钱钟书在《管维笛》中曾有考证，“中华米粉最早起源于东汉时期的九江”，这也成为最早的米粉诞生“记录”。

滚水煮粉、凉水淘洗，再由技师手持大竹篓，伴着阵阵锣声捞出锅，沥干装盘、佐料调味……热气腾腾中，一份份色香味俱全的江西米粉呈现在观众面前。一名技师表示，“江西米粉源于晚籼米，最大特点是‘韧’，最适合制作各类米粉美食。”江西 11 个设区市几乎无一不产粉，而且大多有独到的非遗制作技艺。九江直条米粉、吉安峡江米粉、赣州五丰米粉、宜春罗城扎粉、南昌宗山米粉、萍乡搓菜炒粉、景德镇冷粉、上饶米粉、新余水北米粉、鹰潭南站牛肉粉、抚州娄浒米粉等均有鲜明特色。抚州南城麻古米粉、赣州石城手工米粉、上饶广丰洋口米粉、南昌进贤温圳板粉等制作技艺也陆续被评为非遗。

2020 年，江西米粉年产量约 140 万吨、产值约 90 亿元，年出口量约 6.5 万吨。以 H 县为例，其米粉出口量占全国米粉出口量的 60% 以上，仅 W 公司 2020 年 1 至 5 月份，米粉出口就达 6000 吨，同比增长 21%，销往美国、英国、法国、荷兰等 30 多个国家和地区。江西有近 3 万家米粉餐饮门店，每天的鲜米粉消费量超 1000 吨，市场优势明显。在海外流传有“世界米粉在中国，中国米粉在江西，江西米粉在 H 县”的说法。然而在当下，却很少有人提起江西米粉的“江湖地位”。

互联网时代，随着电商外卖平台的发展，米粉界出现了一匹黑马，程某 2018 年开始进军米粉行业，将品牌命名为“好再来”。短短两年，他在 N 市开了六家连锁店和一个中央厨房配送店，线上线下齐发力，成为 N 市米粉外卖排名第一的品牌。程某发现米粉行业的创业者，从业者虽然很多，但却没有人将米粉打造成标准化产品。因此传统的米粉店连锁加盟后口味往往并不统一。此外，米粉店受厨师的制约也很大，如果厨师换了，味道就变了。程某将米粉及配料送入自己的中央厨房统一生产，并保留了产品传统工艺的口感。只要从中央厨房出货，便可提供统一的标准化产品，并能降低从业者的劳动强度。

对于省外的朋友来说，很多人是通过自带“网红”属性的店铺了解南昌拌粉的。2019 年，南昌籍女星 L 的一条微博，将“勿忘我”这个品牌带入大众事业，让一家曾经默默无闻的小店创下一天 10 万元的营业额，以南昌拌粉为特色的“勿忘我”，短短数年间，开出了 150 多家直营店铺。比起传统的餐厅，“勿忘我”拥有“勿忘我智能餐厅系统”这个智慧的大脑，借助微信平台来完成从顾客点餐、下单、支付到取餐用餐的自助服务，对顾客来说，省去了排队买单等餐的宝贵时间。对餐厅来说，节省了大量的人力开支。“勿忘我”成功利用微信技术与智能餐厅管理系统，把线下流程搬到了线上，使人工成本精简到了极致，让粉丝分享成为宣传营销的主要手段。

除了部分“网红”米粉店在全国迅速扩张外，不少省内企业把目光投向产品创新。在一家龙头米粉生产企业的产品展厅里，企业负责人向记者展示了近百种新研发的米粉产品。一款最新研发的南昌拌粉速食产品，迎合了当下轻食健康潮流，既叫好又叫卖，成为线上“爆款”。“南昌拌粉名气在外，但相较于桂林米粉、柳州螺蛳粉、云南过桥米线、常德米粉等特色品牌产品，江西米粉在全国还缺少有影响力的餐饮连锁企业。”省粮油科技创新和物资储备中心副主任 F 说。

S 村有多家米粉加工厂，一些厂家虽然已取得了食品生产行政许可手续，但却没有严格遵守食品生产卫生规范。记者在 S 村看到，这些米粉加工企业很多都是大门紧闭，从外面很难窥见厂里的真实情况，记者进入一家开了门的加工厂探访，看到该厂的一条米粉烘干生产线旁，几名工人正在忙着对米粉进行烘干作业，但生产现场没有“三防”设施。生产线地面布满尘土、油污及杂乱工具，生产环境十分肮脏。此外，该厂还有一片露天区域，地面上还平铺晾晒着大量的米粉边角料，有些工人甚至直接在这些边角料上走来走去。

江西既有春丝食品这类历史悠久的米粉面条生产企业，也有不少新布局的大企业。全球供应链企业巨头益海嘉里在江西投资兴建了米粉专业生产供应链基地，其生产的米粉产品覆盖全国众多知名餐饮品牌，还有很多柳州螺蛳粉的生产企业与江西米粉供应链企业达成了定向采购合作。省商务厅副厅长 G 表示，我省正在重点培育 3 到 5 家年产值超 5 亿元、8 到 10 家年产值超 1 亿元的米粉龙头企业，同时扶持一批江西米粉品牌餐饮企业抱团发展，共同打造百亿元米粉产业，弘扬中华传统美食文化，对接世界米粉产业版图。搭建米粉产业的国际交流平台，促进中国与周边各国在米粉及相关产业方面的开放合作。构筑“一带一路”美食文化新纽带，让江西米粉更好地走向世界。

### 作答要求

三、省农业农村厅准备召开一次乡村振兴的工作座谈会，H 县 C 领导要参加会议并做现场发言，假如你所在的 H 县米粉产业资源丰富，根据给定资料 3，以“江西米粉产业推广”为主题，请你代 C 领导拟写一份发言提纲。(35 分)

- 要求：（1）题目自拟，紧扣资料；
- （2）重点突出，结构完整；
- （3）条理清晰，语言准确
- （4）500~600 字。



## 2019年6月23日江西省高校毕业生“三支一扶”招募考试试卷

### 《行政职业能力和农村工作能力测验》参考答案及解析

#### 第一部分 客观题

1. 【答案】D。解析：2019年5月20日至22日，习近平总书记在江西视察指导期间，深刻阐述了事关江西长远发展的根本性、方向性、全局性重大问题，对江西提出“在加快革命老区高质量发展上作示范、在推动中部地区崛起上勇争先”的殷切希望，提出了“五个推进”的更高要求。故本题选D。

2. 【答案】B。解析：开展“不忘初心、牢记使命”主题教育，要牢牢把握“守初心、担使命，找差距、抓落实”的总要求，牢牢把握“深入学习贯彻新时代中国特色社会主义思想、锤炼忠诚干净担当的政治品格、团结带领全国各族人民为实现伟大梦想共同奋斗”的根本任务，努力实现“理论学习有收获、思想政治受洗礼、干事创业敢担当、为民服务解难题、清正廉洁作表率”的具体目标，确保这次主题教育取得扎扎实实的成效。“弘扬爱国主义的优良传统”不属于“不忘初心、牢记使命”主题教育的根本任务。故本题选B。

3. 【答案】A。解析：国家统计局2019年1月21日发布数据显示，2018年全年国内生产总值900309亿元，按可比价格计算，比上年增长6.6%，实现了6.5%左右的预期发展目标；全年居民消费价格比上年上涨2.1%，全国城镇调查失业率为4.9%，比上年下降0.1个百分点。故本题选A。

4. 【答案】C。解析：“三个坚持”指坚持农村土地集体所有、不搞私有化；坚持农地农用、防止非农化；坚持保障农民土地权益、不得以退出承包地和宅基地作为农民进城落户条件。故本题选C。

5. 【答案】A。解析：A项错误，《乡村振兴战略规划（2018-2022年）》第十章关于“坚决打好精准脱贫攻坚战”提到，把打好精准脱贫攻坚战作为实施乡村振兴战略的优先任务，推动脱贫攻坚与乡村振兴有机结合相互促进，确保到2020年我国现行标准下农村贫困人口实现脱贫，贫困县全部摘帽，解决区域性整体贫困。因此，“2022年农村全面实现脱贫”表述有误。B、C、D项正确，《乡村振兴战略规划（2018-2022年）》第二篇关于“总体要求”提到，按照到2020年实现全面建成小康社会和分两个阶段实现第二个百年奋斗目标的战略部署，2018年至2022年这5年间，既要在农村实现全面小康，又要为基本实现农业农村现代化开好局、起好步、打好基础。故本题选A。

6. 【答案】C。解析：当前全球移动通信从1G到4G，基本是以十年一代的规律进行演进，标志性特征是传输速率的不断提升，目标是解决人与人之间的通信问题。具体来说，1G作为第一代模拟通信系统实现了语音通话；2G完成了从模拟到数字的转变，在支持语音通话的同时实现了上网功能；3G时代，移动通信的数据传输能力明显提升，可支持语音、图像和移动互联网业务等；2010年左右进入商用的4G，可支持高质量的视频传输和高速率的移动互联网业务，如手机导航、移动支付等应用，极大地方便了人们的生活；5G的服务对象从传统的人与人通信拓展到人与物、物与物通信，未来的发展目标是实现真正的万物互联。C项表述的对象应该是4G。故本题选C。

7. 【答案】D。解析：《个人所得税专项附加扣除暂行办法》第2条规定，本办法所称个人所得税专项附加扣除，是指个人所得税法规定的子女教育、继续教育、大病医疗、住房贷款利息或者住房租金、赡养老人等6项专项附加扣除。抚养子女不属于专项附加扣除的范畴。故本题选D。

8. 【答案】A。解析：《中国共产党支部工作条例（试行）》以习近平新时代中国特色社会主义思想为指导，以党章为根本遵循，既弘扬“支部建在连上”的光荣传统，又体现基层创造的新做法新经验，对党支部工作作出全面规范，是推动全面从严治党向基层延伸的重要举措，为提高新时代党支部建设的质量作出了基本的要求。故本题选A。

9. 【答案】B。解析：不作为犯罪是指行为人违反法律直接规定，负有法定义务而拒绝履行，情节严重或情节恶劣的行为。其成立条件包括：（1）行为人负有实施特定积极行为的具有法律性质的义务，这种义务的来源包括：①法律明文规定的积极行为义务；②职务或业务要求的作为义务；③法律行为引起的积极行为义务；④先行行为引起的积极作为义务。（2）行为人能够履行特定义务。（3）行为人不履行特定义务，造成或者可能造成危害后果。B项乙将不善于游泳的熊某拉到深水区教其游泳，乙的先行行为引起乙对熊某负有救助义务，后乙见熊某沉没而不救助致熊某溺亡的行为，构成不作为的犯罪。其他三项均不负有救助义务，因此，其不能成立不作为犯罪。故本题选B。

10. 【答案】C。解析：C项错误，“五四”运动最主要的矛盾是帝国主义和中华民族的矛盾，因为“五四”运动的起因主要是反对北洋政府在巴黎和会上签字，将山东的管辖权交给日本，激起了中国民众的强烈不满。同时还有大地主、大资产阶级、帝国主义支持下的北洋政府与人民大众之间的矛盾，这个“人民大众”也包括民族资产阶级。C项表述错误。故本题选C。

11. 【答案】C。解析：2018年9月19日，从西昌卫星发射中心升空的两颗北斗导航卫星，是我国首批装载搜救载荷的北斗导航卫星，也是北斗三号系统第13、14颗卫星。我国在这两颗卫星发射成功后建成北斗中轨搜救系统，并作为全球卫星搜救系统的组成部分，为全球海上、陆上和空中用户提供遇险报警及定位服务。故本题选C。

12. 【答案】B。解析：《在水一方》的歌词出自《诗经·蒹葭》。如歌词“绿草苍苍，白雾茫茫。有位佳人，在水一方”对应的就是《诗经·蒹葭》中的“蒹葭苍苍，白露为霜。所谓伊人，在水一方”。故本题选B。

13. 【答案】C。解析：“三不朽”指的是立德、立功、立言，出自《左传·襄公二十四年》，其中记载道：“太上有立德，其次有立功，其次有立言，虽久不废，此之谓不朽。”故本题选C。

14. 【答案】A。解析：A项错误，四川盆地和汉水谷地的界线为大巴山脉、米仓山脉；四川盆地和长江中下游平原的界线则是巫山。B、C、D项均正确。故本题选A。

15. 【答案】D。解析：“两不愁三保障”是我国在易地扶贫搬迁中提出的主要目标。“两不愁”即稳定实现农村贫困人口不愁吃、不愁穿，“三保障”即义务教育、基本医疗和住房安全有保障。故本题选D。

16. 【答案】D。解析：以危险方法危害公共安全罪是一个概括性罪名，是故意以放火、决水、爆炸以及投放危险物质以外的并与之相当的危险方法，足以危害公共安全的行为。该罪侵犯的客体是公共安全，主观表现为故意。与过失以危险方法危害公共安全罪不同的是，该罪属于行为犯，无论是否造成严重后果，只要实施危害公共安全的行为都能构成该罪。A、B项均属于危险驾驶罪，C项属于交通肇事罪，D项“横冲直撞”属于主观上的故意，属于以危险方法危害公共安全罪。故本题选D。

17. 【答案】C。解析：农业现代化是指由传统农业转变为现代农业，把农业建立在现代科学的基础上，用现代科学技术和现代工业来装备农业，用现代经济科学来管理农业，创造一个高产、优质、低耗的农业生产体系和一个合理利用资源、又保护环境的、有较高转化效率的农业生态系统。农业现代化的基本内容，包括农业生产手段（条件）现代化、农业生产技术现代化和农业生产管理现代化。农业生产工具现代化不属于农业现代化的基本内容。故本题选C。

18. 【答案】B。解析：《土地管理法》第8条规定，城市市区的土地属于国家所有。农村和城市郊区的土地，除由法律规定属于国家所有的以外，属于农民集体所有；宅基地和自留地、自留山，属于农民集体所有。因此，村民经审批取得宅基地后，只拥有宅基地的使用权，不拥有土地的所有权。故本题选B。

19. 【答案】C。解析：2018年10月23日上午，港珠澳大桥开通仪式在广东珠海举行，习近平主席出席仪式，并宣布大桥正式开通。2018年10月24日上午9时正式通车。故本题选C。

20. 【答案】A。解析：A项错误，合作具有自愿性、自主性和互助性，因此合作社是一种开放型的经济组织。B、C项正确，合作社是劳动群众自愿联合起来进行合作生产、合作经营所建立的一种合作

组织形式，因此合作社是按照合作制原则组建起来的，是劳动者的联合组织。D项正确，以其自身的功能标准，合作社可分为生产类合作社和服务类合作社，因此合作社是一种特殊的服务型企业。故本题选A。

21. 【答案】A。解析：《合同法》第80条规定，债权人转让权利的，应当通知债务人。未经通知，该转让对债务人不发生效力。债权人转让权利的通知不得撤销，但经受让人同意的除外。本题中乙丙之间的债权转让未通知甲，因此对甲不发生效力，即乙丙之间的债权转让无效，则B、C、D项表述错误。故本题选A。

22. 【答案】A。解析：村民自治的实质就是广大农民群众直接行使民主权利，依法办理自己的事情，创造自己的幸福生活，实行自我管理、自我教育、自我服务的一项基本社会政治制度。村民自治的主要内容是“四个民主”，即民主选举、民主决策、民主管理、民主监督。A项“民主评议”不属于村民自治。故本题选A。

23. 【答案】D。解析：有机蔬菜是指在蔬菜生产过程中严格按照有机生产规程，禁止使用任何化学合成的农药、化肥、生长调节剂等化学物质，以及基因工程生物及其产物，而是遵循自然规律和生态学原理，采取一系列可持续发展的农业技术，协调种植平衡，维持农业生态系统持续稳定，且经过有机食品认证机构鉴定认证，并颁发有机食品证书的蔬菜产品。D项错误，农民在自家地里种植蔬菜的过程中可能会对蔬菜施肥，有虫害时还会打农药，不符合有机蔬菜的要求。故本题选D。

24. 【答案】D。解析：2019年召开的全国生态环境保护工作会议指出，打好碧水保卫战是2019年的重点工作，而内河内湖生态治理是打赢这一战役的重要保障。故本题选D。

25. 【答案】A。解析：A项错误，处暑表示炎热的暑天结束，反映的是温度变化；反映物候现象的节气是惊蛰、清明、小满和芒种。B项正确，夏至这天，太阳直射地面的位置到达一年的最北端，几乎直射北回归线，此时，北半球各地的白昼时间达到全年最长。C项正确，反映季节的节气有立春、春分、立夏、夏至、立秋、秋分、立冬、冬至。D项正确，反映天气现象的节气有雨水、谷雨、白露、寒露、霜降、小雪和大雪；白露、寒露、霜降反映气温逐渐下降的过程和程度。故本题选A。

26. 【答案】B。解析：文段首句讲现在不少博物馆都设置有传感器，以便收集观众停留时间和是否拍照等行为数据作为改进展览的依据，后文通过法国卢浮宫和陕西历史博物馆的例子加以论证。显然，文段意在说明数字技术的运用可以提高博物馆的管理和服务水平，B项正确。A项“改善工作提供依据”的目的是为了“提升管理和服务水平”，C项“都得到了运用”说法过于绝对，D项无中生有。故本题选B。

27. 【答案】A。解析：文段讲共享经济习惯把潜在风险转嫁给他人，回避短板，甚至公然违背“禁投令”，管理部门必须通过强硬措施进行回应，并以共享单车企业对单车投放不负责任的例子加以论证。可见，文段意在强调管理部门应对共享经济组织的公共管制。B、C项均是文段例证的内容，D项“遵循‘谁获益，谁买单’的原则”表述过于宽泛。故本题选A。

28. 【答案】D。解析：横线位于段落中间，应起到承上启下的作用。前文讲政府服务窗口的隔离玻璃，不仅是一面“有形”的墙隔开了与百姓的接触，也是一面“无形”的墙可能隔开民心。后文讲玻璃墙的存在很大程度上暴露服务意识的缺失，而这样的心态也会成为政府部门与群众之间的“心墙”。可见，横线前后都在讲无形的墙，D项填入衔接最为紧密。A项“趋势”无法体现；B项横线前面已论述；C项仅衔接上文，无法衔接下文。故本题选D。

29. 【答案】C。解析：文段讲当今世界不同文明之间的较量、冲突和对抗已经成为关乎人类前途命运的重大课题，只有进行文明对话、文明交流、文明互鉴，才能战胜这些冲突与对抗。显然，文段的落脚点是“对话、交流与互鉴”，只有C项符合。A项仅是文段部分内容，B、D项均仅是问题表述。故本题选C。

30. 【答案】B。解析：观察选项，可先确定首句，①讲天地之书的内涵，指出“读天地之书仍然是人类一刻也不能停息的必修课”，④讲“人类经历了漫长的读天地之书的时光”引出“天地之书”这一



话题，按照逻辑应先引出话题再进一步阐述，④作为首句更贴切，排除 A、C 项。比较 B、D 项，④提到“文字出现之前”，与②“发明了文字之后”有明显的时间顺承关系，则④②捆绑，排除 D 项。验证 B 项，符合语句逻辑关系。故本题选 B。

31. 【答案】C。解析：先看第一空，艺术是人的本质力量和自然本性的表现，“内化”明显不符合语意，排除 A 项。再看第二空，由“不是……而是……”可知，此处填入的成语含有一定的贬义色彩，只有“一意孤行”（指不接受别人的劝告，顽固地按照自己的主观想法去做）最符合，排除 B、D 项。故本题选 C。

32. 【答案】A。解析：直接看第一空，“结成”偏口语化，不符合书面的语体色彩，排除 C 项；“缔结”指订立、签订，“缔约”指订立盟约，二者均无法搭配“命运共同体”，排除 B、D 项。验证 A 项，“缔造”（指创建）搭配“命运共同体”，“凝聚”（指凝结、集中）搭配“精神价值”，均恰当。故本题选 A。

33. 【答案】C。解析：先看第一空，“百转千回”形容反复回旋或进程曲折，也指经历了很多周折，“坚贞不屈”形容意志坚定、决不屈服，前者通常修饰事物，后者通常修饰人，二者均无法修饰“奋斗精神”，排除 A、B 项。再看第二空，根据后文“薪火相传”可知，“红船精神”体现出时间上的延续，则“历久弥新”（指经历长久的时间而更加鲜活，更加有活力，更显价值）更恰当，排除 D 项。故本题选 C。

34. 【答案】B。解析：先看第一空，根据前文“功亏一篑”可知，做事如果不能慎终就可能失败，“半途而废”词义较轻，排除 D 项。再看第二空，根据前文“上坡、上山、上梁”和后文“精心挥洒，创作了《转战陕北》这幅名画”可知，“他”接受任务后就会全身心投入，且才华横溢，“激情横溢”最贴切，排除 A、C 项。故本题选 B。

35. 【答案】C。解析：先看第一空，“策源地”指战争、社会运动等策动、起源的地方，不符合语意，排除 B 项。再看第二空，“不约而同”指事先没有约定，彼此的言论或行动却完全一致，填入该处不符合句子语法结构，排除 A 项；“异曲同工”比喻话的说法不一而用意相同，或一件事情的做法不同而都巧妙地达到目的，“中国领导人的远见”与“联合国教科文组织的使命”并非“说法”或“做法”，排除 D 项。验证 C 项，“发祥地”原指帝王祖先兴起的地方，现用来指民族、革命、文化等起源的地方，“不谋而合”指事先没有商量过，意见或行动却完全一致，形容“中国领导人的远见”与“联合国教科文组织的使命”基本相同，二者均符合语意。故本题选 C。

36. 【答案】D。解析：矩形 DGHF 的面积=GD×AE，矩形 BCFE 的面积=AD×EB。因此矩形 DGHF 与矩形 BCFE 的面积之比为  $\frac{GD \times AE}{AD \times EB} = \frac{GD}{AD} \times \frac{AE}{EB}$ ， $\frac{GD}{AD} = \frac{GD}{AG + GD} = \frac{2}{\sqrt{5} + 1} = \frac{\sqrt{5} - 1}{2}$ ， $\frac{AE}{EB} = \frac{\sqrt{5} - 1}{2}$ ，则题干所求为  $\frac{\sqrt{5} - 1}{2} \times \frac{\sqrt{5} - 1}{2} = \frac{3 - \sqrt{5}}{2}$ 。故本题选 D。

37. 【答案】C。解析：谈话时间是固定的，谈话总时间为 10+8+5=23 分钟，要使时间最短，则应使等待时间之和最短，即先安排谈话时间短的人，则谈话顺序为丙、乙、甲，等待时间之和为 2×5+8=18 分钟。综上，合理安排的最短时间为 23+18=41 分钟。故本题选 C。

38. 【答案】A。解析：假设 A 项正面和顶面正确，则右面的线条应从左上角连向右下角，因此 A 项不能由展开图折叠而成。故本题选 A。

39. 【答案】B。解析：前三个图形为一组，后三个图形为一组。每组中，第一个图形由第三个图形叠加在第二个图形上得到，则问号处图形为 B 项。故本题选 B。

40. 【答案】C。解析：“制度的反功能”的定义要点是“系统良性运行产生破坏作用”。A 项迟到现象比之前减少了，没有产生破坏作用，不符合定义要点，排除。B 项觉得不合理就取消了，未体现破坏作用，不符合定义要点，排除。C 项引发了教师争抢上课、乱发文章等问题，产生了破坏作用，符合

定义要点，当选。D项一个月增加了5万元销售额，没有产生破坏作用，不符合定义要点，排除。故本题选C。

41.【答案】D。解析：“线性文化遗产”的定义要点是“文化遗产族群”“运河、道路以及铁路线等都是重要的表现形式”。A项丝绸之路、B项京杭大运河和C项茶马古道均是文化遗产族群，符合定义，均排除。D项黄河故道不属于文化遗产族群，它只是族群中的一部分，不符合定义要点，当选。故本题选D。

42.【答案】B。解析：已知C和D不入选，且B不能和男生同时入选，若选B，则只有A可以选择，不能组成三人团队，因此B不能选。B、C、D均不能选，而A和E不能同时选择，则可以组成的形式为AFG和EFG，共两种。故本题选B。

43.【答案】D。解析：假设A项正确，即小李第三名，小赵第四名，则乙、丁均预测错误，不符合“四人中只有一人预测错”，排除。假设B项正确，即小张第一名，小李第二名，小赵第三名，小王第四名，则甲、乙、丙、丁四人预测均正确，不符合“四人中只有一人预测错”，排除。假设C项正确，即小张第二名，小李第四名，则甲、丁均预测错误，不符合“四人中只有一人预测错”，排除。验证D项，四人中只有丁预测错误，小王第三名。故本题选D。

44.【答案】B。解析：信件被投放在邮箱里，邮递员从邮箱中取走信件；B项垃圾被投放在垃圾桶里，清洁工从垃圾桶中取走垃圾。A项教室是教师的工作场所，与题干逻辑关系不一致，排除。C项顾客在服装店消费，店长管理服装店，与题干逻辑关系不一致，排除。D项学生用卷笔刀削铅笔，与题干逻辑关系不一致，排除。故本题选B。

45.【答案】D。解析：选项逐一代入。A项弹奏钢琴需要乐谱，归类和分类为近义关系，前后逻辑关系不一致，排除。B项谱曲后可以形成乐谱，对信息进行分类，前后逻辑关系不一致，排除。C项五线谱属于乐谱，对商品进行分类，前后逻辑关系不一致，排除。D项根据乐谱进行演奏，根据标准进行分类，前后逻辑关系一致。故本题选D。

46.【答案】A。解析：根据折线图可知，2015年报考人数为164.9万人，2019年为290万人，则2015~2019年年均增长率为 $(\sqrt[4]{\frac{290}{164.9}} - 1) \times 100\% \approx (\sqrt[4]{1.76} - 1) \times 100\% \approx 15\%$ 。根据折线图可知，2010~2019年报考人数的年增长率超过15%的只有2018年和2019年，共2年。故本题选A。

47.【答案】D。解析：录取率= $\frac{\text{录取人数}}{\text{报考人数}}$ 。2010年录取率为 $\frac{47.4}{140.6} \times 100\% \approx 33.7\%$ ，2015年为 $\frac{57.1}{164.9} \times 100\% \approx 34.6\%$ ，2016年为 $\frac{59}{177} \times 100\% \approx 33\%$ ，2017年为 $\frac{72}{201} \times 100\% > \frac{70}{200} \times 100\% = 35\%$ 。因此录取率最高的年份是2017年。故本题选D。

48.【答案】B。解析：2019年报考人数为290万人，录取人数为80.6万人；2010年报考人数为140.6万人，录取人数为47.4万人。因此2019年未录取人数比2010年增长了 $290 - 80.6 - (140.6 - 47.4)$ 万人，尾数为 $10 - 6 - 6 + 4 = 2$ ，B项符合。故本题选B。

49.【答案】B。解析：根据折线图可知，报考人数增长率最高的是2019年，最低的是2015年。2019年报考人数增长率为 $\frac{290 - 238}{238} \times 100\% = \frac{52}{238} \times 100\% \approx 21.8\%$ ，2015年增长率为 $\frac{164.9 - 172}{172} \times 100\% = \frac{-7.2}{172} \times 100\% \approx -4.1\%$ ，前者与后者相差 $21.8\% - (-4.1\%) = 25.9\%$ ，即相差25.9个百分点，B项与之最接近。故本题选B。

50.【答案】C。解析：A项错误，根据折线图可知，2014年和2015年报考人数增长率均为负数，即较上年有所减少。B项错误，根据折线图可知，2012年报考人数增长率高于2011年，即2012年报考



人数增速同比上升。C项正确，根据折线图可知，2017年录取人数增加值比其他年份大很多（约为3倍），而基期量差距较小，因此2017年录取人数增速最快。D项错误，计算较复杂，忽略。故本题选C。

## 第二部分 主观题

一、根据给定资料1，概括S市农业科技特派员帮扶的主要类型。（10分）

要求：概括全面、准确，条理清晰，不超过150字。

### 【参考答案】

1.成果转化型。转化新技术项目，建立科技示范基地，加快农业科技成果转化应用。2.法人助推型。各类农业研发、生产经营主体作为法人科技特派员，形成结对帮扶。3.农技服务型。发挥技术专长，推广轮作模式。4.互联网产销型。以“互联网+农业”模式，带动当地产品销售。5.培养人才型。选择重点培养对象，发展科技致富带头人。（150字）

二、结合给定资料2，谈谈你对“互联网+农业”的认识。（15分）

要求：紧扣资料，观点明确；分析透彻，条理清晰；不超过300字。

### 【参考答案】

“互联网+农业”是运用互联网发展各种亲农惠农新业态、新模式，是促进乡村振兴的必然选择，值得推广。一方面，在“互联网+农业”农产品销售的新业态下，依托互联网精准高效的优势，通过举办农产品相关节庆等活动，推动优质特色农产品的销售，实现百姓增收。另一方面，在“互联网+农业”智能创新生产的新模式下，依托互联网信息共享的优势，利用互联网平台，让农民自主对接农机，及时完成收割，并对网络系统平台进行实时监测、统一调度、协调管理，实现农机智能化升级，提高农业生产效率。“互联网+农业”满足“三农”发展多样化需求，推动农产品出村上行，实现现代农业生产创新发展，可推动农村产业融合，实现乡村振兴。（290字）

三、假如你是R县农业农村服务部门的工作人员，要参加全市农村垃圾分类工作经验交流会，请根据给定资料3，拟定一份介绍R县农村垃圾分类工作的发言提纲。（35分）

要求：紧扣资料，结构完整；重点突出，特色鲜明；条理清晰，语言准确；500~600字。

### 【参考答案】

#### 关于R县农村垃圾分类工作经验的发言提纲

随着工业化、城镇化的加速发展，人们生活水平不断提升，城乡各类新旧垃圾问题正在给生态环境埋下隐患，困扰着民众生活。面对“无力处置、无处可去、低效利用”的窘境，R县作为我市农村生活垃圾分类试点区，从2009年开始试点，多年来不断探索，形成了有效的垃圾分类处理模式。现将有关经验分享如下：

#### 一、实施相关管理办法

颁布实施《R县生活垃圾分类管理办法》，明确城乡垃圾分类投放、收运、处置各环节实施主体，设立“拒收制”倒逼企业、个人进行垃圾分类。

#### 二、鼓励村民积极参与

村民首先自行对废品进行资源重新归置，将不可腐烂的垃圾重新分成6大类。以4个月为周期，由第三方机构对村民投放的可回收垃圾数量和实现价值量进行鉴定打分，奖励总分排名靠前的村民。

#### 三、运用数字化技术

开发“回收垃圾”App，利用信息化技术，精准推送和接受信息，由环境科技有限公司的专职“垃圾快递员”上门按市场价回收废品。

#### 四、垃圾分类专业化运营

鼓励社会资本参与，引入专业化运营服务，启动“互联网+再生资源回收”模式，优化农村回收网络和回收模式，构建便民利民的废品回收网络。

#### 五、垃圾分类全域覆盖

对全县 465 个行政村实行上门回收，提升农村可回收垃圾的收运服务水平，实现农村垃圾分类全域覆盖。

R 县农业农村服务部门 XXX  
XX 年 XX 月 XX 日

(542 字)

## 2020年7月26日江西省高校毕业生“三支一扶”招募考试试卷 《行政职业能力和农村工作能力测验》

### 第一部分 客观题

1. 【答案】A。解析：习近平在第十三届全国人民代表大会第一次会议上指出。中国人民是具有伟大创造精神的人民，具有伟大奋斗精神的人民，具有伟大团结精神的人民，具有伟大梦想精神的人民。故本题选A。

2. 【答案】C。解析：习近平总书记在主持学习时强调，民法典在中国特色社会主义法律体系中具有重要地位，是一部固根本、稳预期、利长远的基础性法律，对推进全面依法治国、加快建设社会主义法治国家具有重大意义。故本题选C。

3. 【答案】D。解析：尊重自然，是人与自然相处时应秉持的首要态度，要求人对自然怀有敬畏之心、感恩之情、报恩之意，尊重自然界的创造和存在，绝不能凌驾于自然之上。故本题选D。

4. 【答案】C。解析：2019年在武汉发现病毒性肺炎病例，2020年1月12日世界卫生组织暂将其命名为“2019-nCoV”。同年2月11日在日内瓦，世卫组织总干事将新型冠状病毒（2019-nCoV）引发的疾病正式命名为COVID-19。故本题选C。

5. 【答案】C。解析：2020年我国爱国卫生月主题是“防疫有我，爱卫同行”。各地通过广泛发动群众参与疫情防控，发挥卫生城镇、健康城镇的示范引领作用，为新冠肺炎疫情防控打下坚实基础。故本题选C。

6. 【答案】D。解析：《农民专业合作社法》第20条第一款规定，农民专业合作社的成员中，农民至少应当占成员总数的百分之八十。故本题选D。

7. 【答案】A。解析：江西素称“文章节义之邦”。以诗而言，陶渊明创立田园诗派；黄庭坚创立江西诗派；杨万里创立诚斋诗体；王安石创立半山体；“元诗四大家”中，江西虞集、范梈、揭傒斯占其三。故本题选A。

8. 【答案】C。解析：A、B、D三项均正确。C项错误，鄱阳湖水系主要是由赣江、抚河、信江、饶河、修水五大主干河流和其他的支流组成，它的径流量主要由降水补给，并且五河入湖径流年内分配与降水分配一致，极度不均匀。故本题选C。

9. 【答案】D。解析：A项正确、D项错误，《农业法》第89条规定，农业行政主管部门与农业生产、经营单位必须在机构、人员、财务上彻底分离。农业行政主管部门及其工作人员不得参与和从事农业生产经营活动。B项正确，《农业法》第33条第一款和第二款规定，在粮食的市场价格过低时，国务院可以决定对部分粮食品种实行保护价制度。保护价应当根据有利于保护农民利益、稳定粮食生产的原则确定。C项正确，《农业法》第10条第一款规定，国家实行农村土地承包经营制度，依法保障农村土地承包关系的长期稳定，保护农民对承包土地的使用权。故本题选D。

10. 【答案】D。解析：A项正确，《村民委员会组织法》第15条第四款规定，登记参加选举的村民，选举期间外出不能参加投票的，可以书面委托本村有选举权的近亲属代为投票。村民选举委员会应当公布委托人和受委托人的名单。B项正确，D项错误，《村民委员会组织法》第11条规定，村民委员会主任、副主任和委员，由村民直接选举产生。任何组织或个人不得指定、委派或者撤换村民委员会成员。村民委员会每届任期三年，届满应当及时举行换届选举。村民委员会成员可以连选连任。C项正确，《村民委员会组织法》第6条第一款规定，村民委员会由主任、副主任和委员共三至七人组成。故本题选D。

11. 【答案】C。解析：根据《野生动物保护法》第10条第二款的规定，国家重点保护野生动物名录，由国务院野生动物保护主管部门组织科学评估后制定，并每五年根据评估情况确定对名录进行调整。故本题选C。

12. 【答案】B。解析：A项正确，《农业行政处罚程序规定》第6条第二款规定，农业行政执法证件由农业农村部统一制定，省、自治区、直辖市人民政府农业农村主管部门负责本地区农业行政执法证件的发放和管理工作。B项错误，《农业行政处罚程序规定》第32条第二款规定，农业行政执法人员调查收集证据、进行检查时不得少于二人，并应当出示农业行政执法证件。C项正确，《农业行政处罚程序规定》第15条规定，对当事人的同一违法行为，两个以上农业行政处罚机关都有管辖权的，应当由先立案的农业行政处罚机关管辖。D项正确，《农业行政处罚程序规定》第14条第一款规定，电子商务平台经营者和通过自建网站、其他网络服务销售商品或者提供服务的电子商务经营者的农业违法行为由其住所地县级以上农业行政处罚机关管辖。故本题选B。

13. 【答案】A。解析：A项正确，级差地租是指由于耕种的土地优劣等级不同而形成的地租，分为资本主义级差地租和社会主义级差地租。资本主义级差地租是租种优等地和中等地的农业资本家所获得而转归于大土地所有者的超额利润。B项错误，相对地租是直接生产者在农业(或其他产业)中所创造的生产物被土地所有者占有的相对部分，是土地所有权借以实现的经济形式。C项错误，垄断地租指从具有独特自然条件的土地所获得的超额利润转化而来的地租。D项错误，绝对地租是指由于土地私有制的存在，租种任何土地都必须缴纳的地租，其实是农产品价值高于社会生产价格所产生的那部分超额利润，即土地所有者凭借土地私有制的垄断所取得的地租。故本题选A。

14. 【答案】A。解析：A项正确，政策性银行是由政府创立和担保，以贯彻国家产业政策和区域发展政策为目的，具有特殊的融资原则，不以营利为目标的金融机构。B项错误，农业银行属于国有商业银行，国有商业银行是指由国家(财政部、中央汇金公司)直接管控的大型商业银行。C项错误，信用合作社是指由个人集资联合组成，以互助为主要宗旨的合作金融组织。D项错误，投资银行是与商业银行相对应的一类金融机构，主要从事证券发行、承销、交易、企业重组、兼并与收购、投资分析、风险投资、项目融资等业务的非银行金融机构，是资本市场上的主要金融中介。故本题选A。

15. 【答案】B。解析：《宪法》规定我国公民的基本权利，主要包括以下几个方面：(1)法律面前一律平等；(2)政治权利和自由；(3)宗教信仰自由；(4)人身与人格权；(5)监督权；(6)社会经济权利；(7)社会文化权利和自由；(8)妇女保护权；(9)婚姻、家庭、母亲和儿童受国家保护；(10)华侨、归侨和侨眷的正当权利和利益受国家保护。B项受教育权属于社会文化权利，A、C、D三项均不属于我国公民的基本权利。故本题选B。

16. 【答案】B。解析：A、C、D三项均正确。B项错误，2021年2月22日，国新办举行全面推进乡村振兴加快农业农村现代化发布会，会上指出，严格禁止城里人下乡利用农村宅基地建设别墅大院和私人会馆等。故本题选B。

17. 【答案】D。解析：党的十九大报告指出：实施乡村振兴战略，要坚持农业农村优先发展，按照产业兴旺、生态宜居、乡风文明、治理有效、生活富裕的总要求，建立健全城乡融合发展体制机制和政策体系，加快推进农业农村现代化。故本题选D。

18. 【答案】C。解析：根据《刑事诉讼法》第101条第二款规定，如果是国家财产、集体财产遭受损失的，人民检察院在提起公诉的时候，可以提起附带民事诉讼。王某的犯罪行为使村集体财产遭受损失，人民检察院在对王某提起诉讼时，可以提起附带民事诉讼。故本题选C。

19. 【答案】C。解析：新基建是新型基础设施建设的简称，它包含特高压、新能源汽车充电桩、5G基站建设、大数据中心、人工智能、工业互联网、城际高速铁路和城市轨道交通等七大领域。C项高速公路建设不属于新基建。故本题选C。

20. 【答案】A。解析：建国以来，我国农村生产关系的变革与调整经历了四个步骤，依次为：1950~1952年的土地改革、1953~1956年的农业合作化、1958年的人民公社化、1978年改革开放后实行的家



庭联产承包责任制。故本题选 A。

21. 【答案】B。解析：先看第一空，“跳跃”指两脚用力，使身体离开地面，与岩壁无法搭配，不符合实际，排除 D 项。再看第二空，“徜徉”指闲游，安闲自在地步，无法与大海搭配，排除 C 项。再看第三空，“飞翔”指飞行，“飞驰”形容疾速，相较之下，后者更能体现出极限运动的特点，排除 A 项。故本题选 B。

22. 【答案】A。解析：先看第一空，前文“富贵本无根，尽从勤里得”的意思是富贵本来不是固定不变的，全靠勤劳获得，“平淡”指平常、没有曲折，不符合语意，排除 B 项。再看第三空，由前文“更上一层楼”可知，此处应指努力达到更高层次，含有上升、进步的意思，“豁达”指心胸开阔、性格开朗，“精深”指（学问或理论）精湛高深，二者均不符合语意，排除 C、D 项。验证第二空，由前文“读书破万卷”可知，此处强调应通过努力达到博学的境界，“勤奋”符合语意。故本题选 A。

23. 【答案】A。解析：先看第一空，“流逝”比喻像流水一样迅速消逝，与后文“慢慢失去”矛盾，排除 B 项。再看第二空，“积累”指逐渐聚集，无法与“时光”搭配，排除 D 项；比较“沉积”和“沉淀”的区别，“沉积”侧重量的积累，“沉淀”侧重凝聚后质的变化，此处讲很多失去在时光的作用下变成了得到，是一种质的变化，“沉淀”更符合语意，排除 C 项。故本题选 A。

24. 【答案】D。解析：先看第二空，“机缘”指众生信受佛法的根机和因缘，可以理解为有利的环境条件，“机会”指具有时间性的有利情况，此处讲疫情虽然影响了我们的身边环境，但也让我们亲近了经典，“机缘”更符合语意，排除 A、B 项。再看第一空，辨析两个词语的意思，“浮躁”形容轻浮急躁的性情，“躁动”指因急躁而活动，或不停地跳动，多作动词用，根据前文“匆忙”和顿号可知，此处填入“浮躁”更符合语意，排除 C 项。故本题选 D。

25. 【答案】B。解析：横线位于文段中间，应起承上启下的作用。前文为一句号召的口号，号召人们到祖国需要的地方去，后文讲这样的责任担当激励着无数年轻人投身基层，写下一个个动人的奋斗故事。可见，横线处应体现一种甘于奉献的精神，B 项正确。C 项“青春呼唤”、D 项“时代呐喊”文段均无从体现，A 项投身基层，建设祖国与“英雄气概”无关，不符合文意。故本题选 B。

26. 【答案】A。解析：通读 6 个句子可知，④提出“在旧城改造中，如何既提升居住品质，又留住历史记忆和文化根脉”的问题，⑥给出借鉴永庆坊微改造的对策，因此⑥应在④之后，排除 B、C 项。再看其余句子，③同样提到了永庆坊微改造，故③也应在④之后，排除 D 项。验证 A 项，符合语句逻辑关系。故本题选 A。

27. 【答案】C。解析：文段先讲健康码的产生背景，再强调健康码的使用应着眼长远，深入研究，从“管一时”变成“管长久”，最后引用专家观点再次强调要将健康码用于今后数字化城市治理和公共卫生服务。可见，文段意在强调健康码的深度应用。A 项“技术支撑”文段未提及，B 项“防疫功能”和 D 项“产生背景”均为文段部分内容。故本题选 C。

28. 【答案】A。解析：文段讲人脸识别越来越普遍，但在便利的同时，也有风险需要警惕，接下来讲媒体调查发现的一些非法兜售人脸信息数据和非法操作人脸验证的行为。可见，文段主要讲人脸信息被非法盗用的情况，A 项正确。B 项“不可兼得”文段无从体现；C、D 项“隐私”范围扩大，人脸信息仅为隐私的一部分。故本题选 A。

29. 【答案】D。解析：文段先讲网红带货对疫情期间的市场活跃与经济发展起到了一定的积极作用，接下来讲个别网红误导宣传、兜售“三无”产品等失信行为损害了消费者的权益，破坏了市场秩序。可见，文段旨在强调网红带货的行为需要被监督，不能放任自流，D 项正确。A 项仅为文段部分内容；B、C 项未提及“网红带货”，偏离文段论述主体。故本题选 D。

30. 【答案】A。解析：文段讲将实体书店与电子阅读、网上书店相比较，强调实体书店的仪式感和不可替代性，接下来讲纸质书印刷并未随科技进步和社会变迁而被取代，反而逐渐被扶持。可见，文段意在强调实体书店的不可替代性，A 项正确。B 项仅对应文段部分内容；C、D 项文段均无法体现。故本题选 A。



31. 【答案】A。解析：根据题意可知，要求最低分最少，则其余四门课成绩应尽可能高，且有三门课的成绩一样，则四门课程的分数分别为98分、98分、98分、97分，因此最低分应为 $90 \times 5 - (98 \times 3) - 97 = 59$ 分。故本题选A。

32. 【答案】A。解析：设甲工程队工作效率为 $x$ ，乙工程队工作效率为 $y$ ，A、B两个工程总工程量都为1。根据题意有 $y \times \frac{1}{3x} + \frac{y}{2} \times \frac{2}{3x} = 1$ ，解得 $\frac{y}{x} = \frac{3}{2}$ 。因此甲、乙两工程队的施工速度比为2:3。故本题选A。

【难易程度】易

33. 【答案】B。解析：根据题意可知，将正方形院子分割为四小块，有6条边，9个角，因为每条边的小木条数均相同，且每个角都重复计算1次，则每条边最多插 $(72+9) \div 6 = 13 \cdots 3$ 根小木条。因此多准备了3根小木条。故本题选B。

34. 【答案】A。解析：题干各图形对称轴数依次为：3、2、1、(0)，则问号处图形对称轴数应为0。观察选项，只有A项符合。故本题选A。

35. 【答案】D。解析：题干各图形元素种类数均为2，则问号处图形元素种类数应为2。观察选项，只有D项符合。故本题选D。

36. 【答案】C。解析：题干各图形均由两种元素构成，且前一个图形中的较小元素是后一个图形中的较大元素，则问号处图形应包含两种元素，其中较大元素为爱心形状。观察选项，只有C项符合。故本题选C。

37. 【答案】D。解析：“边际递减效应”定义要点：①投入要素连续地等量增加；②增加到一定产值后，所提供的产品的增量就会下降。A项撒100公斤化肥时增加产量最多，随后接着撒化肥增加的产量就会减少甚至减产，符合①②，排除。B项政策刚出台时效果最明显，时间久了效果逐渐变差，不适宜社会管理的需要，符合①②，排除。C项没有鞋穿的人刚得到鞋子时，给鞋子打高分，但得到的鞋子越开越多时，分数越来越低，符合①②，排除。D项在王老师的辅导下，学生成绩提高很快，符合①；学生打算继续跟着王老师学习，没有体现增量下降，不符合②，当选。故本题选D。

38. 【答案】D。解析：“语音”定义要点：①人类通过发音器官发出来的、具有一定意义的；②用来进行社会交际。A项钢琴声不是人类通过发音器官发出来的声音，不符合①，排除。B项哈哈大笑的声音不是用来进行社会交际，不符合②，排除。C项自言自语声不是用来进行社会交际，不符合②，排除。D项张某和李某的争辩声符合①；为了讨论、社会交际发出的争辩声符合②，当选。故本题选D。

39. 【答案】B。解析：“光的反射”定义要点是“光从一种介质射向另一种介质表面时，在界面处有一部分光返回原介质的现象”。A项小孔成像是利用光的直线传播，没有体现光返回原介质，不符合定义要点，排除。B项水面上房子的倒影是由于光被水面反射进入人的眼睛，所以才可以在水中看到房子的倒影，符合定义要点，当选。C项手影是利用光的直线传播，没有体现光返回原介质，不符合定义要点，排除。D项海市蜃楼是由遥远物体折射形成的幻觉，在陆地或海上都能看到，不符合定义要点，排除。故本题选B。

40. 【答案】C。解析：二氧化碳含量过多会引起温室效应，二者为因果关系；C项洪水过多会引起水灾，二者为因果关系。A项农田里种有茄子，排除。B项手机与网络无明显关系，排除。D项香蕉属于水果，二者为种属关系，排除。故本题选C。

41. 【答案】C。解析：典故“刮目相看”的主人公是吕蒙，C项典故“风声鹤唳”的主人公是苻坚。A项典故“老当益壮”的主人公是马援，排除。B项典故“鸡鸣狗盗”的主人公是孟尝君，排除。D项典故“一鼓作气”的主人公是曹刿，排除。故本题选C。

42. 【答案】A。解析：葡萄与蜻蜓为全异关系，A项玻璃与琵琶为全异关系。B项马路是笔直的，二者为修饰关系，排除。C项集训与穷苦无明显联系，排除。D项人民组成国家，排除。故本题选A。

43. 【答案】C。解析：A项由“远程办公是一个在新兴行业和互联网中兴起的新事物，而疫情在全

球范围内加速了远程办公的方法革命，让新型办公模式浮出水面”可知疫情促使了新型办公模式的出现，极大改变了现代社会的运行方式，可以推出，排除。B、D项由“疫情在全球范围内加速了远程办公的方法革命，让新型办公模式浮出水面，为人类社会运行模式创新提供了可能”可知，疫情加速了新兴技术的应用，并且也会有创新产业的产生，可以推出，排除。C项题干仅指出疫情加速了远程办公的方法革命，促使新型办公模式浮出水面，并未表明远程办公会成为未来社会的最主要办公模式，没有比较趋势，无法推出，当选。故本题选C。

44. 【答案】C。解析：整理题干信息，老师的话完整应为：“可以写生，除非明天下雨；除非明天下雨，你们就在教室上自习。”翻译为①不写生→下雨；②下雨→教室自习。甲的话翻译为“下雨→教室自习”，与②的推出关系一致，理解正确。乙的话翻译为“教室自习→下雨”，与②的推出关系相反，理解错误。丙的话翻译为“不下雨→写生”，“不下雨”否定①的后件，可以推出否定前件，即去写生，理解正确。综上，甲和丙理解正确，乙理解不正确。故本题选C。

45. 【答案】C。解析：选项逐一代入。A项代入，去疗养的是A，则小易、小刘、小陈三人全部猜对，与题干条件不符，排除。B项代入，去疗养的是B，则小易、小刘、小陈三人全部猜对，与题干条件不符，排除。C项代入，去疗养的是C，则小易、小陈两人猜对，小刘猜错，符合题干条件，当选。D项代入，小易猜对，小刘、小陈两人猜错，与题干条件不符，排除。故本题选C。

46. 【答案】B。解析：根据第一段材料“截至2019年底，中国共产党党员总数为9191.4万名，比上年净增132.0万名”可知，截至2019年底，中国共产党党员总数比上年提高 $\frac{132}{9191.4-132} \times 100\% \approx 1.5\%$ 。故本题选B。

47. 【答案】C。解析：根据第一段材料“截至2019年底，中国共产党党员总数为9191.4万名”和“党员队伍文化程度继续提高，大专及以上学历党员达4661.5万名”可知，截至2019年底，具有大专以上学历的党员人数占中国共产党党员总数的比例约为 $\frac{4661.5}{9191.4} \times 100\% \approx 50.7\%$ 。故本题选C。

48. 【答案】B。解析：根据第一段材料“截至2019年底，中国共产党党员总数为9191.4万名，比上年净增132.0万名，女党员2559.9万名，比上年提高0.7个百分点”可知，截至2018年底，中国共产党党员总数为 $9191.4-132.0=9059.4$ 万名，女性党员人数约为 $\frac{2559.9}{1+0.7\%} \approx 2542.1$ 万名。则截至2018年底，女性党员人数占中国共产党党员总数的比例约为 $\frac{2542.1}{9059.4} \times 100\% \approx 28.1\%$ 。故本题选B。

49. 【答案】B。解析：根据第二段材料“基层党组织建设不断加强，全国共设立基层党委24.9万个，比上年增加1.0万个”可知，截至2018年底，全国共设立基层党委 $24.9-1=23.9$ 万个。故本题选B。

50. 【答案】D。解析：A项正确，根据第一段材料“全年发展党员234.4万名，比上年增28.9万名，发展35岁及以下党员188.3万名”可知，35岁以下党员占全年发展党员数的 $\frac{188.3}{234.4} \times 100\% \approx 80\%$ ，超过一半。B项正确，根据第一段材料“全年发展党员234.4万名，比上年增28.9万名，发展35岁及以下党员188.3万名。产业工人、青年农民、高知识群体和非公有制经济组织、社会组织中发展党员数量增加明显”可知，截至2019年底，党员数量平稳增长。C项正确，根据第二段材料“基层基础保障力度加大，95.8%的社区落实服务群众专项经费，提高2.7个百分点”可知，截至2019年底，绝大部分社区落实了服务群众专项经费。D项错误，根据第一段材料“截至2019年底，中国共产党党员总数为9191.4万名，比上年净增132.0万名，女党员2559.9万名，比上年提高0.7个百分点”可知，2019年男性党员人数为 $9191.4-2559.9=6631.5$ 万名，为女性党员人数的 $\frac{6631.5}{2559.9} \approx 2.59$ 倍，超过两倍。故本题选D。

## 第二部分 主观题

一、根据给定资料 1，概括 N 县 T 镇在抗洪抢险中安置群众的主要做法。（10 分）

要求：概括全面、准确，条理清晰；不超过 150 字。

### 【参考答案】

1.医疗保障：安排医护人员值守，为老人提供体征检测，配备常用药品、口罩。2.饮食保障：准时提供干净、卫生的餐饮。3.居住保障：提供被子、床铺等必需品，安装空调、热水器，做好用电保障，捐赠生活物资。4.心理疏导：组建志愿队伍，与受灾群众进行面对面谈心。（121 字）

二、结合给定资料 2，谈谈对乡村治理中“三治”融合的认识。（15 分）

要求：（1）紧扣资料，观点明确；（2）分析透彻，条理清晰；（3）不超过 300 字。

### 【参考答案】

“三治”融合指的是在脱贫攻坚进程中，坚持党建引领，将自治、法治、德治有机融合，创新展开乡村治理。加强农村基层基础工作，就要健全“三治”相结合的乡村治理体系，打造共建共治共享社会治理格局。一方面，将党建引领作为乡村治理的固本之源，培养优秀农村基层党组织，强化基层党组织作用，发挥组织优势，整合政策等资源，发挥党员带头作用，引领群众合力攻坚，能够壮大农村经济实体，促进优秀人才涌现。另一方面，把“三治”融合作为乡村治理的通络之作，深入开展扫黑除恶专项斗争，净化社会风气，重塑农村道德体系，修订村规民约等自治制度，加强群众规矩意识，能够解决综合治理的难题。因此，在乡村治理中要继续推进“三治”融合。（295 字）

三、假如你是 A 县 B 镇工作人员，领导要求你根据给定资料 3，拟写一份 A 县 B 镇开展积分管理工作的概要性总结。（35 分）

要求：（1）紧扣资料，结构完整；

（2）重点突出，特色鲜明；

（3）条理清晰，语言准确；

（4）500~600 字。

### 【参考答案】

### 关于我镇积分管理工作的总结

开展积分管理工作是我镇攻坚克难的创新之举。一方面，从产业、就业、政策、法纪、家庭、卫生等多个方面建立正清单；另一方面，从消极被动、违规违约等方面列出负清单。积分公示在村内醒目的位置。正积分达到一定分数，实行物质奖励与精神奖励。负积分达到一定分数，对其进行惩戒。我镇实行积分制管理以来，取得了阶段性成效，现总结如下：

#### 一、工作成绩

（一）坚持正向激励为主原则。自积分管理开展以来，通过激励措施，98%的贫困户在年终享受到积分管理带来的实惠，参与发展蔬菜、水稻、水果、水产养殖等产业，贫困劳动力的就业率达到 98.88%，多人获得“道德模范”“身边好人”“文明家庭”等表彰。

（二）试行“惩戒”机制。针对少数贫困户“等着扶、躺着赢”现象，党委决定试行脱贫攻坚“惩戒”机制，组织召开各村村民代表大会，讨论制定赌博酗酒、违法乱纪等细化指标，将其列入村规民约。符合指标的贫困户，除国家硬性扶持政策外，县镇村各类财务慰问扶助、产业扶持、贴息贷款等一律停止，让贫困户在享受扶贫政策的同时，也面临违反惩戒。反向惩戒效果立竿见影，帮助村民转变思想。

#### 二、未来工作计划

在接下来的工作中，本镇计划将贫困户分为有劳动能力和无劳动能力两类，对无劳动能力的贫困户

在兴产业、保就业方面不再提出硬性要求。另外，还将扩大积分管理范畴，将积分管理相关制度应用在基层党建、脱贫攻坚任务中，向全县推广。（582字）



## 2021年7月4日江西省高校毕业生“三支一扶”招募考试试卷

### 《行政职业能力和农村工作能力测验》参考答案及解析

#### 第一部分 客观题

1. 【答案】B。解析：2020年12月28日至29日，习近平在中央农村工作会议上指出，要牢牢把住粮食安全主动权，粮食生产年年要抓紧。要严防死守18亿亩耕地红线，采取“长牙齿”的硬措施，落实最严格的耕地保护制度。要建设高标准农田，真正实现旱涝保收、高产稳产。故本题选B。

2. 【答案】C。解析：先看第一空，“承担”指担负、担当，“担负”指承担（工作、任务、责任等），“承受”指接受、承担、继承，均无法与“飞天梦想”搭配，排除A、B、D项。验证C项，“承载”指托着物体，承受它的重量，侧重装载，可搭配抽象事物，“承载飞天梦想”符合搭配；“镌刻”指雕刻，此处讲升空的火箭同时也在刻着一个国家的前行脚步，符合语意。故本题选C。

3. 【答案】B。解析：先看第一空，“兼而有之”指同时占有或具有几种事物，由后文中华文明具有包容性和吸纳力可知，不符合语意，排除D项。再看第二空，各民族经济上处于依附、依存的关系，“相互依赖”指互相依靠，“相互依托”指互相依靠、凭借，二者均语意过重，排除A、C项。验证B项，“相互亲近”指互相亲密接近，用于此处讲各民族情感上相互亲近靠近，符合语意。故本题选B。

4. 【答案】C。解析：先看第二空，“舒缓”指懈怠、从容、行动迟慢，无法与“枝叶”搭配，排除B项。再看第一空，“蓬头历齿”形容人衰老的容貌，横线处形容槐树，不符合语意，排除D项。“老气横秋”形容老练而自负的神态，现形容自高自大，摆老资格，也形容缺乏朝气，“老态龙钟”形容年老体衰，行动不灵便，由后文“能看到枝叶间最少筑了七八个鸟窝”可知，槐树尽管很老，但还是可以给鸟提供筑巢的条件，“老态龙钟”更符合语意，排除A项。故本题选C。

5. 【答案】A。解析：先看第一空，“思潮起伏”指思想活动极频繁，“慷慨激昂”形容满怀正气，激动昂扬，特指讲话的语调及情绪，由后文“激动了几天”可知，此处讲很多人读励志书籍时心情十分激动，二者均不符合语意，排除B、D项。再看第二空，“惊异”指惊奇诧异，“震惊”指大吃一惊，由“生命的‘怪异’”可知，横线处应有“不寻常”之意，前者更符合语意，排除C项。故本题选A。

6. 【答案】B。解析：先看第一空，“帷幕”的谓语应该是“拉开”，“伪装”泛指各种隐蔽自己的身份、面目以达到某种目的的行为或手段，此处讲取样分析揭开了被测行星的大气环境和表面景观的真相，二者均不符合语意，排除C、D项。再看第二空，“萌发”指植物发芽，引申指开始、产生，“孕育”指怀胎生育，比喻从既存事物中培养新生事物，此处与“生命”搭配，“孕育生命”符合搭配，排除A项。故本题选B。

7. 【答案】B。解析：文段首先讲红色旅游的使命在于让游客们学习党史并从中汲取力量，接着讲在中国红色文化处处皆是，人们每到一处红色旅游地，都会埋下一颗红色种子，最后讲红色文化的内涵日益丰富，与最开始相比，脱贫攻坚等也已成为红色文化的重要组成部分。可见，文段主要讲述的是红色旅游的时代价值，B项正确。A项“旺盛的生命力”文段无从体现，C项“新内涵”仅为文段部分内容，D项偏离文段论述主体“红色文化”。故本题选B。

8. 【答案】D。解析：文段主要讲第七次全国人口普查数据显示15岁及以上人口的平均受教育年限为9.91年，高中及以上受教育程度的人口达到了3.85亿人，大专及以上学历受教育程度的人口占比达到了23.61%。可见，文段意在说明我国劳动人口素质显著提高，D项正确。A项“受教育程度提高”、B项“受教育数量增加”、C项“受教育年限增加”均为文段部分内容。故本题选D。

9. 【答案】B。解析：文段首先讲一个国家和社会活力的迸发离不开青年，接着从五四运动、战争



年代、新中国初期，到改革开放时期，一代代青年为祖国建设添砖加瓦。可见，最适合作为文段标题的是“青年向上，国家向前”，B项正确。A项“时代向前”仅为文段部分内容，C项偏离文段论述主体“青年和国家”，D项“青春之歌”仅为文段部分内容。故本题选B。

10.【答案】D。解析：文段首先肯定人脸识别是我们这个时代最伟大的进步技术之一，它所依赖的是每个个体的生物特征，接着指出生物特征是人的最后一道防线，最后论述生物识别的不利影响。可见，作者对“人脸识别”的态度是严格信息保护下的赞同。故本题选D。

11.【答案】D。解析：文段首先讲2020年，在抗击新冠肺炎疫情过程中，志愿精神是雷锋精神的新内涵，并以私家车义务接送医护人员上下班等例子，表明他们通过实际行动书写了抗疫期间的“雷锋故事”。可见，文段主要讲述了新时代雷锋精神的新内涵，D项正确。A项偏离文段论述主体“雷锋精神”，B项仅为文段部分内容，C项“时代价值”文段无从体现。故本题选D。

12.【答案】B。解析：2020年10月，中央农办、农业农村部批复了全国104个县（市、区）和3个设区市为新一轮农村宅基地制度改革试点地区，江西湖口县、鹰潭市余江区、大余县、永丰县入选，试点期限为2020~2022年。故本题选B。

13.【答案】A。解析：2020年12月28日至29日，习近平在中央农村工作会议上强调，脱贫攻坚取得胜利后，要全面推进乡村振兴，这是“三农”工作重心的历史性转移。党中央决定，脱贫攻坚目标任务完成后，对摆脱贫困的县，从脱贫之日起设立5年过渡期。过渡期内要保持主要帮扶政策总体稳定。对现有帮扶政策逐项分类优化调整，合理把握调整节奏、力度、时限，逐步实现由集中资源支持脱贫攻坚向全面推进乡村振兴平稳过渡。A项表述错误，B、C、D三项均正确。故本题选A。

14.【答案】C。解析：“十四五”时期，江西提出建设新时代的“五美”乡村。“五美”乡村内容为：产业兴旺之美、自然生态之美、文明淳朴之美、共建共享之美、和谐有序之美。故本题选C。

15.【答案】B。解析：A、C、D三项均正确。B项错误，四合院的布局设计以中轴为对称，但大门都不开在正中，且不与正房相对，而是开在东南角，这是根据北京的地理环境和古代风水学说设计出来的，因为从东南方向吹来的是暖湿风，西北方向的墙高，是为了挡住凛冽的西北风，冬天太阳可照进室内，正房冬暖夏凉。故本题选B。

16.【答案】D。解析：A、B、C三项对应均正确。D项对应错误，上饶市古称为信州。饶州，别名番邑，是历史地名，在今鄱阳县，属上饶市。故本题选D。

17.【答案】B。解析：2020年12月8日，珠峰“身高”最新测量结果为8848.86米。故本题选B。

18.【答案】A。解析：A项错误，北宋德兴张潜著《浸铜要略》，其后胆水浸铜技术大规模用于生产，成为冶金史和化学史上的一大发明。B项正确，万年县仙人洞、吊桶环遗址发现的距今1.2万年前的栽培水稻植硅石，成为世界上年代最早的水稻栽培稻遗存，表明江西人最早实现了水稻从野生到种植的转变，为人类解决吃饭问题进行了成功探索。C项正确，元代广丰县尹王祜著《王祜农书》37卷，为我国古代“五大农书”之一，并收入《永乐大典》和《四库全书》。D项正确，清代建昌（今永修）雷氏世代为皇家建筑设计师，“样式雷”发明了“烫样”，建造了圆明园、颐和园及众多的宫殿、皇陵，名扬中外。故本题选A。

19.【答案】D。解析：A、B、C三项说法均正确，全球气候变化会导致海平面上升、海水温度上升、海洋热浪发生频率增加。海温的上升还会导致海洋生态系统的灾害发生变化，如海洋酸化、红树林被淹没、珊瑚礁白化等。D项错误，随着全球气候变化，大多数海洋物种会迁徙，逃离赤道附近的热水域，并跟随适应的水温移动。“海洋生物大量死亡”说法错误。故本题选D。

20.【答案】C。解析：《民法典》第114条规定，民事主体依法享有物权。物权是权利人依法对特定的物享有直接支配和排他的权利，包括所有权、用益物权和担保物权。故本题选C。

21.【答案】C。解析：《土地管理法》第5条规定，国务院自然资源主管部门统一负责全国土地的管理和监督工作。县级以上地方人民政府自然资源主管部门的设置及其职责，由省、自治区、直辖市人民政府根据国务院有关规定确定。故本题选C。

22. 【答案】A。解析：2021年4月，习近平总书记在福建考察时强调，建立以国家公园为主体的自然保护地体系，目的就是按照山水林田湖草是一个生命共同体的理念，保持自然生态系统的原真性和完整性，保护生物多样性。故本题选A。

23. 【答案】B。解析：2021年3月25日，在全党掀起学习热潮之际，习近平总书记在福建考察时强调，要在党史学习教育中做到学史明理，明理是增信、崇德、力行的前提。故本题选B。

24. 【答案】B。解析：2019年5月20日至22日，习近平在江西考察时强调，要加快构建生态文明体系，做好治山理水、显山露水文章，打造美丽中国“江西样板”。故本题选B。

25. 【答案】A。解析：2020年8月，在经济社会领域专家座谈会上，习近平指出，要以科技创新催生新发展动能。实现高质量发展，必须实现依靠创新驱动的内涵型增长，大力提升自主创新能力，尽快突破关键核心技术。故本题选A。

26. 【答案】D。解析：IPO一般指首次公开募股。首次公开募股是指一家企业第一次将它的股份向公众出售。故本题选D。

27. 【答案】A。解析：《基本农田保护条例》第18条第二款规定，承包经营基本农田的单位或者个人连续2年弃耕抛荒的，原发包单位应当终止承包合同，收回发包的基本农田。故本题选A。

28. 【答案】B。解析：《种子法》第49条规定，禁止生产经营假、劣种子。农业、林业主管部门和有关部门依法打击生产经营假、劣种子的违法行为，保护农民合法权益，维护公平竞争的市场秩序。下列种子为假种子：（一）以非种子冒充种子或者以此种品种种子冒充其他品种种子的；（二）种子种类、品种与标签标注的内容不符或者没有标签的。下列种子为劣种子：（一）质量低于国家规定标准的；（二）质量低于标签标注指标的；（三）带有国家规定的检疫性有害生物的。A、C、D三项均属于劣种子。B项属于假种子。故本题选B。

29. 【答案】D。解析：《国家税务总局关于贯彻<中共中央、国务院关于促进农民增收若干政策的意见>落实有关税收优惠政策的公告》第4条规定，农民销售水产品、畜牧产品、蔬菜、果品、粮食和其他农产品，月销售额不到5000元或每次（日）销售额不到200元的，不缴纳增值税。如果农民在销售上述农产品的同时还销售其他非农产品，其中农产品销售额占整个销售额一半以上的，月销售额不到5000元或每次（日）销售额不到200元的，也不缴纳增值税。故本题选D。

30. 【答案】C。解析：《江西省实施<中华人民共和国土地管理法>办法》第41条规定，市、县人民政府应当根据本地实际情况在下列规定的限额内制定农村村民建住宅的用地面积标准：（一）占用宅基地和村内空闲地的，每户不得超过180平方米；（二）占用耕地的，每户不得超过120平方米；（三）因地形条件限制、居住分散而占用荒山、荒坡的，每户不得超过240平方米。农村村民一户只能拥有一处宅基地，凡地少人多的地方，住宅用地必须从严控制，标准就低不就高。人均住房占地面积已经达到市、县人民政府规定的最高用地面积标准的，不得批准占地建住宅。C项表述正确。A、B、D三项表述均错误。故本题选C。

31. 【答案】B。解析：设每台收割机每天的工作效率为1，则3台收割机8天的工作量为 $3 \times 1 \times 8 = 24$ ，则工作总量为 $24 \div \frac{2}{5} = 60$ 。若要提前6天完成，则还需要工作 $20 - 8 - 6 = 6$ 天。因此还需要增加 $60 \times \frac{3}{5} \div 6 \div 1 - 3 = 3$ 台收割机。故本题选B。

32. 【答案】B。解析：设3元蛋糕的销售量为 $5x$ 块，则6元蛋糕的销售量为 $3x$ 块，8元蛋糕的销售量为 $\frac{25}{7}x$ 块，根据题意有 $8 \times \frac{25}{7}x - 3 \times 5x = 285$ ，解得 $x = 21$ 。因此这家食品店当日共售出 $21 \times (5 + 3 + \frac{25}{7}) = 243$ 块蛋糕。故本题选B。

33. 【答案】D。解析：本题考查数学期望问题。列表格如下：

X	1000	250	50	5
P	$\frac{1}{20000}$	$\frac{4}{20000}$	$\frac{20}{20000}$	$\frac{120}{20000}$

由表可知，每张奖券的期望为  $1000 \times \frac{1}{20000} + 250 \times \frac{4}{20000} + 50 \times \frac{20}{20000} + 5 \times \frac{120}{20000} = 0.18$  元。因此买一张奖券的平均收入为  $0.18 - 2 = -1.82$  元。故本题选 D。

34. 【答案】C。解析：题干各图形的部分数均为 2，则问号处图形的部分数应为 2。观察选项，只有 C 项符合。故本题选 C。

35. 【答案】A。解析：①③⑥图形的边重合均为不完全重合，②④⑤均有一个图形的一条边与另一个图形的一条边完全重合。故本题选 A。

36. 【答案】C。解析：A 项右面的图形在展开图中不存在，排除。B 项上面和右面是一组相对面，不能同时出现，排除。C 项可以由展开图折叠而成，当选。D 项上面和右面是一组相邻面，由展开图可知这组相邻面的公共边和其中一个面的空白正方形相接，而 D 项中的公共边并没有与其相接，排除。故本题选 C。

37. 【答案】D。解析：题干论点：长期大量吸烟与肺癌的发生有非常密切的关系。论据：长期大量吸烟者患肺癌的概率是不吸烟者的 10~20 倍。A 项肺癌患者有吸烟史无法证明大量吸烟与肺癌的关系，排除。B 项李四为个例，可以加强，但加强力度太弱，排除。C 项肺癌患者中不吸烟者较少不能证明长期大量吸烟与肺癌的发生有非常密切的关系，排除。D 项肺癌患者中长期大量吸烟者占的比例较高通过补充论据来说明长期大量吸烟与肺癌的发生有非常密切的关系，可以加强论点。故本题选 D。

38. 【答案】B。解析：翻译题干信息：①小刘 ≠ 第三专业；②小李 > 第一专业；③小廖 > 第三专业。根据①③可知小刘和小廖均不是第三专业，因此第三专业为小李，再根据③可知小廖 > 小李，根据②可知第一专业为小刘，那么第二专业为小廖，可以推出三人的成绩由低到高分分别为小刘、小李、小廖。故本题选 B。

39. 【答案】A。解析：根据“只有后来成为作家的那位同学预测对了”代入选项排除。A 项丁是作家，丁预测自己不是教师，符合；甲预测乙成为作家，而乙是教师，甲的预测有误；乙预测丙不会当医生，而丙是医生，乙预测有误；丙预测甲不会当律师，而甲是律师，丙预测错误，与题干相符，当选。B 项甲是作家，甲预测乙成为作家，选项中乙是医生，与题干矛盾，排除。C 项乙是作家，乙预测丙不会当医生，符合；甲预测乙会成为作家也符合，与题干矛盾，排除。D 项丙是作家，丙预测甲不会当律师，符合；乙预测丙不会当医生也符合，与题干矛盾，排除。故本题选 A。

40. 【答案】C。解析：小孩在游乐园玩旋转木马，游乐园为地点状语，C 项人在沙漠骑骆驼，沙漠为地点状语。A 项爬山是户外运动的一种，二者为种属关系，排除。C 项酒驾是违章驾驶的一种，二者为种属关系，排除。D 项老年人在傍晚跳广场舞，但傍晚为时间状语，排除。故本题选 C。

41. 【答案】B。解析：打折是促销的一种方式，促销商品为动宾结构，B 项学习是铭记的一种方式，铭记党史为动宾结构。A 项节目服装不为动宾结构，排除。C 项阅读文献为动宾结构，与题干词语前后位置相反，排除。D 项艺术与愉悦之间无明显联系，排除。故本题选 B。

42. 【答案】C。解析：赞同与反对是反义关系，赞同建议或反对建议；C 项接受与拒绝为反义关系，接受邀请或拒绝邀请。A 项弃真与取伪为反义关系，但弃真与取伪和检验无法对应，排除。B 项虚假与真实为反义关系，但虚假与真实无法和道歉直接搭配，排除。D 项感谢和诅咒并非反义关系，排除。故本题选 C。

43. 【答案】D。解析：“安慰剂效应”的定义要点：①无效的治疗；②病患症状得到缓解的现象。A 项谎称某新药对癌症治疗有疗效符合①，患者欣然接受了新药治疗，病情果然得到好转符合②，符合定义要点，排除。B 项并没有加无痛药水符合①，小朋友很安心地把针打完了符合②，符合定义要点，



排除。C项介绍“牵引棒”由特殊材料制成，放在疼痛部位滚动就可以缓解疼痛符合①，大部分都觉得疼痛减轻符合②，符合定义要点，排除。D项医生对患者采取特殊治疗不符合①，不符合定义要点，当选。故本题选D。

44.【答案】B。解析：“随机事件”的定义要点是“一次试验中可能发生也可能不发生的结果”。A项甲10次定点投篮，甲命中9次，该事件可能发生也可能不发生，符合定义要点，排除。B项在标准大气压下，水加热到100℃必沸腾，是必然发生的事件，不符合定义要点，当选。C项连续抛掷硬币100次，出现正面50次，该事件可能发生也可能不发生，符合定义要点，排除。D项丁从袋子中取得黑球，该事件可能发生也可能不发生，符合定义要点，排除。故本题选B。

45.【答案】D。解析：“Z世代”的定义要点是“快速、即兴、碎片、随时切换、缺乏深度的‘浅表注意力’”。A项碎片化学习符合定义要点，排除。B项碎片化信息资源符合定义要点，排除。C项照搬照抄，缺乏思考，被动接受符合定义要点，排除。D项利用互联网查阅文献，完成毕业论文属于深度注意力，不符合定义要点，当选。故本题选D。

46.【答案】C。解析：根据柱状图可知，2015~2020年国内旅游人数年均增长  $\frac{28.79-40}{2020-2015} = \frac{-11.21}{5} = -2.242$  亿人次。故本题选C。

47.【答案】D。解析：根据表格和柱状图可知，2016年国内旅游人均每次出游花费  $\frac{46900}{44.4} \approx 1056$  元，2017年为  $\frac{54000}{50} = 1080$  元，2018年为  $\frac{59900}{55.4} \approx 1081$  元，2019年为  $\frac{66300}{60.06} \approx 1104$  元。因此人均花费最多的年份是2019年。故本题选D。

48.【答案】B。解析：根据表格第二至六列可知，2015~2019年国内旅游总收入年均增长率为  $\sqrt[4]{\frac{6.63}{4.13}} - 1 \approx 1.126 - 1 = 12.6\%$ ，B项与之最接近。故本题选B。

49.【答案】B。解析：根据柱状图和表格可知，2020年国内旅游人次比2019年下降  $\frac{60.06-28.79}{60.06} \times 100\% \approx \frac{31.2}{60} \times 100\% = 52\%$ ，B项与之最接近。故本题选B。

50.【答案】A。解析：根据表格第三至五列可知，2017年国内旅游总收入增速为  $\frac{5.4-4.69}{4.69} \times 100\% \approx \frac{0.7}{4.7} \times 100\% \approx 14.9\%$ ，2018年为  $\frac{5.99-5.4}{5.4} \times 100\% = \frac{0.59}{5.4} \times 100\% \approx 10.9\%$ ，后者比前者多  $10.9\% - 14.9\% = -4\%$ ，即回落了4个百分点，A项与之最接近。故本题选A。

## 第二部分 主观题

一、根据给定资料1，请你概括M省基层矛盾纠纷多元化解工作的几点做法。（10分）

要求：概括全面、准确，条理清晰，不超过150字。

### 【参考答案】

1.净化诉讼源头。向基层下沉法治资源，指导基层组织及群众依法自治、表达诉求。2.分流诉前纠纷。配备专、兼职工作人员，组织社会各方引导纠纷向非诉渠道分流，或在登记立案前化解纠纷。3.过滤诉外矛盾。建立健全矛盾纠纷排查制度及社会矛盾风险预警机制，开展社会稳定风险评估，将源头预防工作贯穿全过程。（147字）

二、根据给定资料 2，请你谈谈我国乡村振兴面临哪些“瓶颈”？（15 分）

要求：（1）紧扣资料，观点明确；（2）分析透彻，条例清晰；（3）不超过 300 字。

**【参考答案】**

1.乡村发展水平落后。我国“三农”较薄弱，农产品供给水平低，务农劳动收入较低，农村收入水平低，难以满足国民经济需求。2.农业回报率低。农业投资回报率低，乡村产业发展水平低，“回村”城市化模式严重。3.农村政策支持不到位。农村缺乏理顺机制，也缺乏政府和社会的扶持和帮助。4.农村教育水平落后。乡村教学缺乏高素质人才。5.农业发展缺乏人才。现代农业发展缺乏专业人才，农村创新创业及人才政策不完善，导致人才难以引进。6.农村缺少“软硬件”。农村基础设施建设不到位，交通、通讯状况、人居环境亟待改善；公共服务水平需改善，农村公益事业建设不到位。（262 字）

三、省农业农村厅准备召开一次乡村产业振兴的工作座谈会，H 县 C 领导要参加会议并做现场发言，假如你所在的 H 县米粉产业资源丰富，根据给定资料 3，以“江西米粉产业推广”为主题，请你代 C 领导拟写一份发言提纲。（35 分）

要求：（1）题目自拟，紧扣资料；

（2）重点突出，结构完整；

（3）条理清晰，语言准确

（4）500~600 字。

**【参考答案】**

**关于江西米粉推广的发言提纲**

江西米粉在民间深受人们日常喜爱，又具有源远流长的历史。我县米粉产业资源丰富，为振兴乡村产业，推广江西米粉，今天在此做出如下发言：

一、江西米粉的特点

1.食用佳。江西米粉口感韧，适合制作各类米粉美食，色香味俱全。

2.制作技艺佳。江西米粉均具有独到的米粉制作技艺。

3.产量高。江西米粉年产量、产值及年出口量均较高。我县米粉出口量占全国米粉出口比重高。

4.市场优势。米粉销往多个国家地区。海外流传有“世界米粉在中国，中国米粉在江西，江西米粉在 H 县”的说法。

二、推广方法

1.打造统一标准化产品。中央厨房统一生产，保留产品传统工艺的口感，提供统一的标准化产品。

2.进军电商外卖平台。开设连锁店和中央厨房配送店，线上线下齐发力。

3.利用智能管理系统。利用智慧大脑，借助微信平台完成自助服务，把线下流程搬到线上。

4.利用名人效应推广。借助明星将品牌带入大众视野，让粉丝分享成为宣传营销的主要手段。

5.进行产品创新。迎合当下轻食健康潮流，新研发米粉产品。

三、存在问题及解决措施

1.存在问题：生产不规范。一些米粉加工厂虽取得食品生产行政许可手续，但却没有严格遵守食品生产卫生规范。

2.解决措施：加强监管和惩处，定期抽检，有问题的要求整改。

四、走向世界

重点培育米粉龙头企业，扶持一批江西米粉品牌餐饮企业抱团发展，共同打造百亿元米粉产业，从而参与构筑“一带一路”美食文化新纽带，让江西米粉走向世界。（589 字）