

2020年12月5日赣州医疗事业单位职业能力倾向测验

笔试真题及参考答案

一、单选题

1、党的十九大报告指出，坚持全面依法治国，必须把（）贯彻落实到依法治国全过程和各方面，坚定不移走中国特色社会主义法治道路。

- A. 党的领导
- B. 科学发展观
- C. 邓小平理论
- D. “三个代表”重要思想

参考答案：A【解析】党的十九大报告指出，全面依法治国是中国特色社会主义的本质要求和重要保障。必须把党的领导贯彻落实到依法治国全过程和各方面，坚定不移走中国特色社会主义法治道路。故本题答案选A。

2、毛泽东思想萌芽的标志是（）

- A. “革命新道路”理论的初步形成
- B. “活的灵魂”的马克思主义思想路线的基本形成
- C. 早起中国共产党人关于新民主主义革命的基本思想的提出
- D. 毛泽东思想科学概念的提出和毛泽东思想被确立为中国共产党的指导思想

参考答案：C【解析】（1）毛泽东思想的萌芽（1921—1927）：党的创立和大革命时期

标志：初步形成了关于新民主主义革命的基本思想。

主要思想包括：反帝反封建的民主革命纲领；无产阶级在民主革命中的领导权问题和农民同盟军等问题；中国革命的对象、动力和前途等问题。

主要代表作：《中国社会各阶级的分析》（1925年12月）、《湖南农民运动考察报告》（1927年3月）等。

（2）毛泽东思想的形成（1927—1935）：土地革命战争前中期

标志：“农村包围城市，武装夺取政权”的有中国特色的民主革命道路理论的形成。

主要思想包括：“工农武装割据”思想；农村包围城市，武装夺取政权理论；初步阐述了作为毛泽东思想的活的灵魂的实事求是、群众路线、独立自主的基本思想。

主要代表作：《中国的红色政权为什么能够存在》（1928年10月）、《井冈山的斗争》（1928年11月）、《星星之火，可以燎原》（1930年1月）、《反对本本主义》（1930年5月）等。

（3）毛泽东思想的成熟（1935—1945）：1935年遵义会议后到抗日战争时期

标志：新民主主义革命理论形成。

主要思想包括：形成了新民主主义革命理论的完整体系；总结出了党领导新民主主义革命的三大法宝；实现了毛泽东哲学思想体系的构建等。

主要代表作：《〈共产党人〉发刊词》（1939年10月）、《中国革命和中国共产党》（1939年12月）、《新民主主义论》（1940年1月）等。1945年中共七大确立毛泽东思想为党的指导思想，是毛泽东思想发展史上的一个里程碑。

（4）毛泽东思想的继续发展（1945—1976）：解放战争时期和中华人民共和国成立以后

主要代表作：《论人民民主专政》（1949年6月）、《论十大关系》（1956年4月）、《关于正确处理人民内部矛盾的问题》（1957年2月）等。

故本题答案选C。

3、（ ）是孙中山领导创建的第一个资产阶级革命政党。

- A. 兴中会
- B. 同盟会
- C. 光复会
- D. 华兴会

参考答案：B【解析】兴中会是中国国民党最早的前身，是孙中山于1894年11月24日在美国檀香山创建的中国近代第一个民主革命团体。宗旨是驱逐鞑虏，恢复中华，创立合众政府。

中国同盟会，亦为中国革命同盟会，1905年8月20日，孙中山、黄兴等人在东京成立中国同盟会，孙中山被公举为总理，黄兴被任命为执行部庶务，实际主持会内日常工作。同盟会以“驱除鞑虏，恢复中华，创立民国，平均地权”为纲领，机关报为《民报》。中国同盟会是近代中国第一个全国性的资产阶级性质的政党，它的成立标志着中国资产阶级民主革命进入了一个新阶段。

1904)冬以军国民教

光复会，又称复古会。清末革命团体。光绪三十年（育会暗杀团扩大改组而成。总部设上海。推蔡元培为会长。以“光复汉族，还我山河，以身许国，功成身退”为宗旨，以暗杀和暴动为主要手段。成员以资产阶级、小资产阶级知识分子和会党分子为主，也有部分商人、工匠以及少数地主士绅。

华兴会是中国近代民主革命团体。于1904年2月15日在湖南长沙正式成立。会长为黄兴，副会长为宋教仁、刘揆一、秦毓鎰等人。成立背景是在光绪二十九年5月即1903年5月，军国民教育会的“运动员”黄兴从日本回国，进行革命活动。1903年11月4日黄兴以庆祝自己30岁生日为名，邀集刘揆一、宋教仁、章士钊等，在长沙西区保甲局巷彭渊恂家举行秘密会议，决定组织反清革命团体，取名华兴会。会员达数百人，多属知识分子。宗旨为“驱除鞑虏，复兴中华”；方略为湖南发难，各省响应，“直捣幽燕”。

故本题答案选B。

4、习近平总书记曾指出，（）是马克思主义最鲜明的品格。

- A. 独立性
- B. 封闭性
- C. 人民性
- D. 革命性

参考答案：C【解析】习近平总书记在纪念马克思诞辰200周年的讲话中指出，马克思主义第一次创立了人民实现自身解放的思想体系，人民性是马克思主义最鲜明的品格。故本题答案选C。

5、劳动者在同一用人单位连续工作满（）年以上，当事人双方同意续延劳动合同的，如果劳动者提出订立无固定期限的劳动合同，应当订立无固定期限的劳动合同。

- A. 4
- B. 5
- C. 8
- D. 10

参考答案：D【解析】《中华人民共和国劳动合同法》第二十条规定：劳动合同的期限分为

有固定期限、无固定期限和以完成一定的工作为期限。

劳动者在同一用人单位连续工作满十年以上，当事人双方同意续延劳动合同的，如果劳动者提出订立无固定期限的劳动合同，应当订立无固定期限的劳动合同。

故本题答案选 D。

6、未成年人的父母已经死亡或者没有监护能力的，下列有监护能力的人员中，应作为首选监护人的是（ ）

- A. 祖父
- B. 哥哥
- C. 姑姑
- D. 堂叔

参考答案：A【解析】《中华人民共和国民法典》第二十七条：父母是未成年子女的监护人。

未成年人的父母已经死亡或者没有监护能力的，由下列有监护能力的人按顺序担任监护人：

（一）祖父母、外祖父母；

（二）兄、姐；

（三）其他愿意担任监护人的个人或者组织，但是须经未成年人住所地的居民委员会、村民委员会或者民政部门同意。

故本题答案选 A。

7、行政机关必须根据法定权限、法定程序和法治精神进行管理，越权无效。这体现了法的执行中（ ）的原则。

- A. 公正司法
- B. 讲求效能
- C. 公平合理
- D. 依法行政

参考答案：D【解析】执法的基本原则：（1）依法行政的原则。这是指行政机关必须根据法定权限、法定程序和法治精神进行管理，越权无效。这是现代法治国家行政活动的一条最基

本的原则。

(2) 讲求效能的原则。这是指行政机关在依法行政的前提下，讲究效率，主动有效地行使其权能，以取得最大的行政执法效益。

(3) 公平合理的原则。这是指行政机关执法时应当权衡多方面的利益因素和情境因素，在严格执行规则的前提下做到公平、公正、合理、适度，避免由于滥用自由裁量权而形成执法轻重不一、标准失范的结果。

故本题答案选 D。

8、下列不属于调节总需求的货币政策工具的是 ()

- A. 税收
- B. 再贴现率
- C. 公开市场业务
- D. 法定存款准备金率

参考答案：A【解析】货币政策有三个重要政策工具：①法定存款准备金率；②再贴现率；③公开市场业务。财政政策的工具主要包括财政收入（主要是税收）、财政支出、国债和政府投资。故本题答案选 A。

9、“杀鸡焉用宰牛刀”可以用经济学中的 () 予以解释。

- A. 机会成本
- B. 单位成本
- C. 平均成本
- D. 历史成本

参考答案：A【解析】机会成本是指因选择而放弃的其他机会所产生的代价。在经济学中，如果一项资源可以由多种用途，机会成本可以看作是生产者为此而放弃的最佳用途的代价。杀鸡焉用宰牛刀中，宰牛刀具备至少两种用途，而用它杀鸡就放弃了宰牛的用途，此时该用途即是机会成本。

单位成本是生产单位产品平均消耗的费用。它是以企业一定时期生产某一种产品所发生的总成本除以产量求得的。单位成本是反映成本水平高低的指标。

平均成本是指一定范围和一定时期内成本耗费的平均水平。平均成本总是针对一定的产品或劳务而言的。一定时期产品生产或劳务提供平均成本的变化，往往反映了一定范围内成本管理总体水平的变化。

历史成本一般指会计成本。会计成本是指企业在经营过程中所实际发生的一切成本。包括工资、利息、土地和房屋的租金、原材料费用、折旧等。

故本题答案选 A。

10、（ ）是抽象劳动的凝结，体现着商品生产者之间的个别劳动时间是每个商品生产者生产某种商品所实际耗费的劳动时间。

- A. 价值
- B. 价格
- C. 成本
- D. 利润

参考答案：A【解析】价值是抽象劳动的凝结，体现着商品生产者之间的个别劳动时间是每个商品生产者生产某种商品所实际耗费的劳动时间。社会必要劳动时间是在现有的社会正常的生产条件下，在社会平均的劳动熟练程度和劳动强度下制造某种使用价值所需要的劳动时间。故本题答案选 A。

11、（ ）是魏晋南北朝时期重要的选官制度。

- A. 科举制
- B. 察举制
- C. 世卿世禄制
- D. 九品中正制

参考答案：D【解析】科举制一般指科举制度。科举制度是古代中国及受中国影响的日本、朝鲜、越南等国家通过考试选拔官吏的制度。科举制从隋代开始实行，到清光绪三十一年（1905年）举行最后一科进士考试为止，经历了 1298 年。1905 年 9 月 2 日，清政府废除科举制度。

察举制，是中国古代选拔官吏的一种制度，它的确立时间是汉武帝元光元年（公元前

134年)。察举制不同于以前先秦时期的世官制和从隋唐时建立的科举制，它的主要特征是由地方长官在辖区内随时考察、选取人才并推荐给上级或中央，经过试用考核再任命官职。

世卿世禄制是古代选官制度的称呼。世卿就是天子或诸侯国君之下的贵族，世世代代、父死子继，连任卿这样的高官。禄是官吏所得的享受财物。世禄就是官吏们世世代代、父死子继，享有所封的土地及其赋税收入，世袭卿位和禄田的制度在古代曾十分盛行。世卿世禄制是我国先秦时期统治者实行的一种选官制度，是爵位和官职的世袭制度。盛行于夏、商、周时代。

九品中正制，又称九品官人法，是魏晋南北朝时期重要的选官制度，是魏文帝曹丕采纳吏部尚书陈群的意见，于黄初元年（220年）命其制定的制度。

故本题答案选D。

12、“冰雪林中著此身，不同桃李混芳尘”描写的是（）

- A. 菊花
- B. 梅花
- C. 荷花
- D. 兰花

参考答案：B【解析】“冰雪林中著此身，不同桃李混芳尘”出自元代诗人王冕的《白梅》一诗，在这首诗中诗人以梅花自比，借梅花的顽强、独立来表达自己的志趣和品格。

“冰雪林中著此身，不同桃李混芳尘”意思是白梅生长在有冰有雪的树林之中，并不与桃花李花混在一起，沦落在世俗的尘埃之中。

故本题答案选B。

13、墨家是我国东周时期的哲学派别，由墨子创立。下列属于墨家思想的是（）

- A. “仁义爱人”
- B. “以法治国”
- C. “无为而治”
- D. “兼爱”“非攻”

参考答案：D【解析】墨家是中国先秦时期主要哲学派别之一，纪律严密，其首领被称为“巨

子”。墨家所属成员到各国为官必须推行墨家主张，同时也必须听命于“巨子”。墨子早年师从于儒者，后弃儒创墨，故虽墨家大多数主张与儒家对立，但也深受儒家影响。墨家的十大主张为“兼爱”、“非攻”、“尚贤”、“尚同”、“天志”、“明鬼”、“非命”、“非乐”、“节葬”、“节用”。墨家代表人物有墨子、禽滑厘、田鸠、孟胜等。

儒家思想，是先秦诸子百家学说之一，周公及三代礼乐，乃后起儒学之先导，周礼制定之地洛邑成周，乃中国儒学之祖庭。几千年来，为历代儒客尊崇。儒家思想也称为儒教或儒学，由孔子创立，后来以此为基础逐渐形成完整的儒家思想体系，影响深远。儒家思想内容丰富，从个体来讲有仁、义、礼、智、信、恕、忠、孝、悌等德目，为历代儒客尊崇。其中，“仁”是孔子思想体系的核心。儒家的主要代表人物：孔子、孟子、荀子、董仲舒、程颐、朱熹、陆九渊、王守仁等。

法家是中国历史上研究国家治理方式的学派，提出了富国强兵、以法治国的思想。它是诸子百家中的一家，战国时期提倡以法制为核心思想的重要学派。法家学派在政治上、理论上，一般说来都是主张变法革新，要求加强君权，提倡以“法治”代替“礼治”，积极发展封建经济，鼓励“耕战”，力求做到“富国强兵”，以达到加强和巩固地主阶级专政的目的。法家的代表人物有李悝、商鞅、申不害、韩非、李斯等。

道家思想，是古代一种思想流派，最早追溯到春秋战国时期，道家用“道”来探究自然、社会、人生之间的关系。道家提倡道法自然，无为而治，与自然和谐相处。道家的代表人物有老子、庄子、列子等。

选项 A 属于儒家思想，选项 B 属于法家思想，选项 C 属于道家思想，选项 D 属于墨家思想。

故本题答案选 D。

14、下列古代著作中，成书年代最早的是（）

- A. 《梦溪笔谈》
- B. 《齐民要术》
- C. 《甘石星经》
- D. 《农政全书》

参考答案：C【解析】《梦溪笔谈》，北宋科学家、政治家沈括（1031年—1095年）撰，是

一部涉及古代中国自然科学、工艺技术及社会历史现象的综合性笔记体著作。该书在国际亦受重视，英国科学史家李约瑟评价为“中国科学史上的里程碑”。

《齐民要术》大约成书于北魏末年（公元 533 年-544 年），是北朝北魏时期，南朝宋至梁时期，中国杰出农学家贾思勰所著的一部综合性农学著作，也是世界农学史上专著之一，是中国现存最早的一部完整的农书。全书 10 卷 92 篇，系统地总结了六世纪以前黄河中下游地区劳动人民农牧业生产经验、食品的加工与贮藏、野生植物的利用，以及治荒的方法，详细介绍了季节、气候、和不同土壤与不同农作物的关系，被誉为“中国古代农业百科全书”。

《甘石星经》是古代中国天文学专著和观测记录，是世界上现存最早的天文著作之一。仅次于前 1800 年的巴比伦星表。在长期观测天象的基础上，战国时期齐人（一说楚人或鲁人）甘德、魏人石申（一名石申夫）各写出一部天文学著作。后人把这两部著作合起来，称为《甘石星经》。

《农政全书》是明代徐光启创作的农书，成书于明朝万历年间，基本上囊括了中国明代农业生产和人民生活的各个方面，而其中又贯穿着一个基本思想，即徐光启的治国治民的“农政”思想。贯彻这一思想正是《农政全书》不同于其他大型农书的特色之所在。由于古代中国劳动人民积累了数千年的耕作经验，留下了丰富的农学著作。

故本题答案选 C。

15、（ ）是距离太阳最近，表面温差最大，受太阳引力最大的行星。

- A. 金星
- B. 水星
- C. 火星
- D. 木星

参考答案：B【解析】水星，中国古称辰星，西汉《史记·天官书》的作者司马迁从实际观测发现辰星呈灰色，与五行学说联系在一起，以黑色属水，将其命名为水星。水星是太阳系的八大行星中最小且最靠近太阳的行星。水星是距离太阳最近，表面温差最大，受太阳引力最大，轨道运行速度最快的行星。

金星，在太阳系的八大行星中，是从太阳向外的第二颗行星，轨道公转周期为 224.7 天，没有天然的卫星。金星在中国古代称为太白、明星或大嚣，早晨出现于东方称启明，晚上出现于西方称长庚。到西汉时期，《史记·天官书》作者司马迁从实际观测发现太白为白

色，与“五行”学说联系在一起，正式把它命名为金星。英文名称源自罗马神话的爱与美的女神维纳斯（Venus），古希腊人称为阿佛罗狄忒，也是希腊神话中爱与美的女神。金星是距离地球最近的行星。金星的自转方向与其他八大行星相反，是自东向西转的。

火星，是离太阳第四近的行星，也是太阳系中仅次于水星的第二小的行星，为太阳系里四颗类地行星之一。西方称火星为玛尔斯，是罗马神话中的战神，也被称为“红色星球”；古汉语中则因为它荧荧如火，位置、亮度时常变动让人无法捉摸而称之为荧惑。其橘红色外表是因为地表被赤铁矿（氧化铁）覆盖，火星的直径约为地球的一半，自转轴倾角、自转周期则与地球相近，但公转周期是地球的两倍。

木星是距离太阳第五近的行星，也是太阳系中体积最大的行星，截至 2019 年已知有 79 颗卫星。古人早已认识这颗行星，罗马人以主神朱庇特命名这颗行星。古代中国则称木星为岁星，取其绕行天球一周约为 12 年，与地支相同之故。到西汉时期，《史记·天官书》作者司马迁从实际观测发现岁星呈青色，与“五行”学说联系在一起，正式把它命名为木星。

太阳系的八大行星，按照离太阳的距离从近到远，它们依次为水星（♿）、金星（♀）、地球（♁）、火星（♂）、木星（♃）、土星（♄）、天王星（♅）、海王星（♆）。八大行星自转方向多数也和公转方向一致。只有金星和天王星两个例外。金星自转方向与公转方向相反，天王星则是与公转轨道呈 97° 角的“躺着”旋转。

故本题答案选 B。

16、我国湿润和半湿润地区的分界线是（ ）

- A. 漠河—腾冲一线
- B. 黑河—腾冲一线
- C. 秦岭—淮河一线
- D. 大兴安岭—太行山一线

参考答案：C【解析】A 项错误，没有漠河—腾冲一线这个说法。

B 项错误，黑河—腾冲线，即瑗瑛—腾冲线，或胡焕庸线，是我国人口地理分界线。是我国著名地理学家胡焕庸（1901~1998）在 1935 年提出的划分我国人口密度的对比线。该线从中国东北边境的黑龙江省黑河市（原名“瑗瑛”）一直延伸到中国西南边境的云南省腾冲市（县级市），大致地划分出了中国人口在区域上的分布，体现了中国人口东南和西北的

分布区域之悬殊差异。

C 项正确，秦岭—淮河线，是中国地理区分北方地区和南方地区的地理分界线。在此线的北面和南面，自然条件、地理风貌、农业生产或是人民生活习俗，均有明显不同。

秦岭—淮河是 800 毫米年等降水量线的界限。秦岭—淮河以南降水量大于 800 毫米；秦岭—淮河以北降水量小于 800 毫米。

秦岭—淮河是湿润区和半湿润区的分界线。

秦岭—淮河是暖温带和亚热带分界线，秦岭—淮河以南为亚热带，秦岭—淮河以北为暖温带。

秦岭—淮河是亚热带季风气候和温带季风气候的分界线。夏季，秦岭—淮河以南和以北都是高温多雨。冬季，秦岭—淮河以南温和少雨，秦岭—淮河以北寒冷干燥。

秦岭—淮河是南北方地区分界线，也是中国冬季集中供暖分界线。

D 项错误，大兴安岭—太行山—巫山—雪峰山一线是我国第三级阶梯和二级阶梯的分界线。季风区与非季风区的分界线是大兴安岭—阴山山脉—贺兰山—乌鞘岭—巴颜喀拉山—唐古拉山—冈底斯山连线，第一级阶梯和二级阶梯的分界线是昆仑山—祁连山—横断山脉。

故本题答案选 C。

17、“春归秣陵树，人老建康城”中的“建康”是指现在的（ ）

- A. 开封
- B. 西安
- C. 洛阳
- D. 南京

参考答案：D【解析】“春归秣陵树，人老建康城。”出自宋代李清照的《临江仙·庭院深深几许》。“春归秣陵树，人老建康城。”意思是在古秣陵城的周围，树木渐绿，宣告春已归来，但我却无家可归，看来要老死建康城了。作为六朝古都的南京，有着数量繁多的旧称，先后有冶城、越城、金陵、秣陵、石头城、建业、建邺、建康、白下、上元、昇州、江宁、集庆、应天、天京等 60 多个称谓。南京的得名源于明朝初年朱棣即位，将应天府改为南京。故本题答案选 D。

18、下列涉及光的反射原理的是（ ）

- A. 水中倒影
- B. 雨后彩虹
- C. 海市蜃楼
- D. 如影随形

参考答案：A【解析】A项正确，水中倒影是平面镜成像，平静的水面相当于平面镜，平面镜成的像与物关于水面对称，所以是倒立的，其原理是光的反射现象。

B项错误，雨过天晴时，常在天空出现彩虹，这是太阳光通过悬浮在空气中细小的水珠折射而成的，白光经水珠折射以后，分成各种彩色光，这种现象叫做光的色散现象，也可以说是光的折射现象。

C项错误，海市蜃楼又称蜃景，是一种因为光的折射和全反射而形成的自然现象，是地球上物体反射的光经大气折射而形成的虚像。

D项错误，如影随形中的“影”是由于身体遮住光线后，在地面形成了自己的影子，故属于光沿直线传播现象。

故本题答案选A。

19、下列物质中，可以在人体内转化为维生素A的是（ ）

- A. 维生素B
- B. 淀粉
- C. 蛋白质
- D. 胡萝卜素

参考答案：D【解析】维生素A能够促进人体正常发育，增强抵抗力，维持人的正常视觉，人体缺乏维生素A会患夜盲症；维生素A主要从动物肝脏、鱼肝油等食物中获得，植物性食物里虽然不含维生素A，但是在胡萝卜、黄色玉米等食物里含有大量的胡萝卜素，它在人体内能够转化为维生素A。故本题答案选D。

20、计算机存储数据的最小单位是（ ）

- A. 位
- B. 字节
- C. 字
- D. 字符

参考答案：A【解析】计算机中使用的二进制数共有3个单位：位，字节，字。位（bit）是二进制数的最基本单位，也是存储器存储信息的最小单位。故本题答案选A。

第二部分 言语理解与表达

21、火神山、雷神山医院仅用不到十天时间奇迹般建成并开始集中收治，完成了看似不可能完成的任务：具有战地色彩的十余家方舱医院迅速开设，实现了从未有过的一种新创举。一声号令，迅速集结，毫无怨言，毫不犹豫，这种作风、姿态和速度让世人惊叹。这体现了抗疫精神中的（ ）

- A. 万众一心、同舟共济的守望相助精神
- B. 闻令而动、雷厉风行的英勇战斗精神
- C. 舍生忘死、逆行而上的英雄主义精神
- D. 顾全大局、壮士断腕的“一盘棋”精神

参考答案：B【解析】抗疫精神弥足珍贵。一是万众一心、同舟共济的守望相助精神。这种举国体制下的同仇敌忾、共克时艰，上下一心、众志成城令世人动容。

二是闻令而动、雷厉风行的英勇战斗精神。火神山、雷神山医院仅用不到十天时间奇迹般建成并开始集中收治，完成了看似不可能完成的任务；具有战地色彩的十余家方舱医院迅速开设，实现了从未有过的一种新创举。一声号令，迅速集结，毫无怨言、毫不犹豫，这种作风、姿态和速度让世人惊叹。

三是顾全大局、壮士断腕的“一盘棋”精神。中央确定“内防扩散、外防输入”的战略策略，堵住传染源、切断传播链至关重要。为顾全大局，一座千万级别人口的武汉被“封城”，湖北省对人员外流实施全面严格管控。

四是舍生忘死、逆行而上的英雄主义精神。这一群群和平年代的战士们，一不怕苦、二不怕死，以救死扶伤、医者仁心的职业操守，冲锋陷阵、义无反顾。等等。他们誓死不退，不胜不休，以一种压倒一切困难而不被困难压倒的大无畏精神战斗在抗疫一线。

五是充满信心、敢于胜利的积极乐观精神。随着疫情防控有力有序有效地向好推进和拓展，人们心里都越来越有底了，“有信心有能力有把握”打赢这场人民战争成了社会心理主流。

故本题答案选 B。

22、习近平总书记在抗击新冠肺炎疫情表彰大会上指出，（ ）集中体现了中国人民敢于打倒一切困难而不被任何困难所压倒的顽强意志。

- A. 舍生忘死
- B. 生命至上
- C. 举国同心
- D. 命运与共

参考答案：A【解析】 全国抗击新冠肺炎疫情表彰大会于 9 月 8 日上午 10 时在北京人民大会堂隆重举行。中共中央总书记、国家主席、中央军委主席习近平向国家勋章和国家荣誉称号获得者颁授勋章奖章并发表重要讲话。五个词概括伟大抗疫精神：生命至上，集中体现了中国人民深厚的仁爱传统和中国共产党人以人民为中心的价值追求；举国同心，集中体现了中国人民万众一心、同甘共苦的团结伟力；舍生忘死，集中体现了中国人民敢于压倒一切困难而不被任何困难所压倒的顽强意志；尊重科学，集中体现了中国人民求真务实、开拓创新的实践品格；命运与共，集中体现了中国人民和衷共济、爱好和平的道义担当。故本题答案选 A。

23、2030 年我国居民健康素养水平的目标值为（ ）

- A. $\geq 10\%$
- B. $\geq 22\%$
- C. $\geq 30\%$
- D. $\geq 40\%$

参考答案：C【解析】2019 年 7 月 9 日，健康中国行动推进委员会印发《健康中国行动（2019—2030 年）》。《健康中国行动》提出，我国将开展健康知识普及行动，推动全国居民健康素养水平到 2030 年不低于 30%。故本题答案选 C。

24、2022 年我国合理膳食的行动目标之一是，居民营养健康知识知晓率比 2019 年提高（）

- A. 5%
- B. 10%
- C. 15%
- D. 20%

参考答案：B【解析】2019 年 7 月 9 日，健康中国行动推进委员会印发《健康中国行动（2019—2030 年）》。《健康中国行动》提出，到 2022 年，居民营养健康知识知晓率在 2019 年基础上提高 10%。到 2030 年，居民营养健康知识知晓率在 2022 年基础上提高 10%。故本题答案选 B。

25、2030 年我国孕妇贫血率目标值为（）

- A. <5%
- B. <10%
- C. <14%
- D. <20%

参考答案：B【解析】2019 年 7 月 9 日，健康中国行动推进委员会印发《健康中国行动（2019—2030 年）》。《健康中国行动》提出，到 2030 年，5 岁以下儿童生长迟缓率低于 5%，5 岁以下儿童贫血率低于 10%，孕妇贫血率低于 10%。故本题答案选 B。

26、《中国居民膳食指南》建议成人每日食用油摄入量不高于（）

- A. 10~15g
- B. 15~20g
- C. 20~25g
- D. 25~30g

参考答案：D【解析】2019 年 7 月 9 日，健康中国行动推进委员会印发《健康中国行动（2019—2030 年）》。《健康中国行动》提倡人均每日食盐摄入量不高于 5g，成人人均每日食用油摄入量不高于 25~30g，人均每日添加糖摄入量不高于 25g，蔬菜和水果每日摄入量不低

于 500g，每日摄入食物种类不少于 12 种，每周不少于 25 种；成年人维持健康体重，将体重指数（BMI）控制在 18.5~24 kg/m²；成人男性腰围小于 85cm，女性小于 80cm。故本题答案选 D。

27、2020 年全国卫生健康工作会议强调，要坚持（ ）工作总基调，坚持新发展理念，确保完成全面建成小康社会和“十三五”规划确定的卫生健康目标任务。

- A. 变中有优
- B. 稳中求进
- C. 稳中求变
- D. 变中求快

参考答案：B【解析】2020 年 1 月 6 日—7 日，2020 年全国卫生健康工作会议在北京召开。会议强调，2020 年是全面建成小康社会和“十三五”规划的收官之年。全国卫生健康系统要在以习近平同志为核心的党中央坚强领导下，坚持以习近平新时代中国特色社会主义思想为指导，认真贯彻落实党的十九大、十九届二中、三中、四中全会和中央经济工作会议精神，坚持稳中求进工作总基调，坚持新发展理念，以高质量发展为主题，以加强制度建设为主线，以改革开放创新为动力，确保完成全面建成小康社会和“十三五”规划确定的卫生健康目标任务。故本题答案选 B。

28、2020 年全国卫生健康工作会议强调，要确保实现（ ）基本医疗有保障且标。

- A. 贫困人口
- B. 城镇人口
- C. 农村人口
- D. 务工人口

参考答案：A【解析】2020 年 1 月 6 日—7 日，2020 年全国卫生健康工作会议在北京召开。会议强调，2020 年将确保完成全面建成小康社会和“十三五”规划确定的卫生健康目标任务。一是全面实施健康中国行动。二是持续深化医药卫生体制改革。三是确保实现贫困人口基本医疗有保障目标。四是全面加强医疗卫生机构的监管。五是加强公共卫生和重大疾病防治。六是推进中医药在传承创新中高质量发展。七是扎实做好“一老一小”照护服务和妇

幼保健工作。八是继续做好卫生健康各项重点工作。故本题答案选 A。

29、2020 年全国卫生健康工作会议强调，要坚持目标标准，保持攻坚态势，实行（），全面完成年度任务，坚决打赢健康扶贫这场硬仗。

- A. 领导督查
- B. 社会监督
- C. 舆论监督
- D. 挂牌督战

参考答案：D【解析】2020 年 1 月 6 日—7 日，2020 年全国卫生健康工作会议在北京召开。会议强调，2020 年将确保完成全面建成小康社会和“十三五”规划确定的卫生健康目标任务。其中，三是确保实现贫困人口基本医疗有保障目标。坚持目标标准，保持攻坚态势，实行挂牌督战，全面完成年度任务，坚决打赢健康扶贫这场硬仗。故本题答案选 D。

30、（）是白衣天使的信仰，也是仁医良医的精神支撑。

- A. 敬佑生命
- B. 治病救人
- C. 不谋私利
- D. 不畏风险

参考答案：A【解析】《国务院办公厅关于建立现代医院管理体制的指导意见》（国办发〔2017〕67 号）第二部分的第十二条“加强医院文化建设”中要求树立正确的办院理念，弘扬“敬佑生命、救死扶伤、甘于奉献、大爱无疆”的职业精神。这是新时期国家对于医疗健康职业精神的法定表述。

其中，敬佑生命，是白衣天使的信仰，也是仁医良医的精神支撑。医者贵有仁术，更贵有仁心。敬佑生命是为医者的基本底线，是因为医者从事的是人世间最高尚的事业，背负着守护生命的责任。敬佑生命，要把救治人的生命看作最崇高的职业责任，最神圣的职业使命，把病人利益放于首位。敬佑生命，在救助病患时真正做到以人为本，而不是以疾病为本。

故本题答案选 A。

31、（ ）是医疗健康行业的职业特征，也是医务工作者的天职。

- A. 人道主义
- B. 惩前毖后
- C. 救死扶伤
- D. 尊重科学

参考答案：C【解析】《国务院办公厅关于建立现代医院管理体制的指导意见》（国办发〔2017〕67号）第二部分的第十二条“加强医院文化建设”中要求树立正确的办院理念，弘扬“敬佑生命、救死扶伤、甘于奉献、大爱无疆”的职业精神。这是新时期国家对于医疗健康职业精神的法定表述。

其中，救死扶伤是医疗健康行业的职业特征，也是医务工作者的天职。健康所系，性命相托。医学的特殊性赋予了医务工作者救死扶伤的神圣使命和光荣责任。当灾难袭来时，医务工作者更是抢救生命的重要力量，尽心竭力用精湛的医术护佑公众安康。

故本题答案选 C。

32、（ ）是一种大爱，是一种把本职工作当作毕生事业的热爱，是对事业不计回报的全心付出。

- A. 集体主义
- B. 实事求是
- C. 甘于奉献
- D. 大爱无疆

参考答案：C【解析】《国务院办公厅关于建立现代医院管理体制的指导意见》（国办发〔2017〕67号）第二部分的第十二条“加强医院文化建设”中要求树立正确的办院理念，弘扬“敬佑生命、救死扶伤、甘于奉献、大爱无疆”的职业精神。这是新时期国家对于医疗健康职业精神的法定表述。

其中，甘于奉献是一种大爱，是一种把本职工作当作毕生事业的热爱，是对事业不计回报的全心付出。甘于奉献也是一种品格，是医者治病救人职业价值的更高升华。源自对奉献精神的理解和追求，源于对事业的执着和热爱，医者群体甘于奉献的职业品格才更显得难能可贵。而奉献精神所迸发出的创造力、凝聚力、感召力，正是当今广大医护人员职业尊严的

基石，也正是推动健康中国建设的强大动力。

故本题答案选 C。

33、某医院的一名新冠肺炎患者因不堪忍受病痛折磨而自杀，被某媒体不负责任的报道，给该医院造成了严重的负面影响。假设你是该医院负责信息宣传的人员，下列做法最恰当的是（）。

- A. 向患者家属要求赔偿
- B. 与相关媒体联系，并与其达成某种交易，让其采取一定措施以消除外界对本院的误解
- C. 做好本职工作，坚信清者自清，无需辩解
- D. 通过网络等媒体进行澄清，将一系列的事实真相与数据公布于众

参考答案：D【解析】媒体出现不实报道，避免造成更大舆论。最恰当的做法应该是通过网络等手段进行澄清，将收集的信息公布于众，还原事实真相。故本题答案选 D。

34、假设你是医院 B 超室的一名医生，你发现患者郑某在进行 B 超检查时膀胱充盈度不够，会影响检查结果，此时你该如何处理？（）

- A. 将患者数落一番，并让其排在检查队伍的最末尾
- B. 告知患者原因，让其喝水后继续等待，使膀胱充盈，符合条件后再来检查
- C. 对患者说“护士没告诉你要喝水憋尿吗？为什么不憋尿”
- D. 为患者检查，就现有条件下的检查所见为患者出具检查报告，并在报告上标明“膀胱充盈度不够”

参考答案：B【解析】为确保检查结果的准确性，最合适的做法应告知患者原因，让患者继续喝水，待膀胱充盈符合条件后，再给患者做相应检查。故本题答案选 B。

35、护士王某在给一位血管条件特别不好的老年患者打针时，打了好几针才成功，患者家属因此很生气，这时护士长正巧从旁边经过，该患者的家属便和护士长说明情况，并强烈要求要换一个技术过硬的护士来护理该患者。面对这种情况，护士王某的下列做法最恰当的是（）

- A. 及时帮患者按压打针的伤口，避免造成皮肤淤青，向患者道歉并委婉说明原因
- B. 向患者道歉，向护士长承认是自己技术不过硬

C. 向患者家属解释是由于患者血管条件不好导致的

D. 默不作声，继续工作

参考答案：A【解析】患者血管条件不好，在输液过程中会造成扎针难度增大，本题王护士最佳的处理方法先帮助患者按压伤口，避免造成淤青，然后再向患者道歉，并委婉的说明情况。故本题答案选A。

36、一农村老太太，因自觉头晕、咳嗽、胸闷前往医院。医生接诊后建议她去做化验和检查，老太太却说自己的病没什么大问题，直接开点药就行了，并坚持不去做检查。则该接诊医生的下列沟通方法中，最恰当的是（）

A. “那我直接给您开点药拿回去吧”

B. “如果您不做检查，出了事情我不负责”

C. “来医院不听医生的，那您来医院干吗”

D. “老太太您放心，做的一些化验和检查对身体都是没有伤害的，价格也不贵，都是在医保范围内的，检查一下咱们都安心”

参考答案：D【解析】ABC选项均不符合医生跟患者沟通的方式，最合适选择为D，让老太太放心，并告知做的化验和检查对身体都是没有伤害的，价格也不贵，都是在医保范围内的，检查一下咱们都安心。故本题答案选D。

37、患者，男，54岁，胃黏膜上皮细胞发现肿块6个月，伴恶心、呕吐、上腹不适，进食后饱胀，体重减轻就诊于某医院，以“胃癌可疑”收入院。入院后，患者一般情况差，因诊断尚未确定，尚未将具体情况告知患者及其家属。一天，一进修医生去给患者查体，患者询问进修医生自己的病情，此时进修医生如何回答在道德上最佳？（）

A. 告诉患者：胃黏膜上皮细胞肿块待查

B. 根据自己对病情的判断，告诉患者，我认为是胃癌

C. 尊重患者的获悉真实病情的权利，告知：胃癌的可能性极大

D. 为缓解患者的心理压力，善意欺骗患者，告知：良性肿瘤的可能性大

参考答案：A【解析】A选择正确，告知患者肿块待查。B项错误，医生不可在无病理等检查的依据时根据自己的经验下诊断，容易漏诊误诊。C项错误，病情诊断尚未确定，严重性也

无从判断，此时告诉患者会对患者心理造成巨大压力，对疾病的诊治无益。D项错误，患者一般情况差，良性肿瘤可能性不高，若轻易下诊断，若确诊恶性时，对患者及家属的伤害会更大。故本题答案选A。

38、过去人们都认为“老来瘦”是老年健康的体现，有些老年人片面追求“健康”而刻意素食，尽量少吃肉，甚至干脆不吃肉，殊不知这么做却_____了，肉类含有丰富的优质蛋白质，而老年人胃肠道的吸收能力减退，需要的蛋白质的量可能比年轻人还要高。

填入横线部分最恰当的一项是（）。

- A. 事倍功半
- B. 因噎废食
- C. 矫枉过正
- D. 本末倒置

参考答案：C【解析】第一步，分析语境。根据空格前代词“这”指代上文“片面追求‘健康’而刻意素食，尽量少吃肉，甚至干脆不吃肉”可知，这种做法是为了避免吃肉造成的“不健康”。再根据“肉类有优质的丰富蛋白质，老年人需要的蛋白质的量可能比年轻人还高”。因此，老年人的做法是为了避免问题，但超过了合理限度。

第二步，分析选项。

A项“事倍功半”形容做事的方法费力大，收效小；

B项“因噎废食”比喻要做的事情由于出了点小毛病或怕出问题就索性不去干；

D项“本末倒置”比喻把主次、轻重的位置弄颠倒了。三者均不符合语境，排除。

C项“矫枉过正”比喻纠正错误超过了应有的限度，符合语境，保留。

故本题答案选C。

39、媒体经过调查发现，农药标签上印制的二维码五花八门，企业只是制作了二维码，但并不重视二维码能起到什么作用。经营者、监管部门也只是看到有二维码就行。如此一来，二维码_____，可追溯和防伪的作用无法发挥。

填入横线部分最恰当的一项是（）

- A. 虚无缥缈

- B. 名不符实
- C. 名存实亡
- D. 形同虚设

参考答案：D【解析】第一步，分析语境。根据“企业只是制作了二维码，但不重视能起什么作用”，再根据经营者、监管者只看二维码有没有。因此二维码是空有制作，但没实际效果。

第二步，分析选项。

A项“虚无缥缈”指看不见，摸不着的虚幻，就像人的思想境界一样，没有实体感；

B“名不符实”指名声与实际不符；

C“名存死亡”指名义上还存在，实际上已消亡。三者均不符合语境，排除。

D项“形同虚设”指形式上虽有，却不起作用，符合语境，保留。

故本题答案选D。

40、看病偏向于去找更好的医院、更好的科室、更好的大夫，而且越富裕的家庭越想寻求更优质的医疗资源，这种逻辑本_____，但当这种社会心理缺失足够科学合理的医疗资源分配机制时，全社会优质医疗资源紧缺的状况就愈发_____。

依次填入横线部分最恰当的一项是（）

- A. 无关紧要 显著
- B. 无足轻重 明显
- C. 无可厚非 凸显
- D. 无可非议 突显

参考答案：C【解析】第一步，分析第一空。根据代词“这”，往前找提示信息，发现这种逻辑是人之常情，但根据后文“全社会医疗资源紧缺的状况愈发”，可知这种逻辑是不符合社会实际的，有问题的。A项“无关紧要”是指不重要，不会影响大局；B项“无足轻重”指无关紧要；D项“无可非议”意思是没有什么可以指责的，表示言行合乎情理。三者均不符合语境，排除。C项“无可厚非”指说话做事虽有缺点，但还有可取之处，应予谅解，符合语境。答案锁定C项。

第二步，验证第二空。C项“凸显”指清楚地显露，也指突出，显著，符合语境。

故本题答案选 C。

41、_____手机和汽车里使用的 GPS 系统，大脑也是靠采集个体运动的位置和时间等多方面的信息并加以整合计算，用以判断我们身在何方，又将去向何处。如果没有大脑里的导航系统，所有动物包括人类将无法猎取食物，繁衍生息。那么，_____，个体甚至整个种族将会因此灭亡。

依次填入横线部分最恰当的一项是（ ）

- A. 好像 毋庸置疑
- B. 如同 毫无疑问
- C. 类似 众所周知
- D. 犹如 不容争辩

参考答案：B【解析】第一步，突破口在第二空。根据“如果没有大脑里的导航系统，所有动物包括人类都将无法猎取食物，繁衍生息”，可知“个体甚至整个种族都将因此灭亡”是肯定的。

A 项“毋庸置疑”事实明显或理由充分，根本就没有怀疑的余地，空格后不是事实和理由，而是一种观点，排除。

B 项“毫无疑问”不存在问题，十分肯定，符合语境，保留。

C 项“众所周知”意思是大家都知道的，排除。

D 项“不容争辩”形容某事已十分确定，不容置疑。没有争辩的余地了，排除。

第二步，验证第一空。根据“手机和汽车里使用的 GPS 系统”“大脑也是采集个体运动的位置和时间等多方面的信息并加以整合，用以判断我们身在何方，又将去向何处”。可知大脑判断人的位置和行动方向，与手机和汽车里使用的 GPS 系统的工作原理有相同之处。B 项“如同”符合语境。

故本题答案选 B。

42、从当前的疾病谱来看，随着慢性病病种增加/人数增多，医保基金的支付将_____更大压力。以门诊报销为抓手，_____人们规范就诊，让医生趁此机会建立患者慢性病管理档案，加强健康干预、防治结合，就能有效管控慢性病风险，_____医保基金的使用更加精准高

效。

依次填入横线部分最恰当的一项是（ ）

- A. 面临 引导 确保
- B. 面对 指引 担保
- C. 应对 诱导 保障
- D. 应付 指挥 保证

参考答案：A【解析】第一步，分析第一空。该空搭配“支付”“压力”。A项“面临”；B项“面对”，二者均符合语境，保留。C项“应对”、D项“应付”，二者代入空格均搭配不当，排除。

第二步，再看第三空。A项“确保”指切实保持或保证，符合语境，保留。B项“担保”是指当事人根据法律规定或者双方约定，为促使债务人履行债务实现债权人的权利的法律制度，排除。答案锁定A项。

第三步，验证第二空。A项“引导”指通过用某种手段或方法去带动某事物的发展，符合语境。

故本题答案选A。

43、消除公众的肿瘤焦虑，不可能_____，更不可能一劳永逸，人类发展的历史就是疾病猖獗的历史，与病魔斗争历程_____而没有终点，尽管医学水平在进步，但新的疾病却可能随时冒出来。故此，即便短时间内无法_____病魔，但通过制度安排，动员多方力量共同努力，让患者少一些痛苦、多一些尊严，少一些焦虑、多一些从容，则属善莫大焉。

依次填入横线部分最恰当的一项是（ ）

- A. 立竿见影 残酷 对抗
- B. 马到成功 艰难 克服
- C. 一蹴而就 漫长 战胜
- D. 一举成功 持久 抗衡

参考答案：C【解析】第一步，分析第二空。该空搭配“历程”，体现没有终点。A项“艰难”；B项“残酷”，二者排除。C项“漫长”；D项“持久”，二者保留。

第二步，分析第三空。根据“消除公众的肿瘤焦虑”“一劳永逸”，可知该空表达“消

除、解决”之意。C项“战胜”在战争、竞争或竞赛中取得胜利或取得成功，其引申义符合语境。D项“抗衡”彼此对抗，不相上下，排除。

第三步，验证第一空。C项“一蹴而就”比喻事情轻而易举，一下子就成功。符合语境。故本题答案选C。

44、健康不仅意味着生理上没有疾病，还意味着良好的心理、社会适应状态，这就要求每个人都应该学习健康知识、养成健康生活习惯，并对影响自己健康的各类风险因素心里有数，及时干预，调适心理，做好自己健康的第一责任人。

这段文字主要是从（）层面论述了应如何保障居民身体健康。

- A. 国家
- B. 社会
- C. 家庭
- D. 个人

参考答案：D【解析】根据“这就要求每个人……对影响自己……做好自己健康的第一责任人”，可知是个人层面。故本题答案选D。

45、在疫情爆发之前，写字楼、商业区聚众吸烟者有之；公交车站、菜市场随地吐痰者有之；老旧小区垃圾堆积、杂物乱放等现象有之；街头巷尾宠物随地大小便等情况亦有之……这些文明卫生问题看似事小，实则关系重大。它不仅破坏环境，影响居民生活质量，而且会导致病菌传播，严重危害公共健康。

这段文字意在说明（）

- A. 文明卫生问题不容忽视
- B. 提升全民健康素养迫在眉睫
- C. 应如何提升公民的健康素养
- D. 文明卫生小问题是危害公共健康的最大隐患

参考答案：A【解析】第一步，分析文段。文段第一句用多个并列分句列举疫情爆发之前，不文明、不卫生现象随处可见。第二句通过递进词“不仅……而且”，强调这些现象对导致病菌传播，严重危害公共健康。文段为“分总”结构，主要内容在尾句，强调不文明、不卫

生现象导致病菌传播，严重危害公共健康。

第二步，分析选项。A项是针对文段主要内容的合理对策，符合文段意图。

故本题答案选A。

46、持续推进环境卫生整治，营造健康安全环境，要重点对农贸市场、学校、机场、车站等人员聚集场所和背街小巷、老旧小区、城中村、城乡结合部、建筑工地、小餐饮店等薄弱环节进行环境卫生整治，彻底清除卫生死角，补齐环境卫生短板。

这段文字意在强调持续推进环境卫生整治，营造健康安全环境（）

- A. 要完善环境卫生基础设施
- B. 要帮助树立公共卫生安全意识
- C. 要聚焦重点场所提升环境卫生质量
- D. 要结合关键时点开展群众性卫生活动

参考答案：C【解析】第一步，分析文段。文段为一句话，主要内容在“要重点之后”。主要讲述推进环境卫生整治，营造健康安全环境重在聚焦重点场所的治理。

第二步，分析选项。C项符合文意。

故本题答案选C。

47、做好2020年“世界艾滋病日”主题活动，要充分利用广播、报刊、杂志等主流媒体和“两微一端”等新媒体开展广泛宣传，普及艾滋病防治知识。在机场、车站、码头、口岸、居民社区等场所广泛张贴宣传画、播放宣传影音，在医疗卫生机构候诊室设立宣传栏等，加强公共场所和流动人口宣传，发挥高校社团和青年志愿者作用，集中开展预防艾滋病宣传教育活动。鼓励社会组织发挥自身优势，开展艾滋病和性病防治知识宣传、干预、动员检测、关怀救助等活动。动员企业、基金会等社会力量开展相关宣传教育和捐款捐物、扶贫救助等公益活动。

下列最适合做这段文字标题的是（）

- A. 因地制宜开展“世界艾滋病日”主题活动
- B. 充分利用现有艾滋病宣教平台和宣教资料
- C. 统筹安排、积极开展多种形式“世界艾滋病日”宣传教育活动

D. 主动汇报、积极争取党委政府领导参与宣传“世界艾滋病日”主题活动

参考答案：C【解析】第一步，分析文段。文段主要讲述做好“2020年世界艾滋病日”主题活动，宣传教育方式多样化。

第二步，分析选项。C项符合文段主要内容，是最恰当的标题。

故本题答案选C。

48、将以下5个句子重新排列，语序正确的是（）

①健康的动脉壁，三层膜之间亲密无间，天衣无缝

②作为供应到大脑的血液运输通道，颈动脉的管壁实际上是一种类似“三合板”的多层结构

③这种在原有动脉管腔之外形成了异常管腔结构（医学上称为假腔）的情况，就叫动脉夹层

④管壁分三层，分别是提供平滑内衬的内膜，具有相当强度、韧性和弹力的中膜，分布血管、淋巴管和神经的外膜

⑤当动脉内膜出现破损，高速、高压的血液穿过内膜冲击进入中膜，足以把具有一定厚度的中膜撕裂开，在中膜层与外膜层间冲击出另一个可容纳血流的腔隙

A. ①②④⑤③

B. ②④①⑤③

C. ③④②①⑤

D. ⑤④③②①

参考答案：B【解析】①句和③句之前均有内容，不适宜作首句，排除A、C项。⑤句和③句代词指代衔接，②句和④句讲述“三合板”结构，话题一致，②④衔接，保留B项。故本题答案选B。

49、社会组织是指人们为了有效地达到特定目标按照一定的宗旨、制度、系统建立起来的共同活动集体。它有清楚的界限、明确的目标，内部实行明确的分工并确立了旨在协调成员活动的正式关系结构。

根据上述定义，下列不属于社会组织的是（）

A. 企业

B. 商店

C. 学校

D. 家庭

参考答案：D【解析】社会组织是公共关系的主体，它是公共关系的三大构成要素之一。公共关系学所称的“社会组织”是狭义的。它是人们为了有效地达到特定目标按照一定的宗旨、制度、系统建立起来的共同活动集体。它有清楚的界限、明确的目标，内部实行明确的分工并确立了旨在协调成员活动的正式关系结构，比如，政党、政府、企业、商店、工厂、公司、学校等。家庭不符合题干为了实现目标而按照一定宗旨、制度、系统建立起来的共同活动集体。故本题答案选D。

50、共同共有是指每个共有人对共有财产不分份额地享有共同的权力，承担共同的义务。

根据上述定义，下列构成共同共有的是（）

- A. 兄弟二人各出资 5 万元一起购买了甲公司的股票
- B. 被继承人死亡后，继承人对被继承人遗留的没有分割的遗产
- C. 居住在同一幢楼的居民对共同乘坐的电梯
- D. 为了改善学生生活条件，学校为每个宿舍安装空调，空调所产生的电费由宿舍 4 人均摊

参考答案：B【解析】共同共有是指两个或者两个以上的共有人对某项共有财产不分份额地共同享有权利、共同承担义务的一种关系。共同共有的成立是以共同关系的存在为前提的。所谓共同关系是指数人以共同目的而结合所形成的作为共同共有基础的法律关系，如夫妻关系、家庭关系等。男女在同居期间、事实婚姻关系存续期间产生的共有，以及在被继承人死亡后、遗产分割前，各继承人对遗产的共有，都属于共同共有关系。

按份共有是指两个或者两个以上的共有人按照各自在共有财产中所占的份额，分别享有权利和分别承担义务的一种共有关系。

A 项属于按份共有，C 项属于基于区分所有而产生的共有权，D 项空调不是学生的共有财产，属于学校的财产，不符合定义。

故本题答案选 B。

51、结构性失业是指由于经济结构、体制、增长方式等的变动，使劳动力在包括技能、经验、主观意愿、地区等方面的供给结构与需求结构不相一致而导致的失业。

根据上述定义，下列属于结构性失业的是（ ）

- A. 一些刚从学校毕业的大学生找不到工作
- B. 文化水平不高的一部分人因不适应社会发展现代化的要求而面临失业
- C. 因某市公交车都改成无人售票，导致许多公交车售票员转到后勤保障岗位
- D. 受新冠疫情影响，美国很多企业纷纷裁员，造成很多人失业

参考答案：B【解析】结构性失业，主要是由于经济结构（包括产业结构、产品结构、地区结构等）发生了变化，现有劳动力的知识、技能、观念、区域分布等不适应这种变化，与市场需求不匹配而引发的失业。结构性失业在性质上是长期的，而且通常起源于劳动力的需求方。

摩擦性失业是指因季节性或技术性原因而引起的失业，即由于经济在调整过程中，或者由于资源配置比例失调等原因，使一些人需要在不同的工作中转移，使一些人等待转业而产生的失业现象。

周期性失业又称为总需求不足的失业，是由于整体经济的支出和产出水平下降即总需求不足而引起的短期失业，它一般出现在经济周期的萧条阶段。这种失业与经济中周期性波动是一致的，在经济繁荣时周期性失业率下降，经济萧条时周期性失业率上升。在复苏和繁荣阶段，各厂商争先扩充生产，就业人数普遍增加。在衰退和谷底阶段，由于社会需求不足，前景暗淡，各厂商又纷纷压缩生产，大量裁减雇员，形成令人头疼的失业大军。

A、C选项属于摩擦性失业；B选项属于结构性失业；D选项属于周期性失业。

故本题答案选B。

52、小红在饭店看到小明吃狗肉，于是上前训斥：“你怎么可以吃狗肉，小狗多么可爱，就像小朋友一样，你忍心伤害小朋友吗？”

下列选项中与小红所犯的逻辑错误相同的是（ ）

- A. 一个提倡健康饮食的人在电视上发表了很荒唐的饮食理论来推广健康饮食理念，甲看到后觉得健康饮食就是骗人的，于是开始每天暴饮暴食
- B. 乙反对同性恋婚姻，因为他认为如果允许同性恋结婚，那么就会有人想要和桌子、椅子结婚
- C. 当丙提出了一个很合理的关于基础设施建设的提议时，丁说他不相信任何丙说的话，因为

丙不爱国，经常批评政府，不懂得感恩

D. 法官问戊为什么要偷东西时，戊回答，我刚来本地不久，钱包就被偷，身无分文，不得已才偷了东西

参考答案：B【解析】题干逻辑错误为类比推理，以小朋友比喻狗，B选项以桌子比喻同性恋，符合。故本题答案选B。

53、某市要评选卫生先进个人，市民对于甲、乙、丙、丁四位候选人有如下猜测：

- ①甲和丙都没有当选；
- ②如果乙没有当选，那么丁一定当选；
- ③如果丙没有当选，那么甲一定当选；
- ④丁一定能当选。

最后四人中只有一人被评选为卫生先进个人，且上述猜测中只有一项是正确的，则下列哪项一定正确？（）

- A. 丁当选卫生先进个人
- B. 猜测②错误
- C. 乙没有当选卫生先进个人
- D. 丙当选卫生先进个人

参考答案：B【解析】由题干信息①、③可知互为矛盾，必有一真一假，因此②、④都为错误猜测。所以丁没有当选，乙当选了。由于只有一人当选，所以甲、丙都没有当选，故答案选B。

54、某乡镇机关进行了一项关于群众满意度的调查，发现群众对于乡镇干部的满意度要普遍高于对村级干部的满意度，而群众满意度的调查内容包括服务态度、工作能力和人及协调能力，表明成为乡镇级干部可以获得更高的群众满意度。

下列哪项如果为真，最能削弱上述结论？（）

- A. 较高的群众满意度是成为乡镇级干部的先决条件
- B. 群众满意度不能完全反映机关干部的工作能力
- C. 乡镇级干部的群众满意度也远远低于县级干部

D. 村级干部的工作压力要比乡镇级干部大得多

参考答案：A【解析】题干论点，乡镇干部可以获得更高满意度，A选项高满意度是先决条件说明，有了更好的满意度才能称为乡镇干部，属于因果倒置，可以削弱。B选项不能完全反映...为不明确选项，C、D选项主体话题不一致。故本题答案选A。

55、手机：芯片（）

A. 洗衣机：塑料

B. 黄豆：豆腐

C. 羽扇：折扇

D. 计算机：CPU

参考答案：D【解析】芯片是手机的组成部分，二者属于组成关系。D项：CPU是计算机的组成部分，二者属于组成关系，与题干逻辑关系一致，符合。故本题答案选D。

56、五指山：龟山（）

A. 金鱼草：牛油果

B. 马尾松：虎耳草

C. 向日葵：含羞草

D. 五行草：燕子掌

参考答案：C【解析】五指山和龟山是两座山，二者为反对关系。A项，金鱼草是一种草本植物，牛油果是一种木本植物，二者与题干逻辑关系不一致，排除；B项，马尾松是一种木本植物，虎耳草是一种草本植物，二者与题干逻辑关系不一致，排除；C项，向日葵和含羞草都是草本植物，二者互为反对关系，与题干逻辑关系一致，符合；D项，五行草是一种草本植物，燕子掌是一种灌木植物，二者与题干逻辑关系不一致，排除。故本题答案选C。

57、屋漏偏逢连夜雨 对于（）相当于（）对于直言不讳

A. 祸不单行 打开天窗说亮话

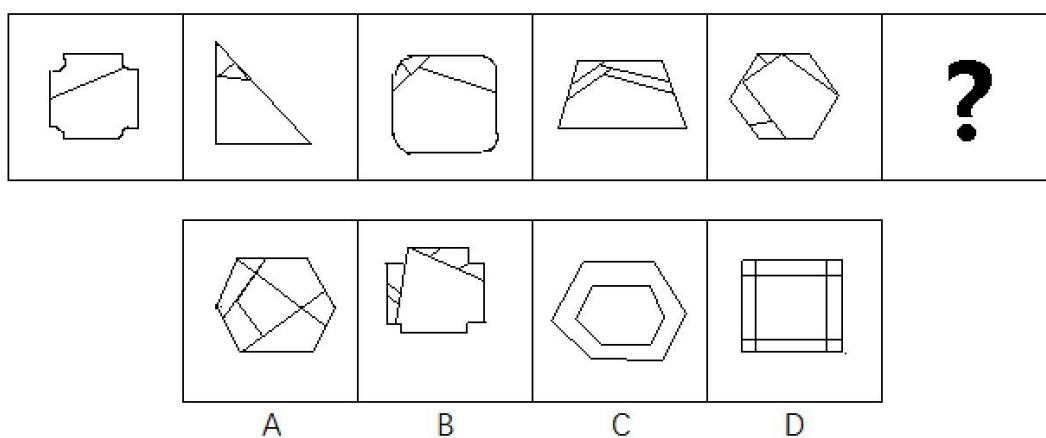
B. 横遭不幸 此地无银三百两

C. 雪上加霜 来而不往非礼也

D. 灾患丛生 众人拾柴火焰高


参考答案：A【解析】A选项代入，“屋漏偏逢连夜雨”指本来已经够倒霉的了，但恰巧还有火上浇油的更大的打击，“祸不单行”指不幸的事接二连三地发生，二者互为近义词；“打开天窗说亮话”比喻无须规避，公开说明，“直言不讳”形容一个人说话毫无隐瞒，二者互为近义词，可见前后两组词的逻辑关系一致，符合。故本题答案选A。

58、选择最合适的一项填入问号处，使之呈现一定的规律性。（）



参考答案：B【解析】图形从左到右面的个数分别为2、3、4、5、6、？，因此？处应该填入7个面的图形，排除C、D选项；其次已知图形均存在一个明显的最大面，B项符合，故本题答案选B。

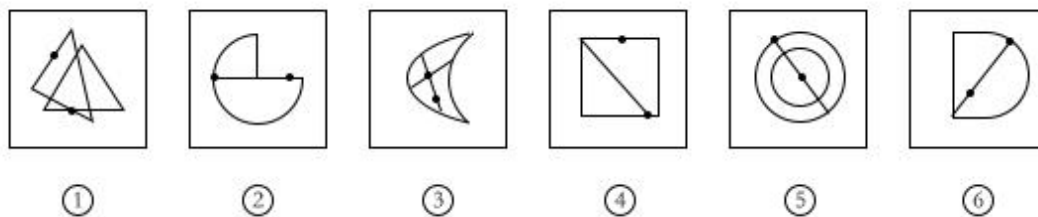
59、选择最合适的一项填入问号处，使之呈现一定的规律性。（）



参考答案：D【解析】图形中点的个数从左到右依次为0、1、2、3、？，因此？处应该填入

4个点的图形，只有D选项符合。故本题答案选D。

60、将以下6个图形分成两类，使每一类图形都有各自的共同特征或规律，分类正确的一项是（）



- A. ①②③；④⑤⑥
- B. ①③④；②⑤⑥
- C. ①②⑤；③④⑥
- D. ①③⑥；②④⑤

参考答案：B【解析】图①③④中，一个点在标记直线，一个点在标记直直交点；图②⑤⑥中，一个点在标记直线，一个点在标记曲直交点。故本题答案选B。

61、-1，1，5，11，（）

- A. 19
- B. 20
- C. 21
- D. 22

参考答案：A【解析】数列后一项与前一项，做差后得2、4、6、？，所以下一项与前项的差为8。即（19）减8等于11。括号填19。故本题答案选A。

62、 $1/3$ ， $2/3$ ， $4/3$ ， $8/3$ （）

- A. 3
- B. $14/3$
- C. 5
- D. $16/3$

参考答案：D【解析】本

题考查等比数列。数列分母都为3，分子是等比数列，分别为1、2、4、8、（16）。故本题答案选D。

63、3, 3, 6, 12, 24, ()

A. 28

B. 36

C. 48

D. 52

参考答案：C【解析】数列规律为： $3+3=6$ ； $3+3+6=12$ ； $3+3+6+12=24$ ，所以 $(48)=3+3+6+12+24$ 。括号中填48。故本题答案选C。

64、2, 6, -4, 10, -14, ()

A. 20

B. 22

C. 24

D. 26

参考答案：C【解析】数列的规律为：前一项减去后一项等于第三项， $2-6=-4$ ； $6-(-4)=10$ ； $-4-10=-14$ ； $10-(-14)=(24)$ ，括号中填24。故本题答案选C。

65、1.4, 3.5, 2.8, 6.10 ()

A. 3.28

B. 4.16

C. 5.24

D. 6.48

参考答案：B【解析】数列规律为：后一项小数点前的数字等于前面项的两数字后减前，即 $(3=4-1)$ ；后一项小数点后的数字等于前面项的两数字相加，即 $(5=1+4)$ 。所以所求括号内的应该是 $(10-6; 10+6)$ ，即 (4.16) 。故本题答案选B。

66、某地区开展节约

用电周活动，电力供应公司计划在下周七天内选择两天停止供电，若要求停电的两天不相连，泽电力供应公司共有（）种停电方案？

A. 8

B. 15

C. 20

D. 24

参考答案：B【解析】排列组合问题用插空法，7天内选2天，且不能相邻，剩下五天形成的六个空中选俩个，即 $C_6^2 = 15$ 。故本题答案选B。

67、某公司要将一批零件打包寄送，已知快递公司有大小两种盒子，大盒子每盒能装11个该种零件，小盒每盒能装8个该种零件，要将89个零件打包寄送，并要求每个盒子都恰好装满，则需要的大、小盒子数分别为（）个。

A. 6、3

B. 3、8

C. 3、7

D. 5、4

参考答案：C【解析】设需要的大盒子数为X个，小盒子数为Y个，列不定方程， $11X+8Y=89$ 。X、Y都是正整数，可以选用代入法，代入选项得X=3，Y=7时满足题干条件。故本题答案选C。

68、某不透明盒子中有除颜色外其他都相同的5个白色海洋球和4个蓝色海洋球。从中任意拿2个海洋球，拿到的两个海洋球至少有1个是白色海洋球的概率为（）

A. 1/4

B. 3/4

C. 1/6

D. 5/6

参考答案：D【解析】概率问题。总的情况是：从9个里面选2个， $C_9^2 = 36$ ；满足条件的

情况数是 $C_5^1 \times C_4^1 =$

20 和 $C_5^2 = 10$ ，共 30。所以概率为 $30/36=5/6$ 。故本题答案选 D。

69、某学生会招聘新成员，按规定每人至多可以应聘两个部门，结果共 42 人报名，甲乙丙三个部门报名人数分别为 22 人，16 人，25 人，其中同时报甲乙两个部门的人数为 8 人，同时报甲丙两个部门的人数为 6 人，则同时报名乙丙两个部门的人数为（ ）

- A. 5
- B. 6
- C. 7
- D. 8

参考答案：C【解析】三集合容斥问题。三集合容斥原理公式， $A \cup B \cup C = A + B + C - A \cap B - B \cap C - C \cap A + A \cap B \cap C$ 。直接利用公式得 $42 = 22 + 16 + 25 - 8 - 6 - X + 0$ 。得 $X = 7$ 。故本题答案选 C。

70、某教师每天骑电动车去学校，如果他每小时的车速比原来慢 3 千米，他去学校的在途时间比原来的时间多 $1/3$ ；如果他每小时的车速比原来快 3 千米，则他去学校的在途时间只需要原来时间的（ ）

- A. $1/5$
- B. $2/5$
- C. $3/5$
- D. $4/5$

参考答案：D【解析】行程问题。利用路程相等，原来的（速度 $V \times$ 时间 T ）= $(V - 3) \times 4/3T$ 。得出 $V = 12$ 。根据路程相等，时间与速度成反比。速度从 12 变成 15 后，速度之比为 4:5。则时间之比应该是 5:4。原来是 T ，所以现在是 $4/5T$ 。故本题答案选 D。

根据资料，完成 71-75 小题。

2019 年末，全国医疗卫生机构总数达 1007545 个，比上年增加 10112 个。其中：医院 34354 个，基层医疗卫生机构 954390 个，专业公共卫生机构 15924 个。与上年相比，医院增加 1345 个，基层医疗卫生机构增加 10751 个，专业公共卫生机构减少 2109 个。



71、2019 年，全国医疗卫生家机构数的同比增速约为 ()

- A. 1%
- B. 2%
- C. 3%
- D. 4%

参考答案：A【解析】

$$\text{增长率} = \frac{\text{增长量}}{\text{现期量} - \text{增长量}} = \frac{10112}{1007545 - 10112} = \frac{10112}{997433}$$

，直除首两位商 10，

故本题答案选 A。

72、2018 年，全国医院数约占全国医疗卫生机构总数的 ()

- A. 2.2%
- B. 2.8%
- C. 3.3%
- D. 4.2%

参考答案：C【解析】根据柱形图，可知 2018 年全国医院数为 3.3 (万个)，

2018年占比 = $\frac{33000}{1007545 - 10112} = \frac{33000}{997433}$ ，直除首两位商 33，故本题答案选 C。

73、2015-2019 年，全国医院数量的同比增速最快的是（ ）

- A. 2016 年
- B. 2017 年
- C. 2018 年
- D. 2019 年

参考答案：B【解析】 $\text{增长率} = \frac{\text{增长量}}{\text{基期量}}$ ，定位柱形图不难发现 2017 年的增长量最大，基期量比 2018、2019 年小，根据分数性质（分子大且分母小的分数值更大），排除 C、D 选项，

2016 年增长率 $\frac{2.91 - 2.76}{2.76} = \frac{0.15}{2.76}$ ，直除首位商 5，2017 年增长率 $\frac{3.11 - 2.91}{2.91} = \frac{0.2}{2.91}$ ，直除首位商 6，因此 2017 年最大，故本题答案选 B。

74、2018 年末，全国基层医疗卫生机构数约比专业公共卫生机构数多（ ）倍。

- A. 51.3
- B. 54.5
- C. 58.9
- D. 59.9

参考答案：A【解析】

$\frac{\text{2018年基层医疗卫生机构数}}{\text{2018年专业公共卫生机构数}} - 1 = \frac{954390 - 10751}{15924 + 2109} - 1 = \frac{943639}{18033} - 1 = 52.3 - 1 =$

51.3，故本题答案选 A。

75、若保持 2019 年增速不变，则（ ）全国基层医疗卫生机构数量将超过 100 万个。

- A. 2021 年

- B. 2022 年
- C. 2023 年
- D. 2024 年

参考答案: D【解析】根据增长量=基期量×增长率, 增长率不变, 后面每年基期量相差不大, 略有增加, 因此后面每年的增量应略大于 2019 年的增量 10751。100 万-954390=45610, $\frac{45610}{10751} = 4^+$, 因此要 5 年, 故本题答案选 D。

根据资料, 完成 76-80 小题。

2019 年 s 市医疗机构总诊疗人次 1394.4 万人次, 其中门急诊人次 1379.7 万人次, 同比上年增加 46.3 万人次, 诊疗人次具体情况为: 公立医院 (含市妇幼保健院, 不含社区卫生服务中心、卫生院, 下同) 589.51 万人次, 占 42.28%, 全市占比比上年下降 0.8 个百分点; 乡镇卫生院 (社区卫生服务中心、站、室) 515.6 万人次, 占 36.98%, 全市占比比上年下降 0.11 个百分点, 专业公共卫生机构 107.6 万人次, 占 7.72%; 门诊部、诊所等 181.4 万人次, 占 13.01%, 民营医院 100.19 万人次, 占全市的 7.19%, 非营利性医疗机构与营利性医疗机构的诊疗人次比为 4.76: 1。

S 市卫生医疗机构入院, 患者 172742 人次, 同比上年增加 8.24%, 出院患者 172611 人次, 同比上年增加 8.22%, 每百门诊的入院人数为 1.45 人, 全市公立医院 (含市妇幼保健院) 入院患者 143901 人次, 同比上年增加 4.87%, 出院患者 143796 人次, 比上年增加 4.75%。
76、2019 年, s 市公立医院 (含市妇幼保健院) 入院患者 (人次) 对卫生医疗机构入院患者 (人次) 的贡献了约为 ()

- A. 50.8%
- B. 68.4%
- C. 75.6%
- D. 83.3%

参考答案: D【解析】定位材料的第二段“S 市卫生医疗机构入院患者 172742 人次, 比上年增加 8.24%, 出院患者 172611 人次, 比上年增加 8.22%, 每百门急诊的入院人数为 1.45 人。全市公立医院 (含市妇保院) 入院患者 143901 人次, 比上年增加 4.87%, 出院患者 143796 人次, 比上年增加 4.75%”, 可得到 2019 年, s 市公立医院 (含市妇保院) 入院患者 (人次)

对卫生医疗机构入院患者（人次）的贡献率约为 $\frac{143901}{172742} \approx 83.3\%$ 。故本题答案选 D。

77、2019 年 s 市非营利性医疗机构确诊人次约比营利性医疗机构诊疗人次多（）万人次。

A. 843.8

B. 882.6

C. 910.2

D. 1048.5

参考答案:C【解析】定位材料第一段：“2019 年 S 市医疗机构总诊疗人次 1394.4 万人次。……

非营利性医疗机构与营利性医疗机构的诊疗人次比为:4.76:1。”可得到 2019 年 s 市非营

性医疗机构诊疗人次约比营利性医疗机构诊疗人次多 $\frac{1394.4}{4.76+1} \times (4.76-1) \approx 910.2$ ，

故本题答案选 C。

78、缺

79、2018 年，s 市公立医院（含市妇幼保健院）出院患者约有（）万人次。

A. 11.9

B. 12.4

C. 12.8

D. 13.7

参考答案：D【解析】定位材料第二段：“全市公立医院（含市妇保院）入院患者 143901

人次，比上年增加 4.87%，出院患者 143796 人次，比上年增加 4.75%。”可以得到 2018 年 s

市公立医院（含市妇保院）出院患者约有 $\frac{143796}{1+4.75\%} \approx 137000$ 人次，故本题答案选 D。

80、根据资料，下列关于 s 市的说法，正确的是（）

A. 2018 年，门急诊人次额不超过 1330 万人次

B. 2019 年，出院患者约比上年增加了 15459 人次

C. 2019 年，公立医院诊疗人次占医疗机构总诊疗人次额的比重超过五成

D. 2019 年，专业公共

卫生机构诊疗人次约比门诊部、诊所等诊疗人次少 40.7%

参考答案：D【解析】A 选项，定位材料第一段：“2019 年 S 市医疗机构总诊疗人次 1394.4 万人次，其中，门急诊人次 1379.7 万人次，比上年增加 46.3 万人次。”可得到 2018 年门急诊人次为 $1379.7 - 46.3 = 1333.4$ 万人次超过 1330，A 选项错误。

B 选项，定位材料的第二段：“S 市卫生医疗机构入院患者 172742 人次，比上年增加 8.24%，出院患者 172611 人次，比上年增加 8.22%。”可得 2019 年出院患者约比上年增加了 $172611 - \frac{172611}{1 + 8.22\%} \approx 13111$ ，B 选项错误。

C 选项，定位材料第一段：“诊疗人次具体情况为：公立医院（含市妇保院，不含社区卫生服务中心、卫生院，下同）589.51 万人次，占 42.28%。”不足 5 成，C 选项错误。

D 选项，定位材料第一段：“专业公共卫生机构 107.6 万人次，占 7.72%；门诊部、诊所等 181.4 万人次，占 13.01%；”2019 年专业公共卫生机构约比门诊部、诊所等少

$\frac{181.4 - 107.6}{181.4} \approx 40.7\%$ ，D 选项正确。

故本题答案选 D。

二、多选题

81、习近平总书记在全国抗击新冠肺炎疫情表彰大会上指出，在这场同严重疫情的殊死较量中，中国人民和中华民族以（）的大无畏气概，铸就了伟大的抗疫精神。

- A. 敢于牺牲
- B. 敢于斗争
- C. 敢于胜利
- D. 敢于实践

参考答案：BC【解析】2020 年 9 月 8 日上午，全国抗击新冠肺炎疫情表彰大会在北京人民大会堂隆重举行。中共中央总书记、国家主席、中央军委主席习近平向国家勋章和国家荣誉称号获得者颁授勋章奖章并发表重要讲话。习近平指出，在这场同严重疫情的殊死较量中，中国人民和中华民族以敢于斗争、敢于胜利的大无畏气概，铸就了生命至上、举国同心、舍生忘死、尊重科学、命运与共的伟大抗疫精神。故本题答案选 BC。

82、习近平总书记强调

，伟大抗疫精神，同中华民族长期形成的特质禀赋和文化基因一脉相承，是（）的传承和发展，是中国精神的生动诠释，丰富了民族精神和时代精神的内涵。

- A. 爱国主义精神
- B. 集体主义精神
- C. 国际主义精神
- D. 社会主义精神

参考答案：ABD【解析】2020年9月8日上午，全国抗击新冠肺炎疫情表彰大会在北京人民大会堂隆重举行。中共中央总书记、国家主席、中央军委主席习近平向国家勋章和国家荣誉称号获得者颁授勋章奖章并发表重要讲话。习近平总书记指出：中国人民和中华民族铸就的伟大抗疫精神，同中华民族长期形成的特质禀赋和文化基因一脉相承，是爱国主义、集体主义、社会主义精神的传承和发展，是中国精神的生动诠释，丰富了民族精神和时代精神的内涵，筑起了中华民族伟大复兴征程上新的精神丰碑，成为中华民族最可宝贵的精神财富。故本题答案选ABD。

83、习近平总书记强调，我们要在全社会大力弘扬伟大抗疫精神，使之转化为（）的强大力量。

- A. 实现中华民族伟大复兴
- B. 全面建成小康社会
- C. 全面建设社会主义现代化国家
- D. 构建社会主义和谐社会

参考答案：AC【解析】2020年9月8日上午，全国抗击新冠肺炎疫情表彰大会在北京人民大会堂隆重举行。中共中央总书记、国家主席、中央军委主席习近平向国家勋章和国家荣誉称号获得者颁授勋章奖章并发表重要讲话。习近平指出：我们要在全社会大力弘扬伟大抗疫精神，使之转化为全面建设社会主义现代化国家、实现中华民族伟大复兴的强大力量。故本题答案选AC。

84、下列属于《健康中国行动（2019-2030年）》中健康知识普及行动个人和社会倡导的有（）

- A. 个人定期记录身心健康状况
- B. 个人了解掌握基本中医药健康知识
- C. 居民掌握基本的急救知识和技能
- D. 医务人员掌握与岗位相适应的健康科普知识，并在诊疗过程主动提供健康指导

参考答案：ABCD【解析】《健康中国行动（2019—2030）》提出的“健康知识普及行动”个人和社会倡导性指标包括：个人定期记录身心健康状况；个人了解掌握基本中医药健康知识；居民掌握基本的急救知识和技能；医务人员掌握与岗位相适应的健康科普知识，并在诊疗过程中主动提供健康指导。故本题答案选 ABCD。

85、下列属于《健康中国行动（2019-2030 年）》中健康知识普及行动政府约束性工作指标的有（）

- A. 建立并完善健康科普专家库和资源库，构建健康科普知识发布和传播机制
- B. 建立医疗机构和医务人员开展健康教育和健康促进的绩效考核机制
- C. 中医医院设置治未病科室比例
- D. 成年人维持健康体质

参考答案：AB【解析】《健康中国行动（2019—2030）》提出的“健康知识普及行动”中提到的政府工作指标包括：建立并完善健康科普专家库和资源库，构建健康科普知识发布和传播机制；建立医疗机构和医务人员开展健康教育和健康促进的绩效考核机制；中医医院设置治未病科室比例。其中前面 2 个属于约束性工作指标，后面的 1 个属于预期性工作指标，故本题答案选 AB。

86、下列属于《健康中国行为（2019-2030 年）》中健康环境促进行动结果性指标的有（）

- A. 主动学习掌握出生缺陷防治和儿童早期发展知识
- B. 产前筛查率
- C. 居民饮用水水质达标情况
- D. 居民环境与健康素养水平

参考答案：CD【解析】《健康中国行动（2019—2030）》提出的“健康环境促进行动”中提到的健康环境促进行动结果性指标包括：居民饮用水水质达标情况、居民环境与健康素养水

平。主动学习掌握出生缺陷防治和儿童早期发展知识、产前筛查率属于妇幼健康促进行动的工作指标。故本题答案选 CD。

87、《健康中国行为（2019-2030 年）》中居民使用水水质达标情况是指当地居民饮用水的水质达标情况，包括（）水质达标状况。

- A. 水源水
- B. 出厂水
- C. 末梢水
- D. 二次供水

参考答案：BC【解析】《健康中国行动（2019—2030）》提出的“健康知识普及行动”，提到的健康环境促进行动结果性指标中，居民饮用水水质达标情况，包括出厂水和末梢水水质达标状况。故本题答案选 BC。

88、下列属于《健康中国行为（2019-2030 年）》中职业健康保护行动相关指标的有（）

- A. 成人每日平均睡眠时间
- B. 重点行业劳动者对本岗位主要危害及防护知识知晓率
- C. 工伤保险参保人数
- D. 采取综合措施降低或消除工作压力

参考答案：BCD【解析】《健康中国行动（2019—2030）》提出的“健康知识普及行动”，提到的职业健康保护行动工作指标包括：（一）结果性指标：①工伤保险参保人数；②接尘工龄不足 5 年的劳动者新发尘肺病报告例数占年度报告总例数比例；（二）个人和社会倡导性指标：①重点行业劳动者对本岗位主要危害及防护知识知晓率；②鼓励各用人单位做好员工健康管理、评选“健康达人”，国家机关、学校、医疗卫生机构、国有企业等用人单位应支持员工率先树立健康形象，并给予奖励；③对从事长时间、高强度重复用力、快速移动等作业方式以及视频作业的人员，采取推广先进工艺技术、调整作息时间等措施，预防和控制过度疲劳和工作相关肌肉骨骼系统疾病的发生；④采取综合措施降低或消除工作压力；（三）政府工作指标：辖区职业健康检查和职业病诊断服务覆盖率。

成人每日平均睡眠时间属于心理健康促进行动中的个人和社会倡导性指标。故本题答案

选 BCD。

89、2020 年全国卫生健康工作会议强调，持续深化医药卫生体制改革，要进一步优化医疗资源配置，扎实推进国家药品（）工作，更好地服务人民群众看病就医。

- A. 集中采购
- B. 使用试点
- C. 确保透明
- D. 确保供应

参考答案：AB【解析】2020 年 1 月 6 日-7 日，2020 年全国卫生健康工作会议在北京召开。会议强调，持续深化医药卫生体制改革。改革完善疾控体系，规范医联体建设和管理，推进公立医院高质量发展。进一步优化医疗资源配置，扎实推进国家药品集中采购和使用试点工作，更好地服务人民群众看病就医。故本题答案选 AB。

90、2020 年全国卫生健康工作会议强调，扎实做好“一老一小”照护服务和妇幼保健工作，强化老龄办综合协调职能，探索建立失能老年人长期照护服务体系，为老年人提供（）的康复服务。

- A. 早期
- B. 系统
- C. 专业
- D. 连续

参考答案：ABCD【解析】2020 年 1 月 6 日-7 日，2020 年全国卫生健康工作会议在北京召开。会议强调，扎实做好“一老一小”照护服务和妇幼保健工作。构建支持家庭生育的制度体系和社会环境，发展多种形式的托育服务。持续巩固母婴安全五项制度。强化老龄办综合协调职能，探索建立失能老年人长期照护服务体系，为老年人提供早期、系统、专业、连续的康复医疗服务。故本题答案选 ABCD。

91、2020 年全国卫生健康工作会议强调，要坚定中国特色卫生健康，发展（），坚持和发展中国特色卫生健康制度。

- A. 制度自信
- B. 政治自信
- C. 道路自信
- D. 文化自信

参考答案：AC【解析】2020年1月6日-7日，2020年全国卫生健康工作会议在北京召开。会议强调，全国卫生健康系统要把学习贯彻党的十九届四中全会精神作为当前和今后一个时期的重要政治任务，准确把握强化提高人民健康水平制度保障的核心要义，坚定中国特色卫生健康，发展道路自信、制度自信，坚持和发展中国特色卫生健康制度，使之更加成熟定型，全方位、全周期维护人民健康。故本题答案选AC。

92、2000年全国卫生健康工作会议强调，全民实施健康中国行动，要推动行动的相关要求和任务融入到重大政策、重大工程和重大项目之中，抓好（）工作。

- A. 预测
- B. 考核
- C. 监测评价
- D. 绩效管理

参考答案：BC【解析】2020年1月6日-7日，2020年全国卫生健康工作会议在北京召开。会议强调，全面实施健康中国行动。进一步建立健全工作推进机制，发挥爱国卫生运动优势，推动行动的相关要求和任务融入到重大政策、重大工程和重大项目之中，抓好监测评价和考核工作。故本题答案选BC。

93、2020年全国卫生健康工作会议强调，加强公共卫生和重大疾病防治。要强化（），规范实施基本公共卫生服务，确保公共卫生安全。

- A. 卫生应急
- B. 传染病防治
- C. 慢性病防控
- D. 职业病防治

参考答案：ABCD【解析】2020年1月6日-7日，2020年全国卫生健康工作会议在北京召开。

会议强调，加强公共卫生和重大疾病防治。强化卫生应急、传染病防治、慢性病防控和职业病防治，规范实施基本公共卫生服务，确保公共卫生安全。故本题答案选 ABCD。

94、下列属于我国新时期卫生与健康工作方针内容的有（）

- A. 以城镇为重点
- B. 以改革创新为动力
- C. 人民共建共享
- D. 将传染病防治融入所有政策

参考答案：BC【解析】习近平总书记在全国卫生与健康大会上强调，“要坚持正确的卫生与健康工作方针，以基层为重点，以改革创新为动力，预防为主，中西医并重，将健康融入所有政策，人民共建共享。”故本题答案选 BC。

95、2020 年 11 月 24 日，陈某因出现头痛、咳嗽症状前往当地医院门诊就诊，门诊护士的下列做法，正确的有（）

- A. 对陈某进行预检分诊
- B. 配合医生进行检查
- C. 将陈某送急诊处理
- D. 让陈某在旁边等待

参考答案：AB【解析】对于头痛、咳嗽的患者，护士应预检分诊、配合医生进行检查。而不是直接送急诊或让患者在旁边等待。故本题答案选 AB。

96、李某是医院新入职的护士，最近轮转到风湿免疫科，但该科室新来的患者对护士的投诉比较多，大多是关于和护士刚接触时，护士对患者的病情观察不仔细、发现问题不及时等。为了统一管理，护士长让全科室护士背诵护患关系相关内容。今日晨会时，护士长提问李某关于护患关系在初始期的主要任务，则李某的下列回答，正确的有（）

- A. 与患者建立信任关系
- B. 为患者解决健康问题
- C. 为患者制定护理计划

D. 为患者制定保持和促进健康的教育计划

参考答案：AC【解析】护患关系的建立、维持和结束可分为3期。第一期（初始期）：此期的主要任务是护患之间建立信任关系，并确定病人的需要。护士通过观察、询问、评估病人，收集资料，发现病人的健康问题，制定护理计划。病人根据护士的言行逐渐建立对护士的信任。第二期（工作期）：主要任务是护理人员通过实施护理措施来帮助病人解决健康问题，满足病人需要，达到护理目标。第三期（结束期）：此期的主要任务是圆满地结束护患关系。护士应了解病人对目前健康状况的接受程度，制定病人保持和促进健康的教育计划，了解护患双方对护患关系的评价，并征求病人意见，以便今后工作中进一步改进。故本题答案选AC。

97、曾某，因腰腹部疼痛、血尿、恶心、呕吐、烦躁不安、腹胀入院检查，诊断为肾结石。现需要静脉输液治疗，若刘某是为曾某进行静脉输液的护士，则在护理操作前，刘某可使用下列哪些解释用语？（）

- A. 患者准备工作
- B. 操作的步骤
- C. 患者的合作
- D. 本次操作的目的

参考答案：ABD【解析】操作前解释：（1）礼貌语及自我介绍；（2）本次操作的目的；（3）讲解主要方法；（4）病人的准备及需配合的要点；（5）告诉病人可能出现的不适。操作中指导：（1）具体指导病人配合的方法；（2）使用安慰性鼓励性语言。操作后嘱咐：（1）询问病人的感觉；（2）有关注意事项；（3）必要的健康教育；（4）感谢病人的配合。故本题答案选ABD。

98、黄某，70岁，患高血压多年，前不久因情绪激动导致中风出现右侧肢体偏瘫，儿女将其送入医院，护士周某为其责任护士，遵医嘱每天测4次血压，为黄某测量血压时，下列做法妥当的是（）

- A. 定测量体位
- B. 定测血压时间

- C. 测左上肢血压
- D. 必须固定专人测量血压

参考答案：ABC【解析】密切观察血压者，应做到四定：定时间、定部位、定体位、定血压计。不需定专人测量。故本题答案选 ABC。

99、急诊医生准备用氯化钾注射液给患者补钾，但误将静脉注射误写成口服，急诊科护士发现后，下列做法错误的有（）

- A. 仍然执行医嘱
- B. 让急诊医生确认
- C. 停掉医嘱
- D. 自行将医嘱执行为静脉注射氯化钾注射液

参考答案：ACD【解析】当护士发现医嘱违反法律、法规、规章或者诊疗技术规范规定，应及时向开具医嘱的医师提出；必要时，应向该医师所在科室的负责人或医疗卫生机构负责医疗服务管理的人员报告。不应私自停药或修改医嘱。

100、某卫生医疗机构在 S 地区发现新冠病毒，则下列隔离措施正确的有（）

- A. 对患者、病原携带者，予以隔离治疗，隔离期限由当地医疗机构决定
- B. 对疑似患者，确诊前在指定场所单独隔离治疗
- C. 对医疗机构内的患者、病原携带者、疑似患者的密切接触者，在指定场所进行医学观察和采取其他必要的预防措施
- D. 拒绝隔离治疗或者隔离期未满擅自脱离隔离治疗的，可以由公安机关协助医疗机构采取强制隔离治疗措施

参考答案：BCD【解析】新型冠状病毒肺炎属于乙类传染病，但按甲类传染病管理控制。医疗机构发现甲类传染病时，应当及时采取下列措施：（一）对病人、病原携带者，予以隔离治疗，隔离期限根据医学检查结果确定；（二）对疑似病人，确诊前在指定场所单独隔离治疗；（三）对医疗机构内的病人、病原携带者、疑似病人的密切接触者，在指定场所进行医学观察和采取其他必要的预防措施。拒绝隔离治疗或者隔离期未满擅自脱离隔离治疗的，可以由公安机关协助医疗机构采取强制隔离治疗措施。故本题答案选 BCD。