

2022 年兵团公务员考试 《行测》（考生回忆版）

声明：以下所有试题均来源于考生回忆以及其他机构提供

第一部分 常识判断

中国共产党的百年奋斗展示了马克思主义的.....，对这句话理解不准确的是：

- A.马克思主义的科学性和真理性在.....
- B.马克思主义的人民性和实践性.....
- C.马克思主义的普遍性和包容性.....**
- D.马克思主义的开放性和时代性.....

【答案】C

2. 2021 年.....，中央人才工作会议在北京召开，习.....强调，坚持.....、坚持.....，.....，加快建设世界重要人才中心和创新高地。下列不准确的是：

- A.要深化人才发展.....改革
- B.做好人才.....政治方向
- C.加快建设世界重要人才中心和.....，必须把握战略主动，做好.....
- D.建立以激励为基础的.....机制，允许失败，宽容失败，鼓励科技.....**

【答案】D

3. 根据《中共中央国务院关于做好 2022 年.....工作的意见》，错误的是：A.在乡村创新开展“听党话.....宣传教育活动

- B.完善省级党政领导班子和.....推进.....**
- C.2022 年建设高标准.....累计建成高效.....4 亿亩
- D.启动.....计划，加快培养.....人才，.....

【答案】B

4.不属于 2021 年中国科技十大进展的是：

- A.嫦五月球样品.....奥妙
- B.自供电软机器人.....马里亚纳海沟
- C.火星探测任务“天问一号”探测器.....
- D.九章量子计算机问世，我国.....全球领先**

【答案】D

5. 苏轼在《游金山寺》一诗中说道：*****当天的月相应该是:

A.初三

B.初八

C.十五

D.二十七

【答案】A

6. 下图为根据某.....的关键词生成的“词云”，这个建筑应该是：

藏书 范钦 明朝 地方志 宁波 以水制火

A.文渊阁

B.天一阁

C.滕王阁 D.

晴川阁【答

案】B

7. 《史记》*****。下列评价中，不是针对《史记》的是：

A.史家之绝唱.....

B.不虚美，不隐善.....

C.作史有不待.....即见其指

D.不激诡，不抑抗.....详而有体

【答案】D

第二部分 言语理解与表达

第三部分 数量关系

8. 球形.....切下两刀后，半径分别为 $3\sqrt{7}$ 厘米和8厘米，距离为1厘米，.....分别为48厘米、32厘米及32厘米装多少个这样的西瓜？

A.8

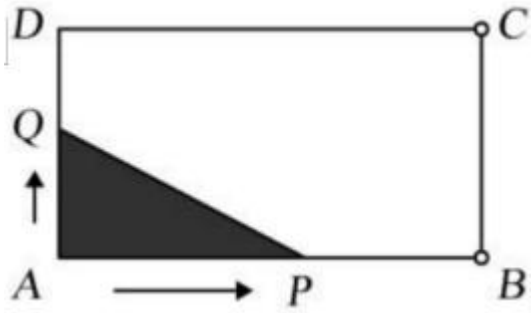
B.12

C.14

D.16

【答案】B

9. 如图，长为4，宽为2的.....方向移动，.....当三角形APQ为直角三角形时，昆虫Q的移动范围是：



- A. $(0, \frac{4}{3}]$
 B. $(0, 2]$
 C. $(0, \frac{4}{3}] \cup \{2\}$
 D. $(0, \frac{4}{3}] \cup [2, \frac{7}{3}]$

【答案】 C

10. 捐款捐物，其中 30%的.....总计有 80%的人.....捐物品又捐款的人员占该社区人员的比例为： A.15%

- B.20%
 C.21%
 D.25%

【答案】 B。

11. 现有 3.....由 2 人组成，甲队是 2 名男生，乙队是 2 名女生，.....本队另一名队员也是男生的概率为： A.1/3

- B.1/2
 C.2/3
 D.1/4

【答案】 B

12.第 1 人领取 1 本及剩余部分的 $\frac{1}{7}$ ，.....结果发现，学生领到的图书一样多,学生领到几本图书？

- A.6
 B.8
 C.10
 D.12

【答案】 A

13.面粉的体积每经过 1 小时就扩大 1 倍。.....容器的面粉的体积是 8V，问容器将于几点钟刚好被面粉充满？

- A.7
 B.8
 C.9

D.10

【答案】 C

14. 甲.....乙单位的 60%，是丙单位的 1.5 倍。.....三个单位职工人数相同。问 X 的值为: A.12

B.16

C.20

D.24

【答案】 B

15. A、B、C 三个社区.....分别完成了全年任务的 45%、51%、48%。.....，三个社区完成厨余垃圾分类处理的先后顺序是：

A.CBA

B.ABC

C.BCA

D.ACB

【答案】 D

16. 1 个棱长为.....正方体的.....减少了 0.1。问 X 的值在以下哪个范围内? ($\sqrt{3}=1.732$)

A. $X < 0.3$

B. $0.3 \leq X < 0.4$

C. $0.4 \leq X < 0.5$

D. $X \geq 0.5$

【答案】 D

17. 一块.....最近的边 9 米，与最近的 2 个顶点.....以下哪个范围内? A.不到 2600 平方米

B.2600—2900 平方米之

间 C.2900—2900 平方米

之间 D.超过 3300 平方米

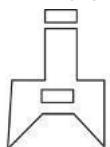
【答案】 B。

第四部分 判断推理

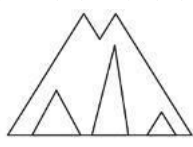
18. 把下面的六个图形分为两类.....分类正确的一项是：



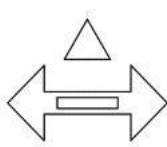
①



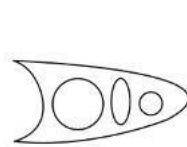
②



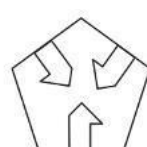
③



④



⑤



⑥

老师领取

A.①③④, ②⑤⑥

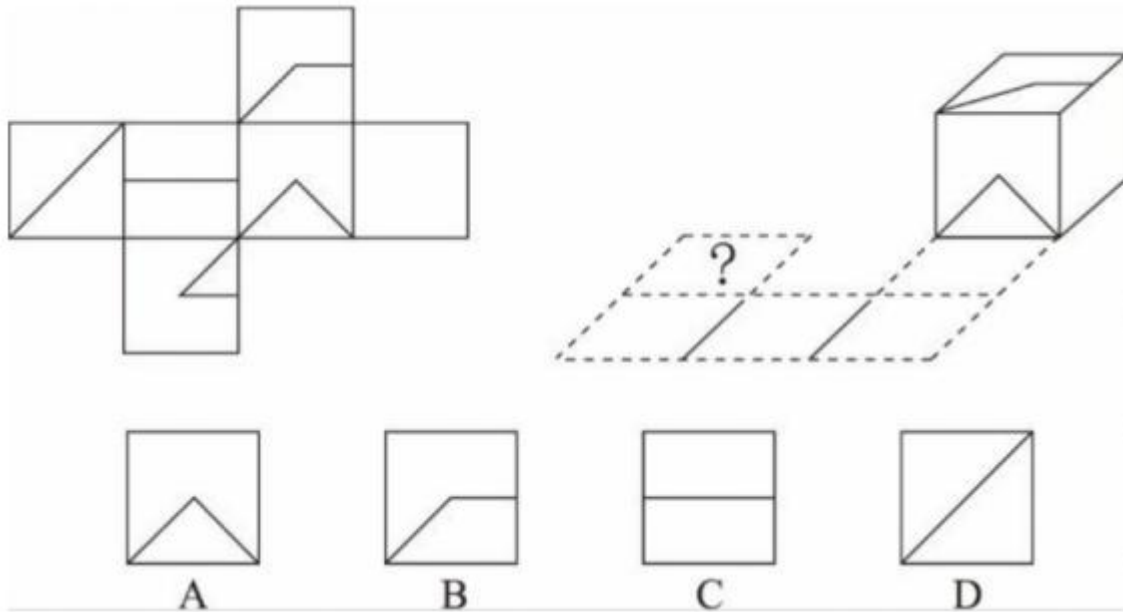
B.①②④, ③⑤⑥

C.①②⑤, ③④⑥

D.①④⑥, ②③⑤

【答案】B

19. 下列图形是纸盒的外表面.....与问号处重合的是？



A.如上图所示

B.如上图所示

C.如上图所示

D.如上图所示

【答案】A

20. 从所给的四个选项.....呈现一定的规律性：



A

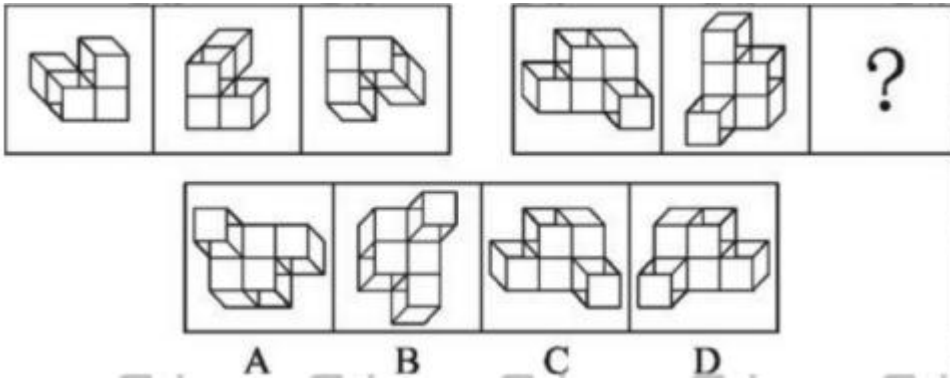
B

C

D

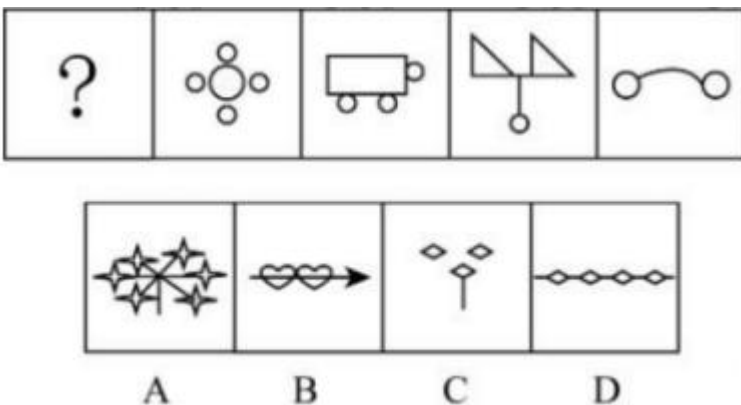
- A.如上图所示
 - B.如上图所示
 - C.如上图所示**
 - D.如上图所示
- 【答案】C

21. 从所给的四个选项中.....呈现一定的规律性：



- A.如上图所示
 - B.如上图所示**
 - C.如上图所示
 - D.如上图所示
- 【答案】B

22. 从所给的四个选项中.....呈现一定的规律性：



- A.如上图所示**
 - B.如上图所示
 - C.如上图所示
 - D.如上图所示
- 【答案】A

23. 理性情绪疗法认为.....甚至是灾难性结果.....符合“糟糕至极”的是:

- A.精心备战考研却失败.....真是一无是处
 - B. 小黄觉得失恋.....会嘲笑自己
 - C.部分人乱扔垃圾.....居民素质太低
 - D.竞选班长失败以后.....人生失去了意义**
- 【答案】D

24. 受害者公正敏感性.....属于高受害者公正敏感性的是:

- A.由于工作失误.....辞职不干了
 - C. 虽被同事误解.....向他诚恳地道歉了
 - C.因对乘务员的服务不满意.....投诉该名乘务员
 - D.在处理同学.....十分愤怒**
- 【答案】D

25. 月亮.....中秋

- A.粽子 : 艾叶 : 端午
 - B.菊花 : 寿客 : 重阳**
 - C.汤圆 : 元夕 : 元宵
 - D.巧果 : 酥糖 : 七夕
- 【答案】B

26. 学.....贯通 A.恭 :

- 俭 : 让 : 共存 B.慈 :
 - 悲 : 悯 : 融汇
 - C.知 : 信 : 行 : 统一**
 - D.宽 : 敏 : 惠 : 互补
- 【答案】C

27. 通讯.....存储 A.

- 娱乐 : 电视 : 电器 B.
 - 纪念 : 照片 : 拍摄 C.
 - 教育 : 法律 : 警示
 - D.蓄洪 : 河坝 : 灌溉**
- 【答案】D

28. 守株 : 待兔

- A.闻鸡 : 起舞

B.画饼：充饥

C.完璧：归赵

D.废寝：忘食

【答案】B

29. 不经一事：不长一智

A.宁为玉碎：不为瓦全

B.不入虎穴：安得虎子

C.桃李不言：下自成蹊

D.有福同享：有难同当

【答案】B

30. 取保候审.....统计方

法 A.保释；定量研究 B.拘

留；随机抽样 C.交保证

金；学术研究

D.刑事措施；方差分

析【答案】D

31. 民间融资.....受资人 A.赛

事转播；裁判员；教练员 B.

刑事案件；嫌疑人；被告人

C.租赁合同；出租人；承租人

D.志愿填报；高中生；班主

任【答案】C

32.相当于.....商朝文物

A.公路运输；四羊方尊

B.内河运输；夏代文物

C.货运船舶；遗址挖掘

D.长途运输；青铜器物

【答案】D

33. 非法收入：合法收入

A.期货交易：期权交易 B.

物质资本：人力资本 C.国

有经济：私营经济

D.有偿服务：无偿服

务【答案】D

34. 中国境内发现数以百计的腕足动物化石.....质疑上述观点? A.管居微生物虽.....死后可为宿主提供养分 B.附着了管状物.....的同类处境更糟 C.在同时期不同地域岩层.....腕足动物化石

D. 管居微生物除寄生宿.....通过光合作用自养【答案】D

35. 从怀孕的第五或第六个月开始.....最能削弱上述结论?

A.婴儿出生后4周泪腺.....成眼泪

B.一个33周大的胎儿.....

C.完整面部表情.....社会环境中学习的

D.如果“哭”.....胎儿在子宫中不会哭【答案】A

36. 最近热播的电视剧涉及教育资源争夺战.....最能质疑上述观点? A.应试教育是教育资源长期相对匮乏.....

B.仅仅以分数作为.....各种人才的需要

C.近年来.....已取得阶段性成效

D.个别孩子以很高的分数考入国内著名高校.....犯罪的道路【答案】B

37. 有关专家认为,.....在2034年迎来第一个“无冰之夏”.....不能支持上述专家观点?

A.1988年25%左右的.....降到7%

B.北极海冰融化后海水.....

C.1979年.....速度消融

D.北极夏季最小海冰.....10年前的一半【答案】B

38. 丙基氯化吡啶.....哪项是上述结论最需补充的前提?

①实验一:把从.....的新冠病毒.....细胞

②实验二:把.....的新冠病毒.....感染健康细胞

③实验三:CPC可以破坏.....消除新冠病毒感染能力的作用机理

④实验四:对拥有包膜的病毒.....流感病毒等

A.①③

B.①②

C.①②③

D.①②③④

【答案】B



展鸿教育
ZHANHONG EDUCATION

老师领取

更多备考资料咨询展鸿

第五部分 资料分析

【资料】

2020 年我国女性高等教育毛入学率为 54.4%，.....比 2010 年提高 3.1 个百分点。普通本专科、450.6 万

人，.....2020 年全国文盲率为 2.67%，其中女性为 4.10%，.....性别差距由.....比男性高 4.1 个百分点缩小为

高 2.8 个百分点。

39. 2010 年女性高等教育毛入学率为：

A.13.7%

B.26.5%

C.42.5%

D.48.3%

【答案】B

40. 2020 年男性的文盲率为：

A.1.3%

B.2%

C.2.5%

D.3.1%

【答案】A

41. 2020 年.....研究生总人数大约为：

A.280 万

B.300 万

C.314 万

D.450 万

【答案】C

42. 2010 年高等教育.....研究生人数约为：

A.60 万

B.70 万

C.80 万

D.90 万

【答案】C

43. 缺

【资料】

2020年我国数字经济规模达到39.2万亿元，.....产业数字化发展深入推进，.....、农业数字经济占行业增加

值比重分别为40.7%、21.0%和8.9%。.....湖南和安徽；另有8个省份超过5000亿元；.....增速位列前三，
增速超过15%。

我国数字经济占GDP比重

年份	2015	2016	2017	2018	2019	2020
百分比	27.5	30.3	32.9	34.8	36.2	38.6

44. 2020年，.....的省份有多少个？

- A.8
- B.11
- C.16

D.21

【答案】D

45. 数字产业化.....最大的年份是：

- A.2015年
- B.2017年**
- C.2019年
- D.2020年

46. 2015—2020年，.....的年份有多少个？

- A.3
- B.4**
- C.5
- D.6

【答案】B

47. 2020年，.....同比增长约：

- A.9.2%
- B.9.8%

老师领取

C.10%

D.10.7%

【答案】D

48. 不能.....推出的是：

A.2020 年北京市数字经济规模全国领先

B.....是 GDP 增速的 3 倍多

C.大约呈现“二八”比例分布

D.2020 年农业、.....水平大约逐次倍增

【答案】A