

2020年江西省考《行测》真题及解析（市县级）

第一部分常识判断

(共 25 题，参考时限 20 分钟)

根据题目要求，在四个选项中选出一个最恰当的答案。请开始答题：

1. 伟人 2020 年 3 月 6 日在决战决胜脱贫攻坚座谈会上强调，这次会议的主要任务是，分析当前形势，克服新冠肺炎疫情疫情影响，凝心聚力打赢脱贫攻坚战，做到“两个确保”，下列属于“两个确保”内容的是：

①如期完成脱贫攻坚目标任务②实现经济社会高质量发展③打赢疫情防控阻击战④全面建成小康社会

A.①② B.①③ C.②④ D.①④

2. 伟人 2020 年 1 月 8 日在“不忘初心，牢记使命”主题教育总结大会上的讲话中引用了一句古语“子之过也，如日月之食焉，过也，人皆见之，更也。人皆仰之，”下列选项最能体现这一古语精髓的是：

- A.敢于自我革命，勇于开拓创新
- B.敢于坚持真理，勇于担当作为
- C.敢于直面问题，勇于修正错误
- D.敢于坚持原则，勇于承担责任

3. 为提升生态文明，建设美丽中国，党和政府做了一系列重要工作，下列有关生态文明建设的说法不正确的是：

- A.自 2020 年 1 月起，黄河流域的自然保护区将全面禁止生产性捕捞。
- B.2019 年 8 月第一届国家公园论坛在青海省举行，与会代表形成了 8 条“西宁共识”
- C.2019 年，第二轮中央生态环保督察启动，拟用三年时间完成例行督查，再用一年时间开展“回头看”
- D.2019 年 11 月，住建部发布了新修订《生活垃圾分类标志》标准，将生活垃圾类别调整为可回收垃圾、有害垃圾、厨余垃圾和其他垃圾四个大类

4.“一带一路”倡议自提出以来，已逐步成为当今世界广泛参与的重要国际合作平台，下列关于 2019 年“一带一路”发展成果的说法，正确的是

- A.中欧班列全年开行 8200 多例，“一带一路”在欧洲稳步前行
- B.2019 年四月第二届“一带一路”国际合作高峰论坛在杭州举行
- C.中国人民银行和联合国开发计划署共同撰写研究报告，提出“一带一路”融资规则框架
- D.第六届丝绸之路国际电影节于 2019 年十月在泉州举办，推动“一带一路”国家间的文化交流

5. 下列关于公共卫生的说法正确的是：

- A.突发公共卫生事件应急响应分为一级，二级，三级三个等级
- B.按照我国现行标准，甲类传染病有鼠疫、霍乱、传染性非典型肺炎三种
- C.省，自治区，直辖市人民政府卫生行政主管部门有权向社会发布本行政区域内突发事

件的信息

D.医疗卫生机构发现可能发生传染病爆发、流行的，应当在两小时内向所在地县级人民政府卫生行政主管部门报告

6.近年来，我国面临的农业安全复杂性不断增加，下列关于农业安全的说法不正确的是
A.为确保我国粮食安全，多部门制定了《沙漠蝗及国内蝗虫监测防控预案》，求各地严防境外沙漠蝗入侵危害，继续做好国内蝗虫防治工作

B.生物安全三级实验室需要从事某种高效致病性动物病原做微生物实验活动的，需要报省级以上畜牧兽医主管部门批准

C.根据现行规定，举报为防控非洲猪瘟作出特别重大的，可一次性给予举报人10万元奖励
D.2020是我国第三次全国农作物种资源普查与收集行动的收官之年

7.下列关于我国科技自主可控的说法错误的是

- A.基础性技术创新关乎科技自主可控的根本
- B.国产替代是我国近期和未来科技进步和工业发展的主要途径
- C.当前我国科技发展的主要问题表现为缺芯少魂，缺芯少屏
- D.实现科技自主可控，要着力引进技术引领关键核心领域科技崛起

8.下列诗词所反映的历史时期按时间先后顺序排序，正确的是

- ①风云突变，军阀重开战，洒向人间都是怨，一枕黄粱再现
 - ②外侮需人御，将军赋采薇，师称机械化，勇夺虎罴威，
 - ③宜将剩勇追穷寇，不可沽名学霸王，天若有情天亦老，人间正道是沧桑
 - ④山高路远沟深，大军纵横驰奔，谁敢横刀立马，唯我彭大将军
- A.①②③④ B.①②④③ C.①④②③ D.②③①④

9.下列俗语与其蕴含的经济学道理对应错误的是：

- A.田忌赛马——成本与收益
- B.知人如面不心——信息不对称
- C.十年栽树，百年树人——长期投资
- D.萝卜白菜，各有所爱——偏好理论

10.下列关于法律知识的表述正确的是：

- A.司法机关在适用法律审理案件时，优先适用法律原则，在适用法律规则
- B.法的渊源通常指法的形式意义上的渊源，即法律规范的创制方式和外部表现形式
- C.法的公布与法的实施是两个不同的概念，但实践中法的公布日期即法的实施日期
- D.当同一机关制定的法律出现效力冲突时，一般解决原则是新法优于旧法，一般法优于特别法

11.下列关于股票投资基本术语的说法错误的是：

- A.跌停板是指证券交易当天股价的最低限度
- B.多头是指投资者对股市看好，预计股价将会看涨
- C.阳线市值收盘价高于上个交易日的收盘价的K线
- D.t+1交易制度是指当日买进的股票，要到下一个工作日才能卖出

12.下列政府举措中，不能够直接促进城镇居民人均可支配收入增长的是
A.减税 B.发行政府债券 C.将学前教育纳入义务教育 D.提高退休职工养老金发放标准

13.下列作家与其作品中，展现的地域对应错误的是，

- A.鲁迅——《阿Q传》——绍兴
- B.沈从文——《边城》——湘西
- C.汪曾祺——《受戒》——高邮
- D.莫言——《红高粱》——东北

14.下列名言中出现最晚的一项是：

- A.笛卡尔：我思故我在
- B.亚里士多德：人是天生的政治动物
- C.亚当·斯密：人天生，并且永远，是自私的动物
- D.阿基米德：给我一个支点，我就能撬起整个地球

15.蔡襄是北宋著名书法家、文学家、茶学家。下列关于蔡襄的说法错误的是：

- A.他的书法浑厚端庄，浮淡婉美
- B.他主持建造了泉州万安桥（洛阳桥）
- C.他所著的《大观茶论》是重要的茶学专著和书法杰作
- D.他所著的《荔枝谱》被称为“世界上第一部果树分类学著作”

16.下列影视剧情节符合历史事实的是

- A.清朝时称官员为大人，如刘大人、李大人等
- B.武则天的父亲见到武则天时，称呼其为“媚娘”
- C.宋朝官员大声宣读圣旨道“奉天承运皇帝诏曰”
- D.唐贞观年间官员对话讲到唐太宗时，称“吾皇太宗”

17.祠堂在中国传统社会是家族成员的重要活动中心，一般情况下按姓氏称为某氏宗祠，但有时也会称为某氏家庙。称为“家庙”的依据是：

- A.该家族与宗教有关
- B.社会习惯约定俗成
- C.该家族受到皇帝册封
- D.该家族有人获得官爵

18.为治疗由维生素缺乏导致的夜盲症、败血病、佝偻病和脚气病而需要补充相对应的食物依次是：

- A.谷类、深海鱼、胡萝卜、柑橘
- B.柑橘、深海鱼、谷类、胡萝卜
- C.深海鱼、胡萝卜、谷类、柑橘
- D.胡萝卜、柑橘、深海鱼、谷类

19.下列哪一选项是蚊子用于获取“猎物”信息的主要器官？

- A.复眼 B.蚊翅 C.蚊足 D.触角

20.下列诗词没有描述生物应激性反映的是：

- A.明月别枝惊鹊，清风半夜鸣蝉
- B.我有迷魂招不得，一唱雄鸡天下白
- C.人间四月芳菲尽，山寺桃花始盛开
- D.飞蛾性趋炎，见火不见我，愤然自投掷

21.香蕉水作为油性涂料、油漆等建筑材料的溶剂和稀释剂，常用于家庭和办公室装修，下列关于香蕉水的说法正确的是：

- A.香蕉水是无色透明易挥发的有机液体
- B.香蕉水的主要成分是乙醇，易燃无毒
- C.香蕉水是一种特殊水溶液，不易燃烧
- D.香蕉水是提取于香蕉的天然无毒液体

22.生活中俗称暖宝宝的一次性取暖片，主要由铁粉、活性炭、蛭石、水、盐等材料构成，下列关于其发热原理的说法正确是


- A.活性炭的作用是减少铁粉和空气的接触面积
- B.盐和水的作用是加快铁粉氧化
- C.发热原理是铁的氧化吸热过程
- D.蛭石的作用是散热

23.手机电池的发展经历了镍镉电池，镍氢电池和，锂离子电池三个阶段，锂离子电池相对于其他两种电池的优势在于：

①重量轻②安全性高 ③绿色环保 ④高温低温适应性强

- A.①②③ B.①③④ C.①②④ D.②③④

24.如下图所示，房间中互相垂直的墙和天花板都是由镜子构成，形成了三个两两相互垂直的平面镜，站在其中的杨胖胖会成多少个像？



- A.3个 B.4个 C.7个 D.8个

25. 下列关于人体单纯性肥胖的说法错误的是

- A.进食过多的糖类食物，会导致肥胖
- B.肥胖者会因动脉粥样硬化而产生心血管疾病
- C.不吃肥肉少放油，提倡低脂膳食就能避免肥胖
- D.脂肪虽供给人体能量，但摄入过多会沉积皮下引起肥胖

第二部分 言语理解与表达

本部分包括表达与理解两方面的内容。请根据题目要求，在四个选项中选出一个最恰当的答案。请开始答题：

26. 网络书店的页面为了适应人眼的视野范围，又窄又长，容易让人疲劳，而且图书多按销量或排行榜来呈现。随着人工智能的发展，现在还可以利用大数据算法，根据读者浏览和购买历史来确定其读书品味，推荐的书目符合读者口味，这就不可避免地形成“蚕茧效应”，读者只能看到喜欢看的，长此以往，___。这样的不足正好可以通过实体店来弥补。现在不少大型书店的再售图书多到十万种以上，一入书城，如进书海，给读者带来的体验是网络书店无法比拟的。此时，书店如果能从众多图书中挑选高品质图书，用品质赢得读者，就可以在和网店的竞争中凸显竞争力。

填入划横线部分最恰当的一项是：

- A. 读者在网络书店的收货越来越小
- B. 逛实体书店才可能带来意外惊喜
- C. 读者阅读视野不知不觉日益狭窄
- D. 网络书店无法满足读者阅读需求

27. 苏区是一个坚实的实践样本，蕴含着整个中国近代历史的主题、主线，预示着中华民族的前途命运。苏区研究既属于历史主干研究，也属于历史支系研究。经过多年积累，目前的苏区研究，其广泛、细致的程度前所未有，堪称血肉丰满、___、支系发达。

填入划横线部分最恰当的一项是：

- A. 枝繁叶茂
- B. 繁花似锦
- C. 春色满园
- D. 生机盎然

28. 业内专家建议，建立国家营养日货营养粥，开展“食育进农村”等活动，加大公益广告投入，发布适宜不同人群的膳食指南，针对农村留守儿童多的现象，在家庭监管___的情况下，政府可通过购买服务，让相关社会组织走进农村，帮助农村孩子健康成长。

填入划横线部分最恰当的一项是：

- A. 缺失
- B. 薄弱
- C. 不力
- D. 缺乏

29. 现在，作为一种现象，城市垃圾问题早已凸显，异地倾倒、___，不过是垃圾困境的一种不断突围方式而已，治理垃圾异地倾倒问题，必须依靠严厉执法和监督举报，但最终还是要回到农村垃圾处理上来。

填入划横线部分最恰当的一项是：

- A. 寡廉鲜耻
- B. 以邻为壑
- C. 投石下井
- D. 投机取巧

30. 研究显示，只要手机在视线范围或___的范围之内，就会导致人们的注意力下降。这并不是手机的推送或通知分散了人的注意力，而是人们下意识地下去“_____”手机，但发布这个指令的过程本身就会耗费有限的认知资源，造成脑力流失

依次填入划横线部分最恰当的一项是：

- A. 近在咫尺 牵挂
- B. 唾手可得 惦念
- C. 触手可及 惦记

D.一步之遥 想念

31.国学如果停留在如此浅层次的形式复古，无异于____，甚至会把国学弄成与现代文学相对抗的姿态，凡事不同好坏对错，一旦以东西古今划界。凡是古人的都是好的，哪怕骑驴，凡是现代的都是“非我族类”，都该保持距离。如此下去，国学非但不会被这些人“发扬光大”，相反可能会走入狭隘化、极端化、边缘化的境地，钻进狭小天地里____，与文明发展隔断脉络，把自己变成了一块“化石”。

依次填入划横线部分最恰当的一项是：

- A.刻舟求剑 润泽
- B.买椟还珠 孤芳自赏
- C.缘木求鱼 蓬荜生辉
- D.掩耳盗铃 终尘不染

32.中华文化绵延 5000 年，有其独特的价值体系，已成为中华民族的基因，中华优秀传统文化是中华民族的突出优势____着中华民族最深沉的精神追求，为中华民族生生不息，发展壮大提供了丰厚____，潜移默化地影响着中国人的思想方式和行为方式，至今仍具有鲜活的时代价值。

依次填入划横线部分最恰当的一项是：

- A. 沉淀 润泽 B.积淀 滋养 C.积聚 滋润 D.积蓄 滋补

33.在未来 30 年里，“气候变化技术”既包括____防汛设施，用转基因技术使庄稼抵御干旱气候等短期防御科技，也包括使用碳隔离方式将温室气体从大气层抽离并存入地下，将二氧化碳植入大气层以此来减少太阳辐射对地球温度影响等的长期防御科技_____。

依次填入划横线部分最恰当的一项是：

- A. 修建 计划 B.兴建 打算 C.建设 设想 D.建造 构想

34.中国的格律诗，意体上在唐代____，达到无法超越的地步，宋诗其实是唐诗的延续，宋代有一些优秀的诗人，他们的创作可与唐人媲美，譬如苏东坡、王安石、陆游等，宋诗中，写得情景交融、意境优美的作品，可以说_____。

依次填入划横线部分最恰当的一项是：

- A.叹为观止 触目皆是
- B.登峰造极 俯拾皆是
- C.无出其右 汗牛充栋
- D.无与伦比 斗量车载

35.壁虎吸附墙壁是靠他们脚上细微毛发与墙壁____的分子间吸附力，仿壁虎材料运用了相同原理，核心在于有方向的吸附力，也就是说这种材料在平时不粘，而当有____的时候就会牢牢吸住物体表面，整个过程几乎不需要进行按压。

依次填入到横线部分最恰当的一项是：

- A. 粘连 向心力 B.附着 零重力 C.贴合 离心力 D.接触 切向力

36.长期以来，人们对于“阳春白雪”的传统文化，都是一种仰望的姿态，认为____，于是常常过而不入，从这个意义上说，搞好文创，需要首先激发起人们对文化的浓厚兴趣，然后同样重要的，是想方设法保留住它，如此，人们才会在文化探索的旅程中____，走得更深、更

远。

依次填入到横线部分最恰当的一项是：

- A.海水不可斗量 登堂入室
- B.百思不得其解 斗折蛇行
- C.夏虫不可语冰 登高履危
- D.可望而不可即 拾级而上

37.饮食在中国文化传承中是较稳定的领域，国有盛衰，代有兴亡，用筷子吃饭数千年不变，与宴饮相关的某些礼仪程式也很少变化，盛行西周的乡饮酒礼，上可至三代遗风，下传至清道光年间，其敬老、尊长、议政的古风____，连酒会程序——谋宾、迎宾、旅酬和送宾等礼仪也____

依次填入划横线部分最恰当的一项是：

- A.如出一辙 毫无二致
- B.一脉相承 大同小异
- C.一脉相通 相差无几
- D.衣钵相传 半斤八两

38.艺术桥是巴黎的一个标志，它不仅____了塞纳河畔的风景，更记载了艺术文化的传承和人类文明的繁荣。热爱美景、艺术和生活的人都会乐见其能够长久地____，发挥其应有的便民功能以及作为文物景观的历史价值和艺术作品的美学价值。

依次填入划横线部分最恰当的一项是：

- A.衬托 连续 B.渲染 继续 C.装饰 持续 D.点缀 存续

39.在西汉时期，一种青铜染炉非常流行，以至于在许多地方都有出土。这种染炉分为三个构造：主体为炭炉，下部是____碳灰的盘体，上面放置一具活动的杯，他曾让几代学者对它的用途____，直到今天，考古界才确定它就是一种类似现代意义上的“小火锅”。依次填入划横线部分最恰当的一项是

- A.接收 孜孜以求
- B.承接 迷惑不解
- C.收纳 朝思暮想
- D.盛放 潜精研思

40.两相比较，白话文在通俗易懂的同时，往往在韵律上缺少节奏感，篇幅冗长。而文言文能用____传达出深层或多层意思，其凝练之美、韵律之美和意境之美是白话文____的。

依次填入划横线部分最恰当的一项是：

- A.一语双关 略逊一筹
- B.只言片语 无与伦比
- C.三言两语 相形见绌
- D.寥寥数语 无可比拟

41.研究人员分别给成年小鼠和老年小鼠吸食膳食纤维含量不同的两种食物，持续4周，然后对小鼠血液中短链脂肪酸水平、肠道炎症状况等进行检测。结果表明，多补充膳食纤维，不仅可以提高老年小鼠血液中短链脂肪酸水平，而且会显著____小鼠肠道炎症，增强细胞抗炎能力，进而抑制有害化学物质的产生，延缓大脑功能____进程。

依次填入划横线部分最恰当的一项是：

- A.减轻 衰退 B.减少 衰退 C.减弱 衰萎 D.减缓 衰弱

42.人们所熟知的“冬病夏治”，是根据传统医学“春夏养阳，秋冬养阴”的理论，___四时特性的养生疗法。“冬病”指某些好发于冬季，或在冬季加重的病变，如支气管炎、过敏性鼻炎、骨关节痛等疾病。“夏治”指夏季这些病情有所缓解，趁其发作缓解季节，补气扶阳、辨证施治，以___冬季旧病复发，或减轻其症状。

依次填入划横线部分最恰当的一项是：

- A.适应 免予 B.符合 避免 C.服从 防止 D.顺应 预防

43.改革开放以来，伴随着一系列体制障碍的清除，物质资本和人力资本得到巨大的___和有效的重新___，中国终于把自己在几个世纪“大分流”中的落程，并以成为世界第二位经济体为象征，取得了世人瞩目的发展成就。

依次填入划横线部分最恰当的一项是：

- A.累积 组合 扭转 B.积聚 分配 转变 C.积累 配置 逆转 D.积攒 组织 转化

44.随着学校消失，村庄的文化高地不在，村庄文化脉络的_____受到了影响，青少年长期“不在场”，对村庄的_____感逐渐增强。特别是在以传统农业文明为指征的村庄文化正在大面积___，农村文化呈现虚化，空洞化，无疑是更进一步加剧了村庄文化的衰亡，对村庄的可持续发展造成不利的影响。

依次填入划横线部分最恰当的一项是

- A.纲维 疏远 消失 B.位移 梳理式微 C.轴心 隔阂 衰亡 D.衔接 陌生凋零

45.近年来，人们的生活条件越来越好，对旅游的要求也越来越高。从前到此一游、的旅游方式已逐渐被深度体验、注重文化与互动的旅游方式所替代。正是在这种背景下，文化与旅游融合的发展方式___，并成为热点。

依次填入划横线部分最恰当的一项是：

- A.质量 浮光掠影 脱颖而出
B.环境 浅尝辄止 蔚然成风
C.品质 走马观花 应运而生
D.生态 蜻蜓点水 蔚为大观

46.随着智能科技和产业的发展，数据和计算正在成为_经济增长和发展的关键。作为第四次工业革命的引擎，智能科技和经济在中国的发展_于经济转型升级中所创造的智能化需求。

依次填入划横线部分最恰当的一项是：

- A.推动 因素 产生 B.驱动 要点 内化 C.触动 质素 生长 D.驱动 要素 内生

47.正因为中国法律史学除了单纯的理论研究，还要探究解决当代中国的法律问题，所以有必要坚持独立的中国立场，不论是单纯的理论研究，还是切近实际的应用研究，都需坚持独立思想立场，才能做出有价值的研究成果。这里的独立立场，其实就是中国自身的立场而不是现在别国的立场之上。近代以来，西方国家一些学者对于中国法律不客观的负面评价，曾经影响到中国学者对待本国法律历史的态度。直到今天，这种影响仍没有完全消除，需要加以矫正。

这段文字旨在强调：

- A. 中国法律史学研究需探究解决当代中国的法律问题
- B. 中国法律史学研究受到西方学者不客观的负面评价
- C. 中国法律史学研究必须坚持中国自身独立的立场
- D. 中国法律史学研究曾受西方学者影响至今未消除

48. 研究人员发现在大脑中存在着不同种类和巨大数量的高维几何结构，由紧密连接的神经元团块和它们之间的空白区域（空洞）组成。这些团块或空洞似乎对大脑功能至关重要，当研究人员给虚拟大脑组织施加刺激时，他们发现神经元以一种高度有组织性的方式对刺激作出了反应。这意味着我们思考问题的时候，神经元的团块会逐渐组合成更高维的结构，形成高维的孔隙或空洞，团块中的神经元越多，空洞的维度就越高，最高的时候可以达到 11 个维度。

根据上述文字，下列说法正确的是

- A. 团块中的神经元越多，空洞的维度就越高，意识越复杂
- B. 神经元团块或空洞互相连接，以施压方式促进人的思考
- C. 神经元能以高度有组织性的方式反映，取决于大脑功能
- D. 人脑充满多维几何结构，最高时可在 11 个维度上运行

49. 水熊被认为是世界上最顽强的动物，其显著特征是能在各种极端环境中存活下来，科学家曾经将水熊冰冻在冰层之中，暴露在放射线之下，甚至将他们发送至太空，但令人惊奇的是水熊仍能从假死状态中复活，最近，科学家揭示了水熊复活的秘密，其 DNA 兼具动物和细菌成分，使其成为“弗兰肯斯坦”混合体。此外，科学家们在研究水熊复活过程中哪些基因会被激活时，还发现了一组特殊蛋白质，这组蛋白质能够快速替换体内损耗的水分，并修复受损细胞，致使这种动物接近于不可毁灭状态

这段文字旨在说明

- A. 水熊的显著特征是能在各种极端环境中存活
- B. 水熊是一种能复活的“弗兰肯斯坦”混合体
- C. 水熊拥有神秘 DNA 使它接近于不可毁灭
- D. 水熊拥有的特殊蛋白质能修复受损的细胞

50 生长在非洲大草原上的灰犀牛，身躯庞大，给人一种行动迟缓安全无害的错觉，使人们时常忽略了危险的存在——当灰犀牛被触怒发起攻击时，却会体现出惊人的爆发力，阻止它的概率接近于 0，最终引发破坏性极强的灾难，概率大、破坏力强是灰犀牛事件最重要的特征，很多危机事件，与其说是“黑天鹅”，其实不如说更像是“灰犀牛”，他们并非发端于不可预测的小概率事件（“黑天鹅”），而是大概率、高风险事件（“灰犀牛”）不断演化的结果，这些风险的存在早就广为人知，却由于体制或认识的局限，没有得到积极防范和应对，最终升级为全面的系统性危机

根据上述文字，下列说法正确的是

- A. 与“灰犀牛”相对“黑天鹅”是指破坏性不强的小概率事件
- B. “黑天鹅”和“灰犀牛”事件都是严重的无法防范的危机事件
- C. 许多“黑天鹅”事件背后都隐藏着大概率、高风险的“灰犀牛”危机
- D. “灰犀牛”和“黑天鹅”事件没有明显区别，一定条件下可以互相转化

51.最新研究表明，火星表面可能包含着一种叫高氯酸镁的有毒化学化合物，它在紫外线下能摧毁细菌，研究者将枯草杆菌放置在短波紫外线辐射下，其状况类似于火星表面，发现高氯酸镁具有强杀菌性，这意味着他能潜在杀死所有细菌，只要存在高氯酸镁，枯草杆菌几分钟内就失去生存能力，同时，研究人员发现火星表面其他两种物质——氧化铁和过氧化氢，与高氯酸镁结合后杀菌性能增强 10 倍。这项发现表明火星表面对于细胞非常危险，长远来看，可能对后续的火星探索产生影响，尤其是可能大大增加了人类开发火星的成本

这段文字意在强调

- A.高氯酸镁杀死枯草杆菌有奇效
- B.已找到为火星表面消毒的方法
- C.火星自身具有杀菌自净的能力
- D.火星比预想更不适宜生命存活

52.一次，苏格拉底与三个学生走过一块麦田，他要学生从这边走到那边，去摘一穗最大的麦穗，结果学生苏维空手而归，他总想最大的麦穗一定还在前边，不觉到了尽头，两手仍然空空;学生邹懂则摘了一穗很小的麦穗，他一走进麦田便急忙摘了一穗，殊不知前面还有更大的;只有最后的学生徐立摘了一穗很大的麦穗，虽然不一定是最大的，但他的结果是令人满意的。

这段文字意在说明：

- A.生活即思想，思想源于生活实际
- B.把握时机是人生快乐的最大诀窍
- C.优秀哲学家都以其毕生精力在孕育智慧的田地里耕耘
- D.苏格拉底一生注重实践，把哲学的注意力放在生活上

53.大凡作诗填词，都是语言与情感互相迁就的过程。一位初学者最初萌生什么样的感情，选择什么样的句式来起手，是不可预知的。可是一旦他有了初步的构思，就总能在《唐宋词格律》这部书里得到适当的帮助，他会知道哪些词牌适合表达怎样的感情，应该选择什么样的韵脚，以及怎样合理运用某些修辞方法，在面对特殊句法的时候不上当，如果读过足够多的古人诗词，具有一点儿语感，就确实能在这部书的帮助下完成初次创作。它不能教人写出惊才绝艳的名篇，却以最大的诚意，防止你闹出各种笑话。

上述文字意在说明：

- A.《唐宋词格律》因词调丰富而适合初学者使用
- B.诗词创作实质上是语言与情感互相迁就的过程
- C.《唐宋词格律》为初学者提供了非常好的帮助
- D.诗词创作者须有充沛的情感及较高的文学修养

54.在移动阅读时代，自媒体的影响力不可小觑。由于拥有更广阔的传播路径和分发渠道，受公众关注度高，自媒体人掌握了一定话语权。有些自媒体人与传统媒体机构相比，确实不落下风，公信力给他们带来了收益。然而，公信力是把双刃剑，自媒体人既要看到流量背后的利益，也要认识到滥用自己的公信力会引发哪些负面效果。若以为可以仰仗传播力而“任性”，则实实在在打错了算盘。滥用话语权的后果，将直接影响自己辛苦树立起来的公信力，失去公众的支持

这文字意在强调

- A.自媒体具有强大的影响力
- B.自媒体人不应只关注收益

- C.自媒体人应争取公众支持
- D.自媒体的话语权本可滥用

55.我国研究机构日前宣布，世界上第一个全超导托卡马克“东方超环”（EAST）实现了稳定的 101.2 秒稳态长脉冲高约束等离子体运行，创造了新的世界纪录。这标志着 EAST 成为世界上第一个实现稳态高约束模式运行持续时间达到百秒量级的托卡马克核聚变实验装置。EAST 高 11 米、直径 8 米、重达 400 吨是我国第四代核聚变实验装置，其科学目标是让海水中大量存在的氘和氚在高温条件下，像太阳一样发生核聚变，为人类提供源源不断的清洁能源，所以也被称为“人造太阳”。

这段文字主要说明了：

- A.大力发展清洁能源势在必行
- B.核聚变技术可创造清洁能源
- C.短期内难建成真正的“人造太阳”
- D.“人造太阳”装置取得革命性突破

56.社交恐惧症是焦虑障碍的一个重要亚型，其主要症状是害怕受到注视。例如害怕在大庭广众之下讲话等，症状严重时甚至不敢出门。害羞则是一种常见的人格特质，本身并不具有病理性。不过，绝大多数社交恐惧症患者在接受治疗之后，症状都会得到明显缓解。对于症状程度较轻的患者，应该首选心理治疗；如果患者因工作忙等原因不能或不愿意接受心理治疗，则可以首选药物治疗。但将药物治疗与心理治疗结合起来才是治疗社交恐惧症最有效的方法。此外，大多数社交恐惧症患者都起病于青少年时期，所以预防非常重要。根据这段文字，以下说法正确的是，

- A.害羞是社交恐惧症的一个重要亚型
- B.社交恐惧症无法通过药物治疗治愈
- C.中老年人不会成为社交恐惧症患者
- D.症状程度较轻者用结合治疗最有效

57.有研究团队让 22 名 17 岁至 42 岁的志愿者在两周内每晚照常使用电子设备，但在睡前佩戴三小时防蓝光眼镜，发现其晚间褪黑激素水平整体上升了大约 58%，上升幅度甚至超过服用褪黑激素补充剂带来的变化，志愿者感觉睡眠质量改善、入睡更快，整体睡眠时间延长。研究者说，最大的蓝光光源是日光，但大部分基于 LED 灯的设备也会发出蓝光，“人造蓝光”会激活对褪黑激素有抑制作用的内在光敏视网膜神经节细胞，从而干扰睡眠。该研究者建议睡前少用电子设备，或佩戴防蓝光眼镜。

从这段文字可以推出：

- A.电子设备的蓝光会减少褪黑激素的分泌而促进睡眠
- B.天然的日光并不会激活内在光敏视网膜神经节细胞
- C.睡前不佩戴防蓝光眼镜会使褪黑激素水平整体上升
- D.提升褪黑激素水平有助于人睡更快和睡眠质量改善

58.生命存在的首要条件是液态水，一颗行星是否宜居取决于表面温度能否维持液态水的存在。冰行星或冰卫星地表原本被冰雪覆盖，此前研究认为，随着恒星辐射增强，其地表冰雪最终会融化形成液态水，从而适宜生命。不过，最新研究证明，随着恒星辐射增强，冰行星或冰卫星将直接进入极端炎热的温室逃逸状态，表面温度将升至 100 摄氏度以上，液态水无法存在。且冰雪融化，行星地表反射能力的突然降低使其吸收恒星辐射的能力大大增强。

此外，冰雪融化后，大量水汽进入大气，强温室效应也使地表温度进步升高。下列说法与原文相符的是：

- A.宜居行星在事实上并不存在
- B.冰行星或冰卫星其实不宜居
- C.冰行星或冰卫星其实没有冰
- D.温室逃逸状态阻止了冰融化

59.全球数以百计的医疗机构声称可用干细胞疗法修复多发性硬化症患者受损的组织细胞。专家指出，这些机构直接向患者打广告称可治愈疾病，而实际上没有任何证据表明它们有效或不会造成伤害、在这种情况下，处理相关广告十分必要。某些类型的干细胞移植，例如使用血液或皮肤干细胞，经全面临床验证能治疗特定种类的癌症以及让烧伤病人完成植皮手术，因而得到监管机构批准。专家称，虽然干细胞疗法前景广阔，但许多潜在的干细胞疗法仍处于研发的最初阶段，尚未得到监管机构的批准，还需要通过严格的临床试验和监管手续来确定其是否安全有效。

这段文字意在说明。

- A.血液和皮肤干细胞已广泛用于治疗
- B.队干细胞疗法目前仍然存在一定风险
- C.监管组织应引入有效广告管理措施
- D.研发细胞和组织疗法仍是巨大挑成

60.人之所以能看珂物体，是因为物体阻挡了光波的通过。如想让：某个小球隐形，可在该小球的四周覆盖一层以同心圆形状排列的超材料，这种材料能挡住传来的一切光波，并且不发生反射或吸收现象，被挡开的波在物体的另边再次汇合后继续沿直线传播。在观察者看来，物体就似乎变得"不存在"了，也就实现了视觉隐身。简而言之，隐身衣使用的超材料，可以让雷达波、光线或者其他的波绕过物体而不会被反弹，进而达到不可视的效果。未来，隐身衣将被首先应用于军事领域，提高作战的隐蔽性和安全性。但如果任何人都可以实现隐形，也会引发一系列社会问题。与这段文字意思相符的二项是：

- A.隐身衣能够让光线穿透自身
- B.物体阻挡光波使人能够视物
- C.隐身衣用于军事会引发战争
- D.使用超材料能够反弹雷达波

61.技术是一把"双刃剑"，应用得当可以造福社会、造福人民，应用不当会危害社会、危害人民。当前，从整个世界范围来看，网络安全威胁不断增加，信息安全问题日益突出。没有网络安全就没有国家安全，没有信息安全就谈不上让信息化更好造福人民。信息时代，人们享受着数字化生活带来的诸多便利。但网络黑客、互联网诈骗、侵犯个人隐私等又让很多人"中招"。可见，信息化应用越深入，就越要重视信息安全问题。这段文字意在强调：

- A.必须完善法律法规，为数字化生活提供法治保障
- B.解决信息安全问题，提高数字化生活的安全系数
- C.降低信息化应用成本，增进人民福祉、造福社会
- D.提高数字化生活质量，就必须加强信息技术手段

62.近来，多家情商教育机构针对不同年龄段推出相应套餐，"情商班"火爆家长。情商是控制和驾驭情绪的能力，对人的生活和工作有重要的作用。可是，在很多人的心里，情商的

内涵已经被异化，最早的情商概念，和如今流行的情商观念大相径庭。许多人对情商的理解，是圆滑世故、阿谀奉承的另一种说法。实际上，情商的核心既是对自身情绪的认识和控制能力，也包括与人交往、融入集体的能力。这两种能力的培养，需要在日常生活中实践。孩子能否培养出良好的情绪控制能力和社交能力，很大程度上取决于家长，任何情商培训都无法取代日常生活中的情商培养。接下来最可能讲述的是：

- A.情商补习应当引起家长高度关注
- B.家长在家庭教育中的身体力行
- C.家长要理性地看待情商培训班
- D.需要培养和提高家长的情商

63.①语言是符号体系，而每一种语言的符号体系都带着文化的烙印，都是这种语言的共同体集体认知的结果，都是文化的载体，这是语言的“体”。

②语言和文化是一体两面的，没有谁能够把语言和文化彻底分开，这是由语言的属性决定的。

③所以汉语国际教育不必把“文化传播”特意突出出来，因为学习一种语言不可能不涉及这种语言所负载的文化内容，这是不言而喻的：运营中心

④语言中隐含着使用这种语言的人和社会群体的价值观念，而这种价值观念往往是习焉不察的。

⑤语言也是思维工具和交际工具，我们在使用一种语言思维和交际的时候不可能不受这种语言的影响，这好似语言“用”。

将以上5个句子重新排列，语序正确的是：

- A.②①⑤④③
- B.④①⑤②③
- C.②⑤①③④
- D.④②①⑤③

64.世界卫生组织的调查指出，嗜糖之害，甚于吸烟，长期食用含糖量高的食物会使人的寿命明显缩短。近年来，中国人对糖的消耗量居高不下，特别是儿童。调在数据显示，10年前我国儿童人均每天喝饮料715毫升，10年后的今天翻了一番。目前市售的多数饮料含糖量为8%至11%，一瓶容量为500毫升的饮料，含糖量就在40克至55克之间。医学专家建议成人每天摄入添加糖不宜超过50克，最好控制在25克以下。儿童每天摄入的添加糖不可以超过25克。然而，仅1瓶饮料中的添加糖含量，已经超过推荐值底线。殊不知，就在我们大快朵颐、痛快吃糖的同时，糖也在悄无声息“吃掉”我们的健康。最适合做这段文字标题的是：

- A.甜蜜诱惑，难以抗拒
- B.减糖行动，刻不容缓
- C.嗜糖之害，甚于吸烟
- D.低糖饮食，有益健康

65.当传统媒体还在琢磨受众喜欢什么内容的时候，算法推荐已迅速赢得了大量用户，媒体技术的变革，重塑了新闻产品的生产与分发，也重构了新媒体的内容生态。面对全媒体时代，我们需要用主流价值纾解“算法焦虑”、用社会责任规范“内容生产”、用优质平台凝聚“众人之智”，以更多更好的正能量、主旋律内容供给，让舆论天空更清朗、舆论生态更健康。最适合做这段文字标题的是：

- A.给以主流价值为底色的传统媒体内容产品插上算法分发的翅膀
- B.增强主流价值供给，纾解新媒体内容生产和传播中的技术问题
- C.面对算法焦虑和流量焦虑，主流媒体要保持主流价值内容定力
- D.用主流价值纾解“算法焦虑”：构建健康活跃的新媒体内容生态

第三部分数量关系

(共 15 题，参考时限 15 分钟)

在这部分试题中，每道题呈现一段表述数字关系的文字，要求你迅速、准确地计算出答案。请开始答题：

66.某社区拟对块梯形活动场地进行扩建。经测算，如果将梯形的上底边增加 1 米，下底边增加 1 米，则面积将扩大 10 平方米，如果将梯形的上底边增加 1 倍，下底边增加 1 米，则面积将扩大 55 平方米，如果将上底边增加 1 米，下底边增加 1 倍，则面积将扩大 105 平方米。现拟将梯形的上底边增加 1 倍还多 2 米，下底边增加 3 倍还多 4 米，则面积将扩大多少？

A.280 平方米 B.380 平方米 C.420 平方米 D.480 平方米

67.赵磊每天从家中出发骑自行车经过段平路，再经过一道斜坡后到达学校上课。某天早上，赵磊从家中骑车出发，一到校门口就发现忘带课本，马上返回，从离家到赶回家中共用了 1 个小时。假设赵磊当天平路骑行速度为 9 千米/小时，上坡速度为 6 千米/小时，下坡速度为 18 千米/小时，那么赵磊的家距离学校多远？

A.3.5 千米 B.5.5 千米 C.4.5 千米 D.6.5 千米

68.帮帮、白龙、夏黑三人去超市买了 100 元的商品，如果帮帮付钱，那么帮帮剩下的钱是白龙、夏黑两人钱数之和的 $\frac{2}{13}$ ，如果白龙付钱，则白龙剩下的钱是帮帮、夏黑两人钱数之和的 $\frac{9}{16}$ ，如果夏黑付钱，夏黑用他的会员卡可享受 9 折优惠，结果夏黑剩下的钱是帮帮、白龙两人钱数之和的 $\frac{1}{3}$ ，求帮帮、白龙、夏黑三人开始时一共带了多少钱？

A.850
B.900
C.950
D.1000

69.南部某战区一个 10 人小分队里有 6 人是特种兵，某次突击任务需派出 5 人参战，若抽到 3 名或 3 名以上特种兵可成功完成突击任务，那么成功完成突击任务的概率有多大？

A. $\frac{3}{5}$ B. $\frac{2}{3}$ C. $\frac{29}{42}$ D. $\frac{31}{42}$

70.某篮球队共有九人，分三组举行三人制篮球赛，他们的球衣号码分别是从 1 号到 9 号，分组后发现三组的球衣号码之和不同，且最大和是最小和的两倍。则安之各组号码之和不可能下列哪个数：

A.10 B.11 C.12 D.13

71.展鹏福邸 3 楼现有 6 箱不同的水果，安排三个配送员送到 A.B.C 三个不同的仓储点其中 A 地 1 箱，B 地 2 箱，C 地 3 箱问配送方式有：

A.60 种 B.180 种 C.360 种 D.420 种

72.展鸿学习平台的学习内容，由观看视频、阅读文章、收藏分享、论坛交流、考试答题五个部分组成，小嘉要先后学完这五个部分，若观看视频和阅读文章，不能连续进行该学员学习顺序的选择有：

A.24 种 B.72 种 C. 96 种 D.120 种

73. 某城市一条道路上有四个十字路口，每个十字路口至少有一名交通协管员，现将 8 个协管员名额分配到这四个路口，则每个路口协管员额的分配方案有：

A.35 种 B.70 种 C.96 种 D.114 种

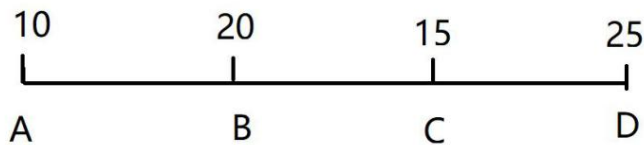
74. 物业派出小嘉、小夕、小展三名工作人员负责修剪小区内的六棵树，每名工作人员至少修剪 1 棵（只考虑修剪的棵数），问小王至少修剪三颗的概率为：

A.3/10 B.3/7 C.1/4 D.3/5

75. 展鹏国际展鸿夏老师预约某快递上午 9 点 30 分到 10 点在公司大楼前取件，假设两人均在这段时间内到达，且在这段时间到达的概率相等，约定先到者等后到者十分钟，过时交易取消，则快递员取件成功的概率为：

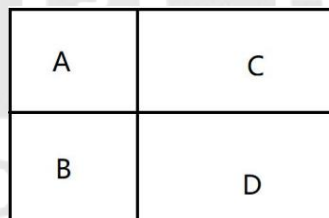
A.1/3 B.2/3 C.5/9 D. 7/9

76. 电商平台每隔五千米有一座仓库，共有 A、B、C、D 四座仓库，图中数字表示各仓库库存货物的吨数，现需要把所有的货物集中存放在其中某一个仓库中，如果每吨货物运输一千米需要运费三元，要使运费最少，则需将货物集中到哪座仓库？



A.仓库 A B.仓库 B C.仓库 C D.仓库 D

77. 村民小嘉承包一块长方形种植地，他将地分割成如图所示的四个小长方形，在 A、B、C、D，四块长方形土地上，分别种植西瓜、花生、地瓜、水稻，其中长方形 A、B、C、D 的周长分别是 20 米、24 米、28 米那么长方形 D 的最大面积是：

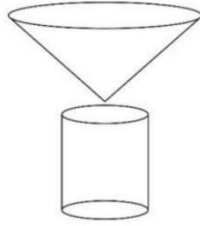


A.42 平方米 B.49 平方米 C.64 平方米 D.81 平方米

78. 某会展中心布置会场从花卉市场购买郁金香、月季花、牡丹花三种花卉各 20 盆，每盆均用纸箱打包好装车运送至会展中心，再由工人搬运至布展区，问至少要搬出多少盆花卉才能保证搬出的鲜花中一定有郁金香？

A.20 B.21 C.40 D.41

79. 野外生存需要一个简易的圆锥型过滤器（如下图所示）装满溪水进行过滤。过滤器的地面直径为 20 厘米，高为 6 厘米。问全部过滤完毕后，在不考虑损耗的情况下，可使底面半径为 5 厘米，高为 15 厘米圆柱型容器的水面高度达到：

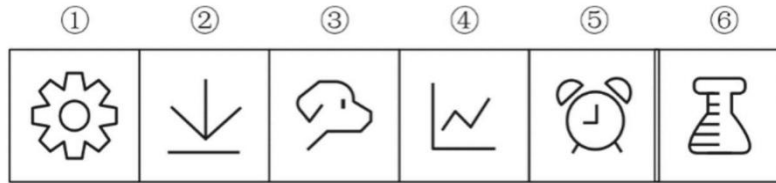


A.4 厘米 B.6 厘米 C.8 厘米 D.16 厘米

80.南昌某企业员工组织周末自驾游。集合后发现，如果每辆小车坐 5 人，则空出 4 个座位;如果每辆小车少坐 1 人，则有 8 人没坐上车。那么，参加自驾游的小车有：


A.9 辆 B.10 辆 C.11 辆 D.12 辆

81.把下面六个图形分为两类，使每一类图形都有各自的共同特征或规律，分类正确的一项是：



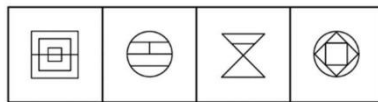
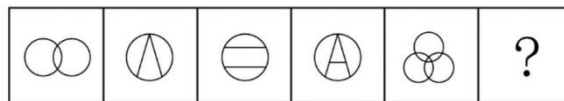
- A.①③⑥,②③④
- B.①②⑤,③④⑥
- C.④②④,③⑤⑥
- D.①③⑤,②④⑥

82.把下面的六个图形分为两类，使每一类图形都有各自的共同特征或规律，分类正确的一项是：



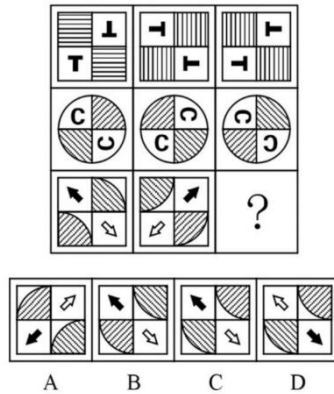
- A.①④⑥,②③⑤
- B.①③⑥,②④⑤
- C.①②⑥,③④⑤
- D.①②④,③⑤⑥

83.从所给的四个选项中，选择最合适的一个填入问号处，使之呈现一定的规律性：

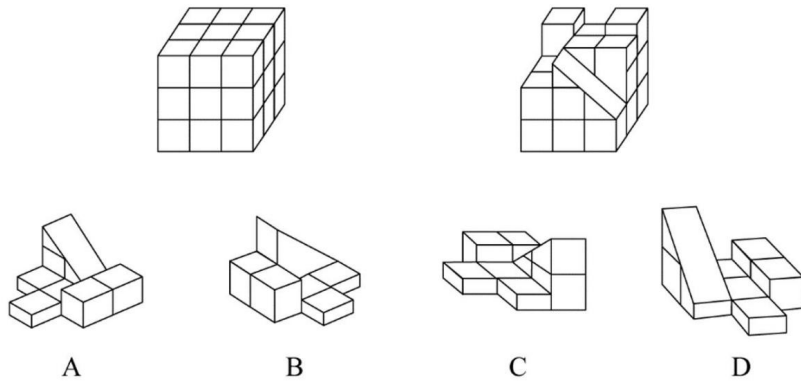


A B C D

84.从所给的四个选项中，选择最合适的一个填入问号处，使之呈现一定的规律性：



85.正方体被切除部分后的造型如下图所示，那么哪一项是其被切去部分的造型？



二、逻辑判断。每道题给出一段陈述，这段陈述被假设是正确的，不容置疑的。要求你根据这段陈述，选择一个答案。注意：正确的答案应与给出的陈述相符合，不需要任何附加说明，即可以从陈述中直接推出。

请开始答题：

86.在市场竞争十分激烈的时候，一个企业要是不激流勇进，创造出富有竞争力的产品，也不适时撤退，主动割爱放弃没有前景的市场，那么这个企业最后一定会陷入危机之中。

如果以上论断为真，则下列说法正确的是。

- A.在竞争激烈的背景下，某企业未能创造出富有竞争力的产品，最后一定会惨遭淘汰。
- B.在竞争激烈的背景下，某企业紧要关头激流勇进转向其他市场就可以避免危机。
- C.在竞争激烈的背景下，某企业放弃已显颓势的产业，转向新产品的开发，他可能不会被淘汰。

D.在竞争激烈的背景下，某企业研发出了富有竞争力的产品，他最后一定不会陷入危机之中。

87.越是身处浮华的地方，我们越是希望能遇到一块心灵栖息地，虽然我们生活在一个商业化社会，但书店仍是灵魂的慰藉之地，大到城市，小到商场，若能有一家文化味浓郁的

书店，一定能让人们感受到不一样的氛围，书店入驻商场，这不仅能给商场带来客流，也能提升商场的品位，以书店融合阅读，休闲和其他文化产品的类似“文化商场”模式，更是在商场内部构建一个特别的文化链。

如果以上为真，则下列说法正确的是：

- A.城市让人们感受到不一样的氛围，是因为拥有文化味浓郁的书店。
- B.想要在商场内部构建一个特别的文化链，就不应忽视书店这一环
- C.因为书店提升了商场的品位，所以书店给商场带来了客流。
- D.即便不是身处浮华的地方，我们也能遇到一块心灵栖息地。

88.师范类院校学生来自全国各地，甲大学是师范类院校，所以甲大学的学生来自全国各地下列选项所犯逻辑错误与上述推理最相似的是：

- A.牛不是食肉动物，而狮子不是牛，所以狮子不是食肉动物。
- B.父母爱读书的孩子爱运动，小嘉爱运动，所以小嘉的父母爱读书。
- C.私人捐赠的教学楼遍布全国各高校，何况是邵逸夫先生捐赠的逸夫楼。
- D.文明司机都是礼让行人的，有些公务司机礼让行人，所以有些公务司机是文明司机。

89.食品添加剂是现代食品工业的重要组成部分，按规定使用食品添加剂对人体无害，而且可以改善食品的品质，起到防腐保鲜的作用，正是因为有了食品添加剂的发展，才有了大量的方便食品给人们的生活带来极大的便利，如果不加入。食品添加剂大部分食品要么难看，难吃或难以保鲜，要么就是价格昂贵。

如果以下各项为真，最能支持上述结论的是：

- A.食品添加剂和人类文明史一样悠久，例如点豆腐用的卤水
- B.如果不使用添加剂，食品会因微生物作用而食物中毒
- C.宣称无添加剂往往是商家迎合消费者心理造出的噱头
- D.三聚氰胺也是一种食品添加剂，在水泥里能够作为高效减水剂

90.心理学家考察了450位中年男性和女性，他们中有白领阶层，也有蓝领阶层；有技能判断型人群，也有决策制定型人群。结果发现，那些身居重要职位的高管人士普遍比一般员工更胖。研究者认为，做出许多决定承受的压力通过饮食方式得到排解，这最终在一定程度上改变了高管人士之前的饮食习惯。如果你的职位幸运的得到晋升，你将发现不仅是薪水变多，自己的腰围也在变粗，伴随着体重上升。

以下哪项如果为真，最能质疑上述结论？

- A.比较而言，技能判断型人群腰围较小，决策制定型人群腰围较大
- B.比较而言，身居要职的高管人士更难抽出时间投入锻炼以缩小腰围
- C.每晋升一个工作等级，技能判断型人群的腰围平均会减少0.5厘米
- D.每晋升一个工作等级，决策制定型人群的腰围平均会增大0.28厘米

91.地球表面的大部分都被海洋覆盖，生命也诞生于海洋之中，然而据估计地球有80%的物种生活在陆地上，而海洋中仅为15%，剩下的5%生活在淡水中。研究者认为，陆地栖息地的物理布局相对海洋可能更加支离破碎，是导致陆地物种更加多样化的原因之一。

以下哪项如果为真更能加强上述研究者的观点

A.地球表面可分为热带、南温带、北温带、南寒带、北寒带五个温度带，各温度带物种差异性大，种类丰富

B.深海相对于有阳光照射的浅海岸地区而言，基本上像个冰箱，而且门已经关上很久，

物种远不如浅海丰富

C.根据某群岛记录显示，随着时间推移，自然选择甚至可以把两个岛屿上相同物种的不同族群变成截然不同的物种

D.森林覆盖许多陆地，而树叶和枝干形成新的生态环境，海洋中的珊瑚也起同样作用，但覆盖海底的面积没那么大

92.一项最新研究发现，世界上的绿海龟越来越“雌性化”。专家估计，到2100年，约有93%的新生绿海龟为雌性。研究表明，决定绿海龟性别的主要因素是海龟孵化时周围沙子的温度。如果沙子的温度在28到30度之间，孵化出来的绿海龟雌雄比例差不多；如果温度高出这个范围，那孵化出来的绿海龟大多数是雌性，相反，则大多数为雄性。

以下哪项如果为真，最能支持上述论断？

- A.绿海龟终将无法正常繁殖最后在地球上灭绝
- B.绿海龟是一种由孵化时温度决定性别的动物
- C.温室效应将导致全球气候变暖问题日趋严重
- D.温度的持续升高使绿海龟孵化的死亡率增加

93.二氧化碳的排放量剧增导致全球气候变暖，使珠穆朗玛峰所在的喜马拉雅地区冰川正面临急剧缩小的危险。研究显示，珠峰海拔在5000米到6000米的冰川集中区域出现冰川快速融化的现象，这些地方将只在冬季而不是在温暖的季节时看到结冰。专家推论说，根据未来的气候变化趋势，喜马拉雅地区的冰川减少的速度还有可能加快，如果本世纪内气温如预测的一样继续升高，该地区的冰川最终将消失殆尽。

如果以下个各项为真，最能削弱上述论证的是：

- A.喜马拉雅冰川面积每年缩小约0.1%到0.6%
- B.喜马拉雅山和其他地方的冰川对气温变化不敏感
- C.过去50年珠峰周边冰川覆盖面积减少了33.3%
- D.珠峰海拔7000米以上的冰川没有快速融化迹象

94.一项心理学研究认为，出身经济层次最低家庭人的中年后出现代谢综合征的比例最高，无论他们获得的多大成就都是如此，该研究同时发现，代谢综合征虽与童年生活状况有关，但该群体中那些拥有慈母的人不容易出现该综合征，究其原因，慈母具有同情心，会告诉孩子如何应对压力并鼓励他们健康饮食，保持良好生活方式，因此，我们在现实中可以设计一套方案，指导母亲教育孩子如何应对压力，健康生活和掌控命运。

- A.因为父亲不教育孩子保持良好的生活方式，所以父亲对于孩子的健康没影响
- B.出身经济层次最低家庭的人，童年如受慈母呵护，中年后身体很健康
- C.因为缺少母爱，出身经济层次低家庭的人出现代谢综合征的比例最高
- D.设计针对母亲的指导方案，有助于降低特定群体出现代谢综合征的比例

95.地球距离火星最近约为5500万公里，最远则超过4亿公里，只有地球与火星夹角为70度时发射探测器才能如期抵达火星，因此，我国预计在2020年发射火星探测器，次年登陆火星。一位航天专家对此评论道：“如果不能抓住2020年这个机会，那么下一次合适的发射时间至少要推迟到2022年之后。”

上述专家的评论若要成立，需要补充的前提是：

- A.火星探测器发射后，需要经过不少于7个月的飞行，才能抵达火星轨道
- B.我国需于2020年发射火星探测器，才能尽快缩小与西方航天大国的差距

C.地球与火星的相对近点约每 15 年出现一次，二者距离近的年份是登陆火星的最佳时机

D.发射火星探测器需等到地球和火星形成一定夹角，而这个机会每隔 26 个月才出现一次

三、类比推理。每道题先给出一组相关的词，要求你在备选答案中找出一组与之在逻辑关系上最为贴近、相似或匹配的词。请开始答题：

96.鲜花：塑料花

A.纸质书：电子书

B.相片：画像

C.原本：复印本

D.铃章：印泥

97.鸳：鸯

A.虾蟮：蝗虫

B.白猫：黑猫

C.雄鸡：雌鸡

D.红男：绿女

98.牡丹：洛阳：郑州

A.荷花：青岛：济南

B.木芙蓉：成都：成都

C.菊花：太原：石家庄

D.凤凰花：厦门：福州

99.空运：海运：运输

A.平装：精装：装帧

B.货轮：客轮：邮轮

C.晚会：聚会：集会

D.试飞：试航：航天

100.初伏：中伏：末伏

A.火星：木星：土星

B.大雨：小雨：谷雨

C.上旬：中旬：下旬

D.大暑：小暑：处暑

101.十年寒窗：悬梁刺股：囊萤映雪

A.七月流火：以荻画地：临池学书

B.三月肉味：蓝田种玉：程门立雪

C.一寸光阴：凿壁偷光：闻鸡起舞

D.一日三秋：卧薪尝胆：铁杵磨针

102.花：牡丹：玫瑰

- A.茶：红茶：绿茶
- B.草：艾草：蓼草
- C.球：足球：绒球
- D.车：轿车：客车

103. () 对于 裁判 相当于 案件 对于 ()

- A.球员：法庭
- B.黑哨：上诉
- C.比赛：法官
- D.比分：律师

104.了如指掌 对于 () 相当于 () 对于 坚固

- A.知道：铁板一块
- B.明白：坚不可摧
- C.理解：铜墙铁壁
- D.了解：固若金汤

105. () 对于 世味年来薄似纱 相当于 达观 对于 ()

- A.忧郁：前度刘郎今又来
- B.感伤：莫道谗言如浪深
- C.讽刺：道是无情却有情
- D.斥责：金陵王气黯然收

四：定义判断：每道题先给出定义，然后列出四种情况，要求你严格依据定义，从中选出一个最符合或最不符合该定义的答案。注意：假设这个定义是正确的，不容置疑的。

请开始答题：

106.联觉是一种感觉器官受到刺激时引起性质完全不同的其他感觉的现象。它是不同感觉间相互作用的结果，也是一种条件反射现象。联觉现象在所有感觉中都存在，表现有个别差异。在现实生活中，由于某一种事物属性的出现经常伴随着另一种事物属性的出现，这两种事物属性所引起的感觉之间就形成了固定的条件联系。

根据上述定义，下列选项中不属于联觉的是：

- A.嘉嘉看到涂成蓝色的墙壁，浑身充满凉意
- B.各种菜肴香味飘来，小展听到了旋律变化
- C.小刘对人十分热情，人们都说他好像一团火
- D.看到写在纸上的手机号，小夏感到阵阵发麻

107.疼痛共情的偏好性，是指个体对他人疼痛的感知、判断和情绪反应，总是由于个体和他人之间的亲疏远近关系或情感认同程度不同而不同

根据上述定义，下列没有体现疼痛共情的偏好性的是：

- A.小嘉看到《西游记》里的白骨精被孙悟空打死，高兴的跳了起来
- B.小展看到外来游客不幸溺水而死，从此再也不敢去那条河里游泳
- C.小夏在看歌剧《白毛女》时跳上戏台拉住喜儿，不让黄世仁抢走

D.小宇听奶奶回忆自己在旧社会的苦日子时，禁不住潸然泪下

108.印象管理是指人试图控制他人对自己形成的印象的过程，一个人留给他人的印象表明了他人对其的知觉、评价，甚至会使其人形成对其的特定应对方式，因而，为了给他人留下好的印象，得到他人好的评价与对待，人会用一种表演崩溃，包括无意动作不合时宜的闯入、闹剧等。根据上述定义，下列选项提现印象管理运用的是：

- A.沙子龙在夜深人稀时，关好门，舞出一套断魂枪，微微一笑说：“不传不传”
- B.许衡看到人们摘食路边的梨解渴，不为所动，说：“梨虽无主，而吾心有主”
- C.一向沉静温柔的张丽在毕业之际，承受不住与同学离别的感伤，突然嚎啕大哭
- D.岳飞的母亲为了激励岳飞奋抗金，用针在其背上刺了四个字：“精忠报国”

109.热传导是介质内无宏观运动时的传热现象，其在固体，液体和气体中均可发生，但严格而言，只有在固体中才是纯粹的热传导，在液体（泛指液体和气体）中又是另外一种情况，流体即使处于静止状态，也会由于温度梯度所造成的密度差而产生自然对流，因此在流体中热对流与热传导可能会同时发生。

根据上述定义，下列选项不存在热传导现象的是

- A.海洋上层高温水体和下层低温水体因温度差而交换
- B.铁棒的一端放入热水中，另一端温度升高
- C.太阳照射导致地球表面温度升高
- D.往热水中加入冷水，热水变成温水

110.侵蚀作用指风力，流水，冰川，波浪等外力，在运动状态下改变地面岩石及其风化物的过程。侵蚀作用可分为机械剥蚀作用和化学剥蚀作用。根据上述定义，下列选项属于侵蚀作用的是

- A.裸露的人造雕像在长期的风吹日晒雨淋下，会出现机械剥蚀，甚至会出现崩塌碎裂
- B.植物根部在岩缝中向岩石施加物理压力，并提供一个水及化学物的渗透渠道，造成岩石分解开裂。
- C.可溶性石灰岩在流水中部分溶解形成天然溶液而随水流失，造成岩体缩小甚至消失，形成岩溶地貌。
- D.在气温变化突出的地区，岩石中的水分冻融交替，冰冻时体积膨胀，像楔子插入岩体内，导致岩石崩碎

111.亲环境行为是指个体通过减少或消除自身活动对环境的负面影响以达到改善生态系统结构的行为。他的本质是通过有效减轻环境问题实现环境改善，核心任务是构造环境稳态友好型的社会。

根据上述定义，下列选项属于亲环境行为的是？

- A.植树造林 B.低碳出行 C.细水长流 D.围海造田

112.算法歧视是以算法为手段实施的歧视，主要指在大数据背景下、依靠机器计算的自动决策系统在对数据主体作出决策分析时，由于数据和算法本身不具有中立性或者隐含错误，被人为操控等原因，对数据主体进行差别对待，造成歧视性后果。

根据上述定义，下列属于算法歧视的是：

- A.班主任根据学生的入学成绩高低来安排他们的学号
- B.水果商家总是对长期参与团购的客户给予更低价格折扣

- C.某信用评估平台通过用户的网络使用行为来判定其信用值
- D.某招聘网站给男性推送高薪职位的广告次数是女性的6倍

113.外部性是指经济当事人的生产和消费行为对其他经济当事人的生产和消费行为施加的有益或者有害影响的效应。正外部性是指某个经济行为个体的活动使他人或社会受益，而收益者无需花费代价。负外部性是指某个经济行为个体的活动使他人或社会受损，而造成负外部性的人却没有为此承担成本。

根据上述定义，下列选项属于正外部性的是？

- A.经过农田的蒸汽机车，喷出火花飞到农民种植的麦穗上
- B.飞速行驶的火车尖锐的汽笛声，吓跑在农田吃稻谷的小鸟
- C.某工厂在村庄建起了扶贫车间，为村民就近就业提供便利
- D.某工厂排出了大量废水和有害气体，给周围居民带来健康危害

114.错觉是完全不符合刺激本身特征的失真的或扭曲事实的知觉经验。生活中，凭知觉经验所做的解释显然是失真的，甚至是错误的。幻觉是在没有相应的外界客观事物直接作用下发生的不真实感知。幻觉具有与真实知觉类似的特点，但它是虚幻的。正常人在某些特殊的状态下，如强烈的情绪体验并有生动的想象，回忆，或期待的心情，紧张的情绪，或处于催眠状态，都可能会出现幻觉。在入睡或醒觉状态的过程中，也会发生幻觉。

根据上述定义，下列属于幻觉的是。

- A.杯弓有蛇影，草木疑皆兵
- B.必相看两不厌，唯有敬亭山
- C.寝兴目存行，遗音犹在耳
- D.蝉噪林逾静，鸟鸣山更幽

115.社会收缩是指人类聚落中人口持续流失，由此引发相应地区经济社会环境和文化在空间上的衰退这一过程。根据收缩行为，是否使聚落行为主体主动采取的规划策略和管理措施，可以分为主动社会收缩和被动社会收缩。

根据上述定义，下列选项属于主动社会收缩的是

- A.某市因疏解核心区功能导致城区人口下降
- B.2019年我国春运人口迁移规模近30亿人次
- C.某产煤大县因资源枯竭导致就业吸纳能力下降
- D.某制造业基地因产业升级导致房屋空置率居高不下

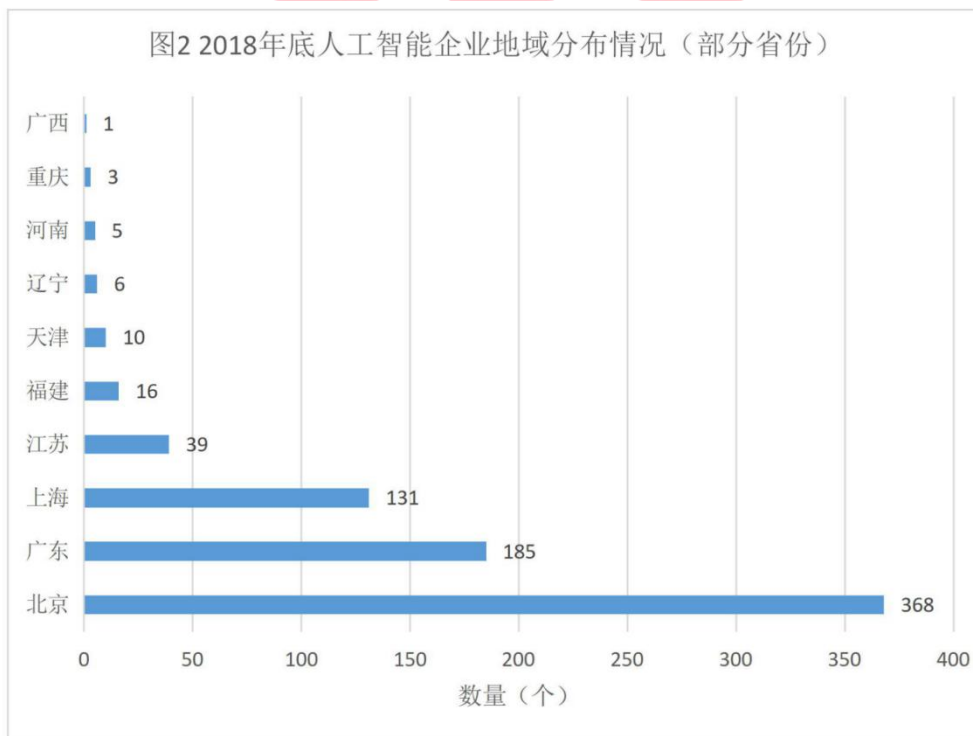
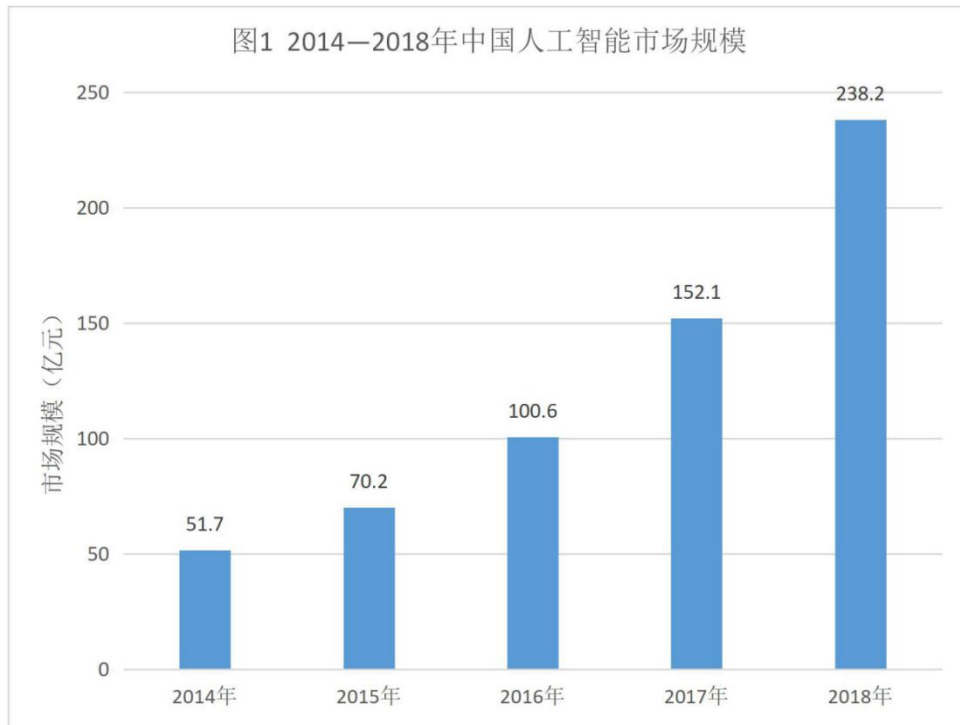
第五部分 资料分析共15题，参考时限15分钟

所给出的图、表、文字或综合性资料均有若干个问题要你回答。你应根据资料提供的信息进行分析、比较、计算和判断处理

请开始答题

根据以下资料，回答116~120题。

截至2018年底，中国人工智能市场规模约为238.2亿元，同比增长率达到56.6%，从中国人工智能企业地域分布情况来看，北京企业数量最多，企业数量为368家；其次为广东，人工智能企业数量为185家；排名第三的是上海，数量为131家。



116.截至 2017 年底，中国人工智能市场规模约为：
A.141.1 亿元 B.152.1 亿元 C.156.1 亿元 D.164.1 亿元

117.2017 年中国人工智能市场规模同比增长率与 2015 年相比约：
A.减少了 13.3 个百分点 B.增加了 13.3 个百分点
C.减少了 15.4 个百分点 D.增加了 15.4 个百分点

118.若按照 2018 年同比增长率，到 2019 年底中国人工智能市场规模约为：

- A.363 亿元 B.371 亿元 C.373 亿元 D.383 亿元

119.图 2 中排名第二的省份，其人工智能企业数量的个数约是排名后四位的数量之和的多少倍

- A.11.3 B.12.3 C.12.8 D.13.3

120. 下列说法正确的是

- A.截止 2018 年底，中国人工智能市场规模每年同比增长率都超过 50%
 B.截至 2018 年底，中国人工智能企业地域分布情况中，广东企业数量最多
 C.截止 2018 年底，中国人工智能企业北京企业数量不超过上海企业数量的 50%
 D.截至 2018 年底，福建人工智能企业的数量等于河南，天津，广西三省企业数量之和

二、根据以下资料，回答第 121-125 题。

2019 年 5 月，全国 12358 价格监管平台受理价格举报、投诉、咨询共计 37576 件同比下降 40.70%环比下降 931%其中，价格举报 4192 件、环比下降 19.06%;价格投诉 2059 件，环比下降 15.92%：价格咨询 31325 件环比下降 7.34%。平台受理量排名前十的省份依次是北京 (5786 件)、江苏 (3528 件)、上海 (2499 件)、重庆 (2486 件)、河南 2469 件)、陕西 (2440 件)、浙江 (2321 件)、天津 ((1571 件)、福建 (1483 件)、广西 (1309 件。平台受理量行业分布如下表所示：

2019 年 5 月全国 12358 价格监督平台受理行业分布

行业	数量 (件)	行业	数量 (件)
停车收费	10043	旅游	459
商品零售	3118	邮政通信	421
交通运输	2730	其他商品价格	206
社会服务	2686	机关收费	172
物业管理	2587	农产品及农资产品价格	157
医药	1790	金融服务	105
资源价格	1760	律师公证认证检测服务	82
房地产	1105	网络服务收费	28
住宿、餐饮	1060	协会社团	3
教育	927	其他	7439
网络购物	694	合计	37576
注：其他行业计入受理总数，但不计入行业排名			

121.2018 年 5 月，平台受理价格举报、投诉、咨询总数约为：

- A.26706 件 B.34376 件 C.41433 件 D.63366 件

122.2019年4月, 平台受理的价格咨询比价格举报约多:

A.26146件 B.27133件 C.28627件 D.29614件

123.2019年5月, 平台受理量排名第二的省份约是排名第九的省份的

A.1.4倍 B.2.4倍 C.3.7倍 D.4.4倍

124.2019年5月, 平台受理量排名前五的行业占受理总数的比重约为

A.46.5% B.51.8% C.56.3% D.61.4%

125.能够从上述资料推出的是

A.2018年5月, 平台受理价格举报数量多于价格投诉数量

B.2019年5月, 平台受理价格咨询数量环比下降幅度最大

C.2019年5月, 平台受理教育行业数量不超过旅游行业的两倍

D.2019年5月, 平台受理量排名前三的省份占总数的比重低于35%

三、根据以下资料, 回答第126-10题。

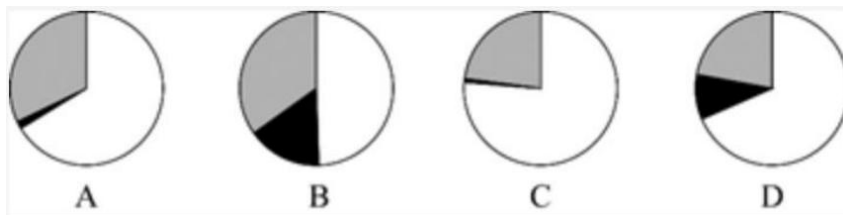
2017年A市现代农业生态服务价值及增速表

指标名称	年值		贴现值	
	2017年 (亿元)	比上年增长 (%)	2017年 (亿元)	比上年增长 (%)
现代农业生态服务价值	3635.46	3.0	10769.36	1.9
一、直接经济价值	372.6	-6.0	372.6	-6.0
1.农林牧渔业总产值	308.32	-8.8	308.32	-8.8
2.供水价值	64.28	10.2	64.28	10.2
二、间接经济价值	1214.15	5.6	1214.15	5.6
1.旅游服务价值	804.78	8.4	804.78	8.4
2.水力发电价值	8.68	-10.1	8.68	-10.1
3.景观增值价值	400.7	0.8	400.7	0.8
三、生态与环境价值	2048.71	3.2	9182.61	1.8
其中:气候调节价值	732.34	5.6	2328.74	2.7
水源涵养价值	287.78	10.2	402.98	7.5
环境净化价值	118.83	-3.3	984.83	0.9
生物多样性价值	670.07	0.3	2898.67	1.2
防护与减灾价值	222.58	0.3	1540.38	1.2
土壤保持价值	3.37	-12.6	9.77	-4.7
土壤形成价值	13.74	1.6	288.54	1.6

126.2016年, A市直接经济价值年值占现代农业生态服务价值年值的比重为

A.8.24% B.11.23% C.11.59% D.15.46%

127.能够正确描述 2017 年 A 市间接经济价值年值中三个指标占比的统计图是：



128.2016 年 A 市旅游服务价值年值比农业牧渔业总产值年值多：

A.494.46 亿元 B.462.79 亿元 C.441.85 亿元 D.404.35 亿元

129.2017 年 A 市生态与环境价值中，年值、贴现值较上年均有所上升的指标有：

A.六个 B.五个 C.四个 D.三个

130.下列 A 市的指标中，2017 年同比增量最多的是：

- A.气候调节价值年值
- B.水源涵养价值年值
- C.水源涵养价值贴现值
- D.生物多样性价值贴现值

2020年江西省考《行测》真题解析（市县级）

1.选D

【解析】：在决战决胜脱贫攻坚座谈会上的讲话，这次会议的主要任务是，分析当前形势，克服新冠肺炎疫情影响，凝心聚力打赢脱贫攻坚战，确保如期完成脱贫攻坚目标任务，确保全面建成小康社会。

2.选C

【解析】：子贡说：“君子的过错就像日食月食一样：有过错时，人人都看得见；改正的时候，人人都仰望着。”

3.选A

【解析】：是长江流域不是黄河流域

4.选A。

【解析】：B不是在杭州而是在北京 C是中国国家开发银行而不是中国人民银行 D不是在泉州而是在福州

5.选C

【解析】：A.防疫有4个等级 B.我国传染病甲级只有鼠疫和霍乱 D应该是在6小时之内而不是两小时。

6.选C。

【解析】：最高获得3W元奖励而不是10W。

7.选D。

【解析】：关键核心技术必须自主可控是习近平总书记关于关键核心技术突破的基本观点。要立足走中国特色自主创新道路、坚持科技创新与制度创新协同发力、持续加强基础研究三个方面，彰显对突破关键核心技术的信心和决心，增强自主创新能力，加快建设创新型国家。没有说要着力引进技术

8.选C。

【解析】：1.是国共十年对峙 1929年写的中写道“风云突变，军阀重开战，洒向人间都是怨，一枕黄粱再现；红旗跃过汀江，直下龙岩上杭，收拾金瓯一片，分田分地真忙。2.是1943年3月，毛泽东在延安曾写一首《五律·海鸥将军千古》：外侮需人御，将军赋采薇。师称机械化，勇夺虎罴威。浴血东瓜守，驱倭棠吉归。沙场竟殒命，壮志也无违。3.是1949年渡江前写的 4.是《六言诗·给彭德怀同志》写于1935年10月21日，吴起镇西山督战，战斗结束，赋此诗赠予彭德怀。

9.选A。

【解析】：资源配置的实质是权衡取舍，即在取舍之间实现利益的最大化。

10.选B

【解析】：A.先适用法律规则，再适用法律原则。C.未必都是同一时期，如民法典公布日期和实施日期不一样。D.新法优于旧法，特别法优于一般法

11.选C

【解析】：而是今天的收盘价高于今天的开盘价是阳线

12.选B

【解析】：发行政府债券不会使群众的来源直接受到影响，主要是调控市场货币的多少。

13.选D

【解析】：《红高粱》是中国作家莫言创作的中篇小说。《红高粱》以抗日战争及20世纪30、40年代高密东北乡的民间生活为背景。高密是在山东省。

14.选 C。

【解析】：A"我思故我在"命题的提出第一次是在他 1637 年出版的《谈谈方法》B.古希腊哲学家亚里士多德（公元前 384—前 322 年）C 亚当斯密（Adam Smith, 1723~1790），是英国古典政治经济学的主要代表人物之一。D 阿基米德（公元前 287 年—公元前 212 年）

15.选 C。

【解析】：《大观茶论》原名《茶论》，为宋徽宗赵佶所著的关于茶的专论，因成书于大观元年（1107）故后人称之为《大观茶论》

16.选 A。

【解析】：A.将官员称呼为大人，是清朝雍正之后的事情了。"大人"多指父母长辈.B.古代普通百姓家女子唤作"媚娘"者也很常见，可视作是一种另类的小家碧玉。因此武则天的"媚娘"只是一种戏称，或者是李世民一时兴起、脱口而出的产物。并不是他的名字。C.朱元璋取此名的目的是为了向人们昭示他登上皇位是奉上天旨意，"奉天而行，非敢自专也"，并把手拿的玉圭也刻上了"奉天法祖"字样。后来，他为了寻找"奉天承运"的有力佐证，还写了《御制纪梦》一文，说自己梦游天宫，见到了"道法三清"，紫衣道人授以真人服饰和法剑。自此，朱元璋便自称"奉天承运皇帝"，所以他颁发的诏书前面都要加上"奉天承运皇帝"六字。明朝才有。D.唐太宗是庙号属于死了之后后面的子嗣给他所加的。

17.选 D。

【解析】：家庙即为祖先立的庙，属于祭祀祖先和先贤的场所。古时有官爵者才能建家庙，作为祭祀祖先的场所。古代，对庙的规模有严格的等级限制。

18.选 C。

【解析】：夜盲症缺少的是维生素 A 鱼类富有丰富的维生素 A，败血症维生素 C 缺乏，需多吃新鲜水果蔬菜；佝偻病缺少维生素 D 多吃牛奶豆制品蛋黄；脚气病缺少维生素 B1 豆类、谷类、硬果类、水果、牛奶和绿叶菜

19.选 D

【解析】：触角是昆虫重要的感觉器官，主要起嗅觉和触觉作用。蚊子追踪的是二氧化碳、汗液里的乳酸以及香.靠的是触角

20.选 C。

【解析】：应激性是指生物体能接受外界刺激产生合目的的反应，使生物体能趋利避害和趋吉避凶。应激性与活动性是生物对自然信息的本能反应。生物体能感受这些变化并做出有利于保持其体内稳态，维持生命活动的应答，称为应激性。生物体内或体外物理或化学变化，如温度、压力的变化，光线的颜色和强度的变化等.C 在同一季节山上气温相对较低，桃树生产迟缓.A.喜鹊和蝉的应激反应 B.雄鸡公鸡的选 D.飞蛾的应激反应

21.选 A。

【解析】：香蕉水是由多种有机溶剂配制而成的无色透明易挥发的液体，对人体有一定毒性，主要成分是有：甲苯、醋酸丁酯、环己酮、醋酸异戊酯、乙二醇乙醚醋酸酯。有机物--酯.微溶于水，能溶于各种有机溶剂，易燃，主要用作喷漆的溶剂和稀释剂。

22.选 B。

【解析】：主要靠铁粉和空气中的氧气发生氧化反应放出热量。水和食盐起帮助铁粉形成微电池加速铁氧化腐蚀的作用，活性炭起分散铁粉透气防结块从而能够达到均衡发热的作用。为了使温度能够持续更长，使用了矿物材料蛭石来保温。所以选 B，D 不是散热而是保温

23.选 B。

【解析】：锂电池的缺点：1、锂电池均存在安全性差，有发生爆炸的危险。所以 2 就错了 2、钴酸锂材料的锂电池不能大电流放电，安全性较差。3、锂电池均需保护线路，防

止电池被过充过放电。4、生产要求条件高，成本高。镍氢电池优点 1、耐过充过放，2、高速放电能力强，3、使用安全，尤其是滥用条件下；4、相对便宜；5 功率密度大缺点电压低，能量密度低。镍镉的特点是“结实”、价格便宜。缺点是，镉金对于环境有污染，电池容量小，专寿命短，所以镍属镉电池是最低档的电池。有记忆效应。每次充电都须先放电，而后充电。

24.选 A。

【解析】：光是沿直线传播的，所以只有 3 个

25.选 C。

【解析】：太过于绝对，应该是有可能减少肥胖。

26.【答案】C

【解析】语句衔接题。横线在中间，起到承上启下的作用，因为横线前是逗号，后面是句号，所以更多的是承接上文。上文的核心话题是：读者只能浏览自己喜欢的内容。所以横线的话题也要围绕“读者的视野很窄”来确定。只有 C 选项符合。

所以，正确答案选 C。

27.【答案】A

【解析】逻辑填空题。考查的是成语辨析。先找到提示信息，横线前后都是顿号，所以与前后的词语“血肉丰满”、“支系发达”形成并列关系，且修饰的主语是“苏区研究”。所以先考虑搭配，A 项“枝繁叶茂”指枝叶繁密茂盛，可用来形容研究的多，保留；B 项“繁花似锦”形容美好的景色和美好的事物。C 项“春色满园”比喻欣欣向荣的景象。均不能用来修饰“研究”，排除；D 项“生机盎然”指充满生气和活力的，不符合文意，排除。

所以，正确答案选 A。

28.【答案】A

【解析】逻辑填空题。考查的是搭配。先找到提示信息，和“监管”搭配，排除 B 项的“薄弱”和 D 项的“缺乏”。留下 A、C。比较“缺失”和“不力”，两者存在程度轻重的区别，“缺失”是没有，而“不力”是有但没有达到标准。文段讲的是农村留守儿童，所以是没有监管，所以用“缺失”，排除 C 项。

所以，正确答案选 A。

29.【答案】B

【解析】逻辑填空题。考查的是成语辨析。先找到提示信息，横线前有个顿号，所以和“异地倾倒”意思相近，就是说把垃圾倒在其他的地区来解决自己地方垃圾多的问题。“以邻为壑”的意思是比喻只图自己一方的利益，而把困难或祸害转嫁给别人。刚好与“异地倾倒”形成对应，符合文意，所以答案为 B。A 项“寡廉鲜耻”指不知羞耻，文段没有羞耻的意思，排除 A 项；C 项“投井下石”。比喻乘人之危，加以陷害。文段没有乘人之危的意思，排除 C 项；D 项“投机取巧”指不愿下苦工夫，凭小聪明侥幸取得成功。文段无此意，排除“D”项。

所以，正确答案选 B。

30.【答案】C

【解析】逻辑填空题。考查的是混合辨析。先看第一空，找到提示信息，和“视线”相对应。A 项“近在咫尺”和 D 项“一步之遥”指的是空间距离很近，不能和“视线”形成对应关系，所以排除 A、D。

B 项“唾手可得”比喻非常容易得到；C 项“触手可及”近在手边，一伸手就可以接触到。因为对应“视线”，伸手就可以接触搭配最恰当，所以正确答案选 C。

31.【答案】B

【解析】逻辑填空题。考查的是成语辨析。先看第一空，找到提示信息“无疑是”表同义互转，所以横线处所填成语修饰的是“国学停留在浅层次”。表示国学还存在浅薄的问题。A 项“刻舟求剑”比喻拘泥成例，不知道跟着情势的变化而改变看法或办法。B 项“买椟还珠”比

喻取舍不当，抓了次要的，丢了主要的。C项“缘木求鱼”比喻方向、方法不对，一定达不到目的。D项“掩耳盗铃”比喻自己欺骗自己。只有B“买椟还珠”是问题的表述与“浅层次”相对应。所以正确答案选B。

32. 【答案】B

【解析】逻辑填空题。考查的是实词辨析。先看第一空，根据提示信息：“.着中华民族最深沉的精神追求”可知，搭配的是“精神”，A项“沉淀”、B项“积淀”符合文意，C项“积聚”、D项“积蓄”都不能与“精神”搭配，排除。再看第二空，与“提供”搭配，排除A项“润泽”，润泽是使滋润的意思，不能与“提供”搭配。“提供滋养”搭配恰当。所以正确答案为B。

33. 【答案】D

【解析】逻辑填空题。考查的是实词辨析。先看第一空，根据提示信息：“未来30年里防洪设施”可知，考查搭配。A项“修建”施工的意思（多用于土木工程），不能与文中的防洪设施搭配，排除；B项“兴建”开始建筑（多指规模较大的），排除，因为文中的建设都是未来的，并没有开始，所以“兴建”不符合文意。再看第二空，对比“设想”与“构想”，“设想”是想象、假想的意思；“构想”是构思，形成的想法。根据文中的提示信息：“包括..”可知，这个想法是已经形成了，并不是想象，所以要优先选择“构想”。所以正确答案为D。

34. 【答案】B

【解析】逻辑填空题。考查的是成语辨析。先看第一空，横线后为提示信息：中国格律诗达到无法超越的地步。A项“叹为观止”指的是赞美看到的事物好到了极点。文段中没有赞美赞叹的意思，排除。B项“登峰造极”比喻达到极高的水平。符合文意。C项“无出其右”指的是没有能超过他的。只能用于形容人，排除。D项“无与伦比”指的是没有能够比得上的，好到了极点，一般用于形容艺术品、工艺品等，排除。所以正确答案为B。

35. 【答案】D

【解析】逻辑填空题。考查的是词语辨析。先看第一空，通过提示信息：“毛发与墙壁”可知，用“接触”是最恰当的。A项的“粘连”指的是粘在一起，壁虎的毛发并没有与墙壁粘在一起，排除。C项的“贴合”指的是贴切吻合，两个物体的触碰没有吻合之意，排除。再看第二空，“零重力”是没有重力的意思，与文段意思相反，排除，所以正确答案为D。

36. 【答案】D

【解析】逻辑填空题。考查的是成语辨析。先看第一空，找到提示信息：“仰望”，只有选项D“可望而不可即”有此意思，答案为D。A项“海水不可斗量”比喻不可根据某人的现状就低估他的未来。B项“百思不得其解”指百般思索也无法理解。C项“夏虫不可语冰”比喻时间局限人的见识，也比喻人的见识短浅。均不符合文意，排除。所以正确答案为D。

37. 【答案】B

【解析】逻辑填空题。考查的是成语辨析。先看第一空，找到提示信息：“上至三代遗风，下传道光年间”说明这种礼仪是从古传承到今的。A项“如出一辙”没有传承的意思，排除；B项“一脉相承”一脉相传，传承的意思，符合文意；C项“一脉相通”指事物之间相互关联，犹如一条脉络贯穿下来可以互通。强调互通，文段无此意，排除；D项“衣钵相传”比喻技术、学术的师徒相传。文段的主语是文化，不符合搭配，排除。所以正确答案为B。

38. 【答案】D

【解析】逻辑填空题。考查的是词语辨析。先看第一空，找到提示信息：“....的风景”考查搭配，排除A、B，因为“渲染”一般是搭配气氛，“衬托”一般指把另一些事物放在一起来陪衬或对照，不搭配“风景”。

再看第二空，主语是“艺术桥”所以用“存续”，而“持续”一般修饰抽象事物，如文化、经济等。所以正确答案为D

39. 【答案】B

【解析】逻辑填空题。考查的是混合辨析。突破口在第二空，找到提示信息：“直到今天，考古界才确定它就是一种小火锅”。可知以前是一直不知道其用途的。所以第二空，要填“迷惑不解”，故答案为B。A项孜孜以求“不知疲倦地探求，形容勤勉的样子。不符合文意，排除；C项“朝思暮想”侧重很想，排除；D项“潜精研思”强调专心专研，排除。

所以正确答案为B。

40. 【答案】D

【解析】逻辑填空题。考查的是成语辨析。先看第一空，找到提示信息，有个转折词“而”说明前后意思相反。横线前说的是“篇幅冗长”，所以要填的词为简短的意思。A项“一语双关”没有简短的意思，排除。再看第二空，所填的意思为“比不上”，B项“无与伦比”程度太重，且一般修饰工艺品，排除；C项“相形见绌”指的是跟另一人或事物比较之后，显出了不足，文中无此意，排除。D项“无可比拟”指的是没有可以与之相比的，符合文意。

所以正确答案为D。

41. 【答案】A

【解析】逻辑填空题。考查的是实词辨析。先看第一空，找到提示信息：“...小鼠肠道炎症”。搭配的是炎症，炎症是一种病理反应，只能用“轻重”来形容。所以确定答案为“减轻”，选项A正确。B项“减少”是多少的问题；C项“减弱”是强弱的问题；D项“减缓”是快慢问题，均不符合文意，排除。

所以正确答案为A。

42. 【答案】D

【解析】逻辑填空题。考查的是实词辨析。先看第一空，找到提示信息：“...四时特性的养生疗法”。搭配的是疗法，“适应”和“服从”一般修饰的是人或环境，不能搭配“疗法”，所以排除A、C。再看第二空，“避免”设法不让某事出现。“预防”是事先防备。由横线前“趁其发作缓解季节”可知，起到的是预防作用，所以优选D项的“预防”。

所以正确答案为D。

43. 【答案】C

【解析】逻辑填空题。考查的是实词辨析。先看第一空，找到提示信息：“资本得到巨大的”。修饰的是“资本”，D项“积攒”搭配不当，排除。再看第三空，同样修饰的是“资本”，A项“组合”不符合文意，排除。再看第三空，由前面的提示信息：“中国的落后地位”可知，中国的地位发生了本质上的变化，用“逆转”更恰当，所以排除B项。所以正确答案为C。

44. 【答案】B

【解析】逻辑填空题。考查的是实词辨析。第三空为突破口，找到提示信息：“以传统农业文明为特征的村庄文化正在大面积..”。修饰的是“文化”，只能用“式微”，泛指事物衰落。A项的“消失”和C项的“衰亡”程度太重，排除；D项的“凋零”一般指人的死伤离散，不能与“文化”搭配，排除。所以正确答案为B。

45. 【答案】C

【解析】逻辑填空题。考查的是混合辨析。先看第一空，根据提示信息：“生活条件越来越好，对旅游...的要求也越来越高”可知，是人的生活水平高了影响到了旅游的品质。所以A项的“质量”和C项的“品质”符合文意。而B项的“环境”、D项的“生态”没有对应信息，排除。再看第二空，提示信息为“到此一游”，“浮光掠影”指的是人不动景象从脑海闪过，没有留下印象。而“走马观花”指的是人走得太快没有看清景物。文中是在旅游，所以不可能人不动，所以排除A项的“浮光掠影”。验证第三空，“应运而生”指的是顺应时机而产生，符合文意。

所以正确答案为C。

46. 【答案】C

【解析】逻辑填空题。考查的是实词辨析。先看第一空，根据提示信息：“…经济增长和发展的关键”可知，C项“触动”不能与“经济增长与发展”搭配，排除选项C。再看第二空，根据提示信息：“关键”可知，B项“要点”与“关键”重复，排除。再看第三空，“产生”与“内生”意思上都可以，但根据提示信息：“…于经济转型升级中”的“…中”可知，用“内生”更符合文意，故最优选项为C。所以正确答案为C。

47. 【答案】C

【解析】主旨理解题。先找到文段的重点句，重点句为：“所以有必要坚持独立的中国立场。”匹配重点句意思，选择答案为C。A、B、D均没有论及核心话题“坚持独立立场”，排除。

所以正确答案为C。

48. 【答案】C

【解析】细节理解题。先看问题，选择正确项。第一步，看选项明确特征。A项“神经元越多维度越高意识越复杂”对应文段尾句，但“意识越复杂”属于无中生有，排除。B项“团块、空洞相互连接，施压方式促进人思考”对应文段第二句话“这些团块或空洞…做出了反应”表述恰当。C项“神经元高度反应取决于大脑功能”对应文段第二句话“这些团块或空洞…做出了反应”取决于大脑功能表述错误，排除。D项“最高时可在11个维度上运行”对应文段最后一句。原文没有在11个维度上运行，无中生有，排除。

所以正确答案为C。

49. 【答案】A

【解析】主旨理解题。先找文段重点句，文段为总-分结构。第一句即为观点句：水熊能在各种极端环境下存活。第二句为举例论证，非重点。第三、四、五句都是在阐述水熊能够在极端环境存活的原因。原因和例子都是为观点服务的，均为非重点。

所以正确答案为A。

50. 【答案】D

【解析】细节理解题。先看问题，选择正确项。第一步，看选项明确特征。A项“黑天鹅”是指破坏力不强的小概率事件。“通过文段第四句：“它们并非发端于不可预测的小概率事件”可知，选项A错误，排除。

B项“都是严重的无法防范的事件”通过文段尾句：“这些风险…最终升级为全面的系统性危机”可知，并不是无法防范的，选项B错误，排除。

C项“许多黑天鹅事件背后隐藏着灰犀牛危机”找不到对应，无中生有，排除。

D项“黑天鹅和灰犀牛没有明显区别，一定条件下可以相互转化”通过第三句：“很多危机事件…更像灰犀牛”可知它们是类似的，表述正确。所以正确答案为D。

51. 【答案】D

【解析】主旨理解题。先找文段重点句，文段为并列结构。通过两项研究论述火星表面对于细胞非常危险。只有D选项讲到了火星与生命的关系，所以答案为D。A项没有主体词：火星，直接排除；B项“消毒”无中生有，排除；C项“火星自身有杀菌能力”非重点，重点为火星不适宜生命活动，排除。

所以正确答案为D。

52. 【答案】B

【解析】道理启示题。上课讲过的：找到故事的结果，以结果为导向推原因，原因就是答案。故事的结果是：只有最后的学生摘到了很大的麦穗，让人满意。这个结果的原因是最后这个学生即没有总想着前面的更好，也没有急急忙忙的摘眼前的。强调的是机会的重要性。只有B选项讲到了“机会”，所以答案为B。

所以正确答案为B。

53. 【答案】 C

【解析】主旨理解题。先找文段重点句，文段为分-总-分结构。重点由转折词“可是”引导：“可是一旦他有了初步的构思，总能在《唐宋词格律》这部书里得到适当的帮助”，匹配核心话题，C项正确。B、D没有主体词《唐宋词格律》，直接排除，A选项“适合初学者使用”无中生有，排除。

所以正确答案为 C。

54. 【答案】 D

【解析】主旨理解题。先找文段重点句，文段为分-总结构。重点为文段尾句：“滥用话语权的后果。”匹配核心话题，D项正确。A、B、C均为非重点，排除。

所以正确答案为 D。

55. 【答案】 D

【解析】主旨理解题。先找文段重点句，文段为分-总-分结构。重点句为：“这标志着……实验装置。”匹配核心话题，选项 D 为正确答案。A、B 选项没有主体词“人造太阳”直接排除；C 选项“短期难以真正建成”无中生有，排除。

所以正确答案为 D。

56. 【答案】 D

【解析】本题为细节理解题。从“对于症状程度较轻的患者……但将药物治疗与心理治疗结合起来才是治疗社交恐惧症最有效的方法”可知，D项说法正确。

A项属于偷换概念，文段说的是“社交恐惧症是焦虑症障碍的一个重要亚型”，排除；B项文段未提及，无中生有，排除；项，文段“大多数社交恐惧症患者都起病于青少年时期”，并不能推出“中老年人不会成为社交恐惧症患者”，排除。故正确答案为 D 项。

57. 【答案】 D

【解析】本题为细节理解题。从“志愿者爱睡前佩戴三小时防蓝光眼镜，发现其晚间褪黑色激素水平整体上升了大约 58%”“志愿者感觉睡眠质量改善，入睡更快，整体睡眠时间延长”可推出 D 项。而 C 项“不佩戴防蓝光眼镜会使褪黑色激素水平整体上升”无法推出；“人造蓝光”会激活对褪黑色素有抑制作用的内在光敏视网膜神经节细胞，从而干扰睡眠”，可推出“电子设备”可以发出蓝光，从而减少“褪黑色激素的分泌”，进而“干扰睡眠”，即 A 项不符，排除；“最大的蓝光光源是日光”，会“激活内在的光敏视网膜神经节细胞”，故 B 项不符，排除，故正确答案为 D 项。

58. 【答案】 B

【解析】本题为细节理解题。文段首先说“此前研究认为”，“冰行星或冰卫星”随着恒星辐射增强，其地表冰雪最重会融化形成液态水，从而适宜生命生存”，接着通过“不过”这个转折，说明“最新研究证明”，“随着恒星辐射增强”，“液态水无法存在”，可知，B 项符合文意。

A 项，文段未提及，无中生有，排除；通过“冰行星或冰卫星地表原本被冰雪覆盖”和“其地表冰雪最终会融化形成液态水”可知，C 项不符合文意，排除；D 项文段未提及，无中生有，排除。故正确答案为 B 项。

59. 【答案】 C

【解析】本题为主旨理解题。文段首句引出“干细胞疗法”话题，接着通过“专家指出”，引出问题，即“直接向患者打广告称可治愈疾病”没有实际的证据表明能达到这个效果。接着引出对策，即文段的重点句：“在这种情况下，处理相关广告十分必要”。接着进一步论证处理相关广告的必要性：“许多潜在的干细胞疗法仍处于研发的最初阶段……，需要通过严格的临床试验和监管手续来确定其是否安全有效”，文段未分总分结构，C 项与重点句相符。

A 项属于无中生有，排除；B 项和 D 项为问题表述，不是文段重点，均排除；故正确答案

为C项。

60. 【答案】B

【解析】本题为细节理解题。通过“人之所以能够看到物体，是因为物体阻挡住了光波的通过”可知，B项符合文意。通过“隐身衣使用的超材料，可以让雷达波、光线或其他波绕过物体而不会被反弹”可知，A项，不是“让光线穿透自身”而是“绕过”，D项不是“能够反弹”，而是“不会反弹”，两个选项均偷换概念，均排除；“隐身衣首先应用于军事领域，提高作战的隐蔽性和安全性”可知，C项属于无中生有，排除。故正确答案为B项。

61. 【答案】B

【解析】本题为主旨理解题。文段通过技术是“双刃剑”，需要应用得当，引出网络安全问题，接着通过反面论证说明信息时代网络安全的重要性，接着提出问题网络安全问题普遍，最后通过“可见”，引出对策，及文段的重点句：“信息化应用越深入，就越要重视信息安全问题”，B项为重点句的同义替换，故选B项。

A项，文段未提及“完善法律法规”，无中生有，故排除；C项，未提及“降低信息化应用成本”，无中生有，排除；D项，文段未提及“加强信息技术手段”，无中生有，排除。故正确答案为B项。

62. 【答案】B

【解析】本题为下文推断题。文段尾句的话题是孩子情商的培养需要家长在日常生活中进行，那接下来最有可能讲述的就是家长如何在日常生活中去培养孩子的情商，只有B项符合。A项和C项与尾句话题不一致，D项与文段话题不一致，均排除。故正确答案为B项。

63. 【答案】A

【解析】本题为语句排序题。先观察选项辨析首句。②句引出“语言”和“文化”的关系话题，④句在具体阐述“语言”中隐含“群体价值观念”，即“文化”，所以②句比④句更适合作首句，排除B、D项。接着定捆绑，⑤句说的“语言”是“思想工具和交际工具”，也是在说语言的作用，同时“也”字表明前面一定有同样的说明语言作用的句子，而②句是探讨“语言”和“文化”的关系，所以②⑤不适合捆绑在一起，①句说的是“语言”是“符号体系”，即语言的文化作用，①⑤在说同一话题，适合捆绑。故排除C项，正确答案为A项。

64. 【答案】C

【解析】本题为标题选择题。文段首句即提出观点：“嗜糖之害，甚于吸烟，长期食用含糖量高的食物会使人的寿命明显缩短”，接着通过举例论证“人们对糖的消耗量居高不下”，从而得出结论：“痛快吃糖的同时，糖也在悄无声息‘吃掉’我们的健康”，文段是总分总结构，两个总句都在说明同一观点：嗜糖危害身体健康，对应选项C。

A项不符合重点句的意思，排除；B项文段没有提及“减糖行动”，无中生有，排除；D项文段也未提及“低糖饮食”，属于过度引申，排除。故正确答案为C项。

65. 【答案】D

【解析】本题为标题选择题。文段首先通过传统媒体引出“算法”话题，提出“算法推荐”这种“媒体技术变革”所带来的影响，接着提出解决“算法焦虑”的对策，即文段的重点句：“面对全媒体时代，我们需要用主流价值纾解‘算法焦虑’……让舆论天空更清朗、舆论生态更健康”，即对应D选项。

A项并不是为“传统媒体内容”，而是“新媒体内容”，偷换概念，排除；B项纾解的不是“新媒体内容生产和传播中的技术问题”，而是“算法焦虑”，无中生有，排除；C项非“主流媒体”而是“新媒体”，且片面，与重点句不符，排除。故正确答案为D。

66. 【答案】B，几何问题

【解析】列表法，如下：

	上底	下底	高
原本	a	b	h
①	a+1	a+1	h
②	a+1	2b	h

根据题意有：

$$\begin{cases} \frac{a+1+b+1}{2} \times h - \frac{a+b}{2} \times h = 10 \dots\dots ① \\ \frac{2a+b+1}{2} - \frac{a+b}{2} \times h = 55 \dots\dots ② \end{cases}$$

解得 $h=10, a=10, b=20$ ，所以原来的

面积为 $\frac{10+20}{2} \times 10 = 150$ ，现上底增加 1 倍多 2 米，下底增加 3 倍多 4 米，此时的面积为 $\frac{20+2+80+4}{2} \times 10 = 630$ ，比原来增加了 $630-150=380$ ，答案选 B。

67. 【答案】C，行程问题一等距离平均速度。

【解析】返回前后，上坡和下坡的路程相等（上坡变下坡，下坡变上坡），平均速度为 $\frac{2 \times 6 \times 18}{6+18} = 9$ ，又平路的速度为 9，所以整体的平均速度还是 9，根据路程=速度 x 时间，则有全程为 $9 \times 1 \div 2 = 4.5$ 千米。

68. 【答案】A，倍数特性。

【解析】三人总共购买了 100 元，甲付款后，甲是乙、丙之和的 $\frac{2}{13}$ ，即三人总钱数满足减 100 能被 15 整除，乙付款后，乙是甲丙之和的 $\frac{9}{16}$ ，三人总钱数满足减 100 能被 25 整除，丙付款打九折，只需要付 90 元，此时丙是甲乙之和的 $\frac{1}{3}$ ，即总钱数满足减 90 能被 4 整除，综上，只有 A 选项符合，答案选 A。

69. 【答案】D，概率问题。

【解析】10 个人中有 6 个特种兵，剩下 4 为非特种兵，从里面选出 5 个人至少有 3 特是特种兵，概率为 $\frac{C_6^3 \times C_4^2 + C_6^4 \times C_4^1 + C_6^5}{C_{10}^5} = \frac{20 \times 6 + 15 \times 4 + 6}{10 \times 9 \times 8 \times 7 \times 6} = \frac{31}{42}$ 答案选 D。

70. 【答案】。

【解析】根据题可知编号 1-9，总和为 45，为 3 的倍数，又有最大和为最小和的两倍，即两组的和为 3 的倍数，D 项 13，不是 3 的倍数，则剩下两组之和不为 3 的倍数，那 13 必为其中最大或最小的一组，13 为奇数，不可能为最大，若最小则另一组为 26，此时剩下一组和为 $45-13-26=6$ ， $6 < 13$ 矛盾，故答案选 D。

71. 【答案】C，排列组合题。

【解析】先判断是排列还是组合，判断依据为是否有顺序之分，不同的人去不同的地方为有顺序之分，为排列。先分配水果，再定配送顺序，有 $C_6^1 \times C_5^2 \times C_3^3 \times A_3^3 = 6 \times 10 \times 6 = 360$ 答案选 C。

72. 【答案】B，排列组合问题。

【解析】根据题干要求，有观看视频和阅读文章不相邻，采用插空法先排列其他 3 种学

习内容，再将不相邻的两种插空到排列好的元素中间，方法数有： $A_3^3 \times A_4^2 = 72$ 种，故正确答案为 B。

73. 【答案】A，排列组合问题。

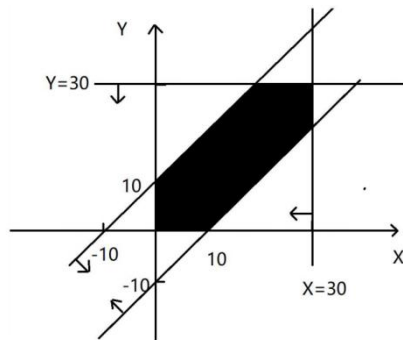
【解析】根据题干要求，将八个协管员名额分配到 4 个路口，最少分一个，可采用隔板法，则方法数为 $C_7^3 = 35$ 种，故答案选 A。

74. 【答案】A，概率问题。

【解析】根据题干要求，6 棵树分 3 个人修剪，每人至少修一颗，可采用隔板法，则总的方法数为 $C_5^2 = 10$ 种，满足条件的分组有 1、1、4；1、2、3；2、1、3 三种情况，则概率为 $\frac{3}{10}$ ，故答案选 A。

75. 【答案】C，概率问题。

【解析】根据题干要求，两人约定在 9:30—10:00 之间到达，即 30 分钟内，假设职工和快递员到达的时间分别为 x, y ，则有 $0 \leq x \leq 30, 0 \leq y \leq 30$ ，且 $|x-y| \leq 10$ ，则 $y \geq x-10$ 或 $y \leq x+10$ ，线性规划绘制坐标图易得概率为 $\frac{5}{9}$

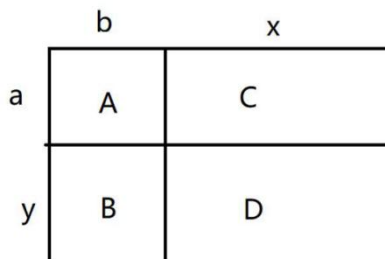


76. 【答案】C，统筹优化问题

【解析】采取支点法，最终可知应集中到 C，所需费用最少。

77. 【答案】C，最值问题。

【解析】根据题意，设矩形对应的几条边长度分别为 a, b, x, y ，根据题干 A 的周长为 20，则有 $a+b=10$ ，同理 $b+y=12, a+x=14$ ，推出 $x+y=16$ ，要使面积最大则 x, y 尽可能接近，即 $x=y=8$ ，此时面积为 64 平方米，故答案选 C。



78. 【答案】D，最不利原则。

【解析】根据题可知，最比例的情形时把月季花、牡丹花各 20 盆都搬出，此时再搬 1 盆必为郁金香，故答案选 D。

79. 【答案】C，几何问题。

【解析】圆锥的体积公式为 $V = \frac{1}{3}S \cdot h = \frac{1}{3}\pi \cdot r^2 \cdot h$ ，装进圆柱形容器后体积不变，圆柱体积为 $V = S \cdot h = \pi \cdot r^2 \cdot h$ ，则有 $\frac{1}{3} \times \pi \times 10^2 \times 6 = \pi \times 5^2 \times h$ ，解得 $h=8$ ，故答案选 C。

80. 【答案】D。

【解析】假设总共有 x 量车，可以根据总人数不变列方程，则有 $5x+4=4x+8$ ，解得 $x=12$ ，故答案选 D。

81. 【答案】

【解析】粗线条/生活化图形常考开闭性，①⑤⑥为封闭图形，②③④为开放图形，故答案选 A。

82. 【答案】D

【解析】考察对称性，①②④为轴对称图形，③⑤⑥为中心对称图形，故答案选 D。

83. 【答案】C

【解析】图形凌乱且交点明显，优先考虑数点，题干图形交点数量依次为 2、3、4、5、6，故问号处应为交点数为 7 的图形，只有 C 选项符合，故答案选 C。

84. 【答案】C

【解析】九宫格优先横看，图一到图二顺时针旋转 90° ，图二到图三左右翻转，故答案选 C。

85. 【答案】C

【解析】根据图形凹凸一致原则，答案选 C。

86. 【答案】C

【解析】题干翻译：创造且-放弃→陷入危机；A 项淘汰偷换概念；B 项肯前不一定；D 项肯定“创造”无法推出；C 项肯前可能推出，故答案选 C。

87. 【答案】B

【解析】B 项根据文段最后一句话可推出。

88. 【答案】C

【解析】题干推理结构为肯前推出肯后，A 项肯前推出肯后；B 项肯后推出肯前；D 项肯后推出肯前；只有 C 选项符合，故答案选 C。

89. 【答案】B

【解析】B 项明确指出不加食品添加剂不易保鲜引发中毒，可加强论点。

90. 【答案】B

【解析】B 项另有他因削弱，说明不是饮食习惯改变而是缺乏锻炼造成的体重上升。

91. 【答案】C

【解析】C 项岛居物种不同差异大举例说明陆地物理布局造成物种多样化。

92. 【答案】B

【解析】B 项建立联系。该项指出性别是由孵化时温度决定的，建立了论据和论点之间的关联，具有加强作用。

93. 【答案】D

【解析】珠峰海拔 7000 米以上高峰没有融化迹象说明珠峰不会加快融化也不可能最终消失，可以削弱论点。

94. 【答案】D。

【解析】D 项可根据文段最后一句话推出。

95. 【答案】D

【解析】题干论点是发射日期在两年后，论据是发射需要特定角度，论据论点话题不一致，寻找搭桥作前提，D项特定角度需要在26个月内在两者间搭桥，故答案选D。

96. 【答案】 C

【解析】"鲜花"和"塑料花"属于并列关系，"塑料花"是根据"鲜花"制作的。

C项："原本"和"复印本"属于并列关系，且"复印本"是根据"原本"复制的，与题干逻辑关系一致，符合；

97. 【答案】 C

【解析】鸳鸯是并列关系，一雌一雄，雄鸡和雌鸡也是并列关系，一雌一雄。

98. 【答案】 D

【解析】牡丹是洛阳的代表花，洛阳和郑州都是河南的城市且郑州是省会。凤凰花是厦门代表花，厦门和福州都是福建的城市且福州是省会。

99. 【答案】 A

【解析】空运和海运是两种不同的运输方式，并且都是动词。平装和精装是两种不同的装帧方式，也是动词。

100. 【答案】 C

【解析】初伏、中伏、末伏是三伏天，并且符合先后顺序。上旬、中旬、下旬也是一个月的三个阶段，也符合先后顺序。

101. 【答案】 C

【解析】十年寒窗、悬梁刺股、囊萤映雪都是形容刻苦读书，近义词。一寸光阴、凿壁偷光、闻鸡起舞也是讲的珍惜时间学习。

102. 【答案】 B

【解析】牡丹和玫瑰都是一种花。艾草和蓼草都是一种草。注意红茶和绿茶是一类茶，不是具体的一种茶。

103. 【答案】 C

【解析】裁判把控比赛，法官把控案件。

104. 【答案】 D

【解析】了如指掌指的是十分了解和清楚，固若金汤讲的是十分坚实。

105. 【答案】 B

【解析】世味年来薄似纱表达的是一种伤感之情。莫道谗言如浪深讲的是历经坎坷斗志不衰，精神乐观，胸怀旷达。

106. 【答案】 C

【解析】C项对人热情不属于感觉器官的刺激，答案选C。

107. 【答案】 B

【解析】B项小张不敢去不属于对他人疼痛的感知，答案选B。

108. 【答案】 B

【解析】A项夜静人稀不存在给他人印象；C项感伤不存在形象；D项岳母刺字不是岳飞表现形象；B项不为所动体现了对他人表现自己的形象，符合定义，答案选B。

109. 【答案】 A

【解析】A项温度差造成的对流属于热对流，不符合热传导，答案选A。

110. 【答案】 C

【解析】A人造雕塑 B植物根部不是地面岩石，D项气温变化不属于题干所说外力，排除，故答案选C。

111. 【答案】 B

【解析】A项植树造林不符合减少自身活动带来的负影响，C①不是对环境友好，故答

案选 B.

112. 【答案】 D

【解析】 网站给男性与女性推荐高薪岗位差异属于算法歧视, B 项属于优惠。

113. 【答案】 C

【解析】 C 项某工厂, 符合“某个经济行为个体”, 在村庄建起了扶贫车间, 为村民就近就业提供方便, 体现了“使他人或社会受益, 而受益者无需花费代价”, 符合定义;

114. 【答案】 C

【解析】 A 项杯弓蛇影属于错觉, C 项遗音犹在属于幻觉, BD 只是感觉。

115. 【答案】 A

【解析】 A 项疏散属于主动管理引起的人口流失; B 项迁移不是人口流失; C 项由于自然因素造成的属于被动收缩; D 项房屋空置率高不代表人口降低。

116.B. 则截至 2017 年底, 中国人工智能市场规模为 $\frac{238.2}{1+56.6\%}=152.1$ 亿元

117.D. 2017 年中国人工智能市场规模同比增长率比 2015 年增长

$\frac{152.1}{100.6} - \frac{70.2}{51.7} = 1.512 - 1.358 = 15.4$ 个百分点。

118.C. 2019 年底中国人工智能市场规模约为 $238.2 * (1+56.6\%) = 373$ 亿元。

119.B. 人工智能企业数量排名第二的省份是广东省 (185 个), 排名后四位的分别为辽宁 (6 个)、河南 (5 个)、重庆 (3 个)、广西 (1 个)。则排名第二的省份人工智能企业数量

是排名后四位的 $\frac{185}{6+5+3+1} = \frac{185}{15} = 12.3$ 倍

120.D. A 选项, 2015 年中国人工智能市场规模同比增长 $\frac{70.2-51.7}{51.7} = \frac{18.5}{51.7} = 36\% < 50\%$, 错误;

B 选项, 截至 2018 年底, 中国人工智能企业地域分布情况中, 北京企业数量最多, 错误;

C 选项, 截至 2018 年底, 中国人工智能企业北京数量是上海的 $\frac{368}{131} = 2.8$ 倍, 超过 50%, 错误;

D 选项, 截至 2018 年底, 福建人工智能企业数量为 16 个, 等于河南 (5 个)、天津 (10 个)、广西 (1 个) 三省企业数量之和, 正确。

121.D. 2018 年 5 月, 平台受理价格举报、投诉、咨询总数为 $\frac{37576}{1-40.70\%} = 63366$ 件。

122.C. 2019 年 4 月平台受理的价格咨询比价格举报多 $\frac{31325}{1-7.34\%} - \frac{4192}{1-19.06\%} = 33800 - 5200 = 28600$ 件。

123.B. 2019 年 5 月, 平台受理量排名第二的省份是江苏 (3528 件), 排名第九的是福建 (1483 件)。则排名第二省份是第九省份的 $\frac{3528}{1483} = 2.4$ 倍

124.C. 2019 年 5 月, 平台受理量排名前五的行业占受理总数的

$\frac{10043+3118+2730+2686+2587}{37576} = \frac{21164}{37576} = 56.3\%$ 。

125.D. A 选项, 2015 年中国人工智能市场规模同比增长 $\frac{70.2-51.7}{51.7} = \frac{18.5}{51.7} = 36\% < 50\%$, 错

误:

B 选项，截至 2018 年底，中国人工智能企业地域分布情况中，北京企业数量最多，错误:

C 选项，截至 2018 年底，中国人工智能企业北京数量是上海的³⁶⁸ $\frac{131}{100}=2.8$ 倍，超过 50%，错误:

D 选项，截至 2018 年底，福建人工智能企业数量为 16 个，等于河南 (5 个)、天津 (10 个)、广西 (1 个) 三省企业数量之和，正确。

126.B. 2016 年，A 市直接经济价值年值占现代农业生态服务价值年值的比重为

$$\frac{372.60}{3635.46} \times \frac{1+3.0\%}{1-6.0\%} = 10.25\% \times \frac{1+3.0\%}{1-6.0\%} = 11.23\%$$

127.A. 2017 年 A 市间接经济价值年值分别为：旅游服务价值 (804.78 亿元)、水力发电价值 (8.68 亿元)、景观增值价值 (400.70 亿元)。其中，旅游服务价值是景观增值价值的 $\frac{804.78}{400.70} = 2$ 倍，A 选项符合。

128.D. 2016 年，A 市旅游服务价值年值比农林牧渔业总产值年值多

$$\frac{804.78}{1+8.4\%} - \frac{308.32}{1-8.8\%} = 742 - 338 = 404 \text{ 亿元。}$$

129.B. 2017 年 A 市生态与环境价值中，年值、贴现值较上年均有所上升的指标有：气候调节价值、水源涵养价值、生物多样性价值、防护与减灾价值、土壤形成价值，共 5 个。

130.A. 根据“一大一小看乘积”，2017 年气候调节价值年值 $732.34 * 5.6\% = 41$; 水源涵养价值年值 $287.78 * 10.2\% = 29$; 水源涵养价值贴现值 $402.98 * 7.5\% = 30$; 生物多样性价值贴现值 $2898.67 * 1.2\% = 35$ 。则 2017 年同比增量最多的是气候调节价值年值。