

展鸿 2022 年湖北公务员录用考试笔试试卷

《行政职业能力测验》模拟卷（一）

第一部分 常识判断

（共 20 题，参考时限 10 分钟）

根据题目要求，在四个选项中选出一个最恰当的答案。

请开始答题：

1. 党的十九届四中全会指出，要坚持和完善人民当家作主制度体系，发展社会主义民主政治。下列关于坚持和完善社会主义民主政治具体措施说法错误的是（ ）。
 - A. 坚持和完善人民代表大会制度这一根本政治制度
 - B. 坚持和完善中国共产党领导的多党合作和政治协商制度
 - C. 坚持和完善共建共治共享的社会治理制度
 - D. 坚持和完善民族区域自治制度
2. 2021 年 3 月 25 日，国务院印发《国务院关于落实〈政府工作报告〉重点工作分工的意见》，下列有关说法错误的是（ ）。
 - A. 落实 2021 年经济社会发展，要以满足人民日益增长的美好生活需要为根本目的
 - B. 发展疾病防治攻关等民生科技由科技部、国家发展改革委、国家卫生健康委牵头
 - C. 2021 年赤字率拟按 3.2%左右安排、比去年有所下调，继续发行抗疫特别国债
 - D. 完善和落实安全生产责任制，深入开展安全生产专项整治三年行动
3. 我国最高荣誉体系中有“五章一簿”，下列关于它们首次颁授时间对应错误的是（ ）。
 - A. “七一勋章”——2021 年 7 月
 - B. “国家荣誉称号”——2019 年 9 月
 - C. “共和国勋章”——2019 年 9 月
 - D. “友谊勋章”——2018 年 6 月
4. 2021 年《政府工作报告》指出，要确保“十四五”开好局起好步，以优异成绩庆祝中国共产党成立 100 周年。下列关于“十四五”开局之年目标的说法不正确的是（ ）。
 - A. 国内生产总值增长 6%以上
 - B. 粮食产量保持在 1.3 万亿斤以上
 - C. 实现碳达峰、碳中和
 - D. 国际收支基本平衡
5. 下列关于抗日战争中各战役的指挥官对应错误的是（ ）。
 - A. 台儿庄战役——张自忠
 - B. 平型关大捷——林彪
 - C. 百团大战——朱德
 - D. 淞沪会战——蒋介石
6. 2021 年 6 月 8 日，第二届中国—中东欧国家博览会在浙江省宁波市开幕，主题为“构建新格局、共享新机遇”。国家主席习近平向第二届中国—中东欧国家博览会致贺信。习近平指出，中国—中东欧国家合作机制是中国和中东欧国家（ ）的重要平台。

- A. 增进友谊、扩大合作、共谋发展
- B. 增进友谊、全面合作、共谋发展
- C. 增进友谊、合作共赢、创新发展
- D. 增进友谊、扩大合作、创新发展

7. 2020 年 11 月，习近平总书记在中央全面依法治国工作会议上发表重要讲话，下列有关说法正确的是（ ）。

- A. 以人为本是推进全面依法治国的根本保证
- B. 全面依法治国最广泛、最深厚的基础是党员
- C. 中国特色社会主义法治体系是推进全面依法治国的总抓手
- D. 推进全面依法治国是国家治理的一场深刻变革，必须以实践理论为指导

8. 党的十九大对新时代推进全面依法治国提出了新任务，明确到 2035 年（ ）。

- A. 法治国家、法治政府、法治社会基本建成
- B. 有法可依、有法必依、执法必严、违法必究基本实现
- C. 中国特色社会主义法治体系基本建成
- D. 科学立法、严格执法、公正司法、全民守法基本实现

9. 下列关于纤维的说法，错误的是（ ）。

- A. 制成亚麻面料的纤维是从亚麻的韧皮部取得
- B. 聚酯纤维俗称涤纶，其吸湿性和抗皱性较好
- C. 棉纤维是热和电的不良导体且具有多孔性，故保暖性较强
- D. 蚕丝含蛋白质，可点燃闻有无烧焦羽毛的气味检验真假

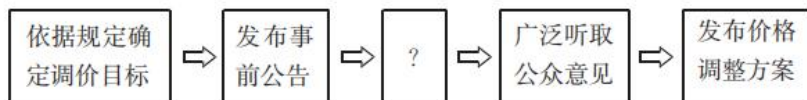
10. 下列关于党的重要思想，按提出时间先后顺序排列正确的是（ ）。

- ①社会主义市场经济理论
 - ②“三个代表”重要思想
 - ③社会主义本质理论
 - ④构建社会主义和谐社会理念
- A. ①②③④ B. ①②④③ C. ③②①④ D. ③①②④

11. 下列有关知识产权的说法符合法律规定的是（ ）。

- A. 国家版权局是著作权集体管理组织
- B. 注册商标有效期满前未申请续展注册的，应在有效期满后被注销
- C. 发明和实用新型属于专利权，而外观设计属于版权的范畴
- D. 原则上县级以上行政区划的地名和公众知晓的外国地名不得作为商标

12. 为应对运营成本上涨压力，某地政府决定对现行地铁票价进行调整，下图为地铁票价调整的部分工作流程：



填入上述流程图中“？”处的正确选项是（ ）。

- A. 获得上级主管部门的批准
- B. 核算成本收益拟定调价方案
- C. 与地铁公司进行沟通和协调
- D. 选取部分地铁线路先行试点

13. 下列关于中国史书的说法正确的是（ ）。

- A. 《史记》是西汉著名史学家司马迁撰写的一部编年体史书

- B. 《三国志》是三国分立时期结束后文化重新整合的产物
- C. 《资治通鉴》是由北宋司马光主编的一部纪事本末体史书
- D. 《四库全书》是中国史上最大的百科全书
14. 根据《治安管理处罚法》的规定，下列说法错误的是（ ）。
- A. 吊销公安机关发放的许可证属于治安管理处罚
- B. 以非法手段收集的证据不得作为处罚的根据
- C. 散布谣言，谎报疫情处五日以上十日以下拘留，可以并处五百元以下罚款
- D. 已满十四周岁不满十六周岁的人违反治安管理的，从轻或者减轻处罚
15. 下列关于《区域全面经济伙伴关系协定》（RCEP）的说法正确的是（ ）。
- A. RCEP 的成员国均为亚洲国家
- B. RCEP 的签署标志着全球规模最大的自由贸易协定正式达成
- C. RCEP 是在第三次区域全面经济伙伴关系协定领导人会议上签订的
- D. RCEP 是中国发起的第二个国际多边协议
16. 贝加尔湖是世界上最深和蓄水量最大的淡水湖，有“月亮湖”之称。下列关于贝加尔湖的说法错误的是（ ）。
- A. 湖水水质好，透明度高，被誉为“西伯利亚的明眸”
- B. 曾是中国古代北方游牧民族主要活动地区，汉代苏武牧羊之地
- C. 是世界最古老的湖泊之一，位于欧亚板块与印度洋板块交界处
- D. 名称源于古肃慎语“贝海儿湖”，汉代称为“北海”
17. 有氧运动是指人体在氧气充分供应的情况下进行的体育锻炼。即在运动过程中，人体吸入的氧气与需求相等，达到生理上的平衡状态。关于有氧运动，下列说法错误的是（ ）。
- A. 是不是“有氧运动”，衡量的标准是心率
- B. 有氧运动强度低，有节奏，持续时间较长
- C. 有氧运动越多越好
- D. 快走、慢跑、游泳、健身操、骑自行车等项目属于有氧运动
18. 下列关于宣告失踪和宣告死亡说法正确的是（ ）。
- A. 甲因意外事件下落不明被宣告死亡，人民法院宣告死亡的判决作出之日视为其死亡的日期
- B. 乙下落不明满四年，其妻子欲申请宣告死亡，但其父母欲申请宣告失踪，此时人民法院应当宣告乙失踪
- C. 丙被宣告失踪，他的财产可由其配偶、父母、成年子女代管，也可以由其他愿意担任财产代管人的人代管
- D. 丁的妻子隐瞒真实情况，致使丁被宣告死亡，从而取得丁的个人财产，丁被撤销宣告死亡后，其妻子只需返还取得的这部分财产
19. 下列关于声音的说法错误的是（ ）。
- A. 分贝是用来表示声音强度的单位
- B. 声音是物质波，物质波的传播需要介质
- C. 低于人类听觉下限的声音叫作次声波
- D. 听到自己的声音是空气传导和骨传导混合的结果

20. 下列关于地理常识的说法正确的是（ ）。

- A. 柴达木盆地有“红色盆地”之称 B. 锋面雨的特点为降雨时间短、强度大
C. 地壳运动以垂直运动为主，可使海陆变迁 D. 震源深度为 200 公里的地震是中源地震

第二部分 言语理解与表达

(共 35 题，参考时限 35 分钟)

本部分包括表达与理解两方面的内容。请根据题目要求，在四个选项中选出一个最恰当的答案。

请开始答题：

21. 尽管评职称会让自己名利双收，却依然有一些老师没有对评职称_____。他们朴素地认为，站好三尺讲台、倾心教书育人是教师的本分；即使职称看上去并不光鲜，只要无愧于心就好。

填入划横线部分最恰当的一项是（ ）。

- A. 竭尽全力 B. 殚精竭虑 C. 趋之若鹜 D. 蜂拥而至

22. 家人是用来爱的，而不是用来伤害的。谁的爱与付出都不是_____的，安抚好自己的情绪、体谅彼此，多一点有效沟通，整个家庭才能和和睦睦。

填入划横线部分最恰当的一项是（ ）。

- A. 无缘无故 B. 责无旁贷 C. 轻而易举 D. 理所当然

23. “一日为师，终身为父”，是传统师徒制的写照。历史上，师徒制保障了传统工艺技艺的_____，可谓手工业时代的一种职业教育模式。随着工业文明的发展，大机器生产使职业院校代替师徒制，成为培养产业工人的主阵地。

填入划横线部分最恰当的一项是（ ）。

- A. 生生不息 B. 蒸蒸日上 C. 薪火相传 D. 一脉相承

24. 抗击疫情要抵制谣言。对于公众、网友来说，面对网络上的各种真假难辨的信息要仔细_____，谨慎传播，不要成为谣言传播的工具；而对于公安机关来说，在疫情面前更要加大对制造和传播谣言者的打击力度，依法惩治惩戒当事人，也_____他人。

依次填入划横线部分最恰当的一项是（ ）。

- A. 甄别 警示 B. 认清 警告 C. 鉴别 警诫 D. 分析 警醒

25. 不流通的江河是一潭死水，不交流的文明只会_____。以海纳百川的宽广胸怀打破文化交往的_____，以兼收并蓄的态度汲取其他文明的养分，人类文明才能在交流互鉴中共同前进。

依次填入划横线部分最恰当的一项是（ ）。

- A. 停滞不前 障碍 B. 故步自封 壁垒
C. 画地为牢 隔阂 D. 抱残守缺 藩篱

26. 中国传统文献学的核心功能在于“辨章学术，考镜源流”。在具体的实践过程中，过分突出理论，则会使文献学研究成为_____。偏于注重考证，则会使文献学研究容易遁入_____。因此，如何将传统文献学理论与实践有效地结合在一起，是当下中国古典文献学界学者面临的重大挑战。

依次填入划横线处最恰当的一项是（ ）。

- A. 高文雅典 浅薄
B. 空中楼阁 琐碎
C. 海市蜃楼 艰涩
D. 阳春白雪 平庸

27. “毒跑道”事件不仅是标准缺失、监管缺位，根本就是道德集体沦丧的问题。在集体作恶的环境下，哪怕再多的标准规范，再详细的规章措施，恐怕也难以_____“毒跑道”为祸校园、危害学生人身健康。要知道，这样做_____是在制造一个彼此以邻为壑的“互害型生态”——生产“毒跑道”的企业老板，他的子女难道不用上学？

依次填入划横线部分最恰当的一项是（ ）。

- A. 遏制 不善
B. 遏止 无疑
C. 扼制 无非
D. 抑制 如同

28. 《新文学的传统》一书着重探讨了“五四”以来受过西方新思想洗礼的现代作家、评论家对中国文学“新传统”的_____，评点“新传统”建设者和继承者的功过得失。作者的论述可谓_____，卓见迭出，有别于几十年来出版的同类著述，比照阅读，可一探新文学的真相。

依次填入划横线部分最恰当的一项是（ ）。

- A. 批判 滴水不漏
B. 贡献 气势磅礴
C. 审视 一针见血
D. 构建 高屋建瓴

29. 朱元璋还曾命令手下的天文学家对中国和阿拉伯天文历法系统进行会通，即“欲合而为一，以成一代之历志”，通过将两者结合，制定出一部更为_____的历法。因为两种天文系统存在一些显著

的差异，最终未能如愿，但这两种历法在明代_____都被相互参用，成为官方正式采用的两部历法。

依次填入划横线处最恰当的一项是（ ）。

- A. 精细 的的确确
B. 明确 或多或少
C. 优秀 毫无疑问
D. 杰出 自始至终

30. 智能手机好像一块强大的磁铁，吸引着人们纷纷低下“高贵的头颅”，在_____的信息森林中，四顾茫然。有人_____地点出，智能手机的危害，在于其破坏了人的主体性，使人丧失了全神贯注的能力。

依次填入划横线部分最恰当的一项是（ ）。

- A. 浩如烟海 一针见血
B. 一望无际 恰如其分
C. 包罗万象 掷地有声
D. 林林总总 要言不烦

31. 旧中国“老京张”铁路的修建可谓_____。由于八达岭段坡度较大，施工装备有限，投入经费不足，工人靠肩挑手凿才打通了长度仅一公里的八达岭隧道。而“新京张”铁路的修建配备最大台车、最智能盾构机、最快铺轨机，全周期智能建造、智能运维，12公里的新八达岭隧道内更建成了埋深102米的“世界最深高铁站”。施工装备与建造技术之变，正是中国_____建造强国的生动缩影。

依次填入划横线部分最恰当的一项是（ ）。

- A. 步履维艰 跻身
B. 艰苦奋斗 变身
C. 困难重重 侧身
D. 一波三折 置身

32. 我国地名文化资源内涵丰富，是五千年中华文明的重要组成部分。泰山、黄河等地名_____着美丽中国的壮美山川，安庆、吉安等地名寄托着人们祈盼吉祥的美好愿望，六尺巷、仁和庄等地名_____着和谐礼让的传统美德。

依次填入划横线部分最恰当的一项是（ ）。

- A. 映衬 彰显 B. 折射 承载 C. 影射 蕴含 D. 映照 寄寓

33. 从陷入危机开始，某平台就因数次“花式退押金”被批评过，这次使用“消费返现”，实际还是_____。有人提出，押金属于沉淀资金，只能专款专用，但平台每次都会_____称，不要干预市场，相信企业的监管能力。但结果一再证明，企业的道德自律是靠不住的，“有形之手”介入才能纠偏方向。

依次填入划横线部分最恰当的一项是（ ）。

- A. 无济于事 头头是道 B. 重蹈覆辙 信誓旦旦
C. 老生常谈 斩钉截铁 D. 故伎重演 言之凿凿

34. 在通胀问题尚未完全解决的情况下，面对发达国家的主权债务危机，新兴经济体又不得不再次放松经济政策。这种内热外冷的_____导致新兴经济体既要促进经济增长，又要防止通胀_____。

依次填入划横线中最恰当的一项是（ ）。

- A. 境况 张牙舞爪 B. 困境 死灰复燃
C. 形式 来势汹汹 D. 事态 卷土重来

35. 民族精神是衡量一个国家综合国力强弱至关重要的因素之一，是衡量一个民族有无凝聚力、向心力、战斗力的重要指标之一。一个国家重视民族精神的培养，就能凝心聚力、_____，各项事业就会_____；忽视民族精神的培养，只会_____、消极颓废，各项事业都难以搞好。

依次填入划横线中最恰当的一项是（ ）。

- A. 奋发图强 一日千里 一盘散沙
B. 精神振奋 兴旺发达 人心涣散
C. 聚精会神 繁荣昌盛 离心离德
D. 精神抖擞 蒸蒸日上 分崩离析

36. 无论经历多少艰难、付出多大牺牲，都不能忘了为什么出发，不能忘了肩负的使命任务，始终信念如磐、意志如铁、_____，做到“千磨万击还坚劲，任尔东西南北风”。在见世面中强大内心，既能容得下征途顺利时的春风得意，谦虚谨慎、再接再厉、再创佳绩，也能容得下前进受挫时的_____，淡定从容、_____、不言放弃，做到“不管风吹浪打，胜似闲庭信步”。

依次填入划横线部分最恰当的一项是（ ）。

- A. 不忘初心 苦心孤诣 积极进取
B. 初心不改 沉重打击 乐观向上
C. 牢记使命 困难挫折 开朗乐观
D. 使命担当 艰苦磨难 力争上游

37. 文化应该是多元共生的，中国文化要走向国际社会，首先要了解国外社会的文化_____。为此，中国电影需要开拓更加宽广的_____，寻找更加多元的表达_____。

依次填入划横线部分最恰当的一项是（ ）。

- A. 需要 领域 方式 B. 品位 范围 手段
C. 动态 视野 形式 D. 价值 题材 手法

38. 晚清西方权利概念输入中国以来，国人对权利思想就争论不断，这一争论尤其聚焦于儒学或儒家社会与权利是否相容上。从维新派的热情呼吁到港台新儒家的积极_____，从保守派的_____担忧到当代美国社群主义汉学家对权利社会的批评与贬斥，相容论与不相容论都走过了一个多世纪，至今仍_____。

依次填入划横线部分最恰当的一项是（ ）。

- A. 防守 排挤 分庭抗礼 B. 支持 忍让 各执一词
C. 包容 忌惮 百家争鸣 D. 接纳 抵御 聚讼纷纭

39. 现实生活中，“奇葩村规”比比皆是，但结果都在质疑声中草草收场。婚丧喜宴办酒风为什么屡禁不止？其实，在功利主义心态治理滥办乱办酒席背后，是权力“用力过猛”，_____。改变乡村积年累月的陈规陋习，除了村规民约，也要村民养成自觉。_____，对于每天那么多的红白喜事，一纸公告恐怕也是_____。

依次填入划横线部分最恰当的一项是（ ）。

- A. 物极必反 不过 无济于事 B. 无足轻重 然而 爱莫能助
C. 过犹不及 况且 力不从心 D. 矫枉过正 何况 鞭长莫及

40. 数据本身并不是信息，信息需要从数据中_____。把数据转到新的结构内、做成新的数据库，就会对数据产生新的了解、发现新的意义。数字人文能够帮助人们_____那些理所当然的事情，使人们对_____的东西产生新的认识，从中发现并提出新的研究问题，产生新的研究方法。

依次填入划横线部分最恰当的一项是（ ）。

- A. 提取 反思 习以为常 B. 获取 审视 由来已久
C. 转化 思考 似曾相识 D. 推演 重视 习焉不察

41. 随着电子计算机向微型化和多功能化发展，它的体积大大缩小，成本大大降低，性能明显提高。计算机技术日益紧密地与通信技术和传感技术结合起来，逐渐形成了不同规模的各种信息网络，这些信息网络，是信息社会必不可少的社会基础设施。信息网络的形成，是世界高技术发展，特别是电脑和通信发展日益结合的结果。

这段文字的主要意思是（ ）。

- A. 电子计算机向微型化和多功能化方向发展
B. 计算机技术与通信技术结合形成信息网络
C. 信息网络是信息社会必不可少的基础设施
D. 计算机技术与通信技术日益紧密地结合起来

42. 弹拨乐器一般都是点状出音，即每弹一次出一音，因而音与音之间会有明显的间隙，不连贯，在表现音乐的强度和力度方面，有一定的效果，但是在表现深邃、悠远和更强烈的震撼力上，有着明显的欠缺。然而，古琴的“走手音”却恰恰能弥补这样的缺憾，其造就的线状音迹能让声音产生游动感，从而产生绵延无限的音乐感染力。在所有的弹拨乐器中，古琴是唯一能够点状出音，同时又能制造出大量线状音迹的乐器，因此显得弥足珍贵。

文中“这样的缺憾”最可能指代的是（ ）。

- A. 弹拨乐器点状出音导致缺乏音乐感染力

- B. 弹拨乐器音与音之间存在明显间隙
- C. 除古琴外的其他乐器均无法发出“走手音”
- D. 弹拨乐器在表现深邃、悠远和更强烈的震撼力上的欠缺

43. 从孔子开始，虽然没有为君子确立定义，却划出了君子和小人之间的一条条明显界线，例如历代中国人都知道那些格言，君子自强不息，君子成人之美，君子坦荡荡，君子和而不同……而小人，则完全相反。几乎所有的中国人，都不愿意被人家说成是“小人”。中国文化的一切光明面，其实都是凭借着君子人格传递的。“天下为公”“天人合一”“刚健有为”“和谐处世”等等精神原则，也都是君子人格的一部分。重要的是，正因为有了君子人格这种具有遗传功能的载体，这些精神原则也生命化了，一代代活了下来。

这段文字主要说明（ ）。

- A. 古往今来君子和小人之间一直存在明显的界线
- B. 中国精神原则的代代传承有赖于君子人格
- C. 中国文化在集体人格方面的成功归因于君子人格
- D. 弘扬君子人格是传播中国传统文化的必由之路

44. 为了鼓励阅读，无论是专家学者还是作家，无不极力论证阅读的好处。所谓好处，指的是阅读能给一个人带来现实回报。为此，规劝阅读的文章往往竭力证明诸多成功人士是如何善于从阅读中把握商机的。其实，竭力论证阅读对成功有所助益的人与公然持“读书无用论”者的出发点是一样的，即主张从功利角度诠释阅读的意义。由于现实中决定个人事业成败的因素相当复杂，阅读在其中扮演的角色往往微不足道，这就淡化了阅读的吸引力，而过分功利地解读阅读，阅读就不可避免地变得干瘪、乏味，甚至沦为赤裸裸的工具。

这段文字的核心观点是（ ）。

- A. “读书无用论”源于对成功的盲目追逐
- B. 应从非功利的角度重新探寻阅读的意义
- C. 专家学者对于阅读方向的引导存在误区
- D. 过分强调阅读工具性会使读者丧失兴趣

45. _____。人文景观与自然环境浑然天成、融为一体，才能给人以美的享受。无论是中华文化天人合一、道法自然的审美意境，还是如今兴起的保护生态、亲近自然的绿色发展理念，都强调人文景观与自然环境和谐共生。丽江古城依山傍水、以水为脉，整座古城获评世界文化遗产；国家体育场“鸟巢”充分采用自然采光和通风，勾勒出现代北京的美丽风景。反之，若缺乏对自然的敬畏，滥造钢筋水泥地标，即便再大的“手笔”，也与审美旨趣和群众期待相差甚远。

填入划横线部分最恰当的一项是（ ）。

- A. 文化地标是地方的文化名片，在传播城市形象方面有巨大的流量效应
- B. 作为一种符号化呈现，文化地标应该追求形神兼备
- C. 作为一种公共建筑，文化地标应当发挥服务公众的功能
- D. 作为一种人文景观，文化地标首先应当与地理环境“不违和”

46. 大约 25 年前，研究人员首次描述了湖畔南方古猿的化石。如今，这种一直被忽视的人类祖先终于迎来了自己的高光时刻。在埃塞俄比亚工作的研究人员发现了一颗几乎完整的颅骨化石，恰好属于这种已经消失很久的人科成员。在人科中，除了智人，还包括一些已经灭绝的近亲，它们共同组成了人类

谱系树。过去，湖畔南方古猿的化石主要来自下颌、牙齿及头部以下的骨骼碎片。而这枚来自 380 万年前的化石非常完整，可以帮助科学家揭开湖畔南方古猿从未展示在人们面前的面容。不过，根据标本上的某些显著特征，人类演化的谱系树或许又要重绘了。

这段文字接下来最有可能（ ）。

- A. 叙述研究人员发现完整颅骨化石的过程
- B. 列举并介绍人类演化谱系树的组成成员
- C. 阐述新发现的颅骨化石对人类谱系树的影响
- D. 介绍科学家对南方古猿进化进行的大胆假设

47. 银行无人化，用智能设备替代繁琐的人工操作，当然是未来的趋势。减少人力开支，让有限的人力发挥更大的价值，可能是银行积极推广无人技术的最大动力。但是，银行不能为了减少成本而降低服务水平，忽略部分群体的实际需要，也不能在无人化的未来，推卸保护客户资产安全的责任。在技术应用中，找到用户普遍的“痛点”，才能更好地玩转无人银行。毕竟，智能技术的应用目的，归根结底在于提高银行业的服务水平，让每个用户都能享受到更好的服务。

这段文字意在说明（ ）。

- A. 银行无人化符合新时代技术发展的趋势
- B. 银行采用智能技术不能牺牲服务与安全
- C. 无人银行的发展应基于用户的实际需要
- D. 更好的服务质量才应是银行的追求目标

48. 《曹全碑》是东汉郃阳县令曹全的纪功碑，明代万历时在陕西合阳县莘里庄出土，今存西安碑林。《曹全碑》书法秀雅，是汉碑的典范；碑文涉及疏勒叛乱、黄巾起义、党锢之祸，尤其可补史志之缺。这些情况，明清以来的金石学家讨论已详，稍可补充的，是碑文中有关医学史的一项小问题。

这段文字接下来最可能讨论（ ）。

- A. 《曹全碑》中关于医学的一些史实
- B. 《曹全碑》对医学史的贡献
- C. 《曹全碑》受医学史关注的情况
- D. 《曹全碑》可补史志之缺的医学内容

49. 在数千年历史演进中，中华民族形成具有鲜明民族特色的世界观、人生观以及理想信念、价值理念、道德观念，并已深深融入中国人血液之中，沉淀为中华民族的文化基因。中国文艺实践，某种程度上说，就是中华民族文化基因的投射。从微观角度来讲，任何时代的文艺实践都在呼应历史的风云际会。以当代文学为例，没有改革开放的浩荡春风，就没有改革文学的横空出世，没有互联网技术的蓬勃发展，网络文学异军突起也不可想象。换言之，中国历史的独特性造就中国文艺实践的独特性。中国文艺实践从孕育环境到精神承载，都具有不可复制的独特性。

这段文字主要说明（ ）。

- A. 每个国家、每个民族的文艺实践都有其自身的独特性
- B. 当代文学的崛起依赖于改革开放和互联网技术的发展
- C. 中国文艺实践的独特性来源于中国历史文化的独特性
- D. 文艺理论离不开文艺实践提供的经验土壤和思想空间

50. ①与传统媒体“你给什么我看什么”的信息获取方式不同，网络媒体为用户提供了更大的自由度，让他们可以选择自己想看的内容

②然而，很多学者担忧过度个性化的推荐会引起“回声室效应”

③由于网络信息的过载和多样，很多社交媒体也都采用了各种各样的方式来为用户推送更加个性化的新闻，让新闻更加符合每个人的口味

④现代人已经习惯通过社交网站来获取各类新闻信息

⑤这些个性化算法使得只有和人们的意识形态一致的信息才会被呈现，人们的视野越来越窄，可以接触到多元化信息的机会越来越少

⑥根据算法的推荐，人们逐渐接收到的都是和自己意见相似的新闻与朋友分享的信息，持不同观点的人也逐渐形成愈发封闭的小圈子

将以上 6 个句子重新排列，语序正确的是（ ）。

- A. ④②⑥⑤①③ B. ⑥①②④③⑤ C. ⑥⑤①②④③ D. ④①③②⑥⑤

51. ①这种教育地位的提高是由经济发展而催生的，并非是因为教育自身的贡献或价值的充分彰显而实现的

②换言之，它是被动地依附于经济活动的，其背后蕴含着淡化教育实体性地位，弱化教育相对独立性的危险

③教育经济主义思潮通过对人力资本生产价值的分析使教育的地位日益凸显

④而且，由于过分强调经济功能，教育规模扩大的同时，教育质量却难以得到保证

⑤不过，其背后也隐藏着一种忧患

⑥教育经费和规模由此得到了前所未有的增长和扩张，这是令人欣喜的

将以上 6 个句子重新排列，语序正确的是（ ）。

- A. ⑥⑤③②①④ B. ⑥③②⑤①④ C. ③⑤①⑥②④ D. ③⑥⑤①②④

52. 我们真的能建造一台机器来识别人类的所有情绪经历吗？退一万步说，即便哪天 AI 真的可以通过动态分类系统识别情绪，它也只是一台冰冷的机器，无法与人类共情。因此，_____。只有当我们真的感知这个世界，才可能理解周围事物存在的价值。如果没有嗅觉和味觉，我们可能很久前就死于误食腐败食物；如果没有欲望，我们就不会与另一半坠入爱河、繁衍生息；没有惊慌，我们在看到尖牙利爪的老虎时也不会逃跑求生。我们的内部感受纷繁众多，在心理学中称之为情感。

填入划横线部分最恰当的一项是（ ）。

- A. 即使 AI 与人再相像也不可能做到感同身受
B. 我们建造一个情感 AI 的最后一步就是引入感受
C. 一个没有肉体系统来平衡的空洞大脑无法感受情绪
D. 创造一台真正能够感受情绪的机器还有许多路要走

53. 现代化是一个世界性课题。在世界多极化、经济全球化的时代背景下，各国现代化进程色彩纷呈而又相容相通，汇聚为一曲多元与共识的交响。从历史经验与价值取向上看，现代化应体现民族性与世界性、多元与共识的统一。从这个角度理解和推进现代化，须摒弃自我中心、唯我独尊的立场和心态。遗憾的是，当今西方一些思想家在这个问题上存在偏颇的。对于他们而言，西方理性主义是理解和诠释现代化问题的基本立场。这样一种理论定位容易导致“西方中心主义”，我们应有这种文化警醒。

这段文字的主旨是（ ）。

- A. 理性主义思想家排斥西方文明 B. 现代化进程应由世界各国共同推进

- C. 不同国家对现代化的认识存在分歧 D. 现代化过程中应正确看待西方理想主义

54. 水华是淡水水体中藻类大量繁殖的一种自然生态现象，是水体富营养化（可用养分增加导致藻类过度生长）的显著特征。富营养化可能会在湖泊中自然发生，但其主要原因仍是生活及工农业生产中含有大量氮、磷的污水进入水体后，造成蓝藻、绿藻、硅藻等大量繁殖，其中蓝藻水华的发生范围最广，且危害最大，对人类健康威胁不容忽视。目前，人为向水体排放营养物已经使全球范围内的富营养化现象明显加重，导致水质下降、鱼类灭绝和生物多样性减少。

这段文字意在强调（ ）。

- A. 水华是水体富营养化的显著特征 B. 水华现象加重给全球带来重大损失
C. 蓝藻水华对人类健康的威胁不容忽视 D. 应该加强水污染治理，降低水华风险

55. 所谓“以 IP 地址或者网络名称作为被告”，其实只是针对预立案程序而言的。这样，网络侵权的原告可以申请人民法院调查被告身份的相关信息，可以查实的正式立案审理，无法查明的则不予受理。由此可见，这么做实际是原告请求法院通过其调查权，来查明 IP 地址或者网络名称背后的人，将调查核实“被告人具体身份”的权力转移给了法院，原告并不具备特别调查权，多数公众也都没有技术手段来进行网络追踪。如果法院介入后仍然无法查清，还是不会受理。只要没有明确的被告，原告的诉讼就失去了意义——且不说庭审过程中，“被告”无法进行辩护，就算原告赢得了官司，也没有责任人来承担相应的民事责任。

对这段文字的主旨概括最准确的是（ ）。

- A. 介绍网络时代处理法律问题面临的困境
B. 分析原告在网络侵权案件中所处的不利地位
C. 解析法院在处理案件中被告人身份确定的重要性
D. 说明网络侵权案件中明确被告人的方式及其意义

第三部分 数量关系

（共 15 题，参考时限 15 分钟）

在这部分试题中，每道题呈现一段表述数字关系的文字，要求你迅速、准确地计算出答案。

请开始答题：

56. 小明买了一艘游艇模型，其电池最多可以使用 40 分钟。这艘游艇模型逆水时每小时航行 1200 米，顺水时每小时航行 2000 米。小明从一个口岸放下游艇模型，让它逆水而上，若要在电池耗尽前在原来的口岸拿回游艇模型，那么该游艇模型最多驶出（ ）米就需返航。

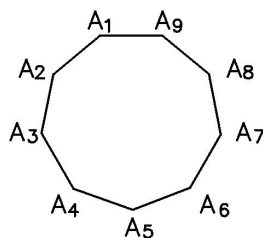
- A. 400 B. 500 C. 600 D. 700

57. 甲、乙两个工程队共同完成某项工程需要 12 天，其中甲单独完成需要 20 天。现 8 月 15 日开始施工，由甲工程队先单独做 5 天，然后甲、乙两个工程队合作 3 天，剩下的由乙工程队单独完成，问工程完成的日期是（ ）。

- A. 9 月 5 日 B. 9 月 6 日 C. 9 月 7 日 D. 9 月 8 日

58. 2020 年老张的年龄是小王年龄的 4 倍，2021 年老李的年龄是小王年龄的 3 倍，已知老张比老李

- 大 12 岁，问哪一年三人的年龄之和第一次超过 140 岁？（ ）
- A. 2020 B. 2023 C. 2026 D. 2029
59. 某单位五个处室分别有职工 5、8、18、21 和 22 人，现有一项工作要从该单位随机抽调若干人，问至少要抽调多少人，才能保证抽调的人中一定有两个处室的人数和超过 15 人？（ ）
- A. 34 B. 35 C. 36 D. 37
60. 830 箱货物运往外地，大卡车每辆每次可装货物 20 箱，运费为 140 元。小卡车每辆每次可装货物 15 箱，运费为 120 元。请问这批货的运费最少需要多少元？（ ）
- A. 6000 B. 5840 C. 5860 D. 5900
61. 某单位原拥有中级及以上职称的职工占职工总数的 62.5%。现又有 2 名职工评上中级职称，之后该单位拥有中级及以上职称的人数占总人数的 $\frac{7}{11}$ 。则该单位原来有多少名职称在中级以下的职工？（ ）
- A. 68 B. 66 C. 62 D. 60
62. 某单位进行改革，需要将秘书处的 5 位同事整合到技术部、销售部、推广部三个部门。要求每个部门至少有 1 位秘书处的同事，问一共有多少种分配方法？（ ）
- A. 18 B. 96 C. 150 D. 300
63. 某公司去年有员工 350 人。与去年相比，今年本科及以上学历员工增加 25 人，本科以下学历员工减少了 2%，总人数增加 20 人。则该公司今年本科及以上学历员工有多少人？（ ）
- A. 75 B. 100 C. 125 D. 150
64. 某部门为考查员工的基础业务水平，组织了一次基础业务考试，规定员工成绩若低于第一名成绩的 88%，则绩效相应减分。此次考试共 7 名员工参加，平均成绩为 82 分（成绩都为整数），每人成绩各不相同且构成等差数列，结果只有 1 名员工的绩效被减分。问第一名的成绩是多少分？（ ）
- A. 88 B. 89 C. 90 D. 91
65. 将 100 名运动员编上 1~100 的号码，从中选出号码尾数为 3、6 和 9 的人，剩下的人按原来的号码从小到大，重新编上从 1 开始的号码。小刘发现自己两次得到的号码都是 7 的倍数，问在第二次编号中，有多少个人的号码比小刘的大？（ ）
- A. 10 B. 14 C. 20 D. 21
66. 根据天气预报，未来 4 天中每天下雨的概率为 0.6，则未来 4 天中仅有 1 天下雨的概率 p 为（ ）。
- A. $0.03 < p < 0.05$ B. $0.06 < p < 0.09$ C. $0.13 < p < 0.16$ D. $0.16 < p < 0.36$
67. 从正九边形的顶点中任选 3 个作为顶点绘制三角形，问其中等腰三角形占全部可画出三角形的比例在以下哪个范围内？（ ）

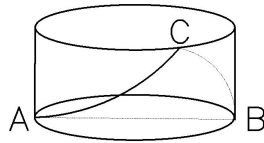


- A. 低于 28% B. 在 28%到 33%之间 C. 在 33%到 40%之间 D. 高于 40%

68. 销售员小刘为客户准备了A、B、C三个方案。已知客户接受方案A的概率为40%。如果接受方案A, 则接受方案B的概率为60%, 反之为30%。客户如果A或B方案都不接受, 则接受C方案的概率为90%, 反之为10%。问将3个方案按照客户接受概率从高到低排列, 以下正确的是? ()

- A. $A > B > C$ B. $A > C > B$ C. $B > C > A$ D. $C > B > A$

69. 一个不计厚度的圆柱型无盖透明塑料桶, 桶高2.5分米, 底面周长为24分米, AB为底面直径。在塑料桶内壁桶底的B处有一只蚊子, 此时, 一只壁虎正好在塑料桶外壁的A处, 则壁虎从外壁A处爬到内壁B处吃到蚊子所爬过的最短路径长约为 ()。



- A. 10分米 B. 12.25分米 C. 12.64分米 D. 13分米

70. 小张下班回家乘地铁18:45之前到家的概率为0.8, 乘公交为0.7。已知小张下班回家要么乘地铁, 要么乘公交, 且选择乘地铁的概率为0.6, 则他下班回家18:45之前到家的概率是 ()。

- A. 0.73 B. 0.74 C. 0.75 D. 0.76

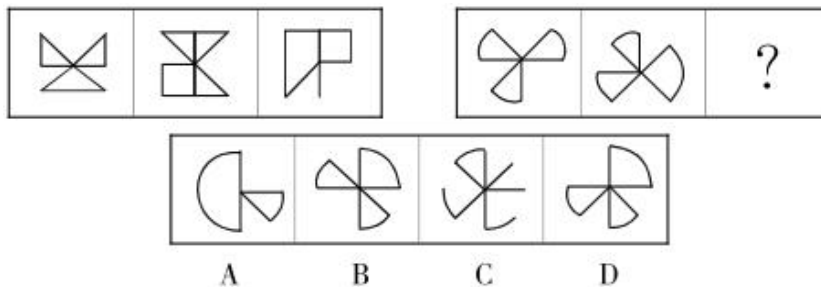
第四部分 判断推理

(共35题, 参考时限35分钟)

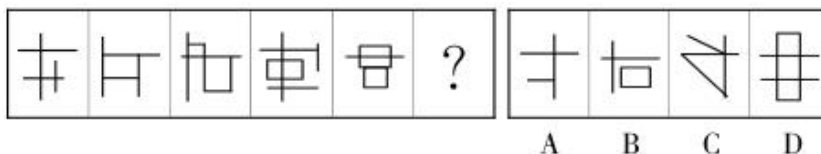
一、图形推理。请按每道题的答题要求作答。

请开始答题:

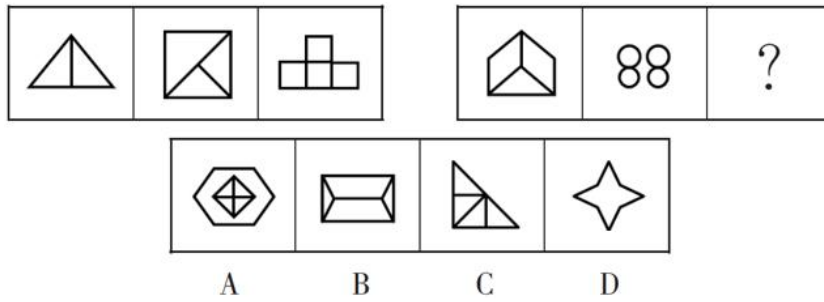
71. 从所给的四个选项中, 选择最合适的一个填入问号处, 使之呈现一定的规律性。



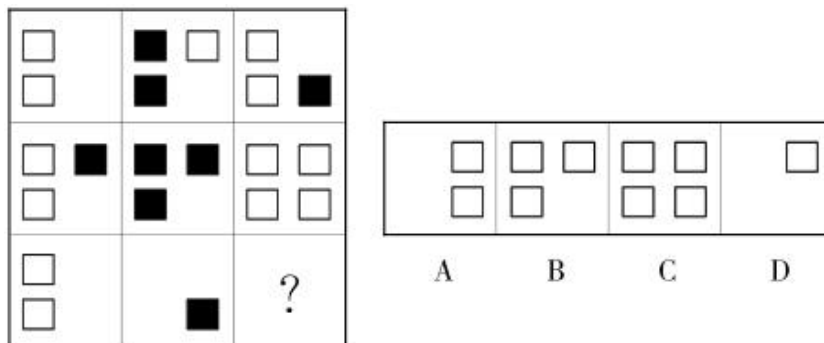
72. 从所给的四个选项中, 选择最合适的一个填入问号处, 使之呈现一定的规律性。



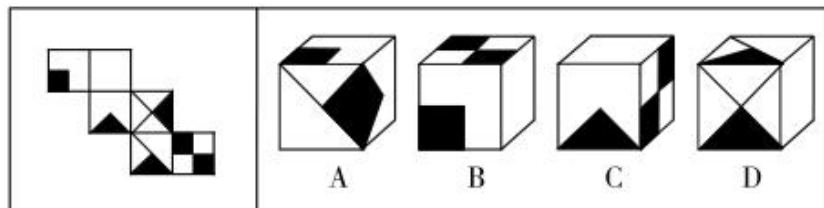
73. 从所给的四个选项中, 选择最合适的一个填入问号处, 使之呈现一定的规律性。



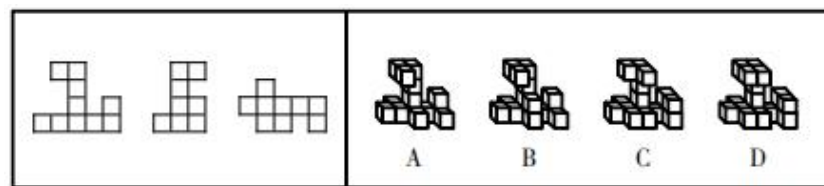
74. 从所给的四个选项中，选择最合适的一个填入问号处，使之呈现一定的规律性。



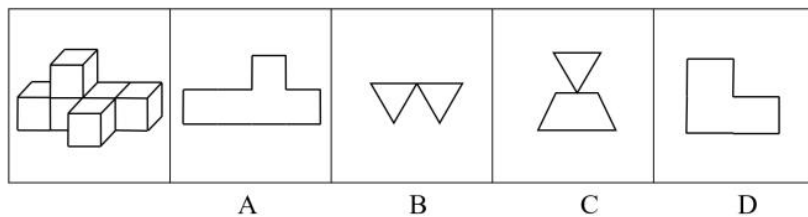
75. 左边给定的是纸盒外表面的展开图，右边哪一项能由它折叠而成？（ ）



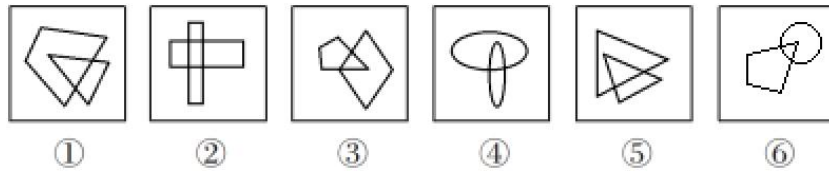
76. 下列的三个视图是观察某一多面体得到的，则该立体图形不可能是（ ）。



77. 左图为 6 个相同小正方体组合成的多面体，将其从任一面剖开，下面哪一项不可能是该立体图形的截面（ ）。

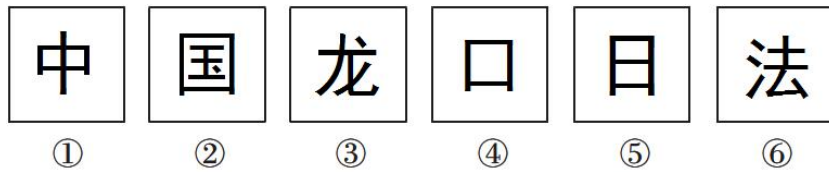


78. 把下面的六个图形分为两类，使每一类图形都有各自的共同特征或规律，分类正确的一项是（ ）。



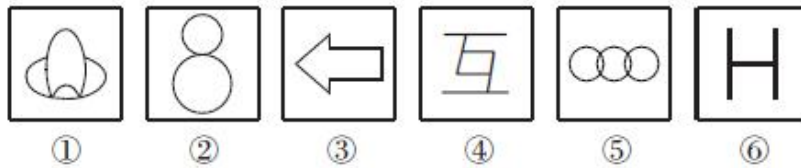
- A. ①②⑤, ③④⑥ B. ①②⑥, ③④⑤ C. ①⑤⑥, ②③④ D. ①④⑤, ②③⑥

79. 把下面的六个图形分为两类, 使每一类图形都有各自的共同特征或规律, 分类正确的一项是 ()。



- A. ①②⑥, ③④⑤ B. ①③⑤, ②④⑥ C. ①④⑤, ②③⑥ D. ①⑤⑥, ②③④

80. 把下面的六个图形分为两类, 使每一类图形都有各自的共同特征或规律, 分类正确的一项是 ()。



- A. ①④⑥, ②③⑤ B. ①③④, ②⑤⑥ C. ①②⑤, ③④⑥ D. ①③⑤, ②④⑥

二、定义判断。每道题先给出定义, 然后列出四种情况。要求你严格依据定义, 从中选出一个最符合或最不符合该定义的答案。注意: 假设这个定义是正确的, 不容置疑的。

请开始答题:

81. 视角转换: 从不同角度对同一事物或现象加以观察、思考, 从而获得新的认识。

根据上述定义, 下列最能体现视角转换的是 ()。

- A. 横看成岭侧成峰, 远近高低各不同 B. 山重水复疑无路, 柳暗花明又一村
C. 踏破铁鞋无觅处, 得来全不费工夫 D. 众里寻他千百度, 蓦然回首, 那人却在灯火阑珊处

82. 培养基是指供给微生物、植物或动物(或组织)生长繁殖的, 由不同营养物质组合配制而成的营养基质, 一般都含有碳水化合物、含氮物质、无机盐、维生素、水等物质。天然培养基是利用动物、植物或微生物包括其提取物制成的培养基; 合成培养基是根据天然培养基的成分, 用化学物质模拟合成、人工设计而配制的培养基; 半组合培养基是以化学试剂配制为主, 同时还加有少量天然成分的培养基。

根据上述定义, 下列属于半组合培养基的是 ()。

- A. 为促进乳酸菌生产, 使用小麦的麦芽汁制成的培养基
B. 为加速诱发绿萝生长, 将有机成分、矿物元素、琼脂等按 3:1:2 的比例制成的培养基
C. 为观察产气荚膜梭菌的成长, 在 1000 毫升新鲜牛奶中加入 10 毫升硫酸亚铁制成的培养基

D. 为研究鸡胚细胞的生长，在一定比例的盐水氨基酸溶液中加入少量玉米汁制成的培养基

83. 暴力文化是反映暴力行为发生过程、后果及暴力行为规范的文化，属亚文化范畴。暴力文化是暴力犯罪的诱因，对于正处于社会化过程中的青少年影响尤为深刻，必须采取一系列的针对性措施抵御和消除暴力文化的不良影响。

根据上述定义，下列不属于暴力文化范畴的是（ ）。

- A. 乱起绰号、推举“最差”等玩闹
- B. 宣扬所谓“狼道”的书报
- C. 以“野蛮”为审美时尚的影视剧
- D. 具有“血腥”的网络游戏

84. 白描手法，即用最朴素最简练的笔墨，不事雕饰，不加烘托，抓住描写对象的特征，如实地勾勒出人物、事物与景物的情态面貌的一种写作手法。

根据上述定义，下列没有运用白描手法的是（ ）。

A. 他长得很矮，看样子顶多也不过十八岁。圆的脸，大眼睛，下巴上有一道细长的疤痕，显然是子弹掠过时留下的纪念

B. 公孙瓒扒上坡去，看那少年：生得身長八尺，浓眉大眼，阔面重颐，威风凛凛，与文丑大战五六十合，胜负未分

C. 枯藤老树昏鸦，小桥流水人家，古道西风瘦马。夕阳西下，断肠人在天涯

D. 瀑流经过时，作急剧的撞击，便飞花碎玉般乱溅着了。那溅着的水花，晶莹而多芒；远望去，像一朵朵小小的白梅，微雨似的纷纷落着

85. 太空垃圾，即空间碎片，是人类空间活动的产物，包括完成任务的火箭箭体和卫星本体、火箭的喷射物、执行航天任务过程中的抛弃物、空间物体间碰撞产生的碎块等，是空间环境的主要污染源。

根据上述定义，下列情形中属于太空垃圾的是（ ）。

- A. 航天器脱落的油漆颗粒
- B. “挑战者”号航天飞机升空 72 秒后发生爆炸形成的碎片
- C. 银河系最年轻的超新星“仙后座-α”爆炸后的残留物形成的尘埃
- D. 航天飞机升空后落入大气层的火箭助推器

86. 市场集中度：指某行业在市场结构中的集中程度，它用来衡量企业的数目和相对规模的差异，是市场势力的重要量化指标。

根据上述定义，下列属于市场集中度比较低的现象是（ ）。

- A. 某城市的大部分菜市场附近都会有糕点店
- B. 某地拥有大量皮鞋生产厂家
- C. 日用电子产品的生产企业多设在珠三角和长三角
- D. 某小商品市场附近的青岩村在网络零售市场占据相当大的份额

87. 地方性法规是指地方立法机关为贯彻执行宪法、法律、行政法规的规定所制定和颁布的规范性文件，它仅在其管辖的地区内具有效力。其前提是不违背宪法、法律、行政法规的规定。

根据上述定义，下列属于地方性法规的是（ ）。

- A. 甲村民委员会一致讨论通过的不得向河里乱扔垃圾的规定
- B. 乙县政府办公室下达的关于饲养动物饲料配方的有关规定

C. 丙市政府颁布并从即日起实施的加强食品安全监管的十项措施

D. 丁省人大常委会发布的《丁省实施〈中华人民共和国水法〉办法》

88. 水土流失是指在水力、重力、风力等外力作用下，水土资源和土地生产力遭受的破坏和损失，包括土地表层侵蚀和水的损失，亦称水土损失。水土流失是不利的自然条件与人类不合理的经济活动互相交织作用产生的。

根据以上定义，下列不存在水土流失的是（ ）。

A. 某地在一次暴雨后发生泥石流

B. 某些地区在强风作用下逐步沙漠化

C. 岩石经过长期的风化变成沙砾

D. 黄河将高原大量的泥沙挟带至下游

89. 消费信贷，是指银行等金融机构向消费者为消费而发放的贷款。消费信贷往往需要采取综合的担保措施以及进行充分的市场信用调查，在法律上表现为买卖合同（往往是分期付款买卖）、借款合同、担保合同的综合体。

根据上述定义，下列属于消费信贷的是（ ）。

A. 某饭店允许某位客户的赊账行为

B. 某农村信用合作社为农民购车发放小额贷款

C. 某职工为购房与单位签合同预支 20 年的住房补贴

D. 在资产清收、处置过程中，银行垫付债务人的诉讼费、经济纠纷款等

90. 不可抗力是一项免责条款，是指买卖合同签订后，不是由于合同当事人的过失或疏忽，而是由于发生了合同当事人无法预见、无法预防、无法避免和无法控制的事件，以致不能履行或不能如期履行合同，发生意外事件的一方可以免除履行合同的责任或者推迟履行合同。

依据上述定义，下列情形中不属于不可抗力的是（ ）。

A. 某家具厂向某木材供应站订购了一批木材。但约定的交货日期到来时，木材供应站未能按期交货。两天后，因该地区遭遇罕见山洪，木材供应站所储存的全部木材被山洪冲走。家具厂因此停工待料 10 天，造成损失 5 万元

B. 某政府网站遭遇黑客攻击，陷入瘫痪

C. 因快递公司员工罢工，李某的邮件未能及时收到

D. 杨某在大雾弥漫的早晨骑车上班途中，被一辆疾驰而过的汽车撞倒，造成医疗费、误工费、交通费等 4000 多元的损失。事后杨某向肇事司机索赔，司机却称事故的发生是由于大雾所致，属于不可抗力，所以他不应承担赔偿责任

三、类比推理。每道题先给出一组相关的词，要求你在备选答案中找出一组与之在逻辑关系上最为贴近、相似或匹配的词。

请开始答题：

91. 薯条：土豆

A. 爆米花：玉米

B. 蔬菜：粮食

C. 沙拉：水果

D. 红酒：高粱

92. 貔貅：财富

- A. 布谷：勤劳
C. 蝙蝠：福禄
93. 感冒药：胶囊
A. 汽水：吸管
C. 音乐：唱片
94. 有形损耗：无形损耗
A. 中国哲学：西方哲学
C. 急性中毒：慢性中毒
95. 人民币：美元：欧元
A. 海洋：海鸥：海滩
C. 兰花：牡丹：菊花
96. 蓝天：飞行员：战斗机
A. 草原：牧民：牛羊
C. 森林：伐木工：电锯
97. 药品：药房：药方
A. 旅行：飞机：机票
C. 存款：银行：银行卡
98. 侦探：线索：结论
A. 医生：病情：诊断
C. 裁缝：针线：衣服
99. 光辉 之于 () 相当于 正义 之于 ()
A. 太阳 法制
C. 自然 义务
100. 季节 之于 () 相当于 () 之于 海陆温差
A. 日照时长 潮汐
C. 春夏秋冬 洋流
- B. 雄鹰：执着
D. 孔雀：坚强
B. 汉堡：三明治
D. 土豆：薯条
B. 蒸馏酒：葡萄酒
D. 有色金属：稀有金属
B. 贵州：杭州：常州
D. 宽恕：品性：诚信
B. 刺绣：绣女：绣花针
D. 大海：水兵：军舰
B. 桌餐：饭店：菜单
D. 电影：影院：电影票
B. 交警：违章：罚单
D. 学生：复习：成绩
B. 恒星 民生
D. 光明 圣人
B. 黄赤交角 季风
D. 北回归线 赤道

四、逻辑判断。每道题给出一段陈述，这段陈述被假设是正确的，不容置疑的，要求你根据这段陈述选择一个答案。

请开始答题：

101. 在器官移植技术日益成熟的同时，可用于移植的供体器官却严重不足，异种器官移植是解决供体器官不足的最有效途径。某研究员称，转基因克隆猪未来有望成为异种器官移植的供体。通俗点说，就是未来人类需要移植什么器官，就可以在转基因克隆猪身上提取。更形象地说，转基因克隆猪就相当于人类所需器官的制造“工厂”。

以下哪项如果为真，最能支持上述结论？ ()

- A. 就基因结构而言，猴子、猩猩要比猪更适合异种器官移植，但会面临更大的伦理学难题

- B. 克隆猪技术与转基因技术相结合，可以促进顶级优良种猪的快速繁衍及优良新品种的培育
- C. 转基因克隆技术可对猪的基因进行修饰、改造、培育出基本不含“排斥基因”和危险因素的克隆猪
- D. 将一些重要的蛋白药物的基因转入猪的基因组，在猪的乳腺等器官实现基因表达，从中提取贵重的药用蛋白

102. 对多个省份的调查研究发现，对于外向者而言，花大量时间用于网络社交并不会影响与他人面对面交流的意愿，而内向者即使不进行网络社交也不会变成社交达人。因此，有研究者认为，网络社交会妨碍传统社交的担忧是毫无必要的。

以下哪项如果为真，最能支持上述结论？（ ）

- A. 有许多花费大量时间在网络社交上的人不愿意与他人面对面交流
- B. 无论采用哪种方式，大多数人参与社会活动的总时间是相对固定的
- C. 在网络社交的帮助下，许多人在传统社交中的能力和自信得到了提升
- D. 该研究由某大学开展，而在该校学生中，网络社交并不是主要的社交方式

103. 英国剑桥大学专家称，早期人类的大脑比现代人类更大，而且现代人类比早期人类身材矮小10%。这项研究颠覆了此前的理论——现代人类伴随着进化变得更高、更强壮。科学家称，这种人类进化衰减性出现在过去一万年左右，很可能是由于农业的出现导致的。农业耕作出现之后，人类受限于食物种类的减少以及疾病的蔓延，所以出现了进化衰减现象。

以下哪项如果为真，最不能质疑研究人员的假设？（ ）

- A. 据研究，人类大规模农业耕作出现在 5000 年前
- B. 一万年以前，居住在非洲的人身材和现代人类差不多
- C. 随着农业水平的提高，人类的食物种类远多于一万年前
- D. 早期人类患病没有办法医治，身体残弱者在进化中均遭到淘汰

104. 一般来说，油品质量标准由石化行业制定，环保部门并无相关油品质量监管权。因此，面对城市车流带来的大量污染物排放和空气污染加剧问题，环保部门在这方面很难真正采取有效的措施。

要得出以上论断，需要补充以下哪项作为前提？（ ）

- A. 油品质量提高能有效降低汽车污染物排放
- B. 油品质量提高需要石化行业提高相应标准
- C. 环保部门对油品质量标准制定拥有决定权
- D. 当前环保部门对石化行业的监管力度较弱

105. 一般病菌多在温室环境生长繁殖，低温环境停止生长，仅能维持生命。而耶尔森氏菌却恰恰相反，不但不怕低温寒冷，而且只有在 0℃ 左右才大量繁殖。冰箱里存储的食物，使耶尔森氏菌处于最佳生长状态。

由此可以推出（ ）。

- A. 耶尔森氏菌在室温环境无法生存
- B. 一般病菌生长的环境也适合耶尔森氏菌生长
- C. 耶尔森氏菌的最佳生长温度不适合一般病菌
- D. 0℃ 环境下，冰箱里仅存在耶尔森氏菌

第五部分 资料分析

(共 20 题, 参考时限 20 分钟)

所给出的图、表、文字或综合性资料均有若干个问题要你回答, 你应根据资料提供的信息进行分析、比较、计算和判断处理。

请开始答题:

一、根据以下资料, 回答 111~115 题。

2020 年, 我国规模以上互联网和相关服务企业(以下简称互联网企业)业务收入 12838 亿元, 同比增长 12.5%, 增速低于上年同期 8.9 个百分点。

2020 年, 互联网企业实现营业利润 1187 亿元, 同比增长 13.2%, 增速低于上年同期 3.7 个百分点; 得益于成本控制较好, 营业成本仅增长 2.4%, 行业营业利润高出同期收入增速 0.7 个百分点。

2020 年, 互联网企业信息服务收入共 7068 亿元, 同比增长 11.5%, 增速低于上年同期 11.2 个百分点。互联网接入及相关服务收入 447.5 亿元, 同比增长 11.5%, 增速低于上年同期 20.8 个百分点; 互联网数据服务(包括云服务、大数据服务等)收入 199.8 亿元, 同比增长 29.5%, 增速较上年同期提高 3.9 个百分点。

2020 年, 东部地区互联网业务收入 11227 亿元, 同比增长 14.8%, 增速较上年同期回落 9 个百分点, 中部地区互联网业务收入 448.1 亿元, 同比增长 3.4%, 增速较上年同期回落 53.1 个百分点。西部地区互联网业务收入 497.2 亿元, 同比增长 6.9%, 增速较上年同期回落 15.2 个百分点。东北地区互联网业务收入 47.1 亿元, 同比增长 9.1%。

2020 年, 互联网业务累计收入居前 5 名的广东(增长 5.2%)、北京(增长 21.5%)、上海(增长 20.9%)、浙江(增长 24.4%)和江苏(增长 8.0%)共完成互联网业务收入 10706 亿元, 同比增长 15.1%, 增速超过全国平均水平 2.6 个百分点, 占全国(扣除跨地区企业)比重达 87.6%, 占比较上年同期提高 0.8 个百分点。

106. 2020 年, 互联网企业收入同比约增长了()。

- A. 1187 亿元 B. 1309 亿元 C. 1426 亿元 D. 1605 亿元

107. 2019 年, 互联网企业互联网接入及相关服务收入同比增速比同年信息服务收入同比增速()。

- A. 高不到 10 个百分点 B. 高 10 个百分点以上
C. 低不到 10 个百分点 D. 低 10 个百分点以上

108. 在东部、中部、西部和东北四个地区中, 2019 年和 2020 年互联网业务收入占全国比重均高于上年水平的地区有几个?()

- A. 0 B. 1 C. 2 D. 3

109. 2020 年, 东部地区除广东、北京、上海、浙江和江苏之外的省市互联网业务收入约比 2019 年()。

- A. 增长 9% B. 增长 19% C. 减少 9% D. 减少 19%

110. 关于我国互联网企业业务状况, 能够从上述资料中推出的有几条?()

- ①2019 年实现利润超过 1000 亿元
 ②2020 年，互联网数据服务收入比 2018 年增长了不到 70%
 ③2018 年及 2019 年，中部地区互联网业务收入均低于西部地区

A. 0 B. 1 C. 2 D. 3

二、根据以下资料，回答 111~115 题。

2019 年 7 月~2020 年 6 月我国乘用车产销情况

	乘用车产量		乘用车销量	
	产量(万辆)	同比增长(%)	销量(万辆)	同比增长(%)
2019 年 7 月	152.3	-11.7	152.8	-3.9
8 月	169.3	-0.7	165.3	-7.7
9 月	186.5	-7.9	193.1	-6.3
10 月	193.8	-3.2	192.8	-5.8
11 月	216.3	1.9	205.7	-5.4
1~12 月	2136.0	-9.2	2144.4	-9.6
2020 年 1~2 月	163.1	-48.1	193.1	-43.6
3 月	104.9	-49.9	104.3	-48.4
4 月	158.7	-4.6	153.6	-2.6
5 月	166.0	11.2	167.4	7.0
6 月	179.8	12.2	176.4	1.8

111. 2020 年上半年我国乘用车产量为多少万辆? ()
 A. 763.2 B. 772.5 C. 777.5 D. 786.2
112. 2019 年 5 月，我国乘用车产量约比销量 ()。
 A. 少 1.4 万辆 B. 少 7.2 万辆 C. 多 2.3 万辆 D. 多 5.8 万辆
113. 2019 年 11 月，我国乘用车销量约为当年 7 月的 ()。
 A. 1.35 倍 B. 1.42 倍 C. 1.47 倍 D. 1.52 倍
114. 2020 年 4 月，我国乘用车产量环比增速比销量高 ()。
 A. 3 个百分点 B. 4 个百分点 C. 5 个百分点 D. 6 个百分点
115. 能够从上述资料中推出的是 ()。
 A. 2020 年上半年，我国乘用车产量高于销量
 B. 2019 年下半年，我国乘用车销量逐月递增
 C. 2019 年 7 月~2020 年 6 月，我国乘用车产量和销量同比上升、同比下降趋势一致
 D. 若 2020 年下半年按 2020 年上半年的销量计算，则 2020 年我国乘用车销量同比有所下降

三、根据以下资料，回答 116~120 题。

表一 中国冰雪旅游城市级目的地排行榜

城市	省份	地域	游客期待指数	美誉度	核心竞争力	传播影响力
哈尔滨	黑龙江	东北	97.3	91.5	95.3	89.2
长春	吉林	东北	93.7	89.9	90.1	85.8
张家口	河北	京津冀	85.6	88.4	90.5	93.1
沈阳	辽宁	东北	83.2	90.3	88.8	86.2
呼伦贝尔	内蒙古	内蒙	86.3	94.1	87.4	78.5
乌鲁木齐	新疆	西北	87.3	89	89.3	76.5
吉林	吉林	东北	84.1	90.3	86.6	72.3
牡丹江	黑龙江	东北	87.2	88.4	78.3	76.4
伊春	黑龙江	东北	80.2	89.1	80.3	73.2
延庆	北京	京津冀	77.5	87.5	72.1	81.4

表二 中国冰雪旅游营销事件排行

营销事件	省份	舆论声量	美誉度	创新指数
哈尔滨国际冰雪节	黑龙江	97	89	88
黑龙江全民冰雪活动日	黑龙江	91	87	88
长春净月潭瓦萨国际滑雪节	吉林	83	88	93
鸟巢欢乐冰雪季	北京	85	91	85
黑龙江大型冰雪旅游直播 show	黑龙江	82	88	91
中国吉林国际雾凇冰雪节	吉林	81	90	86
查干湖冬捕旅游节	吉林	86	90	83
“冰雪天路”探寻之旅	内蒙古	75	89	89
内蒙古冰雪那达慕	内蒙古	78	88	83
中国新疆冰雪旅游节暨冬季旅游产业博览会	新疆	75	86	81

116. 表一中，冰雪旅游四项指标总得分最高的城市是（ ）。
- A. 乌鲁木齐 B. 张家口 C. 哈尔滨 D. 呼伦贝尔
117. 表一中，游客期待指数和美誉度相差最大的是（ ）。
- A. 延庆 B. 哈尔滨 C. 伊春 D. 长春
118. 表二中，各营销事件美誉度平均得分约为（ ）。
- A. 89.85 B. 88.6 C. 86.7 D. 83.3
119. 假定舆论声量、美誉度和创新指数得分分别占综合竞争力权重的 20%、40%、40%，那么最具竞争力的 3 个营销事件分别是（ ）。
- A. 哈尔滨国际冰雪节、长春净月潭瓦萨国际滑雪节、黑龙江大型冰雪旅游直播 show
- B. 哈尔滨国际冰雪节、长春净月潭瓦萨国际滑雪节、黑龙江全民冰雪活动日
- C. 中国新疆冰雪旅游节暨冬季旅游产业博览会、鸟巢欢乐冰雪季、查干湖东捕旅游节
- D. 哈尔滨国际冰雪节、长春净月潭瓦萨国际滑雪节、内蒙古冰雪那达慕
120. 根据所给资料，下列分析正确的是（ ）。
- A. 所有城市游客期待指数和传播影响力均呈正相关

- B. 美誉度最高的四个城市其核心竞争力也分列前四名
- C. 总得分最高的营销事件其分数高出第四名 6%
- D. 黑龙江的营销事件舆论声量总值高于吉林

四、根据以下资料，回答 121~125 题。

受疫情影响，2020 年全国社会消费品零售总额 391981 亿元，同比下降 3.9%，居家消费需求明显增长，“宅经济”带动新型消费模式加快发展。2020 年，全国网上零售额比上年增长 10.9%，增速比前三季度加快 1.2 个百分点。其中实物商品网上零售额增长 14.8%，占社会消费品零售总额的比重为 24.9%。在线上消费快速增长带动下，全年快递业务量超过 830 亿件，比上年增长超过 30%。

G 省消费市场受新冠肺炎疫情冲击更为明显，2020 年全省社会消费品零售总额 40207 亿元，同比下降 6.4%。一季度，消费市场受疫情明显冲击，市场销售大幅下降 19.0%。随着疫情防控形势不断好转及多项政策措施持续显效。市场主体加快复商复产，居民消费需求稳步释放。二季度市场销售降幅较一季度收窄 10 个百分点，三季度消费品零售总额与去年同期基本持平。四季度，社会消费品零售总额同比增长 1.9%，整体回升态势明显。



其中，G 省城镇消费品零售额 35904 亿元，同比下降 6.3%；农村消费品零售额 4303 亿元，同比下降 6.8%。2020 年 12 月城镇消费品零售额 3480 亿元，同比增长 0.6%；农村消费品零售额 436 亿元，同比增长 6.4%，消费情况明显回暖。

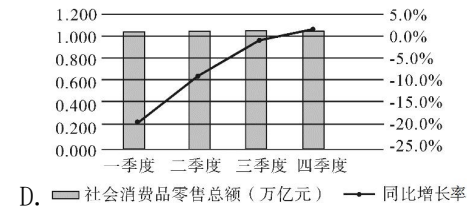
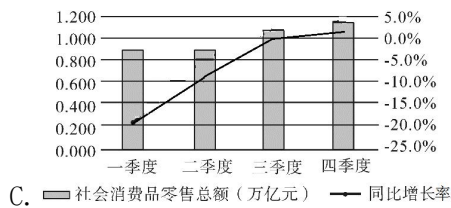
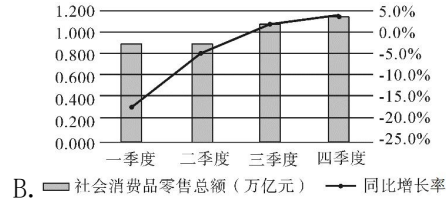
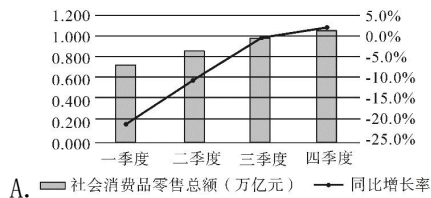
121. 2016~2020 年，G 省社会消费品零售总额年均增长率约为 ()。
- A. 2% B. 5% C. 8% D. 11%
122. 与 2019 年相比，2020 年 G 省社会消费品零售总额占全年的比重 ()。
- A. 增加了 2.7 个百分点 B. 增加了 0.27 个百分点
- C. 下降了 2.7 个百分点 D. 下降了 0.27 个百分点
123. 与 2019 年相比，2020 年全国实物商品网上零售额增长约 () 万亿元。
- A. 1.26 B. 2.26 C. 3.26 D. 4.26
124. 根据以上资料，下列说法错误的是 ()。
- A. 2019 年全国快递业务量少于 650 亿件

B. 2019年，G省城镇消费品零售额占全省社会消费品零售总额九成以上

C. 2020年12月，农村与城镇的消费品零售额均高于其他月份平均水平

D. 如果2019年全国各季度网上零售额相等，则2020年第四季度网上零售额同比增长率约为14.5%

125. 下列选项最有可能符合G省2020年各季度社会消费品零售情况的是（ ）。



展鸿2022年湖北公务员辅导课程

定金500元报名，赠送教材书6本搭配145节网课提前学
湖北公务员备考QQ群：398154854，咨询电话15629509178陈老师

课程名称	类别	适合人群	开课时间	学费
320定金班	网课+资料	0基础学员与基础不牢固 9章75节系统提升班 【赠送10本教材教辅】	随报随学	320元 升仓翰林学府班最高立减2000元
高能全年班	特训	渴望上岸，全职备考考生	一年内无限学 笔试全年无限学--循环上课 面试全年无限学--循环上课	19800元 (包住)
	全协			39800元 (包住) 未录取退26000元
翰林学府班	特训	综合提升，系统学习 从理论到题海再到实战	【30天29晚】 2月23日-3月24日	8800元 (走读)
	上岸补交		进面培训10天面试	0元入学 (学杂费1999元) 上岸补交23800元