

2022 年安徽省来安市事业单位考试试卷

《职业能力倾向测验》

【声明】

1. 以下题目均来源于网络，可能存在偏差，展鸿教育不对此准确性、合法性及内容的真实性负责；
2. 本份卷子的答案及解析基本为展鸿教育独家编写，转载请注明出处；
3. 若有权利人对题目及解析主张所有权，请及时联系我司，我司将依法采取措施保障权利人的合法权益！

第一部分 常识判断

(本大题共 10 小题，每小题 1.6 分，共 16 分)

请按照每道题的要求依据常识做出判断。注意：合理的答案可能有多种，你的选择应与题目要求最相符合。

1. A. 教育问题 B. 道路问题 C. 制度问题 D. 农民问题

1. 【答案】B。

2. A. 38% B. 44% C. 52% D. 60%

2. 【答案】A。

3. A. 基本养老保险为基础、以企业（职业）年金为补充、与个人储蓄性养老保险和商业养老保险相衔接
B. 基本养老保险为基础、以企业（职业）年金为补充、与个人储蓄性养老保险和福利养老保险相衔接
C. 基本养老保险为基础、以个人储蓄性养老保险为补充、与企业（职业）年金和商业养老保险相衔接
D. 基本养老保险为基础、以个人储蓄性养老保险和企业（职业）年金为补充与福利养老保险相衔接

3. 【答案】A。

4. A. 在中国古代已经有“权利”和“义务”二词，且意义相当于现代意义上法定的权利和义务的概念
B. 中国古代关于权利和义务及其社会价值的观念理论极其匮乏，思想也不成熟
C. 根据古代法家代表管仲的观点，社会需要法律，其本质并不在于明确权利和义务各自的界限
D. 法律权利和义务概念在中国出现是 19 世纪西学东渐之后的事情，经历了漫长的认知过程

4. 【答案】D。

5. A. O_2 B. CO_2 C. H_2 D. N_2

5. 【答案】B。

6. A. 貂蝉 B. 西施 C. 王昭君 D. 杨贵妃

6. 【答案】C。

7. A. 腓肠肌 B. 比目鱼肌 C. 趾长伸肌 D. 胫骨后肌

7. 【答案】A。

8. A. 钟薛高 B. DQ（冰雪皇后） C. 旺旺 D. 中街 1946

8. 【答案】B。

9. A. 顾恺之是唐代著名画家，有“画圣”之称，擅长人物画，有“吴带当风”之美誉
B. 被闻一多称之为“诗中的诗，顶峰上的顶峰”的唐诗是《春江花月夜》，作者是张若虚
C. “乐府双璧”指我国古代最优秀的民间叙事诗《孔雀东南飞》和《木兰辞》
D. 初伏、中伏、末伏统称三伏。夏至节的第三个庚日为初伏的第一天，第四个庚日为中伏的第一天，立秋节后的第一个庚日是末伏的第一天

9. 【答案】A。

10. A. 卵产于水面，孵化为水生幼虫孑孓
B. 疟蚊是疟疾的唯一媒介，它还传播丝虫病和脑炎
C. 只有雄蚊才吸血，雌蚊“吃素”一般食花蜜和植物汁液
D. 世界上完全没有蚊子的国家为冰岛，完全没有蚊子的大洲为南极洲

10. 【答案】C。

第二部分 数量关系

（本大题共 20 小题，每小题 1.7 分，共 34 分）

一、数字推理：给你一个数列，但其中缺少一项，要求你仔细观察数列的排列规律，然后从四个供选择的选项中选出你认为最合理的一项，来填补空缺项，使之符合原数列的排列规律。

11. A. 28 B. 30 C. 32 D. 34

11. 【答案】C。

12. A. $\frac{1}{4}$ B. $\frac{2}{5}$ C. $\frac{9}{28}$ D. $\frac{8}{23}$

12. 【答案】C。

13. A. 32 B. 31. 1 D. 34. 3 D. 32. 9

13. 【答案】A。

14. A. 84 B. 100 C. 120 D. 125

14. 【答案】D。

15. A. 128 B. 119 C. 136 D. 170

15. 【答案】B。

二、数字运算：在这部分试题中，每道试题呈现一段表述数字关系的文字，要求你迅速、准确地计算出答案。

16. A. 300 B. 450 C. 900 D. 1350

16. 【答案】B。

17. A. 950 B. 980 C. 987 D. 999

17. 【答案】A。

18. A. 31 B. 35 C. 37 D. 38

18. 【答案】D。

19. A. 20 B. 40 C. 48 D. 60

19. 【答案】B。

20. A. 75 B. 93 C. 186 D. 203

20. 【答案】C。

21. A. 1:1 B. 23:24 C. 24:25 D. 23:25

21. 【答案】D。

22. A. 刚好完成 B. 早已完成 C. 还剩 30%未完成 D. 还差 100 页未完成

22. 【答案】C。

23. A. 20 B. 30 C. 40 D. 60

23. 【答案】B。

24. A. 13440 B. 13755 C. 18025 D. 18240

24. 【答案】A。

25. A. 6 小时 B. 7 小时 C. 8 小时 D. 9 小时

25. 【答案】C。

26. A. 260 B. 208 C. 234 D. 286

26. 【答案】A。

27. A. $\frac{1}{4}$ B. $\frac{1}{12}$ C. $\frac{1}{8}$ D. $\frac{5}{24}$

27. 【答案】A。

28. A. 35% B. 40% C. 50% D. 60%

28. 【答案】A。

29. A. 36 B. 42 C. 48 D. 52

29. 【答案】C。

30. A. 22.5%~43.5% B. 31.5%~52.5% C. 40.5%~61.5% D. 37.5%~72.5%

30. 【答案】D。

第三部分 言语理解与表达

(本大题共 20 小题，每小题 1.8 分，共 36 分)

每道题包含一段话或一个句子，后面是一个不完整的陈述，要求你从四个选项中选出一个来完成陈述。注意：问题可能是选择一个词语或一个句子使表达最为准确，也可能是考察对文字内容的理解，你的选择应与题目要求最相符合。

31. A. 革故鼎新 抱残守缺 白驹过隙 B. 革故鼎新 不落窠臼 昙花一现
C. 与时俱进 抱残守缺 昙花一现 D. 与时俱进 不落窠臼 白驹过隙

31. 【答案】C。

32. A. ~~掠~~客 ~~歼~~灭 熏陶~~渐~~染 三~~缄~~其口 B. ~~拊~~掌 果~~脯~~ 惊魂~~甫~~定 ~~釜~~底抽薪
C. ~~赍~~赏 ~~畸~~形 ~~跻~~身文坛 ~~岌~~岌可危 D. ~~伫~~立 ~~搐~~动 ~~怵~~目惊心 相形见~~绌~~

32. 【答案】B。

33. A. 传统的信息化可以加快信息传递、流通速度，而数字化能进一步实现对数据价值的深度挖掘、应用
B. 孩子的教育关系到祖国的未来，欠发达地区孩子的教育更关系到巩固拓展脱贫攻坚成果与全面推进乡村振兴有效衔接
C. 发展好、运用好、治理好互联网，让互联网更好造福人类，国际社会的共同责任
D. 休息权是公民受宪法保护的不可剥夺的基本权利，休息与劳动是相辅相成的辩证关系，会休息才会工作，没有休息的劳动难以为绩

33. 【答案】D。

34. A. 用来酿制红酒的葡萄皮中含有的白藜芦醇，能够提高对人体有益的高密度脂蛋白胆固醇的含量
B. 消费品工业涉及衣食住行游购娱等各领域，有助于吸纳就业、出口创汇，是满足人类美好生活需要的关键支撑，也是拉动经济增长的重要力量
C. 新华社发现酵母丙氨酸转移核糖核酸人工合成在上海胜利完成的消息后，广大读者非常重视，科学届人士也非常重视，引起了强烈的反应
D. 近期，全国各地频发骗取客户密码、实施网银盗窃案件。网络安全遭到破坏，一时间高度引发广大网民关注

34. 【答案】B。

35. A. 杜甫川唱来柳林铺笑，红旗飘飘把手招。——比喻
B. 无言独上西楼，月如钩。寂寞梧桐深院锁清秋。——拈连
C. 东市买骏马，西市买鞍鞯，南市买辔头，北市买长鞭。——互文
D. 虽我之死，有子存焉；子又生孙，孙又生子；子又有子，子又有孙；子子子孙孙无穷匮也。——顶真

35. 【答案】A。

36. A. 数百位遇难者的家属举行了隆重的追悼会
B. 八旬翁难忍老伴闹离婚
C. 母亲节妈妈希望孩子别送礼品送祝福
D. 吸烟不得非典无证据

36. 【答案】D。

37. ①推动……落实
②中医……重要法律
③推动……磅礴力量
④特别……健康福祉
⑤加快……体系
⑥法律……升

A. ⑤①⑥②④③

B. ③②①④⑥⑤

C. ②⑥④①⑤③

D. ①③⑥④⑤②

37. 【答案】C。

- 38. A. 唐朝对海外的巨大影响力 B. 唐三彩的工艺技巧和方法
- C. 唐三彩在域外的流传和影响 D. 唐朝手工业产品的发展历史

38. 【答案】C。

- 39. A. 天气预报员是如何工作的
- B. 未来天气预报是天气预报员和首席预报员共同的智慧成果
- C. 计算机在天气预报中发挥着重要的作用
- D. 我国“未来天气”预报是怎样做出来的

39. 【答案】D。

- 40. A. 关于阅读，不只是书本 B. 父母们只有放下手机，才能陪孩子阅读
- C. 你看手机，孩子看书？ D. 家长高度认同阅读对于子女成长的价值

40. 【答案】B。

- 41. A. 一个企业的良好形象可以促进市场经济的发展
- B. 市场经济条件下，少数民族传统文化资源可以转化为巨大的经济价值
- C. 少数民族传统文化是我国重要的文化组成部分，应大力推广
- D. 少数民族地区的经济发展依靠引进外资，提高产品的技术含量，建立高效的激励机制的方法是不可行的

41. 【答案】B。

- 42. A. 社会应尊重不同的声音和思想 B. 错误思想和邪恶观念的产生是不可避免的
- C. 大多数人的沉默可以使功利最大化 D. 人类的智慧是有限的

42. 【答案】A。

- 43. A. 努力拼搏，获取关键核心技术 B. 把关键核心技术掌握在自己手中
- C. 重视激励原始创新和核心技术研发 D. 发挥创新引领作用，掌握关键核心技术

43. 【答案】B。

- 44. A. 面部皮肤是肤色美的集中体现
- B. 皮肤美是人体美的重要标志
- C. 中国人都是黄皮肤，是外国人民羡慕的颜色
- D. 从面部皮肤可以看出人体的健康状况与精神面貌

44. 【答案】C。

45. A. 受扶植政策不到位、市场培育滞后、技术开发存在瓶颈问题
B. 受限制的行业在短时期内增长缓慢
C. 政府通过各类手段，促使产业结构升级
D. 经济转型政策短期内成效甚微

45. 【答案】B。

46. A. 神经细胞 B. 神经系统 C. CPEB 合成的蛋白质 D. 突触

46. 【答案】D。

47. A. 应重视道德与科技同时发展 B. 科技发展带来的利与弊
C. 应重视精神文明的发展 D. 物质文明和精神文明不可兼得

47. 【答案】A。

48. A. 保存难度之大 B. 是否开放是一个难题
C. 易受细菌感染 D. 价值难以发挥作用

48. 【答案】B。

49. A. 嘲讽 B. 理解 C. 批判 D. 反对

49. 【答案】B。

50. A. 平均主义适用于各种领域 B. 追求社会公正并非要搞平均主义
C. 社会公正会扼杀社会发展的活力 D. 社会公正是相对的

50. 【答案】B。

第四部分 判断推理

(本大题共 20 小题，每小题 2.1 分，共 42 分)

一、定义判断：每道题先给出一个或多个定义，然后列出四种情况，要求你严格依据定义，从中选出一个最符合或最不符合该定义的答案。注意：假设这定义是正确的，不容置疑的。

51. A. 安徽省人民政府召开新闻发布会
B. 知名高校教授在杂质上发表自己的学术观点
C. 保健品厂为宣传产品在电视上播出产品广告
D. 李奶奶在报纸上刊登寻找家里丢失宠物猫的酬谢广告

51. 【答案】A。

52. A. 将军百战死，壮士十年归
B. 鼓之以雷霆，润之以风雨
C. 受任于败军之际，奉命于危难之间
D. 流共工于幽州，放欢兜于崇山，窜三苗于三危，殛鲧于羽山

52. 【答案】B。

53. A. 建材厂的库存货物
B. 婚车公司用于出租的车辆
C. 制表企业旗下服装品牌的商标权
D. 电子科技集团按照国家规定获得的技术补贴

53. 【答案】D。

54. A. 及时通信软件——支持点对点在线聊天、文件传送等功能
B. 网上水果店——利用电子商务的各种手段实现新鲜农产品买卖过程
C. 网络搜索引擎——为检索者查找存储在互联网上的信息
D. 网络电子相册——为用户存放、展示、分享照片等功能

54. 【答案】A。

55. A. 咨询师向来访者介绍自己与朋友之间的相处方式，来访者认为咨询师的方法不适合自己
B. 咨询师在咨询中详细询问职业为理财顾问的来访者对当前理财状况的看法，并针对自己持有的理财产品询问建议
C. 咨询师听来访者小杰讲述如何在学校里努力改善和室友的关系，颇受感动，咨询结束时轻轻拥抱小杰，对他说：“加油！”
D. 咨询结束时，咨询师小王（男）应来访者姐姐（女）的要求，拥抱了她。而小王意识到他这样做是因为他被姐姐的女性特质所吸引

55. 【答案】B。

二、图形推理：请按每道题的答题要求，从四个选项选出最合适一项。

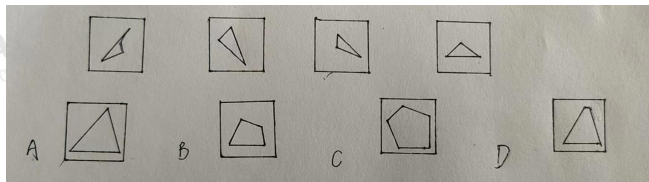
56.



- A. ①②③，④⑤⑥
B. ①③④，②⑤⑥
C. ①②⑤，③④⑥
D. ①④⑤，②③⑥


56. 【答案】C。

57.




57. 【答案】A。

58.



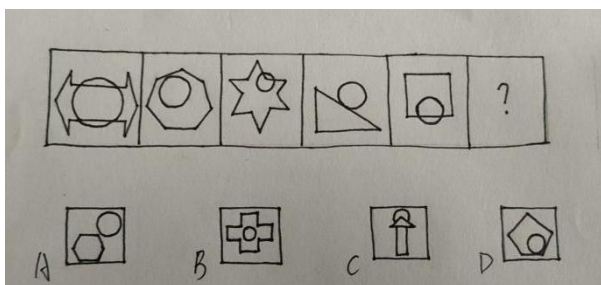
58. 【答案】B。

59.



59. 【答案】A。

60.



60. 【答案】D。

三、逻辑判断：每道题给出一段陈述，这段陈述被假设是正确的，不容置疑的，要求你根据这段陈述，选择一个答案。注意：正确的答案应与所给的陈述相符合，不需要任何附加说明即可以从陈述中直接推出。

61. A. 说真话的是赵六和王五 B. 说真话的是张三和赵六
C. 说真话的是李四和赵六 D. 说真话的是李四和王五

61. 【答案】D。

62. A. 甲和丁，乙和戊，丙和戊 B. 甲和戊，乙和丁，丙和戊
C. 甲和戊，乙和戊，丙和丁 D. 甲和丁，乙和戊，丙和戊

62. 【答案】A。

63. A. 有些没有参加速度滑冰比赛的运动员参加了体操比赛
B. 所有参加体操比赛的运动员也参加了速度滑冰比赛
C. 有些没有参加体操比赛的运动员也没有参加速度滑冰比赛
D. 有些参加速度滑冰比赛的运动员参加了体操比赛

63. 【答案】A。

64. A. 新型半导体材料已经与大企业合作并投入大量生产
B. 目前研制的半导体材料在建筑上也可以广泛使用
C. 利用这种新材料生产的家用电器的成本有望在未来达到与传统家用电器相近的程度
D. 新型半导体材料生产的产品的效能还未能确认

64. 【答案】C。

65. A. 火星表面的矿物质并不活跃，地表地貌还是早期原貌
B. 沸石、硫化物和黏土这三类物质是仅在冰川下的火山活动后才会产生的独特物质
C. 火星勘察仪发现，火星存在火山
D. 在火星表面的一些圆形平顶山丘发现某种物质，证明很可能存在冰原

65. 【答案】B。

四、类比推理：先给出一组或多组相关的词，要求你在备选答案中找出一组与之在逻辑关系是最为贴近、相似或匹配的词。

66. A. 柠檬：白醋 B. 莲子：莲蓬
C. 水泥：建造 D. 甘蔗：红糖

66. 【答案】D。

67. A. 茅台酒：树脂板
C. 计算器：保健酒
B. 五柳鱼：保鲜膜
D. 砖瓦房：安全帽

67. 【答案】C。

68. A. 黄钟大吕：嘈杂
C. 杳如黄鹤：悠闲
B. 马捉老鼠：瞎忙
D. 兀兀穷年：懒惰

68. 【答案】B。

69. A. 安全着陆：平稳飞行
C. 刻苦勤奋：成绩优秀
B. 卖出高粱：买入白酒
D. 熬夜酗酒：损害健康

69. 【答案】D。

70. A. 万花筒：观察：花卉
C. 录音棚：专辑：播放
B. 蜘蛛网：爬行：织网
D. 路由器：连接：网络

70. 【答案】D。

第五部分 资料分析

(本大题共 10 小题，每小题 2.2 分，共 22 分)

71. A. 3.3 倍
B. 3.6 倍
C. 3.7 倍
D. 3.9 倍
72. A. 不到 1/2
B. 相当于 1/2
C. 超过 1/2
D. 无法确定

71. 【答案】A。

72. 【答案】A。

73. A. 110%
B. 115%
C. 125%
D. 136%

73. 【答案】D。

74. A. 低保金额总量还是城镇高
C. 城镇社区服务设施建设明显优于农村
B. 农村低保人口覆盖面小于城镇
D. 农村低保对象的人均保障水平低于城镇

74. 【答案】D。

75. A. 农村基层的看病难问题已得到一定缓解
C. 卫生医疗等公共资源正向县级医院倾斜
B. 市医院职工人数平均规模明显高于县医院
D. 市医院床位数约占全省医院床位数的 70%

75. 【答案】B。

76. A. 1 B. 2 C. 3 D. 4

76. 【答案】B。

77. A. 增加了 3.7% B. 减少了 3.7% C. 减少了 0.3% D. 增加了 0.3%

77. 【答案】C。

78. A. 11.9% B. 14.7% C. 18.1% D. 21.5%

78. 【答案】C。

79. A. 秦皇岛港 B. 青岛港 C. 深圳港 D. 天津港

79. 【答案】B。

80. A. 沿海港口合计吞吐量 2019 年 7 月同比增长额低于 2018 年

B. 2016~2019 年，每年 7 月内河港口合计吞吐量在全国港口货运吞吐总量中所占的比重逐渐降低

C. 2019 年 7 月，天津港在全国港口货运吞吐总量中的比重为四年以来同期最高

D. 与 2016 年 7 月相比，表中 2019 年 7 月货运吞吐量增长率最高的港口是一个沿海港口

80. 【答案】A。