

2022年7月23日安徽省桐城市事业单位考试试卷

《职业能力倾向测验》

【声明】

1. 以下题目均来源于网络，可能存在偏差，展鸿教育不对此准确性、合法性及内容的真实性负责；
2. 本份卷子的答案及解析基本为展鸿教育独家编写，转载请注明出处；
3. 若有权利人对题目及解析主张所有权，请及时联系我司，我司将依法采取措施保障权利人的合法权益！

第一部分 常识判断

(共 25 题，参考时限 15 分钟)

根据题目要求，在四个选项中选出一个最恰当的答案。

1. A. 《中国共产党政治协商工作条例》
B. 《中国共产党章程（修正案）》
C. 《中共中央关于党的百年奋斗重大成就和历史经验的决议》
D. 《关于建国以来党的若干历史问题的决议》

1. 【答案】C。

2. A. 革命精神 B. 红船精神 C. 奋斗精神 D. 建党精神

2. 【答案】D。

3. A. 随着经济社会的发展，民族差异和各民族在经济文化上的差距将逐渐消失
B. 在社会主义制度下各民族实现了真正意义上的平等团结进步
C. 我国坚定不移走中国特色解决民族问题的正确道路
D. 我国创造性地把马克思主义民族理论同中国民族问题具体实际相结合

3. 【答案】A。

4. A. 减税降费有助于优化经济结构 B. 我国需要继续执行制度性减税政策
C. 要突出强化小微企业的税收优惠 D. 减税会减少企业和个人的可支配收入

4. 【答案】D。

5. A. 三农 B. 作风 C. 发展 D. 组织

5. 【答案】A。

- 6. A. 保持经济运行在合理区间，既稳增长，又防通胀、注意防输入性通胀
- B. 市场主体是经济发展动力源，就业顶梁柱
- C. 二季度我国经济发展趋向平稳，下行压力减少
- D. 稳定粮食能源价格稳定是稳物价的关键

6. 【答案】C。

- 7. A. 辽宁舰 B. 山东舰 C. 福建舰 D. 上海舰

7. 【答案】C。

- 8. A. 神舟十四号 B. 神舟十三号 C. 天翼一号 D. 神州五号

8. 【答案】A。

- 9. 党的十八大以来……养活了世界近五分之一的人口，也为应对各种风险挑战赢得了战略主动。

- A. 5% B. 9% C. 14% D. 20%

9. 【答案】B。

- 10. A. 甲长期对妻子实施家庭暴力，法院调解无效时应准予离婚
- B. 李女士的婚前财产在结婚后成为夫妻双方共同财产
- C. 二十周岁的林女士和同年出生的王先生结婚
- D. 离婚后，刘女士必须独自负担子女的生活费和教育费

10. 【答案】A。

- 11. A. 政治职能 B. 经济职能 C. 文化职能 D. 社会公共服务职能

11. 【答案】C。

- 12. A. 全国人民代表大会代表由选民直接选举产生
- B. 全国人大有权修改宪法，制定和修改基本法律
- C. 人民代表大会制度是我国的根本政治制度
- D. 国家行政机关由人民代表大会产生

12. 【答案】A。

- 13. 中共中央印发的……形成覆盖城乡、便捷高效、均等普惠的现代公共法律服务体系。

- A. 2021 B. 2022 C. 2023 D. 2025

13. 【答案】B。

- 14. A. 资本家对工人最基本的剥削方式是绝对剩余价值的生产

- B. 剩余价值体现了资本家和雇佣工人之间剥削与被剥削的关系
- C. 剩余价值是雇佣工人剩余劳动的凝结
- D. 剩余价值的资本化，就是资本积累

14. 【答案】A。

- 15. A. 商品的价格由价值决定
- B. 商品的价格由使用价值决定
- C. 商品的价格由质量决定
- D. 商品的价格由经济规律决定

15. 【答案】A。

- 16. A. 日常生活中呼吸的空气
- B. 同桌赠送的商店的橡皮
- C. 博物馆里陈列的古文物
- D. 菜市场老王摆摊的蔬菜

16. 【答案】D。

- 17. A. 货币的本质是一般等价物
- B. 小红送给小明价值三元的橡皮，此时货币发挥了其流通手段的职能
- C. 老王在商场看到标价为 2 万的电脑，此时货币发挥了其价值尺度的印能
- D. 纸币比金属货币制作成本更低，更易于保管和携带

17. 【答案】B。

- 18. A. 商品价格变动引起商品需求量的反方向变化
- B. 价格变动对手机等高档耐用商品的销售量影响较大
- C. A 商品的价格上涨，与它互为替代的 B 商品需求增大
- D. A 商品的价格上涨，与它互为补充的 B 商品需求增大

18. 【答案】D。

- 19. ①AR……实时交互性
- ②AR……比 VR 技术更加明显的优势
- ③用户能感到……在于模拟环境中
- ④AR 系统是……增添定位虚拟物体

- A. ①③④
- B. ①②③
- C. ②③④
- D. ①②④

19. 【答案】D。

- 20. A. 京剧，又称平剧、京戏等，是中国影响最大的戏曲剧种，代表剧目有《牡丹亭》
- B. 越剧，中国第二大剧种，被称为是“流传最广的地方剧种”，代表剧目有《红楼梦》
- C. 黄梅戏，旧称黄梅调或采茶戏，起源于湖北黄梅，代表剧目有《天仙配》
- D. 评剧，流传于中国北方，是汉族传统戏曲剧种之一，代表剧目有《金沙江畔》

20. 【答案】A。

- A. 最早用全身麻醉的方法施行外科技术的“药圣”华佗
- B. 中国珠算的集大成者、明代数学家程大位
- C. 中国两弹元勋、核物理学家邓稼先
- D. 汉末建安文学的代表人物曹操、曹丕、曹植

21. 【答案】A。

- A. “无废城市”以创新、协调、绿色、开放、共享的新发展理念为引领
- B. “无废城市”就是要坚持“4可原则”，即可见，可减，可用，可消
- C. “无废城市”意味着固体废物能完全资源化利用
- D. 推进“无废城市”建设，对推动固体废物源头减量具有重要意义

22. 【答案】C。

- 23. A. 石油 B. 水能 C. 风能 D. 太阳能

23. 【答案】A。

- 24. A. 落霞与孤鹜齐飞，秋水共长天一色——王勃
- B. 海内存知己，天涯若比邻——孟浩然
- C. 天生我材必有用，千金散尽还复来——李白
- D. 明月松间照，清泉石上流——王维

24. 【答案】B。

- 25. A. “秦岭——淮河”以南地区冬季不结冰，一年四季常绿
- B. “秦岭——淮河”以北地区耕地为旱地，主要作物为小麦和甘蔗
- C. “秦岭——淮河”以北地区河流水量不大，夏季才有汛期
- D. “秦岭——淮河”以南地区农作物大多一年两熟或三熟

25. 【答案】B。

第二部分 言语理解与表达

(共 20 题, 参考时限 20 分钟)

本部分包括理解与表达两方面的内容。请根据题目要求, 在四个选项中选出一个最恰当的答案。

26. A. 传承 B. 继承 C. 诠释 D. 弘扬

26. 【答案】C。

27. A. 独善其身 B. 明哲保身 C. 隔岸观火 D. 无动于衷

27. 【答案】A。

28. A. 蓄势待发 B. 韬光养晦 C. 动须相应 D. 厚积薄发

28. 【答案】D。

29. A. 博大精深 B. 多姿多彩 C. 兼收并包 D. 包容万物

29. 【答案】C。

30. A. 背离 好高骛远 B. 违反 鼠目寸光

C. 背弃 急功近利 D. 违背 贪功冒进

30. 【答案】D。

31. A. 饱经沧桑 熠熠生辉 B. 备受瞩目 流光溢彩

C. 引人注目 美轮美奂 D. 脱颖而出 光彩夺目

31. 【答案】B。

32. A. 不同寻常 威胁 B. 格格不入 胁迫

C. 非同凡响 恐吓 D. 异乎寻常 恐惧

32. 【答案】A。

33. A. 平衡 分工 南辕北辙 B. 博弈 小众 背道而驰

C. 冲突 细分 适得其反 D. 融合 内涵 事与愿违

33. 【答案】A。

34. A. 如鲠在喉 痛心入骨 忘却 B. 如坐针毡 呼天抢地 除去
C. 如芒在背 触目惊心 战胜 D. 如履薄冰 老泪纵横 抛弃

34. 【答案】A。

35. A. 数不胜数 一身正气 守住 B. 各色各样 反求诸己 坚持
C. 形形色色 严于律己 坚守 D. 花样百出 正大光明 固守

35. 【答案】C。

36. A. 行政保护是知识产权保护的重要方式
B. 充分保护知识产权有利于激发创新活力
C. 行政保护是一种高效节能的争诉处理方式
D. 行政保护在社会生活的各方面都有重要价值

36. 【答案】A。

37. A. 新技术发展倒逼传统图书出版形式变革
B. 出版机构应转变思维方式应对阅读新需求
C. 单一的传统图书出版形式已经失去生命力
D. 形成良性循环才能改进图书策划与呈现方式

37. 【答案】B。

38. A. 人为因素是导致全球气候变暖的主要原因
B. 温室气体大量排放导致二氧化碳浓度过高
C. 国际社会认识到需约束碳排放以控制全球升温
D. 长期的温室气体排放导致全球气候增暖不可逆

38. 【答案】C。

39. A. 青少年盲目追星容易受误导
B. 利益驱使导致“饭圈”乱象频发
C. “饭圈”乱象严重破坏网络生态
D. 亟须出台政策整治“饭圈”乱象

39. 【答案】D。

40. A. 互联网经济催生电商直播新业态
B. 各行各业急于搭上电商直播快车

- C. 自身价值促进电商直播快速发展
- D. 电商直播刺激经济增长已成大势

40. 【答案】A。

- 41. A. 我国空气治理进程比发达国家快
- B. 我国部分城市 PM2.5 浓度下降显著
- C. 发达国家空气治理过程漫长效率低下
- D. 我国现阶段生态环境质量尚未得到本质提升

41. 【答案】C。

- 42. A. 中国提高开放水平为 global 经济发展作出巨大贡献
- B. 中国通过进博会推进开放并与世界分享发展红利
- C. 越来越多的国家企业通过进博会共享发展成果
- D. 中国通过进博会以自身开放推动世界共同开放

42. 【答案】B。

- 43. A. 帮助年轻人走出“极端化”势在必行
- B. 疫情间接导致了青少年自杀率的上升
- C. 尽管现状不佳，但将来总会有所改善
- D. 痛苦地活着比一死了之有更多的意义。

43. 【答案】A。

- 44. A. 营造红树林需在工作理念上保持科学性
- B. 修复红树林时要兼顾“宜林”和“易林”
- C. 红树林保护修复要坚持质与量并重原则
- D. 红树林保护修复需要科学处理工作布局

44. 【答案】D。

- 45. A. 波斯地毯位列“伊朗五宝”之一，曾经拍出天价
- B. 英法的丝绸残片证明古伊朗丝织品曾在海外流播
- C. 波斯地毯是伊朗丝织品中的和璧隋珠，极其珍贵
- D. 古伊朗的丝织品种类繁多，质地优良，工艺精美

45. 【答案】D。

第三部分 数量关系

(共 20 题, 参考时限 20 分钟)

在这部分试题中, 每道题呈现一段表述数字关系的文字, 要求你迅速、准确地计算出答案。

46. 小明……共用了 20 分钟。假设他骑车的速度是 6 千米每小时, 那么小明的家距离学校有()。

- A. 2 千米 B. 2.5 千米 C. 3 千米 D. 3.5 千米

46. 【答案】A

47. 毕业季来临……最大和是最小和的 3 倍, 则各组号码之和不可能的是()。

- A. 7 B. 9 C. 15 D. 16

47. 【答案】D。

48. 某班级出游……那么, 一共有多少辆车?()

- A. 3 辆 B. 4 辆 C. 5 辆 D. 6 辆

48. 【答案】C。

49. 小明问二手书店老板的卖书情况……已知一本书 5 元, 那么现在老板卖了多少元?()

- A. 1000 元 B. 1500 元 C. 2000 元 D. 2500 元

49. 【答案】B。

50. 初中生小强为了锻炼身体开始练习 100 米长的蛙跳……他跳完 100 米蛙跳需要多久?()

- A. 140 秒 B. 160 秒 C. 180 秒 D. 200 秒

50. 【答案】C。

51. 动物园里 5 只猴子分 23 只香蕉……一只猴子最多可以得到多少只香蕉?()

- A. 5 只 B. 7 只 C. 9 只 D. 11 只

51. 【答案】D。

52. 甲乙进行跑步比赛……乙到达终点时, 甲距离终点还有多远?()

- A. 144 米 B. 148 米 C. 156 米 D. 160 米

52. 【答案】D。

53. 小牛和老丁绕着家门口 600 米的小花园匀速散步……小牛的速度是多少?()

- A. 50 米/分钟 B. 80 米/分钟 C. 100 米/分钟 D. 160 米/分钟

53. 【答案】C。

54. 因为秋天的到来，某商店以 6 折的优惠力度……则该衣服原价是多少？（ ）

- A. 600 元 B. 580 元 C. 560 元 D. 540 元

54. 【答案】A。

55. 若某电动玩具的利润为成本的 50%……则的利润率是多少？（ ）

- A. 70% B. 75% C. 80% D. 85%

55. 【答案】C。

56. 某小区的水费定价如下：前 300 吨每吨 2 元……交了 1020 元，他家用了多少吨水？（ ）

- A. 350 吨 B. 405 吨 C. 510 吨 D. 600 吨

56. 【答案】B。

57. 某儿童服装店售价 120 元，月销量 200 套……降价多少元，销售额最大？（ ）

- A. 35 元 B. 40 元 C. 45 元 D. 50 元

57. 【答案】D。

58. 一个不透明的盒子里有 8 个蓝球、9 个红球、3 个白球……从盒子里拿出蓝球？（ ）

- A. 5 次 B. 12 次 C. 13 次 D. 18 次

58. 【答案】C。

59. 某班报名表演节目的人数共有 50 人……一个节目也没报名的有多少人？（ ）

- A. 10 人 B. 15 人 C. 20 人 D. 25 人

59. 【答案】D。

60. 小刘用 1000 元买进一个绝版手工艺品……再以买进价格的 80% 卖出。则小刘最终（ ）。

- A. 盈亏平衡 B. 盈利 8 元 C. 盈利 80 元 D. 盈利 100 元

60. 【答案】B。

61. 某高校新开设 3 门素质教育选修课……选修 2 门，则有几种选法？（ ）

- A. 6 种 B. 8 种 C. 9 种 D. 12 种

61. 【答案】A。

62. 某校两个兄弟班级差创建了三个学习小组……那么共有多少人参加学习小组？（ ）

- A. 52 人 B. 60 人 C. 72 人 D. 80 人

62. 【答案】C。

63. 某汽车店最近促销……第二天卖出的车平均价格为 ()。

- A. 6万 B. 8万 C. 10万 D. 12万

63. 【答案】B。

64. 3, 9…… 39, ()

- A. 57 B. 63 C. 69 D. 75

64. 【答案】B。

65. 2, $\frac{1}{2}$, ……6, $\frac{3}{2}$, 8, ()

- A. $\frac{5}{2}$ B. 5 C. $\frac{7}{2}$ D. 2

65. 【答案】D。

第四部分 判断推理

(共 20 题, 参考时限 20 分钟)

一、类比推理。每道题先给出一组相关的词, 要求你在备选答案中找出一组与之在逻辑关系上最为贴近、相似或匹配的词。

66. A. 灯泡 : 台灯

B. 打气筒 : 篮球

C. 电池 : 插线板

D. 面包 : 食物

66. 【答案】A。

67. A. 衬衫 : 衣柜

B. 充电器 : 手机壳

C. 拉链 : 书包

D. 软件 : 电脑

67. 【答案】A。

68. A. 雨伞 : 下雨

B. 眼镜 : 视力

C. 冰箱 : 保鲜

D. 汽车 : 加油

68. 【答案】C。

69. A. 学习 : 进步

B. 建筑 : 竣工

C. 监察 : 监督

D. 论文 : 发表

69. 【答案】D。

70. A. 阴差：阳错

B. 欢天：喜地

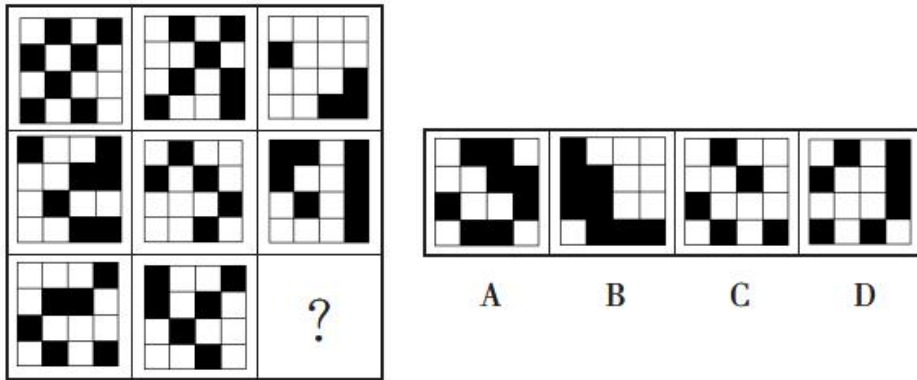
C. 古往：今来

D. 化险：为夷

70. 【答案】C。

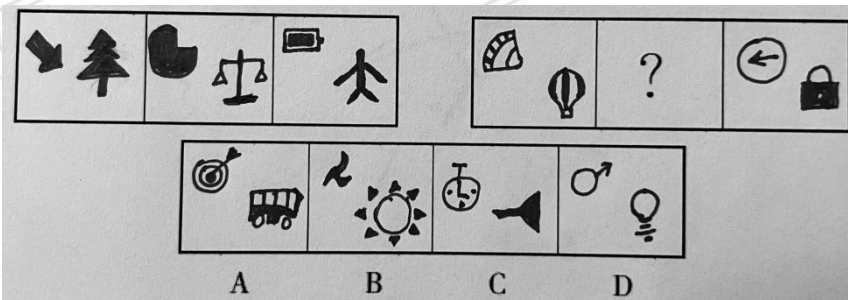
二、图形推理。请按每道题的答题要求作答。

71.



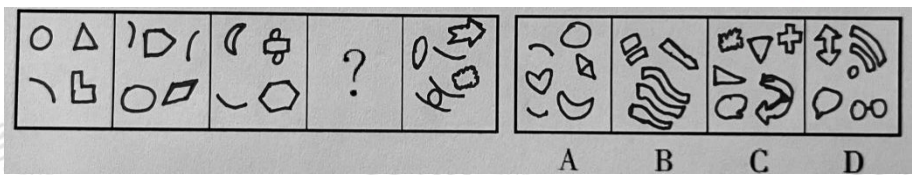
71. 【答案】B。

72.



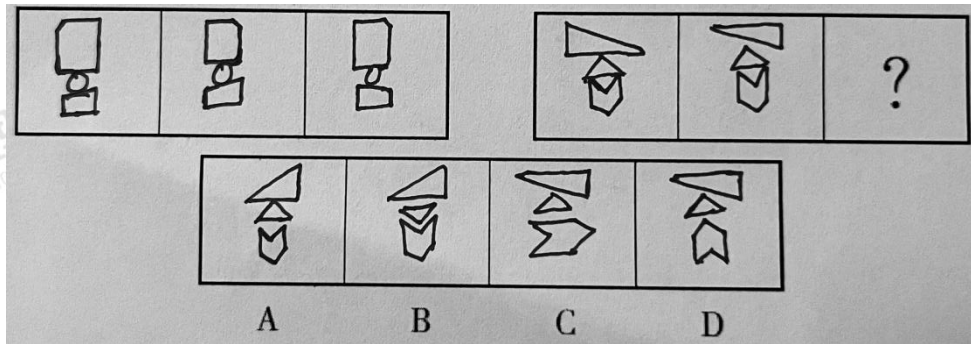
72. 【答案】D。

73.



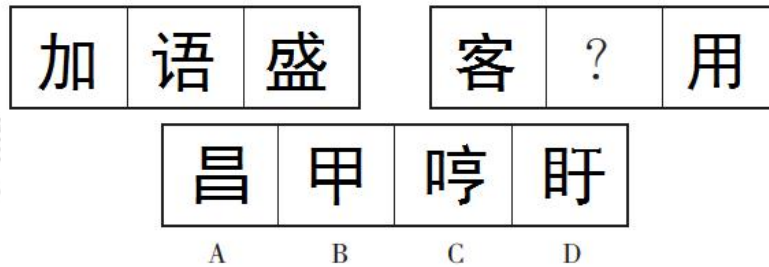
73. 【答案】A。

74.



74. 【答案】D。

75.



75. 【答案】D。

三、定义判断。每道题先给出定义，然后列出四种情况，要求你严格依据定义，从中选出一个最符合或最不符合该定义的答案。注意：假设这个定义是正确的，不容置疑的。

76. A. 某古桥承载了当地村民很多回忆，因为年久失修，镇政府决定将其拆除
 B. 由于油价上涨，某机场决定上调机场内所有航线的燃油附加费用
 C. 李经理五年前开了一家幼儿园，由于效益不错，他决定再开一家分店
 D. 某地突发疫情，当地一医院由于支援核酸检测护士较多，决定本周内上午停止门诊

76. 【答案】C。

77. A. 为了教育学生不去网吧，赵老师召开班会，并号召全体同学签署承诺书
 B. 小红连续两次背诵表现很差，钱老师重重地叹了口气，并责令她要把课文抄写三遍
 C. 孙老师发现小强上课玩游戏，便拽着他的耳朵去了走廊，全班同学都听到了拳打脚踢声
 D. 李老师检查作业时发现有几位同学没写作业，便挨个拨通了他们家长的电话

77. 【答案】B。

78. A. 甲在替单位采购时收受批发商的回扣
 B. 乙每天都迟到早退，还经常在办公室大声说话

- C. 丙由于不满意领导的工作调动，决定辞职
- D. 丁利用职务之便虚开了大量发票用于报销

78. 【答案】C。

79. A. 甲大一参加学校运动会时，由于训练不足未取得满意的成绩，之后又因为摔伤休养了半年，大二时比赛表现更差

B. 乙本科时学习懒散，不想上班的他因为准备不充分考研也未成功，在家人介绍的公司工作三个月后，由于不能完成任务且与同事关系恶劣被辞退了

C. 丙从小学开始就字迹潦草，为了准备资格考试，他认真练字半年，然而在考试中还是因为字迹被扣了好几分，未能通过考试

D. 丁从初中开始吸烟，备战高考时戒烟了一年，进入大学后，由于学习压力增大和室友的影响，他每天吸烟的次数更多了

79. 【答案】B。

80. A. 小钱大一暑假时去饭店兼职做服务员，后来发现家教挣钱更多，便不再做服务员了

B. 小李在奶茶店工作，依次接受了奶茶区、果茶区和备料区的培训，需要在各个区域轮岗

C. 小胡在某单位工作一年后，由于表现出色，领导将其提拔为一个新成立部门的主管，负责该部门的全部工作

D. 小杨博士毕业后就在某国际知名期刊发表了主要论文，很多高校都向他伸出了橄榄枝，有的还愿意破格聘用其为教授

80. 【答案】C。

四、逻辑判断。每道题给出一段陈述，这段陈述被假设是正确的，不容置疑的。要求你根据这段陈述，选择一个答案。注意：正确的答案应与所给的陈述相符合，不需要任何附加说明即可以从陈述中直接推出。

81. A. 电脑销量和平板销量同样出现下降

B. 用于出口的手机数量比去年增加了

C. 本年度手机技术并未有明显进步

D. 不少手机生产商开始进入汽车领域

81. 【答案】B。

82. A. 互联网中的信息对孩子们而言并非碎片，而是一个个充满好奇、值得探索的小世界

B. 在互联网时代，越来越多的书籍实现电子化，让每个人都能更方便快捷地接触知识

C. 从小学到大学，越来越多的学校顺应时代潮流开始探索“互联网+”教学新模式

D. 在社会营造全面读书的良好氛围，不仅需要成年人的参与，更需要培养好“娃娃军”

82. 【答案】A。

- 83. A. 脱盐后产生的浓缩结晶一般会送到垃圾处理厂填埋，也会对环境造成污染
- B. 在脱盐过程中，会产生大量有毒气体，这些气体同样需要进行妥善处理
- C. 如果能在浓盐水处理上取得关键性突破，说明我国环保技术已走在世界前列
- D. 工业污染包括废水、废气、废渣和噪音污染，浓盐水排放在废水中所占比例很小

83. 【答案】D。

- 84. A. 虹膜主要由结缔组织构成，内含色素、血管、平滑肌
- B. 生活在幽暗环境的人，眼睛的颜色会更黑
- C. 眼睛的颜色，由瞳孔扩张或收缩的形态决定
- D. 虹膜中肌肉受损时，瞳孔可能不能收缩

84. 【答案】D。

- 85. A. 任何一个现代人的阅读量，放在古代都非常客观
- B. 过去阅读纸质媒介的人没有现在接触网络信息的人多
- C. 古人的读书速度和对知识的吸收程度都高于今人
- D. 由于信息茧房，人与人之间的沟通并不比信息匮乏的时代更加顺畅和有效

85. 【答案】D。

第五部分 资料分析

所给出的图、表、文字或综合性资料均有若干个问题要你回答，你应根据资料提供的信息进行分析、比较、计算和判断处理。

一、根据以下资料，回答 86~90 题。

86. 2019 年，A 市全年……总值约为（ ）。

- A. 2492.4 亿元
- B. 2448.6 亿元
- C. 2409.9 亿元
- D. 2311.9 亿元

86. 【答案】C。

87. 2020 年……第二产业增加值为（ ）。

- A. 1162.4 亿元
- B. 1060.6 亿元
- C. 1113.4 亿元
- D. 1137.5 亿元

87. 【答案】C。

88. 2020 年……占第二产业增加值的比重为 ()。

- A. 76.1% B. 77.6% C. 79.1% D. 34%

88. 【答案】A。

89. 2021 年……三次产业结构为 ()。

- A. 9.5:34.6:53.9 B. 10.2:42.8:47.0
C. 10.2:34:55.8 D. 9.5:43.8:46.7

89. 【答案】D。

90. 2021 年末……登记失业的城镇人口约有 ()。

- A. 3.34 万 B. 3.32 万 C. 1.87 万 D. 1.63 万

90. 【答案】A。

二、根据以下资料，回答 91~95 题。

91. 若 2021 年……2019 年 B 市禽肉产量为 ()。

- A. 13.7 万吨 B. 15.4 万吨 C. 14.0 万吨 D. 13.3 万吨

91. 【答案】D。

92. 若 2020 年……2020 年所有养猪厂依靠生猪出栏获得的利润总和约为 ()。

- A. 4.7 亿元 B. 4.9 亿元 C. 5.1 亿元 D. 5.8 亿元

92. 【答案】A。

93. 根据材料……相比上年变动幅度超过 5%的有 ()。

- A. 3 种 B. 4 种 C. 5 种 D. 6 种

93. 【答案】C。

94. 若报废率为当年报废量……2021 年新投入使用的农用拖拉机数量最接近以下哪个值? ()

- A. 7300 台 B. 5700 台 C. 11400 台 D. 13000 台

94. 【答案】D。

95. 下列农产品……公顷产量最高的是 ()。

- A. 粮食 B. 蔬菜 C. 棉花 D. 油料

95. 【答案】B。

三、根据以下资料，回答 96~100 题。

96. 2021 年……利润变动绝对值最大的经济类型是 ()。

- A. 国有控股企业 B. 股份制企业 C. 外商及港澳台商投资企业 D. 私营企业

96. 【答案】B。

97. 2020 年……制造业的利润约是采矿业（ ）。

- A. 9 倍 B. 10 倍 C. 11 倍 D. 13 倍

97. 【答案】C。

98. 若 2019 年……两年平均增长约（ ）。

- A. 11.5% B. 12% C. 13% D. 13.5%

98. 【答案】C。

99. 若 2020 年……2021 年房地产增加值相比 2019 年（ ）。

- A. 增长了 1.1% B. 减少了 1.4% C. 增长了 1.7% D. 增长了 1.4%

99. 【答案】A。

100. 由材料可知……说法错误的是（ ）。

- A. 2020 年，全年规模以上工业企业营业总成本约为 1998 亿元
B. 2021 年，交通运输、仓储和邮政业增加值相比去年增长了约 156 亿元
C. 2020 年，金融业增加值约是信息传输、软件和信息技术服务业增加值的 3 倍
D. 2020 年，某旅游示范区旅游总收入占 A 省国内旅游收入的 51%

100. 【答案】D。